



الفترة الدراسية  
الاولى والثانية  
والثالثة

مفكرة  
الصف العاشر عشر  
مادة  
التاريخ  
أسئلة اختبارات وإجابات  
نموذجية

العام الدراسي  
٢٠١٤-٢٠١٥

اختبار الفترة الدراسية الأولى للعام الدراسي ٢٠١٣ / ٢٠١٤ م

مقرر التاريخ الإسلامي

لنصف الحادي عشر الأبي

\* أجب عن جميع أسئلة الاختبار بكل فروعها :

\* السؤال الأول : ويتكون من ( أ - ب - ج )

أ - أكمل العبارات التالية بما يناسبها :-

١ - يوم مشهور في دائرة الحروب التي كانت بين الأوس والخزرج قبل البعثة النبوية الشريفة بخمس سنوات  
يسمى .....

٢ - الراهب الذي تنبأ بنبوة الرسول ﷺ اسمه .....

٣ - جماعة يهودية أخرجها الرسول ﷺ بعد غزوة احد تسمى .....

٤ - صحابي أرسله الرسول ﷺ إلى النجاشي يدعو للإسلام اسمه .....

ب - صنف الأسماء التالية بوضع اسم الشخصية أمام العمل الذي قام به في الجدول التالي :-

( أم معبد الخزاعية - عبد المطلب بن هاشم - خديجة بنت خويلد - عبد الله بن جحش - مصعب بن عمير )

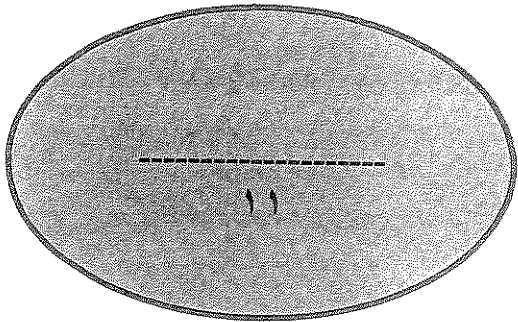
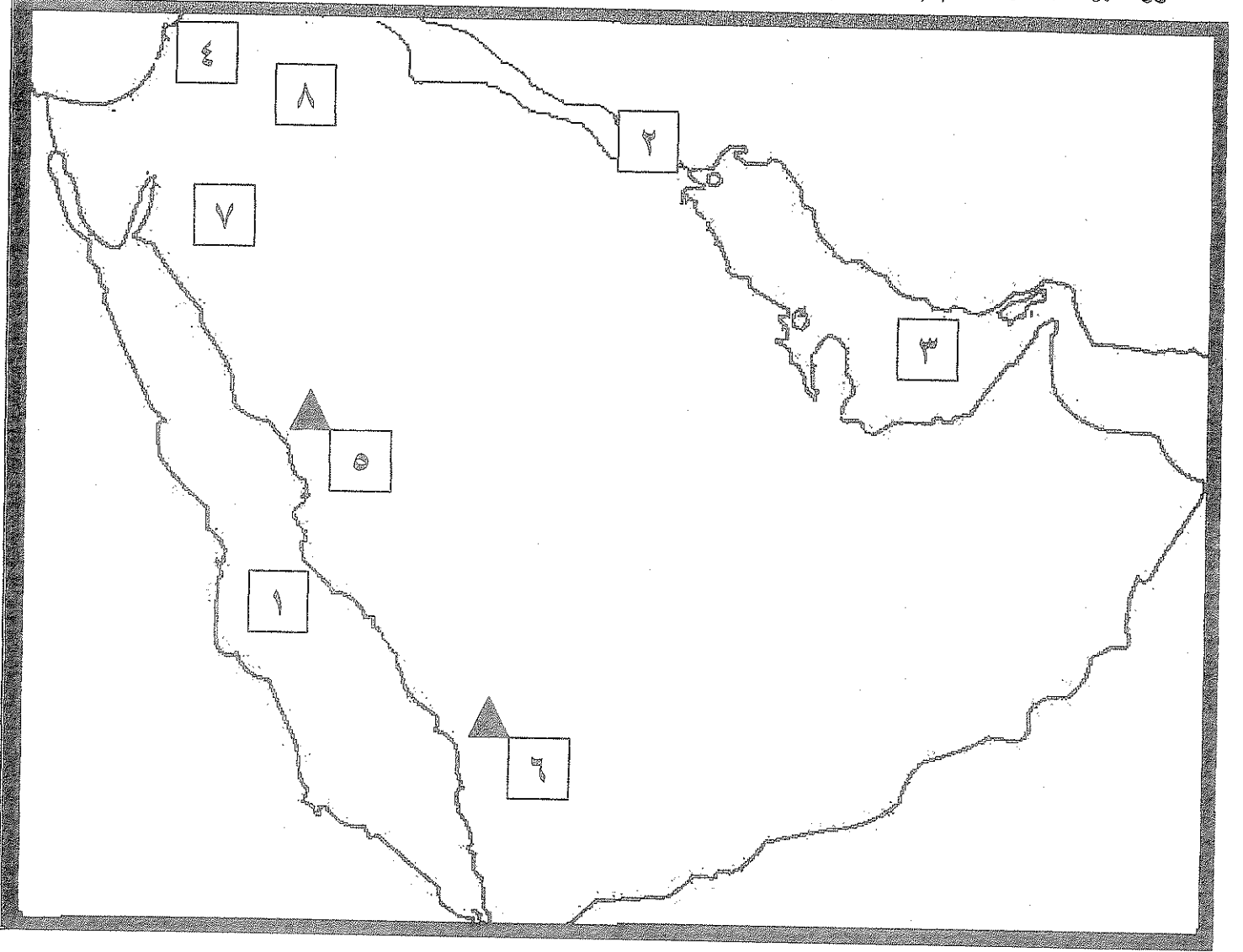
| الشخصية | العمل الذي قام به                             |
|---------|---|
| ١-      | أعاد حفر بئر زمزم                             |
| ٢-      | قاد سرية نخلة                                 |
| ٣-      | صحابي أرسله الرسول ﷺ يدعو أهل المدينة للإسلام |
| ٤-      | امرأة وصفت شكل الرسول ﷺ                       |

يتبع السؤال الأول

فقط ..... درجات

ج- لاحظ الخريطة التالية جيداً ثم استعن بها بالإجابة:

- ١- بحر القلزم يمثلته الرقم (.....)
- ٢- مملكة الحيرة يمثلها الرقم (.....)
- ٣- مدينة ذهب لها الرسول ﷺ مع عمه أبو طالب للتجارة يمثلها الرقم (.....)
- ٤- غزوة حارب بها المسلمون الفساسنة يمثلها الرقم (.....)
- ٥- سلاسل جبال عسير يمثلها الرقم (.....)
- ٦- غزوة تبوك يمثلها الرقم (.....)



\*السؤال الثاني : ويتكون من ( أ - ب - ج )

أ- اجب عن الأسئلة التالية :-

١ - اذكر وجه الشبه والاختلاف بين طبقة الصرحاء وطبقة الموالي .

| وجه الاختلاف | وجه الشبه |
|--------------|-----------|
|              |           |

٢ - عدد أساليب قريش لمقاومة الدعوة الإسلامية .

- أ- .....
- ب- .....

ب- دلي على صحة العبارة التالية : " نجح الرسول ﷺ في قيادة الأمة الإسلامية " .

- أ- .....
- ب- .....

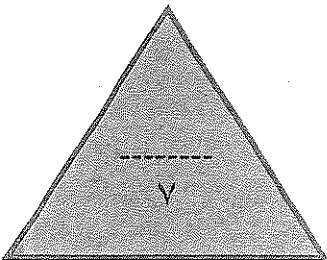
ج- علل لما يأتي :-

١ - قدرة شبه الجزيرة العربية على تقبل الإسلام .

- أ- .....
- ب- .....

٢ - اتفاق قريش و القبائل الموالية لها على اغتيال الرسول ﷺ .

- أ- .....
- ب- .....



فقط ..... درجات

\*السؤال الثالث : ويتكون من ( أ - ب - ج )

أ- فسر العبارات التالية :-

١- وضع الرسول ﷺ الصحيفة في المدينة .

٢- ارتبطت الحياة الفكرية عند العرب بالنظام القبلي .

ب) ماذا كان من الممكن أن يحدث لو لم :-

١- تعدي قبيلة بكر على قبيلة خزاعة .

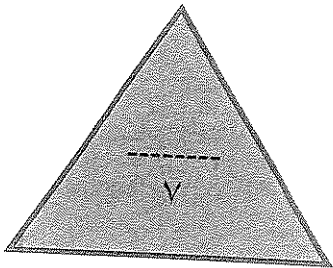
٢- يخالف الرماة أوامر الرسول ﷺ في غزوة أحد.

ج- عرف المصطلحات التالية :-

١- العرب الفارسية : .....

٢- السرية : .....

٣- حرب الفجار : .....



فقط ..... درجات

\* السؤال الرابع ويتكون من ( أ ، ب )

أ- قارن بين غزوة بدر ، وغزوة مؤتة في الجدول التالي .

| وجه المقارنة | غزوة بدر | غزوة مؤتة |
|--------------|----------|-----------|
| السنة        |          |           |
| النتائج      | أ- ..... | أ- .....  |
|              | ب- ..... | ب- .....  |
|              | .....    | .....     |

ب- اقرأ الفقرة التي أمامك ثم أجب عن الأسئلة التالية :-

- في العام السادس من الهجرة خرج الرسول ﷺ من المدينة متوجها إلى مكة المكرمة لأداء العمرة وخرج معه المهاجرون والأنصار، ولكن قريش اعترضت سبيلهم فلم يؤدي المسلمون العمرة وعقد الرسول ﷺ مع قريش صلح الحديبية.

١- اذكر أسباب بيعة الشجرة " الرضوان " .

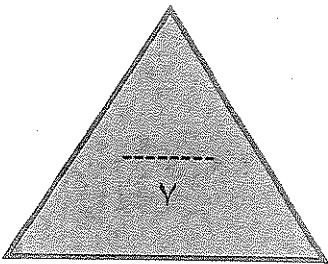
.....

٢- عقد الرسول ﷺ صلح الحديبية مع ممثل قريش واسمه .....

٣- عدد بنود صلح الحديبية .

أ- .....

ب- .....



انتهت الأسفلت مع النميات لكم النوفيق والنجاح

فقط ..... درجات



أجب عن جميع الأسئلة التالية :

السؤال الأول ( موضوعي ) يتكون من ( أ ، ب ، ج ، د )

أ - أكمل العبارات التالية بما يناسبها :

١. الرجل الذي بشر الرسول صلى الله عليه وسلم بالنبوة يسمى .....
٢. ملك الفرس الذي مزق كتاب الرسول له فمزق الله حكمه يسمى .....
٣. الحرب التي شهدتها الرسول - صلى الله عليه وسلم - قبل البعثة تسمى .....
٤. العام الهجري الذي فتح فيه الرسول - صلى الله عليه وسلم - مكة ..... هـ
٥. القبيلة التي أخرجها الرسول - صلى الله عليه وسلم - بعد غزوة بدر ٢ هـ تسمى .....

ب : صحح ما تحته خط في العبارات التالية :

١. مجموعة الناس التي تربطهم رابطة القرابة والنسب والدم تسمى العرب المستعربة . ( )
٢. الجمع بين الأختين وزواج الابن من زوجة أبيه يسمى الخلع . ( )
٣. جد الرسول - صلى الله عليه وسلم - الذي وحد قريش وأسس دار الندوة يسمى عبد مناف . ( )
٤. عام ٦١٩ م الذي تعرض له الرسول - صلى الله عليه وسلم - لمحن وشدائد يسمى عام الفيل . ( )
٥. الغار الذي نزل فيه جبريل الوحي علي الرسول - صلى الله عليه وسلم - يسمى غار ثور . ( )

ج- صنف الأسباب والنتائج التالية حسب الجدول التالي :

الأسباب: تصفية تجمعات اليهود في الجزيرة العربية - عدوان الغساسنة علي المسلمين وقتلهم رسول النبي

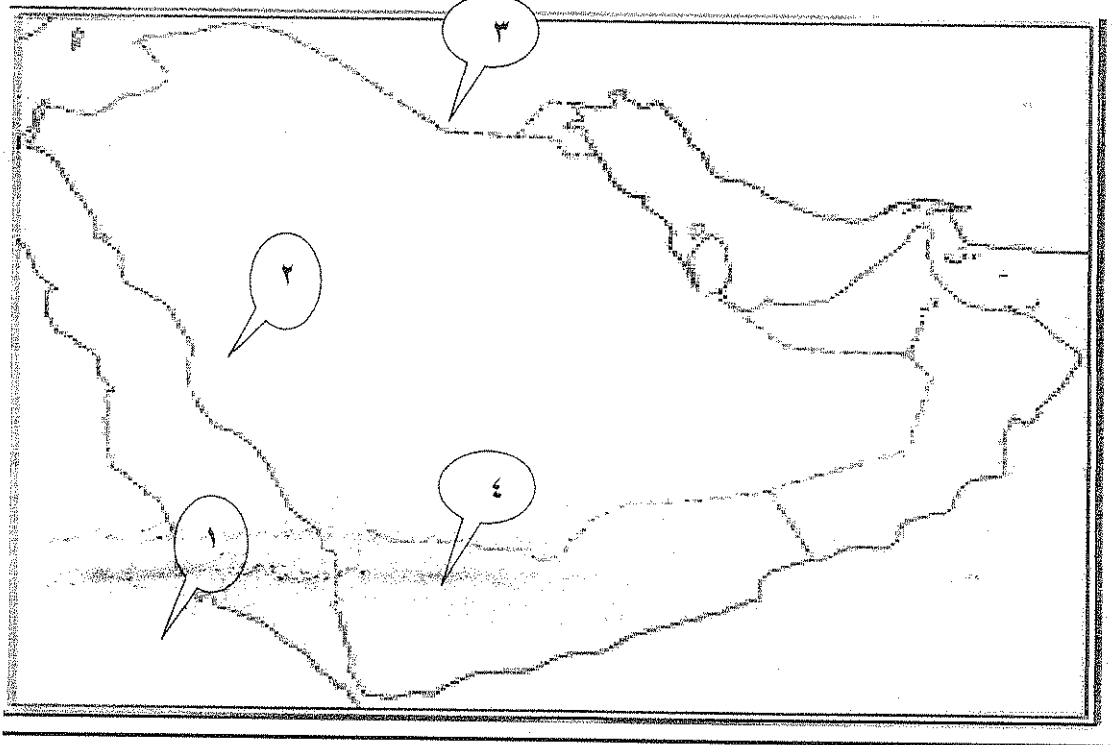
النتائج: إنهاء قوة اليهود في شبه الجزيرة العربية - استشهاد قادة المسلمين ورجوع الجيش بقيادة خالد بن

الوليد .

| غزوة مؤتة | غزوة خيبر |         |
|-----------|-----------|---------|
|           |           | الأسباب |
|           |           | النتائج |

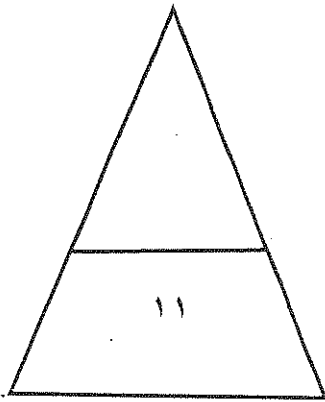
تابع / امتحان التاريخ الإسلامي / الفترة الدراسية الأولى / العام الدراسي ٢٠١٣ / ٢٠١٤ م  
تابع السؤال الأول ( موضوعي ) :-

د- لاحظ الخريطة التي أمامك ثم نفذ المطلوب منك :



أولاً: اكتب مدلولات الأرقام التالية :

- منطقة هاجر إليها المسلمون هجرتهم الأولى يمثلها الرقم ( )
- المعركة الأولى التي قادها الرسول الكريم يمثلها الرقم ( )
- منطقة انتشرت فيها الديانة المسيحية يمثلها الرقم ( )
- منطقة سكنها قوم عاد يمثلها الرقم ( )





تابع / امتحان التاريخ الإسلامى / الفترة الدراسية الأولى / العام الدراسى ٢٠١٣ / ٢٠١٤ م  
السؤال الثانى : ( مقالى ) يتكون من ( أ ، ب ، ج )

أ. نفذ المطلوب منك بين الأقواس :

( البنود )

١. صلح الحديبية .

( المهام )

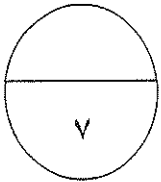
٢. السرايا .

ب- قارن حسب الجدول التالى :

| بيعة العقبة الثانية | بيعة العقبة الأولى | المعيار       |
|---------------------|--------------------|---------------|
|                     |                    | العام         |
|                     |                    | بنود المبايعة |

ج. دلل على صحة العبارات التالية :

١- تميزت شبة الجزيرة العربية بأنها بيئة قادرة على تقبل رسالة الإسلام .



تابع / امتحان التاريخ الإسلامي / الفترة الدراسية الأولى / العام الدراسي ٢٠١٣/٢٠١٤ م  
السؤال الثالث : ( مقال ) يتكون من ( أ ، ب ، ج )

أ. علل ما يلي :

١. معارضة قريش للدعوة الإسلامية .

٢. هزيمة المسلمين في غزوة أحد .

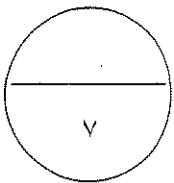
ب. قارن بين كل مما يلي حسب الجدول التالي :

| المشركين | المسلمين | غزوة بدر |
|----------|----------|----------|
|          |          | القائد   |
|          |          | الأسباب  |

ج. عرف ما يلي :

١. حلف الفضول .

٢. طبقة الموالي .



تابع / امتحان التاريخ الإسلامى / الفترة الدراسية الأولى / العام الدراسى ٢٠١٣ / ٢٠١٤ م  
السؤال الرابع : ( مقالى ) يتكون من ( أ ، ب ، ج )

أ. اكتب فقرة فى حدود أربعة أسطر مستعينا بالكلمات التالية .

" سرية نخلة - الدولة الإسلامية - الشهر الحرام - قوافل تجارية "

-----  
-----  
-----

ب. نفذ المطلوب منك بين الأقواس :

١. الصحيفة التي أقرها الرسول في المدينة المنورة. ( البنود )

-----  
-----

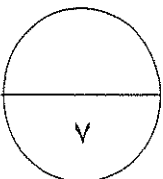
٢. مقاومة قريش للدعوة الإسلامية . ( الأساليب )

-----  
-----

ج- دلل على صدق العبارة التالية :

ضرب الأنصار أروع الأمثلة في الإيثار لإخوانهم المهاجرين في المدينة المنورة .

-----  
-----



السؤال الخامس : ( مقالى ) يتكون من ( أ ، ب ، ج )

أ. أقرأ الآية الكريمة ثم أجب عما يليها :

" بسم الله الرحمن الرحيم : لقد رضي الله عن المؤمنين إذ يبايعونك تحت الشجرة فعلم ما في قلوبهم فأنزل السكينة عليهم وأثابهم فتحا قريبا " صدق الله العظيم سورة الفتح  
١. ما أسم البيعة التي أشارت لها الآية الكريمة ؟

٢. من هو الصحابي الذي أرسله الرسول لمفاوضة قريش ؟

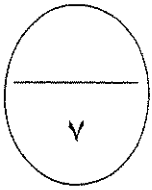
٣- اكتب الظروف التي أدت إلى تلك البيعة .

ب. علل لما يلي :

١. أرادت حكمة الله أن ينشأ الرسول يتيما .

ج. دلل على صحة العبارة التالية :

١. يعتبر صلح الحديبية نصرا عظيما للرسول ودعوته .



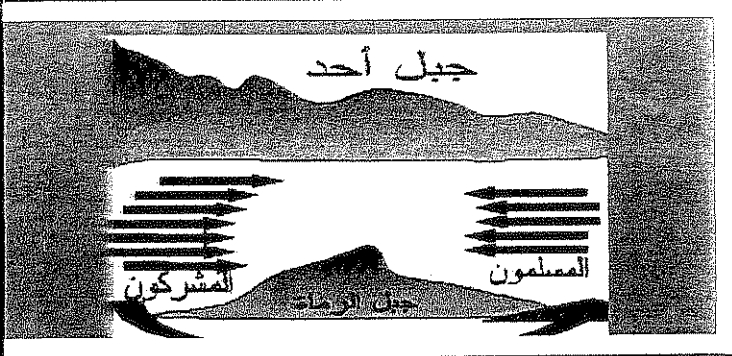
انتهت الأسئلة ،،،

أجب عن جميع الأسئلة التالية  
السؤال الأول : ويتكون من أولاً وثانياً وثالثاً ورابعاً وخامساً :  
أولاً : اختر البديل المناسب من بين البدائل التالية لكل عبارة مما يأتي :

١- قائد المشركين في الغزوة التي تشير إليها

الصورة المقابلة هو :-

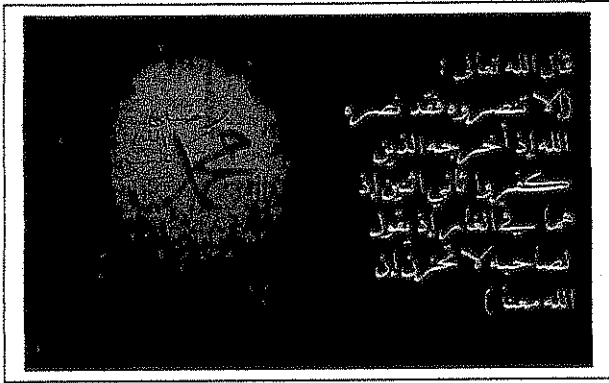
- سهيل بن عمرو .
- الوليد بن المغيرة
- أبو سفيان بن حرب
- أمية بن خلف



٢- الآية الكريمة المشار إليها في الصورة  
المقابلة

تمثل حدثاً هاماً في تاريخ الإسلام هو:

- البعثة النبوية
- الهجرة الشريفة
- حلف الفضول
- صلح الحديبية



٣- أشهر القبائل العربية التي سكنت الطائف قبل الإسلام في المربع المقابل تحمل الرقم


| الرقم | القبيلة |
|-------|---------|
| ١     | بكر     |
| ٢     | هوازن   |
| ٣     | تميم    |
| ٤     | ثقف     |

- أ- ( ٢ ، ١ )
- ب- ( ٣ ، ١ )
- ج- ( ٤ ، ٢ )
- د- ( ٤ ، ٣ )

٤- الصورة المقابلة تشير إلى

أحد حضارات العرب القديمة هي :

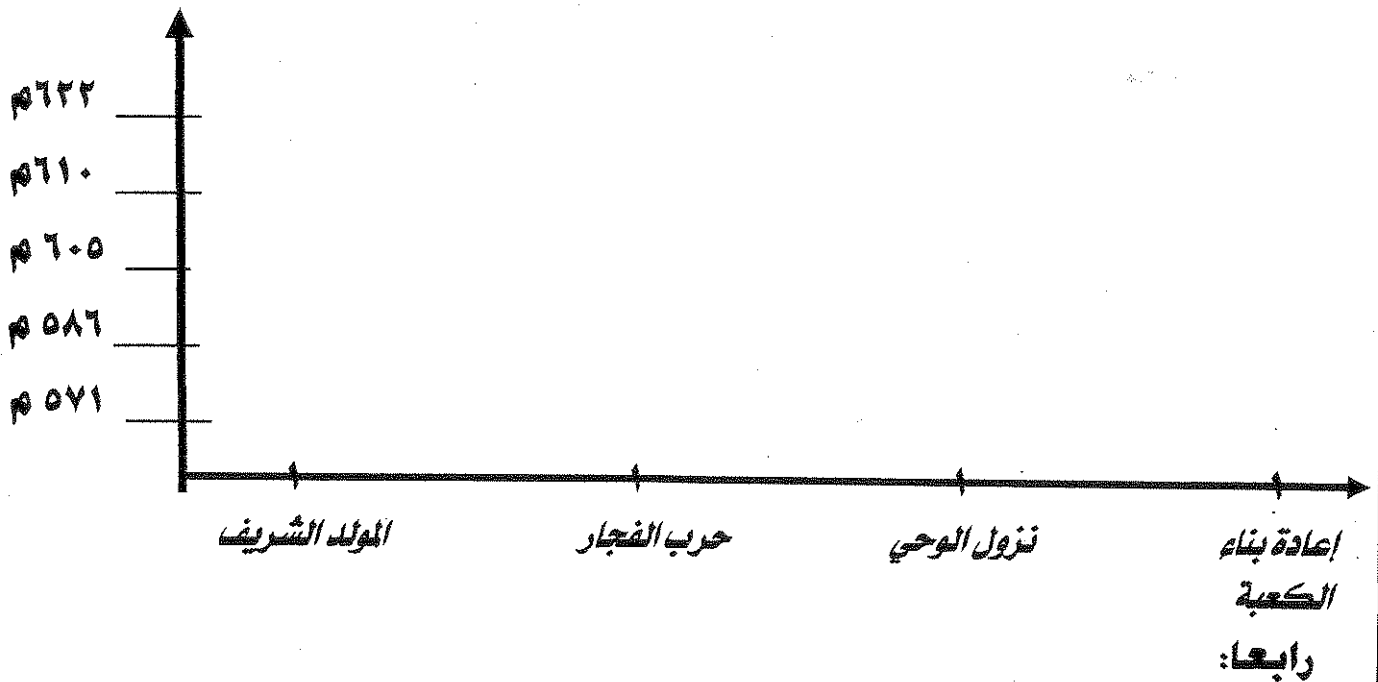
- معين
- سبأ
- حمير
- مدين



## ثانياً: اكتب المدلول المناسب لكل مما يأتي :

- ١- ( ..... ) هو بيان أصدره النبي ﷺ لأنذار المشركين في موسم الحج .
- ٢- ( ..... ) اصطلاح أطلق على الأقبام التي عاشت ثم انقرضت مثل (عاد وثمود)
- ٣- ( ..... ) صفة أطلقها القرآن الكريم على الوثنيين من العرب قبل الإسلام..
- ٤- ( ..... ) ( ..... ) عرب انضموا الي القبيلة عن طريق الحلف او الجوار والعتق لهم حقوق الصرحاء عدا حق الرئاسة "

## ثالثاً : من خلال الرسم البياني صل العمود الأفقي بما يناسب من العمود الرأسي



## أكمل الفراغات المطلوبة في الشكل التالي بذكر القائل والمناسبة :

|  |  |
|--|--|
| <p style="text-align: center;">ارجع به الي بلده و احذر<br/>عليه من اليهود فانه<br/>سيكون له شأن عظيم</p> <p style="text-align: center;">القائل</p> <p style="text-align: center;">المناسبة</p> <p>.....</p> <p>.....</p> | <p style="text-align: center;">لقد امانا بك وصدقناك<br/>فو الذي بعثك بالحق نو<br/>استعرضت بنا هذا البحر<br/>فخضته لخضناه معك</p> <p style="text-align: center;">القائل</p> <p style="text-align: center;">المناسبة</p> <p>.....</p> <p>.....</p> |
|--|--|

خامسا : لاحظ خريطة شبه الجزيرة العربية الصماء التي أمامك ثم نفذ ما هو مطلوب :

أ - اكتب الرقم المناسب لكل عبارة مما يلي في الدائرة المناسبة على الخريطة التي أمامك :-

١ آخر غزوات الرسول ﷺ

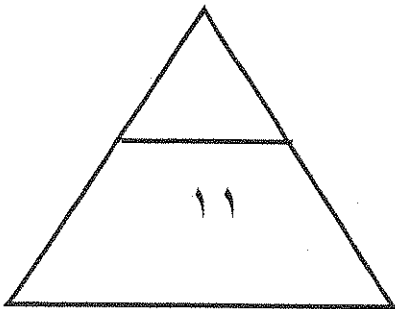
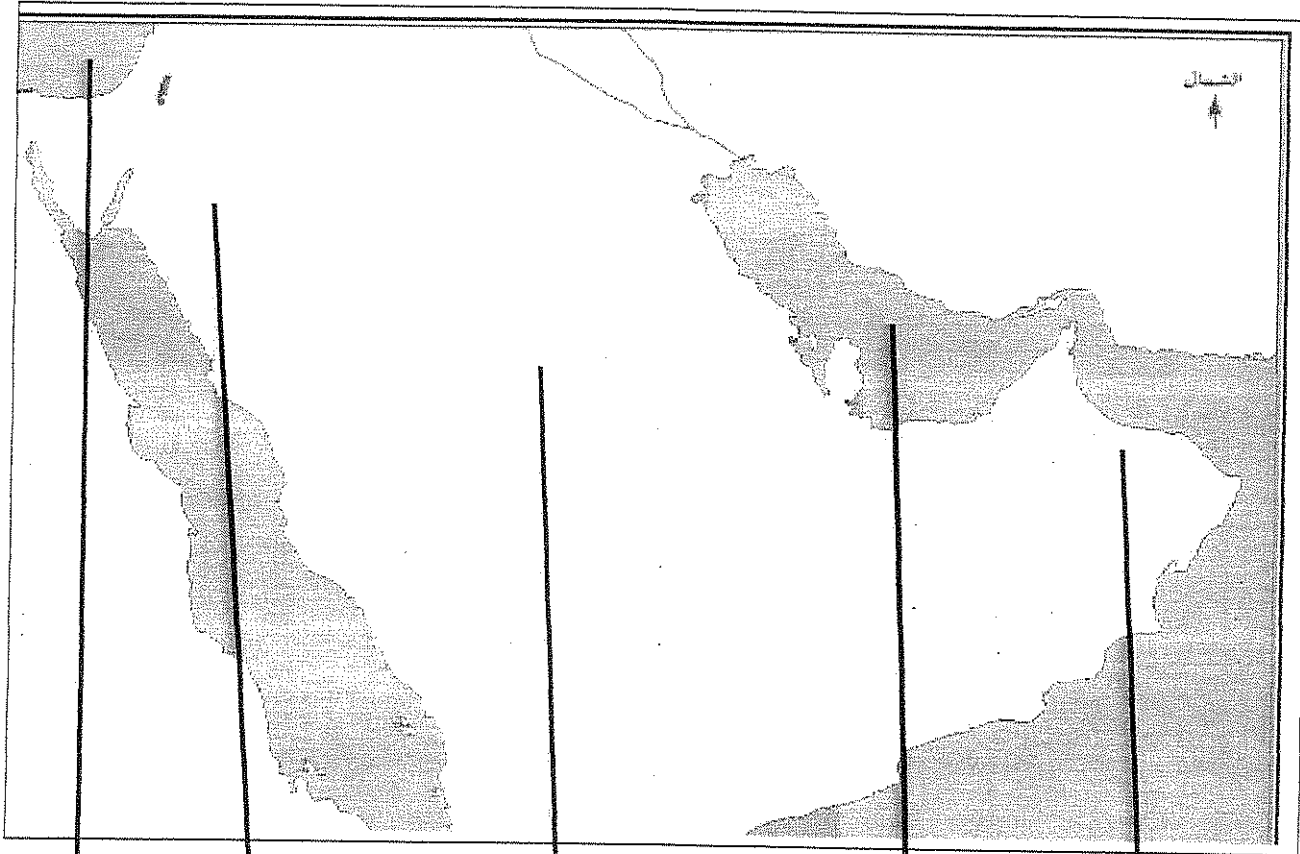
٢ موطن حضارة مجان

٣ هضبة نجد

٤ الخليج العربي

ب) ظلل بحر القلزم

ج - ضع علامة \*\*\* على أول أرض هاجر إليها المسلمون



## السؤال الثاني ( ) يتكون من ( أولاً ، ثانياً وثالثاً )

( أولاً ) (( مهما تجرأ الحاقدون سوف يظل النبي المختار محمد ﷺ هو الرحمة المهداة للبشرية كلها ، والسيرة النبوية العطرة تشهد بالكثير من المواقف الإنسانية. ولنا في صلح الحديبية الكثير من العبر والعظات . فقد روى الإمام أحمد أن النبي - صلى الله عليه وسلم - بعد بيعة الشجرة بدأ يملئ شروط الصلح، وعلي بن أبي طالب - رضي الله عنه - يكتب، فأمله النبي - ﷺ - : (بسم الله الرحمن الرحيم، فقال سهيل : أما الرحمن فوالله لا ندري ما هو ولكن اكتب باسمك اللهم، فأمر رسول الله ﷺ - علياً فكتبها كذلك، ثم أملى - صلى الله عليه وسلم - : هذا ما صالح عليه محمد رسول الله، فقال سهيل : لو نعلم أنك رسول الله ما صددناك عن البيت، ولا قاتلناك، ولكن اكتب محمد بن عبد الله، فوافق رسول الله - صلى الله عليه وسلم - وقال: والله ، اني لرسول الله وان كذبتُموني، اكتب محمد بن عبد الله. وبينما هم كذلك اذ دخل عليهم أبو جندل بن سهيل بن عمرو في قيوده وألقى بنفسه بين المسلمين، فقال سهيل : هذا يا محمد أول من أقاضيك عليه أن ترده الي، فأعاده النبي - ﷺ - للمشركين، فقال أبو جندل : يا معشر المسلمين أزد إلى المشركين يفتنونني في ديني، فقال له النبي - ﷺ - : (انا عقدنا بيننا وبين القوم عهدا، وانا لا نغدر بهم))، ثم طمأنه النبي - صلى الله عليه وسلم - قائلا: (يا أبا جندل اصبر واحتسب، فإن الله جاعل لك ولئن معك فرجا ومخرجا)

من خلال الفقرة السابقة أجب عما يأتي :

١- اقترح عنوانا للنص .....

٢- علل رفض النبي - ﷺ - وجود أبو جندل بين صفوف المسلمين

٣- اكتب بنود صلح الحديبية

(أ)

(ب)

٤- علل أهمية صلح الحديبية

(أ)

(ب)

(٥) عرف ما تحته خط :

## ( ثانياً ) دلل على صدق العبارات التالية

١) كانت شبه الجزيرة العربية بيئة قادرة لتقبل رسالة الاسلام؟

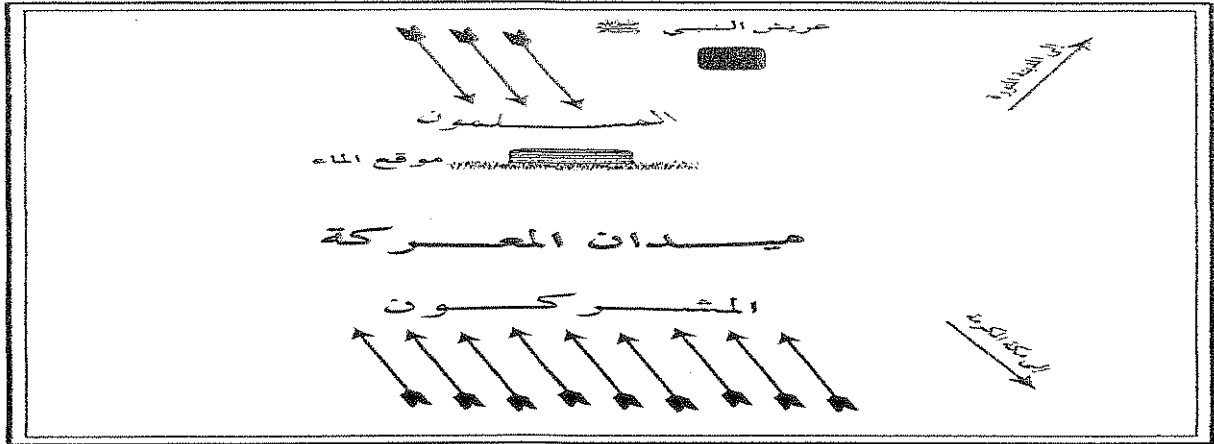
أ

ب

٢) تبوات المرأة في النظام الملكي قبل الاسلام مكانة مرتفعة



( أولاً ) " انظر جيداً إلى الصورة المقابلة ثم اجب عن الاسئلة التالية



( \_\_\_\_\_ )

١- ما اسم الغزوة المشار إليها في الشكل ؟

٢- ما الفرق

بين :

| أسباب الغزوة بالنسبة للمسلمين | أسباب الغزوة بالنسبة للمشركين |
|-------------------------------|-------------------------------|
| ١- .....                      | ١- .....                      |
| ٢- .....                      | ٢- .....                      |

( ثانياً ) فند

العبارات التالية :

١- ( ادعاء المستشرقين بأن شخصية الرسول صلى الله عليه وآله وسلم لم تكن صالحة لقيادة الأمة الإسلامية )

٢) كانت الأسواق في شبه الجزيرة العربية قبل الإسلام للتجارة فقط

ثالثاً) اكتب مذكرة تاريخية عن :

أهم بنود الصحيفة التي وضعها النبي صلى الله عليه وآله وسلم في المدينة المنورة :

١

٢

٣

٤

السؤال الرابع يتكون من (أولاً ، ثانياً ، ثالثاً و رابعاً )

أولاً) ينقسم العرب الباقية الى قسمين رئيسيين في ضوء ذلك

ما الفرق بين

| العرب المستعربة | العرب العاربة |
|-----------------|---------------|
| .....           | .....         |
| .....           | .....         |
| .....           | .....         |

ثانياً) اكتب فيما يلي

أ) أهم مهام السرايا

- ١- .....
- ٢- .....

ب) نتائج رحلتي الشتاء و الصيف على مكانة قريش

- ١- .....
- ٢- .....

ثالثاً) (تنوعت أسباب معارضة قريش للدعوة الإسلامية واتبعت كثير من الأساليب لمواجهةها بكل حزم)

في ضوء هذه العبارة قارن بين :

| أسباب معارضة قريش للدعوة الإسلامية | أساليب معارضة قريش للدعوة الإسلامية |
|------------------------------------|-------------------------------------|
| ١- .....                           | ١- .....                            |
| ٢- .....                           | ٢- .....                            |

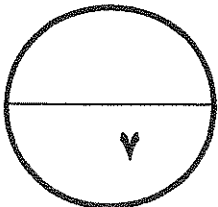
رابعاً: برهن على صحة العبارة التالية :

(ضرب الأنصار أروع الأمثلة في التضحية والإيثار في تنشئة الدولة الإسلامية)

.....

.....

.....



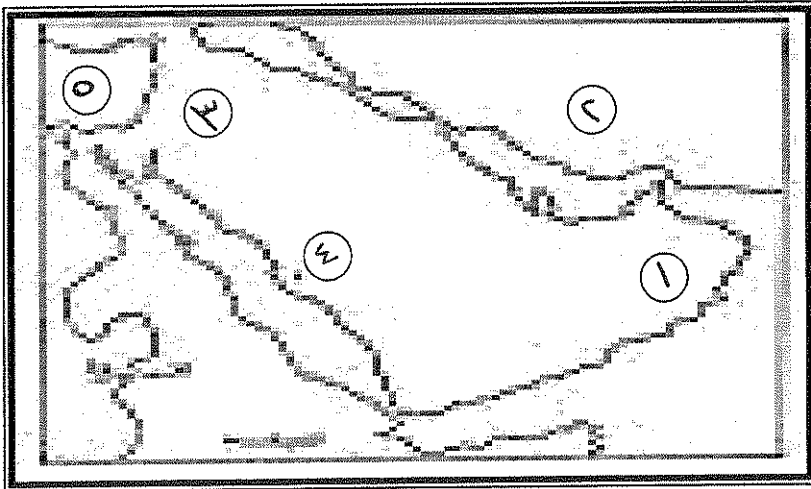
مع أطيب التمنيات لكم بالنجاح والتوفيق .....

**السؤال الأول : ويتكون من ( أ-ب-ج )**  
**( أ ) أكمل العبارات التالية بما يناسبها :-**

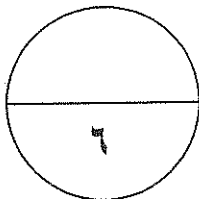
- ١- آخر غزوات النبي صلى الله عليه وسلم عام ٩ هجري تسمى .....
  - ٢- مرضعة الرسول صلى الله عليه وسلم تسمى .....
  - ٣- صاحب فكرة حفر الخندق صحابي يسمى .....
  - ٤- أول عمل قام به النبي صلى الله عليه وسلم بعد هجرته الى يثرب بناء .....
- ( ب ) اختر البديل المناسب من البدائل التالي تلى كل عبارة مما يلي :-**

- ١- أنجب النبي صلى الله عليه وسلم جميع أبنائه من السيدة خديجة ما عدا :  
أ- إبراهيم      ب- القاسم      ج- عبدالله      د- فاطمة
- ٢- قبيلتين عربيتين سكنوا مدينة الطائف :  
أ- خزاعة وبكر      ب- قريش وأسد      ج- الأوس والخزرج      د- هوازن وثقيف
- ٣- آخر الحروب بين قبيلتي الأوس والخزرج قبل الإسلام :  
أ- الفجار      ب- بعث      ج- الخندق      د- أحد
- ٤- الملك الذي مزق كتاب النبي صلى الله عليه وسلم :  
أ- النجاشي ملك الحبشة      ب- المقوقس حاكم مصر      ج- كسرى ملك الفرس      د- هرقل ملك الروم

**( ج ) ادرس خريطة شبه الجزيرة العربية التي أمامك ثم اجب عما يليها :-**



- ١- جبال الحجاز تحمل الرقم (.....)
- ٢- بلاد فارس تحمل الرقم (.....)
- ٣- بحر الروم يحمل الرقم (.....)
- ٤- غزوة مؤتة تحمل الرقم (.....)



## السؤال الثانى : يتكون من (أ- ب)

(أ) اكتب المفهوم التاريخي الذى تدل عليه العبارات التالية :

١- ( ..... ) ادنى طبقات المجتمع عليهم كل الواجبات وليس لهم حقوق القبيلة

٢- ( ..... ) حرب شارك فيها النبي صلى الله عليه وسلم وعمره ١٥ عاما

٣- ( ..... ) المكان الذى عقدت فيه قريش مجلسا للتفكير فى القضاء على النبي صلى الله عليه وسلم ودعوته

٤- ( ..... ) قصائد مميزة ومفضلة عند العرب علقت على جدران الكعبة

(ب) علل تاريخيا لما يلى :-

١- نزول القرآن باللغة العربية

..... -

..... -

٢- اختيار النبي صلى الله عليه وسلم الحبشة لهجرة أصحابه

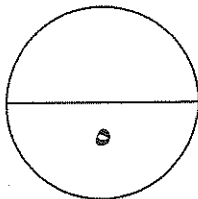
..... -

..... -

٣- يعرف العام العاشر للبعثة النبوية بعام الحزن

..... -

..... -



## السؤال الثالث : ويتكون من (أ- ب)

(أ) فرق بين الطبقتين التاليتين من حيث التعريف والحقوق والواجبات :-

| طبقة الموالى | طبقة العرب الصرحاء |
|--------------|--------------------|
| .....        | .....              |
| .....        | .....              |

(ب) ١- تميزت شبة الجزيرة العربية بمميزات هيأتها لتكون بيئة قادرة على تقبل رسالة الإسلام أذكرها ؟

.....  
.....

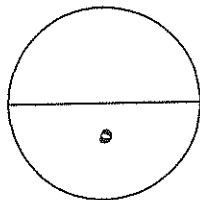
٢- ما تفسيرك للأحداث التاريخية التالية :-

١- إرسال النبي صلى الله عليه وسلم للصحابي مصعب بن عمير الى يثرب بعد بيعة العقبة الأولى

.....  
.....

٢- غزوة خيبر عام ٧ هجرية

.....



الصف الحادي عشر أدبي

اختبار الفترة الدراسية الأولى

وزارة التربية

عدد الأوراق ( ٥ )

التاريخ الإسلامي

منطقة الفروانية التعليمية

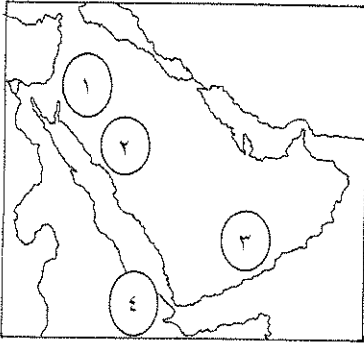
العام الدراسي ٢٠١٠ - ٢٠١١ م

التوجيه الفني للإجتماعيات

**ملاحظة : جميع الأسئلة الموضوعية و المقالية اجبارية**

**السؤال الأول ( موضوعي ) و يتكون من ( أ - ب - ج ) :**

( أ ) اختر البديل المناسب من بين البدائل التي تلي كل عبارة : ( ٤ درجات )



١- سكن قوم عاد على الخريطة يمثله الرقم :

(أ) ١ (ب) ٢

(ج) ٣ (د) ٤

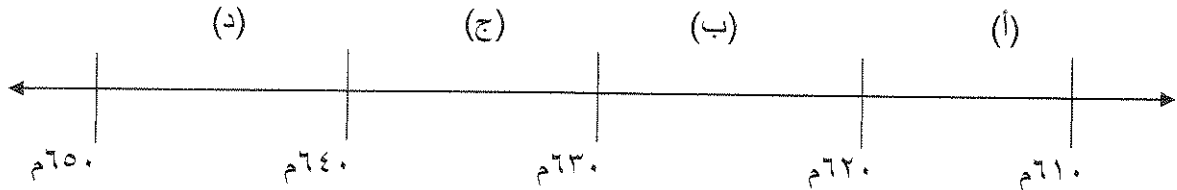
٢- الصحابي الذي أرسله الرسول ﷺ بعد بيعة العقبة الأولى الى يثرب ليعلم الناس دينهم هو :

(أ) بلال الحبشي (ب) العباس بن عبدالمطلب (ج) ابو بكر الصديق (د) مصعب بن عمير

٣- الترتيب الصحيح زمنيا من الأقدم الى الأحدث لحياة الرسول ﷺ قبل البعثة يمثله الحرف :

| (د)  | (ج)  | (ب)  | (أ)  |
|--|--|--|--|
| ١- نزول الوحي<br>٢- حرب الفجار<br>٣- زواجة من السيدة خديجة | ١- حرب الفجار<br>٢- زواجة من السيدة خديجة<br>٣- نزول الوحي | ١- زواجة من السيدة خديجة<br>٢- نزول الوحي<br>٣- حرب الفجار | ١- حرب الفجار<br>٢- نزول الوحي<br>٣- زواجة من السيدة خديجة |

٤- الفترة الزمنية التي تمثل مرض و وفاة الرسول ﷺ يمثله على المخطط الزمني الحرف :

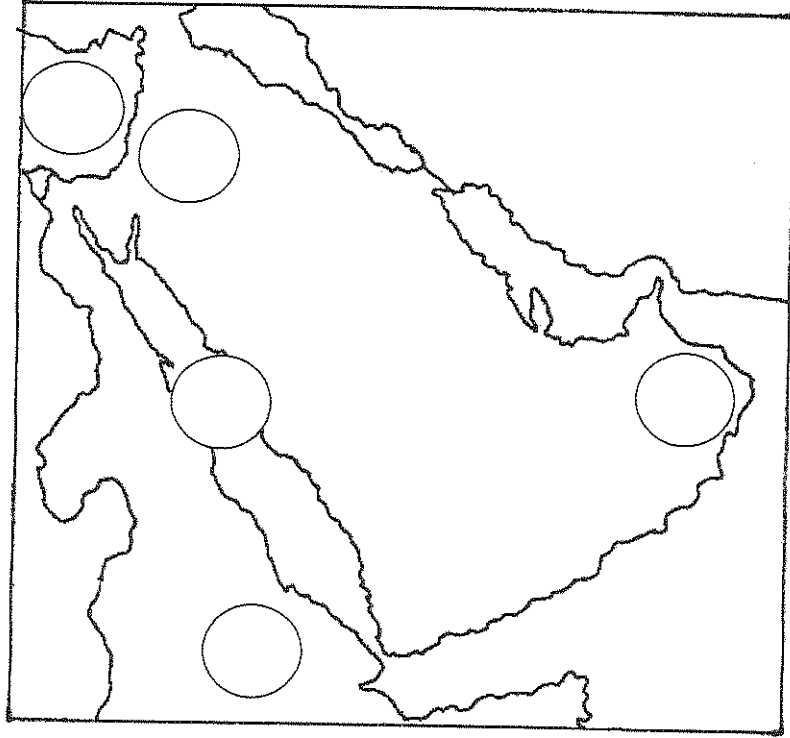


( ب ) صنف الأعمال التالية لأصحابها كما هو موضح بالجدول : ( ٤ درجات )

نام في فراش الرسول ﷺ - قائد سرية نخلة - وحد قريش و أسس دار الندوة  
- أول من سن رحلتي الشتاء والصيف

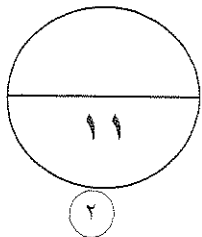
| علي بن ابي طالب | عبدالله بن جحش | قصي بن كلاب | هاشم بن عبد مناف |
|-----------------|----------------|-------------|------------------|
|                 |                |             |                  |

( ج ) أمامك خريطة لشبه الجزيرة العربية دون ارقام العبارات التي تليها في مكانها المناسب في الدوائر :



( ٣ درجات )

- (١) المنطقة التي اتجه اليها المسلمون في هجرتهم الاولى .
- (٢) المنطقة التي التقى بها الرسول ﷺ وعمه بالراهب بحيرا .
- (٣) بحر القلزم .



السؤال الثاني : و يتكون من ( أ - ب - ج - د ) :

( أ ) برهن تاريخيا على صحة العبارات التالية : ( ٣ درجات )

(١) تميزت شبه الجزيرة العربية بمميزات هيأتها لتكون بيئة قادرة على تقبل الإسلام . ( يكتفى بنقطتين )

..... -  
..... -

( ٢ ) حقوق المسلمون مكاسب عديدة من صلح الحديبية . ( يكتفى بنقطة )

..... -

( ب ) فرق بين طبقة الصرحاء و طبقة الموالي . ( ٢ درجة )

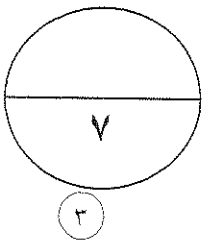
| طبقة الصرحاء | طبقة الموالي |
|--------------|--------------|
|              |              |

( ج ) عرف المفهوم التالي : ( ١ درجة )

القبيلة : .....

( د ) ما أوجه الشبه بين : موقف يهود بني قينقاع و يهود بني النضير من المسلمين في المدينة المنورة . ( ١ درجة )

.....  
.....





السؤال الثالث : و يتكون من ( أ - ب - ج )

( أ ) فند تاريخياً العبارة التالية : ( ٢ درجة )

( ١ ) تقبلت قريش الدعوة الإسلامية و لم تقاومها . ( يكتفى بنقطتين )

.....  
.....

( ب ) أقرأ النص التالي ثم أجب عن الأسئلة : ( ٢ درجة )

(( عمل الرسول ﷺ على تنظيم شؤون الدولة الداخلية في المدينة المنورة حتى تستقر أحوالها و تحقق هدفها في نشر دعوة الإسلام فبين حدود الدولة و أرسل السرايا إلى مختلف الأماكن لنشر الإسلام .... ))

- عرف ما تحته خط :  
- اذكر مهمة واحدة من مهام السرية :

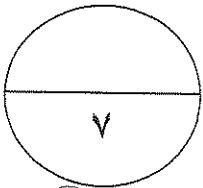
( ج ) ما النتائج المترتبة على الأحداث التالية : ( ٣ درجات )

( ١ ) غزوة بدر . ( يكتفى بنقطتين )

.....  
.....

( ٢ ) غزوة خيبر .

.....



السؤال الرابع : و يتكون من ( أ - ب - ج - د ) :

( ٢ درجة )

( أ ) علل لما يلي :

(١) عارضت قريش الدعوة الإسلامية . ( يكتفى بنقطتين )

.....  
.....

( ب ) ماذا يحدث لو : إلترم الرمة بأماكنهم في غزوة أحد . ( يكتفى بنقطة ) ( ١ درجة )

.....

( ٢ درجة )

( ج ) قارن بين كل من :

| وجه المقارنة             | النظام الملكي | النظام القبلي |
|--------------------------|---------------|---------------|
| مكانة المرأة قبل الإسلام |               |               |

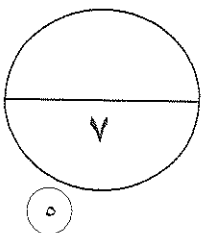
( ٢ درجة )

( د ) ما أوجه الاختلاف بين ما يلي :

- أسباب غزوة بدر بالنسبة للمسلمين و قريش .

المسلمين : .....

قريش : .....



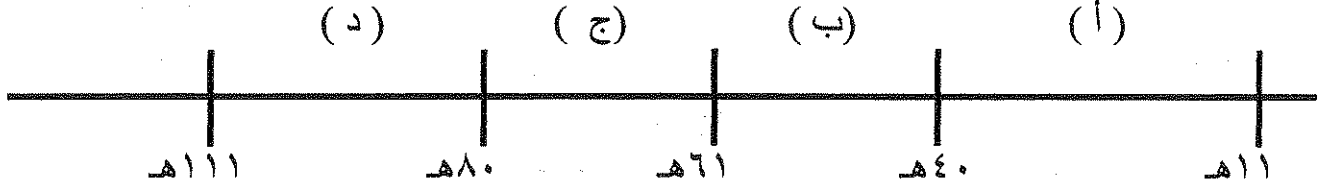
دولة الكويت  
وزارة التربية  
التوجيه الفني العام للاجتماعيات  
امتحان نهاية الفترة الدراسية الثانية للصف الحادي عشر الأدبي  
للعام الدراسي ٢٠١١/٢٠١٢م  
المجال الدراسي: التاريخ الإسلامي

اجب عن أربعة أسئلة من الأسئلة الخمسة التالية على ان يكون السؤال الأول من بينها (إجباري):

السؤال الأول (إجباري) ويتكون من (أ- ب - ج - د):

أ) اختر البديل المناسب من بين البدائل التي تلي كل عبارة :

١- الفترة الزمنية التي تمثل دولة الخلفاء الراشدين على المخطط الزمني التالي يمثلها الحرف :



٢- القبيلة اليهودية التي قام النبي عليه السلام بطردها من المدينة على اثر غزوة بدر تسمى:  
(أ) قينقاع (ب) قريضة (ج) هوازن (د) النضير.

٣- العام الذي وقعت فيه معركة ذات الصواري هو :  
(أ) ٣٢هـ (ب) ٣٤هـ (ج) ٣٦هـ (د) ٣٨هـ.

٤- قوم عاد وثمود من العرب :  
(أ) الباقية (ب) العاربة (ج) المستعربة (د) البائدة .

٥- القائد الذي يعتبر أول من قسم الجيش الإسلامي إلى كتائب :  
(أ) عمرو بن العاص (ب) خالد بن الوليد (ج) سعد بن أبي وقاص (د) المثني بن حارثة.

تابع السؤال الأول:

ب) اكمل العبارات التالية بما يناسبها:

- ١- الصحابي الذي اشترى بئر الروم في المدينة ليشرب الناس منه يسمى .....
- ٢- يعرف العام العاشر للبعثة والذي تعرض فيه النبي عليه السلام للمحن والشدائد باسم .....
- ٣- السرية التي أرسلها النبي عليه السلام سنة ٢هـ بقيادة عبدالله بن جحش تسمى .....
- ٤- حلف بين بطون قريش شارك فيه النبي عليه السلام قبل البعثة يعرف بحلف .....

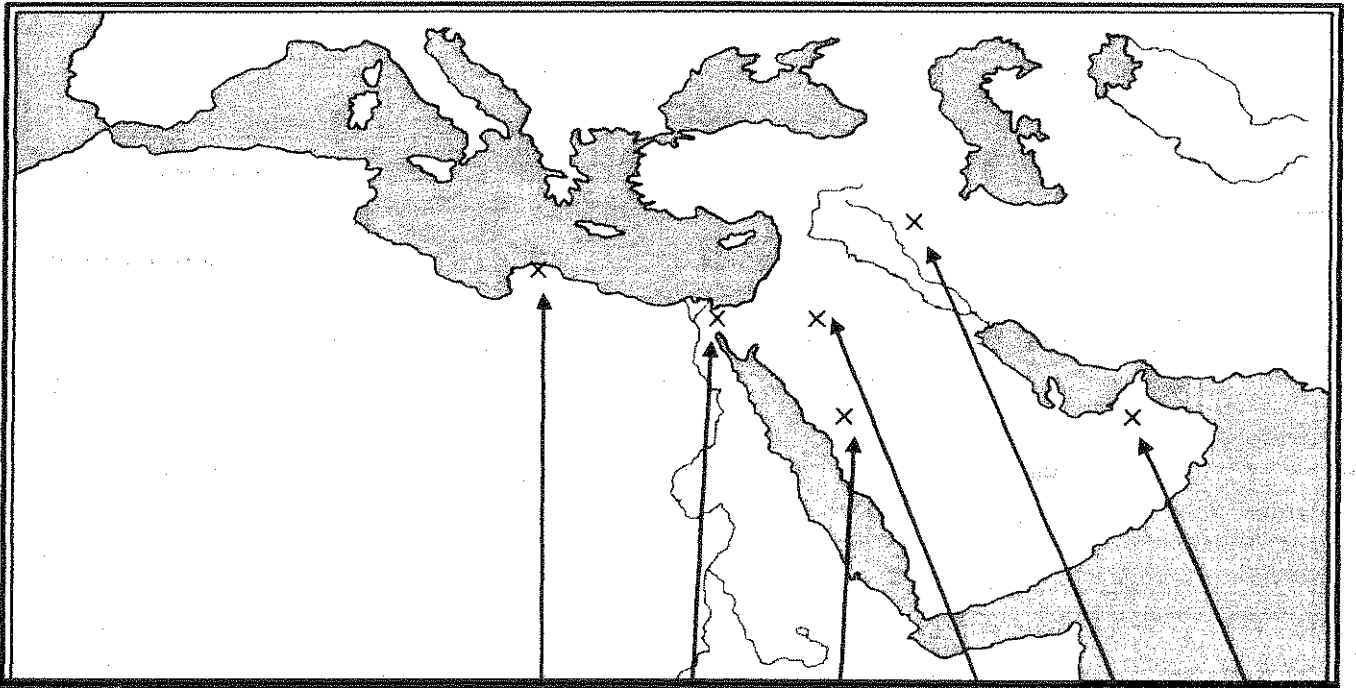
ج) اختر من المجموعة ( أ ) ما يناسبها من المجموعة ( ب ) بوضع الرقم المناسب في المكان المناسب:

| ( أ )                            | الرقم | ( ب )                |
|----------------------------------|-------|----------------------|
| ١- قاد معركة عقرباء.             | ( )   | سعد بن أبي وقاص      |
| ٢- فتح مصر.                      | ( )   | عبدالله بن أبي السرح |
| ٣- قاد معركة القادسية.           | ( )   | عياض بن غنم          |
| ٤- فتح بلاد الجزيرة شمال الموصل. | ( )   | خالد بن الوليد       |
|                                  | ( )   | عمرو بن العاص        |

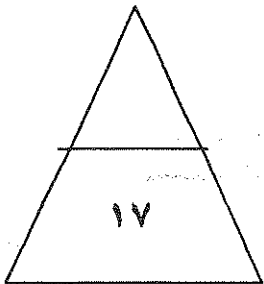
تابع السؤال الأول:

(د) على خريطة العالم الإسلامى المرفقة ضع الرقم فى الدائرة المناسبة لكل عبارة مما يأتى:

- ١- نواة الدولة الإسلامية الأولى .
- ٢- مدينة اعتبر الفتح الإسلامى لها فتح الفتوح.
- ٣- منطقة ظهر فيها المتنبى لقيط بن مالك
- ٤- صحراء النفوذ .



○ ○ ○ ○ ○ ○



السؤال الثاني (اختياري) ويتكون من ( أ - ب - ج ):  
أ) عرف المفاهيم التالية:

١- القبيلة:-

٢- السرية:-

٣- الخلافة:-

٤- حجة الوداع:-

ب ما تفسيرك للأحداث التاريخية التالية:

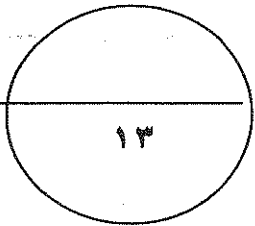
١- عزم الرسول على فتح مكة سنة ٨ هـ .

٢- تم جمع القرآن في عهد الخليفة أبي بكر الصديق .

٣- هجرة المسلمين إلى الحبشة في السنة الخامسة للبعثة .

٤- كانت ظروف مصر مؤهلة لمجيء الفتح الإسلامي .

ج) اكتب فقرة مترابطة عن الحياة الفكرية عند العرب قبل الاسلام مستخدما الكلمات المساعدة التالية:  
( المعلقات / الأنساب / لهجة قريش / عكاظ / النظام القبلي )



السؤال الثالث (اختياري) ويتكون من (أ- ب- ج) :

(أ) علل ما يلي تعليلا تاريخيا:

١- معارضة قریش للدعوة الإسلامية.

٢- قيام حركة الفتوح الإسلامية من الناحية الدينية.

(ب) فرق بين كل مما يلي:

| الموالي                                  | ١- الصرحاء                                    |
|--|---|
| -  | -   |
| فضل الأنصار على الدولة الإسلامية الناشئة | ٢- فضل المهاجرين على الدولة الإسلامية الناشئة |
| -  | -   |
| موقف كسرى من رسالة النبي عليه السلام     | ٣- موقف المقوقس من رسالة النبي عليه السلام    |
| -  | -   |

(ج) اثبت صحة العبارات التالية:

١- كان لليهود عدة محاولات لهدم الوحدة الاجتماعية الجديدة في الدولة الإسلامية الناشئة.

٢- تم الفتح الإسلامي لبيت المقدس بدون قتال.

السؤال الرابع (اختياري) ويتكون من (أ - ب - ج) :

أ) قارن بين كلا مما يأتي :

| أوجه المقارنة | غزوة أحد         | غزوة مؤتة        |
|---------------|------------------|------------------|
| الأطراف       | المسلمون × ----- | المسلمون × ----- |
| الأسباب       | -                | -                |
| النتائج       | -                | -                |

ب) ما النتائج المترتبة على كلا من :

١- معركة القادسية.

-

-

٢- موافقة الخليفة عثمان بن عفان على إنشاء قوة بحرية للمسلمين.

-

-

ج) ما دور الشخصيات التالية:

١- النبي عليه الصلاة والسلام في بناء دولة الإسلام الجديدة.

-

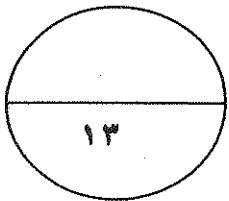
-

٢- الخليفة عمر بن الخطاب في ظهور الدواوين الإسلامية.

-

٣- هاشم بن عبد مناف في تجارة مكة قبل الإسلام.

-





السؤال الخامس (اختياري) ويتكون من (أ- ب- ج):

(أ) اقرأ الفقرة التالية ثم اجب عما يليها:

(واجه الإسلام في أواخر عهد الرسول عليه الصلاة والسلام أزمة جديدة ، مالبث أن اتسع نطاقها وزاد خطرها بعد وفاته، إذ أنفسح المجال أمام المنافقين وأعداء قريش من العرب للقيام بحركة الردة، التي مالبثت أن انتشرت في أجزاء كثيرة في شبه الجزيرة العربية وظهرت بأشكال عديدة اختلفت في بواعثها وصورها ، لكن الخليفة أبي بكر الصديق تولى مقاومة هؤلاء المرتدين والمتنبيين ، وكان الانتصار عليهم انتصار للإسلام )

١- ضع عنوانا للفقرة.

٢- عرف ما تحته خط.

٣- ما الأساليب التي اتبعتها الخليفة أبي بكر الصديق لمواجهة حركة الردة؟

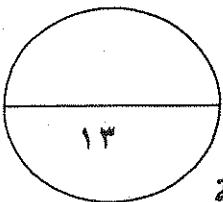
( ب ) اكمل الجدول الاتي حسب ما هو مطلوب:

| العبرة  | قائل العبارة | المناسبة | الدلالة التاريخية |
|---|--------------|----------|-------------------|
| ".....فإنما ينتظر الناس أخراهم اتقوا الله عباد الله في عباده وبلاده إنكم مسنولون حتى عن البقاع والبهائم وأطيعوا الله عز وجل"      |              |          |                   |
| "لقد آمنا بك وصدقناك وشهدنا إن ما جنت به هو الحق وأعطيناك على ذلك عهدنا ومواثيقنا على السمع والطاعة فأمضي لما أردت فنحن معك....." |              |          |                   |

(ج) نفذ المطلوب ما بين القوسين:

١- صلح الحديبية (حدد بنوده)

٢- كانت شبه الجزيرة العربية بيئة قادرة لتقبل رسالة الإسلام . ( الأسباب )



انتهت الأسئلة

المادة : تاريخ إسلامي  
الصف : الحادي عشر أدبي  
الزمن : ( ساعتان )  
عدد الأوراق : ( ٧ )

دولة الكويت  
وزارة التربية  
التوجيه الفني العام للاجتماعيات  
القسم الأدبي

اختبار الفترة الدراسية الثانية  
للعام الدراسي : ٢٠١٠ / ٢٠١١ م

أجب عن أربعة أسئلة فقط من الأسئلة التالية على أن يكون السؤال الأول من بينها إجبارياً :

السؤال الأول ( إجباري ) : يتكون من [ أ - ب - ج - د - هـ ] ( ١٣ درجة )

أ - اختر البديل المناسب من بين البدائل التي تلي كل عبارة وضع خطأ تحته :

١- الأرقام الدالة على ثلاث ممالك ظهرت قبل الإسلام في جنوب شبه الجزيرة العربية يمثلها في الجدول المقابل الحرف:

| م | ممالك ودول |
|---|------------|
| ١ | الأنباط    |
| ٢ | معين       |
| ٣ | سبأ        |
| ٤ | حمير       |
| ٥ | تدمر       |

أ- ( ٢ ، ٣ ، ٥ )

ب- ( ١ ، ٢ ، ٣ )

ج- ( ٢ ، ٣ ، ٤ )

د- ( ١ ، ٤ ، ٥ )

٢ - الترتيب الصحيح لأهم الأحداث في حياة الرسول صلى الله عليه وسلم قبل البعثة يمثلها في الجدول التالي الحرف :

| م | أ                     | ب                     | ج                     | د                     |
|---|-----------------------|-----------------------|-----------------------|-----------------------|
| ١ | إعادة بناء الكعبة     | وفاة جده عبدالمطلب    | زواجه من السيدة خديجة | وفاة جده عبدالمطلب    |
| ٢ | وفاة جده عبدالمطلب    | إعادة بناء الكعبة     | وفاة جده عبدالمطلب    | حرب الفجّار           |
| ٣ | زواجه من السيدة خديجة | حرب الفجّار           | حرب الفجّار           | زواجه من السيدة خديجة |
| ٤ | حرب الفجّار           | زواجه من السيدة خديجة | إعادة بناء الكعبة     | إعادة بناء الكعبة     |

٣ - العام الذي تم فيه صلح الحديبية هو :

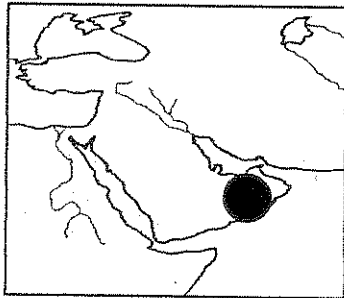
أ- ٦ هـ

ب- ٧ هـ

ج- ٨ هـ

د- ٩ هـ

٤ - الدائرة المظللة على الخريطة المقابلة تمثل مكان ظهور أحد قادة حركة الردّة هو :

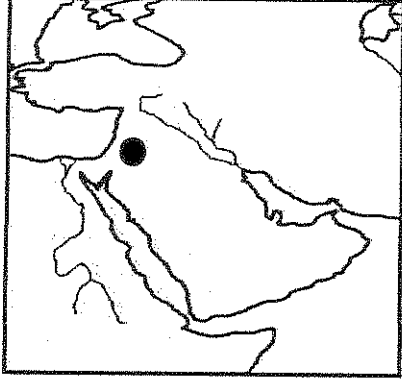


- أ- سجاح بنت الحارث  
ب- لقيط بن مالك  
ج- طلحة بن خويلد  
د- الأسود العنسي

٥ - الخليفة الذي تم في عهده سقوط إيوان كسرى اسمه :

أ- أبو بكر الصديق      ب- عمر بن الخطاب      ج- عثمان بن عفان      د- علي بن أبي طالب

٦ - الدائرة المظللة على الخريطة المقابلة تمثل معركة تسمى :



أ- عين شمس  
ب- كاظمة  
ج- القادسية  
د- اليرموك

ب- اقرأ العبارات التالية ثم صحح ما تحته خط :

- ١- من أهم أعمال قصي بن كلاب رفع اللواء في الحرب .....
  - ٢- ألغى نظام التوارث بين المهاجرين والأنصار بعد غزوة الخندق .....
  - ٣- تم غزو جزيرة قبرص سنة ٢٧ هـ في عهد الخليفة أبو بكر الصديق .....
  - ٤- قائد الدولة البيزنطية في معركة أجنادين اسمه ماهان .....
  - ٥- وقعت معركة ذات الصواري في عام ٣٠ هجري .....
  - ٦- أطلق على اليوم الثاني من معركة القادسية سنة ١٥ هجري بيوم أرمات .....
- ج- أنسب العبارات التاريخية من القائمة ( أ ) لقاتلها من القائمة ( ب ) بوضع الرقم المناسب :

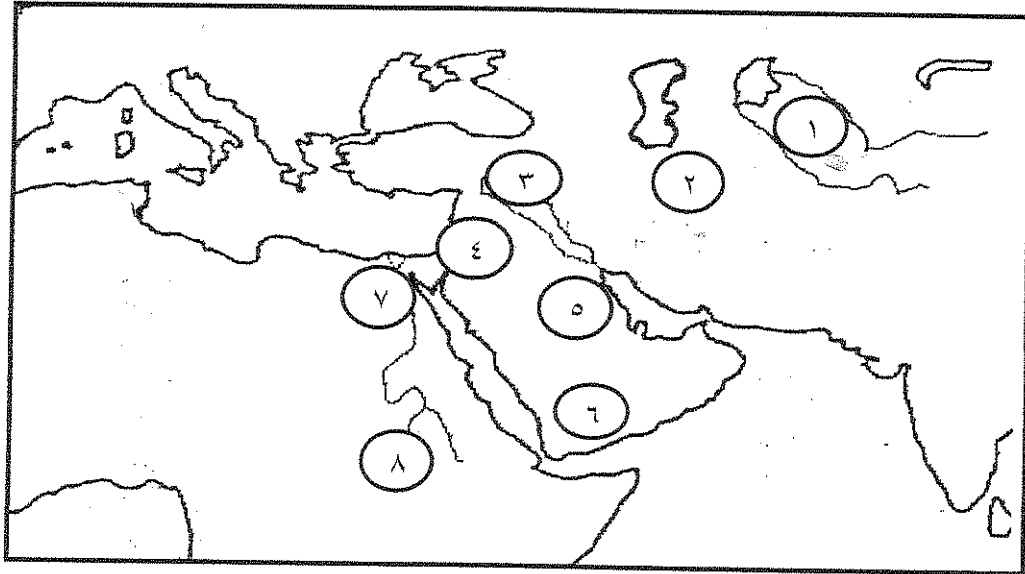
| م | القائمة ( أ )<br>عبارات تاريخية   | الرقم المناسب | القائمة ( ب )<br>شخصيات تاريخية |
|---|---|---------------|---------------------------------|
| ١ | فارجع به إلى بلده واحذر عليه من اليهود  | .....         | سعد بن معاذ                     |
| ٢ | ..فوالله لو استعرضت بنا هذا البحر فخضته لخضناه معك                                | .....         | هرقل                            |
| ٣ | من يتقدم عليك يا أبابكر، وأنت أول الناس إسلاماً و ثاني اثنين إذ هما في الغار .... | .....         | بحيرا الراهب                    |
| ٤ | السلام عليك يا سورية، سلاماً لا لقاء بعده   | .....         | عمرو بن العاص                   |
|   |   | .....         | عمر بن الخطاب                   |

تابع السؤال الأول ( إجباري ) :-

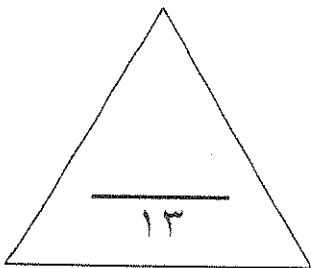
د- أكمل العبارات التالية بما يناسبها مما درست :

- ١- الصحابي الذي كان داره مقراً للدعوة الإسلامية أثناء المرحلة السرية اسمه .....
- ٢- القرية التي بني فيها الرسول عليه الصلاة والسلام أول مسجد في الإسلام اسمها .....
- ٣- السرية التي قادها عبد الله بن جحش وكانت ممهدة لغزوة بدر اسمها .....
- ٤- المدينة التي هرب إليها ملك الفرس يزيدجرد بعد هزيمته في معركة المدائن اسمها .....
- ٥- حاكم مصر الذي طلب من عمرو بن العاص الصلح عندما جاء لفتح مصر اسمه .....
- ٦- وقعت معركة النهروان بين الخليفة علي بن أبي طالب وفرقة تسمى .....

هـ - لاحظ الخريطة التي أمامك ثم أجب عما يليها من أسئلة :



- ١- موقع ظهور قوم عاد يمثله على الخريطة الرقم .....
- ٢- موقع غزوة مؤتة يمثله على الخريطة الرقم .....
- ٣- موقع إقليم خراسان يمثله على الخريطة الرقم .....
- ٤- موقع حصن بابلين يمثله على الخريطة الرقم .....



درجة السؤال الأول : .....

[ ٩ درجات ]

السؤال الثاني : يتكون من [ أ - ب - ج ]

أ- قارن بين كل مما يلي حسب الجدول الموضح أدناه :-

| بيعة الرضوان | بيعة العقبة الثانية | وجه المقارنة            |
|--------------|---------------------|-------------------------|
| .....*       | .....*              | رد فعل<br>قريش<br>بعدها |
| .....*       | .....*              |                         |
| .....*       | .....*              |                         |
| .....*       | .....*              |                         |

ب- اكتب ثلاثاً لكل مما يلي :

١- ( تميزت شبه الجزيرة العربية بمميزات هيأتها لتكون بيئة قادرة لتقبل الإسلام ) .

- .....\*
- .....\*
- .....\*

٢- ( المشكلات التي واجهت أبو بكر الصديق بعد وفاة الرسول عليه الصلاة والسلام ) .

- .....\*
- .....\*
- .....\*

ج- علل تاريخياً لكل مما يلي :

١- كانت معركة اليرموك من أعظم المعارك الإسلامية .

- .....\*
- .....\*

٢- خروج أجزاء من بلاد أرمينيا عن الدولة الإسلامية بعد مقتل الخليفة عمر بن الخطاب .

- .....\*
- .....\*

السؤال الثالث : يتكون من [ أ - ب - ج ] : [ ٩ درجات ]

أ- لاحظ الصورتين التاليتين ثم قارن بينهما حسب ما هو موضح بالجدول :-

|   |                               |                     |
|---|-------------------------------|---------------------|
| <p>وصول مجموعة من المشركين إلى مؤخرة القوادة الإسلامية بعد مخالفتهم لأمر الرسول</p> | <p>الدعوة للدنيا</p>          | <p>وجه المقارنة</p> |
| <p>..... *</p>  | <p>..... *</p>                | <p>أسم الغزوة</p>   |
| <p>..... *</p> <p>..... *</p>   | <p>..... *</p> <p>..... *</p> | <p>نتائج الغزوة</p> |

ب - عرّف المفاهيم التالية :

١- قبيلة : .....

٢- متنبئة : .....

ج - بماذا تفسر كل مما يلي :

١- معارضة قريش للدعوة الإسلامية .

..... \*

..... \*

٢- عُرِفَت معركة نهاوند بفتح الفتوح .

..... \*

..... \*

٩

٥

السؤال الرابع : يتكون من [ أ - ب - ج ] : [ ٩ درجات ]

أ - أكتب تاريخيا فيما يلي :

١ - أساليب مقاومة قريش للدعوة الإسلامية .

\*

\*

\*

٢ - أهم ما تضمنته الصحيفة التي وضعها الرسول عليه الصلاة والسلام لتنظيم الحياة في المدينة .

\*

\*

\*

٣ - الأسباب الدينية لقيام حركة الفتوح الإسلامية .

\*

\*

ب - دال على صحة العبارات التالية :

١ - كان لرحلتي الشتاء والصيف أثر ايجابي على قريش .

\*

\*

٢ - من براعة العسكرية واستناداً لمبدأ الشوري أخذ الرسول عليه الصلاة والسلام برأي صحابته ونفذ أفكارهم خلال غزواته .

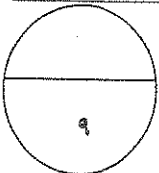
\*

\*

ج - فرّق بين كل مما يلي حسب ما هو موضح بالجدول :

| المرحلة الأولى من دعوة الرسول ﷺ في مكة | المرحلة الثالثة من دعوة الرسول ﷺ في مكة | المستهدفون من الدعوة |
|--|---|----------------------|
| *                                      | *                                       |                      |

| المدائن الغربية | المدائن الشرقية | نتائج فتحها |
|-----------------|-----------------|-------------|
| *               | *               |             |
| *               | *               |             |



السؤال الخامس : يتكون من [ أ - ب - ج - د ] : [ ٩ درجات ]

أ - أكتب فقرة تاريخية مناسبة باستخدام الكلمات التالية :-

( عام الفيل - أبو طالب - الرعي - الفضول )

ب - ما وجه الشبه بين كل مما يلي :

\* عوامل أضعفت كل من الروم والفرس وساعدت المسلمين على الانتصار .

ج - فند العبارات التالية :

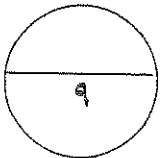
١- ( الإسلام ظلم المرأة ولم يكرمها حيث كانت في وضع أفضل قبل الإسلام ) .

٢- ( كان صلح الحديبية مجحفاً وغير عادل في حق المسلمين ) .

د - اذكر المناسبة التي قيلت فيها العبارات التاريخية التالية:

١- ( والله لا أحل عقدها رسول الله..... ) .

٢- ( جنتك يقوم يحبون الموت كما تحبون الحياة ) .



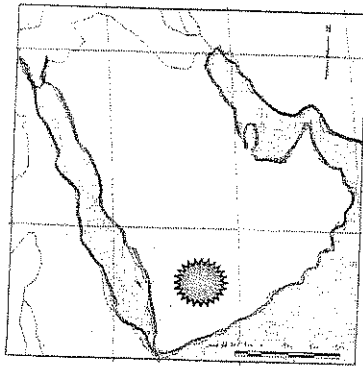





السؤال الأول إجباري يتكون من ( أ - ب - ج - د - هـ ) :

أ) أختَر البديل المناسب من بين البدائل التي كل عبارة فيما يلي :

١- الفترة الزمنية التي حكم فيها الخليفة الراشدي عثمان بن عفان رضي الله عنه يمثلها على الخط الزمني الحرف :



٢- آخر الحروب التي دارت بين قبيلتي الأوس والخزرج عرفت بيوم :

( أ ) - أخوات ( ب ) - ارمات

( ج ) - بعات ( د ) - عماس

٣- متزعم حركة الردة في الدائرة المظللة على الخريطة المقابلة :

( أ ) - الأسود العنسي ( ب ) - مسيلمة الكذاب

( ج ) - طليحة بن خويلد ( د ) - سجاح

٤- الدولة التي تم القضاء عليها بعد معركة نهاوند عام ٢١ هـ :

( أ ) - المندرة ( ب ) - البيزنطية

( ج ) - الغساسنة ( د ) - الساسانية

٥- العمل الذي قام به قصي بن كلاب :

( أ ) - أعاد حفر بئر زمزم

( ب ) - توحيده قريش وتأسيس دار الندوة

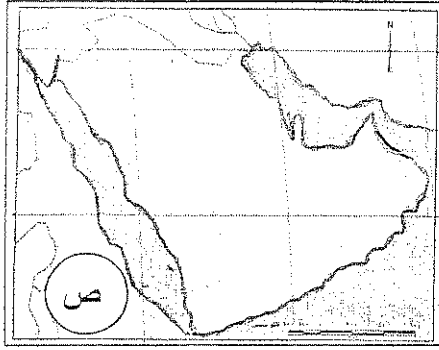
( ج ) - السقاية و الرفادة ( د ) - اللواء في الحرب

٦- الحدث الأقدم من بين الأحداث التاريخية التالية :

( أ ) - نزول الوحي ( ب ) - إعادة بناء الكعبة

( ج ) - حرب الفجار ( د ) - زواج النبي صلى الله عليه وسلم من السيدة خديجة

ب) - أكمل العبارات التالية بما يناسبها :



- ١ - أول ديوان تأسس في الإسلام اسمه -----
- ٢ - أول من سن رحلتي الشتاء و الصيف اسمه -----
- ٣ - الدار التي اتخذها الرسول ﷺ مقراً لدعوته السرية تسمى دار -----
- ٤ - عاصمة بلاد فارس قبل الإسلام مدينة أسمها -----
- ٥ - الحرف ( ص ) على الخريطة المقابلة يرمز إلى منطقة هاجر إليها المسلمون الأوائل اسمها -----

٦ - قائد إسلامي تمكن من قتل القائد البيزنطي جريجور في موقعة العبادلة أسمه -----

ج) صنف مواقف الملوك من رسل النبي ﷺ في دعوتهم للإسلام في الجدول التالي:

- مزق كتاب الرسول ﷺ فمزق الله ملكه.
- خاف على ملكه ولم يسلم.
- اسلم ووضع على عينه.
- هدد بغزو المدينة المنورة.
- لم يسلم ولكنه أكرم وفادته.

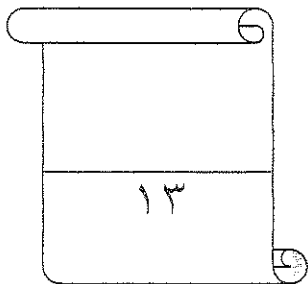
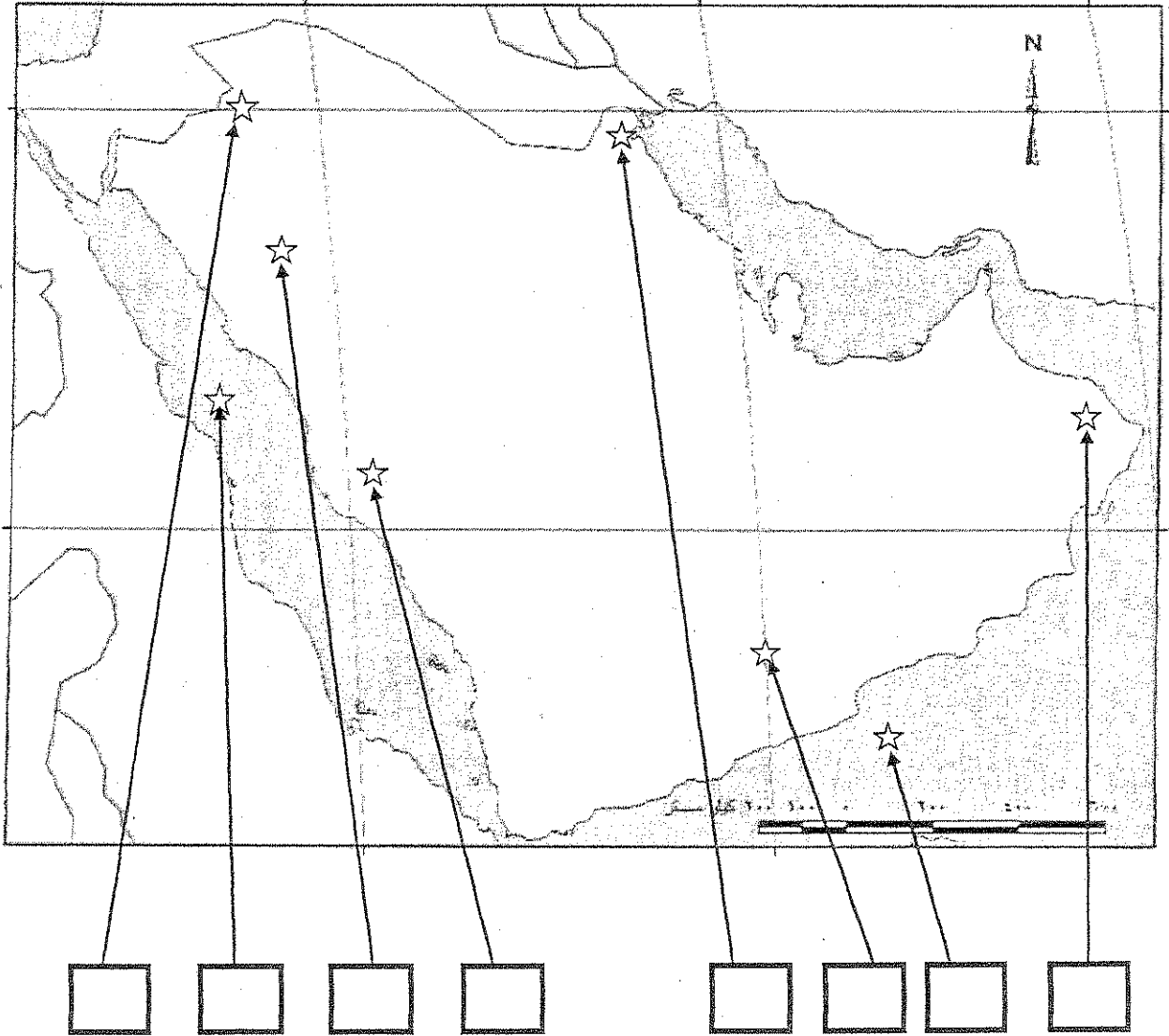
| الحرث الغساني<br>أمير الغساسنة | المقوقس<br>حاكم مصر | كسرى<br>ملك الفرس | النجاشي<br>ملك الحبشة | هرقل<br>قيصر الروم |
|--------------------------------|---------------------|-------------------|-----------------------|--------------------|
|                                |                     |                   |                       |                    |

د) أختار من المجموعة ( ب ) ما يناسبها من المجموعة ( أ ) بوضع الرقم الصحيح :

| الرقم | ( أ )      | الرقم الصحيح | ( ب )  |
|-------|------------|--------------|--|
| ١     | بنو قينقاع |              | تم طردهم بعد غزوة أحد  |
| ٢     | بنو النضير |              | عاقبهم المسلمون بعد غزوة الخندق  |
| ٣     | بنو قريظة  |              | تم القضاء عليهم بعد غزوة خيبر  |
|       |            |              | تعمدوا إهانة المسلمين فأخرجهم النبي الكريم من المدينة المنورة بعد غزوة بدر |

(هـ) على خريطة شبه الجزيرة المرفقة ضع الرقم في المربع المناسب لكل عبارة مما يلي :-

- ١- موطن قوم عاد
- ٢- موطن مدعي النبوة لقيط بن مالك .
- ٣- موقع معركة كاهنة .
- ٤- بحر القلزم .
- ٥- موقع الغساسنة .
- ٦- بحر العرب .



درجة السؤال الأول.....

السؤال الثاني : (اختياري) ويتكون من ( أ - ب - ج ) :

أ) علل ما يأتي تاريخياً :

١ - ارتداد بلاد أرمينيا عن الدولة الإسلامية في أعقاب مقتل الخليفة عمر بن الخطاب رضي الله عنه.

-----\*

-----\*

-----\*

٢ - تعتبر معركة اليرموك عام ١٥ هـ من أعظم المعارك الإسلامية.

-----\*

-----\*

-----\*

٣ - هزيمة المسلمين في غزوة أحد عام ٣ هـ .

-----\*

-----\*

ب) ما أوجه الاختلاف بين كل من :

| مكانة المرأة في النظام القبلي ( البادية ) قبل الإسلام | مكانة المرأة في النظام الملكي قبل الإسلام |
|---|---|
| -----   | -----                                     |
| -----   | -----                                     |

ج) دلل على صحة العبارات التالية :

١ - براعة الرسول صلى الله عليه وسلم في التخطيط العسكري لغزوة بدر .

-----\*

-----\*

-----\*

٢ - تميزت شبه الجزيرة العربية بمميزات هيأتها لتقبل رسالة الإسلام .

-----\*

-----\*

-----\*

درجة السؤال الثاني.....

السؤال الثالث : (اختياري) ويتكون من ( أ - ب - ج ) :

أ) وازن بين الاوضاع الداخلية أثناء الفتوحات الإسلامية لكل من :

| الفرس | الروم |
|-------|-------|
| *     | *     |
| *     | *     |
| *     | *     |

ب) ( اقرأ العبارات التالية ثم أكتب المناسبة التي قيلت في كل منها :

١- " لا تخونوا ولا تغدروا ولا تغلوا ولا تمثلوا ولا تقتلوا طفلاً ولا شيخاً كبيراً ولا امرأة ..... " .

..... المناسبة :

٢- " انك إن فتحتها كانت قوة للمسلمين و عوناً لهم " .

..... المناسبة :

٣- " يا بني لا تخوضوا دماء المسلمين خوضاً ، تقولون قتل أمير المؤمنين ..... " .

..... المناسبة :

ج) نفذ المطلوب بين القوسين :

١ - حركة الردة . ( أسبابها )

.....\*

.....\*

٢ - غزوة الخندق . ( نتائجها )

.....\*

.....\*

٣ - الصحيفة التي وضعها الرسول ﷺ لسكان المدينة . ( بنودها )

.....\*

.....\*

درجة السؤال الثالث .....

السؤال الرابع (اختياري) ويتكون من ( أ - ب - ج ) :

( أ ) قارن حسب ما هو مطلوب منك في الجدول التالي:

| من حيث          | معركة أجنادين    | معركة القادسية   |
|-----------------|------------------|------------------|
| الأطراف         | المسلمون × ----- | المسلمون × ----- |
| القائد الإسلامي | -----            | -----            |
| النتائج         | انتصار المسلمين  | انتصار المسلمين  |

( ب ) عرف ما يلي:

١ - خلافة : -----

٢ - قبيلة : -----

٣ - عام الرمادة : -----

( ج ) أكتب فيما يلي :

١ - محاولات اليهود لهدم الوحدة الاجتماعية الجديدة في المدينة .

----- \*

----- \*

٢ - أهم مهام السرايا في عهد الرسول ﷺ .

----- \*

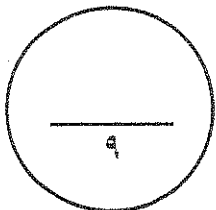
----- \*

٣ - نتائج فتح مكة .

----- \*

----- \*

درجة السؤال الرابع .....



السؤال الخامس: (اختياري) ويتكون من ( أ - ب - ج ) :

( أ ) أجب عن الأسئلة التالية :

١ - عدد أهم بنود صلح الحديبية ٦ هـ .

.....\*

.....\*

.....\*

٢ - برهن على إن صلح الحديبية كان نصراً عظيماً للرسول ﷺ ودعوته .

.....\*

.....\*

.....\*

( ب ) لخص انجازات الشخصيات التالية تاريخياً :

١ - الخليفة عمر بن الخطاب ؓ .

.....\*

.....\*

٢ - الخليفة عثمان بن عفان ؓ .

.....\*

.....\*

( ج ) قارن حسب ما هو مطلوب منك في الجدول التالي:

| نتائج غزوة مؤتة | نتائج غزوة خيبر |
|-----------------|-----------------|
| .....*          | .....*          |
| فضل الأنصار     | فضل المهاجرين   |
| .....*          | .....*          |
| .....*          | .....*          |

درجة السؤال الخامس.....

تمت الأسئلة ..



الإدارة العامة لمنطقة الجهراء التعليمية

# نموذج إجابة

## الفترة الأولى

الصف ١١ ادبي  
تاريخ

للعام الدراسي ٢٠١٣/٢٠١٤ م

# نموذج إجابة



اختبار الفترة الدراسية الأولى للعام الدراسي ٢٠١٣ / ٢٠١٤ م

مقرر التاريخ الإسلامي

للفصل الحادي عشر الأدبي

\* أجب عن جميع أسئلة الاختبار بكل فروعها :

\* السؤال الأول ويتكون من ( أ - ب - ج )

٤ درجة = ٤

أ - أكمل العبارات التالية بما يناسبها

١- يوم مشهور في دائرة الحروب التي كانت بين الأوس والخزرج قبل البعثة النبوية الشريفة بخمس سنوات يسمى بعث

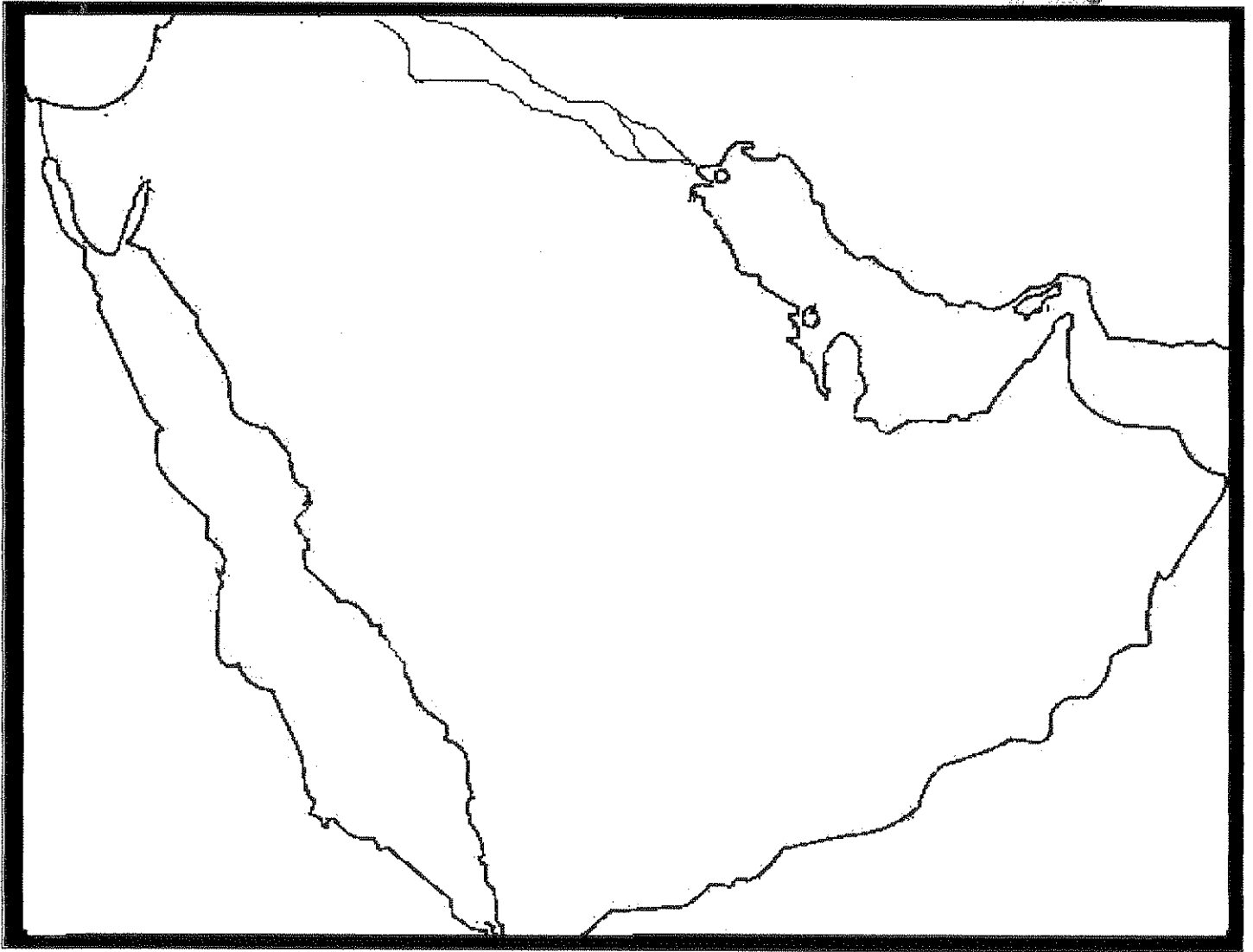
ص ٣٥

٢- الراهب الذي تنبأ بنبوذة الرسول ﷺ اسمه بحيرا ص ٢٣٣- جماعه يهودية أخرجها الرسول ﷺ بعد غزوة احد تسمى بنى النضير ص ١٤- صحابي أرسله الرسول ﷺ إلي النجاشي يدعوه للإسلام اسمه عمرو بن أمية الضمري ص ٥ب - صنف الأسماء التالية بوضع اسم الشخصية أمام العمل الذي قام به في الجدول التالي : ٤ درجة = ٤

( أم معبد الخزاعية - عبد المطلب بن هاشم - خديجة بنت خويلد - عبد الله بن جحش - مصعب بن عمير )

| الشخصية                    | العمل الذي قام به                             |
|----------------------------|---|
| ١- عبد المطلب بن هاشم ص ٢١ | أعاد حفر بئر زمزم                             |
| ٢- عبد الله بن جحش ص ٣٧    | قاد سرية نخلة                                 |
| ٣- مصعب بن عمير ص ٣١       | صحابي أرسله الرسول ﷺ يدعو أهل المدينة للإسلام |
| ٤- أم معبد الخزاعية ص ٢٥   | امراة وصفت شكل الرسول ﷺ                       |

- ١- بحر القلزم يمثلته الرقم (.....١.....) ص ١٣
- ٢- مملكة الحيرة يمثلها الرقم (.....٢.....) ص ١٥
- ٣- مدينة ذهب لها الرسول ﷺ مع عمه أبو طالب للتجارة يمثلها الرقم (.....٤.....) ص ٢٣
- ٤- غزوة حارب بها المسلمون الغساسنة يمثلها الرقم (.....٨.....) ص ٤٦
- ٥- سلاسل جبال عسير يمثلها الرقم (.....٦.....) ص ١٤
- ٦- غزوة تبوك يمثلها الرقم (.....٧.....) ص ٣٨



**\*السؤال الثاني : ويتكون من ( أ - ب - ج )**

٢xدرجة = ٢

**أ- أجب عن الأسئلة التالية :**

١ - اذكر وجه الشبه والاختلاف بين طبقة الصرحاء وطبقة الموالي. ص ١٧, ص ١٨

| وجه الاختلاف  | وجه الشبه                          |
|---|------------------------------------|
| الصرحاء لهم حق الرئاسة , الموالي ليس لهم حق الرئاسة . | لهم كل الحقوق وعليهم كل الواجبات . |

٢ - عدد أساليب قريش لمقاومة الدعوة الإسلامية . ص ٢٨ ( يكتفي بنقطتين ) ٢xدرجة = ٢

- ١- اللامبالاة و عدم الاهتمام بأمر الدعوة .
- ٢- تعذيب وحرمان العبيد والضعفاء .
- ٣- التدخل لدى عمه أبو طالب والطلب منه أن يكف الرسول عن عيب أصنامهم وعبادتهم .
- ٤- عرض قريش على النبي الجاه والمال .
- ٥- أسلوب الجدل والاستهزاء .
- ٦- مقاطعة بني هاشم اقتصاديا و اجتماعيا .

**ب- دلل على صحة العبارة التالية: تجح الرسول ﷺ في قيادة الأمة الإسلامية" :- ص ٣٦-٣٧**

( يكتفي بنقطتين ) ٢xنصف درجة = ١

- ١- الحكمة السياسية للرسول ﷺ .
- ٢- أهمية المسجد في المجتمع .
- ٣- مساهمة النبي ﷺ في بناء المسجد من صفات القائد الناجح .
- ٤- المقدرة الفائقة للرسول ﷺ في التنظيم والاحتياط للمستقبل .
- ٥- نبذ الرسول ﷺ روح الفرقة والبغضاء والعصبية الجاهلية .
- ٦- بناء الجبهة الداخلية لمواجهة الأعداء .

**ج- علل لما يأتي :**

٢٠ ص ( يكتفي بنقطتين ) ٢xنصف درجة = ١

١ - قدرة شبه الجزيرة العربية على تقبل الإسلام :-

- ١- أن شبه الجزيرة العربية خارج نطاق الصراع بين الفرس والروم .
- ٢- أدرك العرب وجود الله وابتعدوا عن عبادة الأصنام .
- ٣- موقعها الجغرافي وسط العالم القديم .
- ٤- وجود البيت الحرام .
- ٥- لغة العرب وخصائصها المميزة .
- ٦- صفاء الفكر فلم يتأثروا بالفلاسفة .

٣٢ ص ( يكتفي بنقطتين ) ٢xنصف درجة = ١

٢ - اتفاق قريش و القبائل الموالية لها على اغتيال الرسول ﷺ :-

- ١- كي ينفرد دم الرسول ﷺ بين القبائل .
- ٢- جعل بني هاشم لا يقدر على الثأر ويقبلون بالدية .

\* السؤال الثالث : ويتكون من ( أ - ب - ج )

٢x٢ درجة - ٢

أ- فسر العبارات التالية :

١- وضع الرسول ﷺ الصحيفة في المدينة :-  
لتنظيم الحياة العامة داخل المدينة وتحديد العلاقة مع الجيران . ( ص ٣٦ )

٢- ارتبطت الحياة الفكرية عند العرب بالنظام القبلي :-  
حيث كان لكل قبيلة شاعرها وخطيبها وقاصها يعبرون عن مناقب القبيلة ويتفاخرون بأنسابها ويحكون قصصها وحروبها .  
( ص ١٩ ) .

٢x٢ درجة - ٢

ب ( ماذا كان من الممكن أن يحدث لو لم :-

١- تعتدي قبيلة بكر على قبيلة خزاعة :- ص ٤٧  
- لضلت بنود صلح الحديبية قائمه , لتأخر فتح مكة , وكل عبارة تناسب العبارات السابقة .

٢- يخالف الرماة أوامر الرسول ﷺ في غزوة احد :- ص ٤٢  
- لانتصر المسلمون بغزوة احد , وجمعوا الغنائم , لم تعود الثقة للمشركين بالثأر , زيادة الثقة في نفوس المسلمين ,  
وكل عبارة تناسب العبارات السابقة .

٢x٢ درجة - ٢

ج- عرف المصطلحات التالية :

١- العرب العاربة : هم بنو يعرب قحطان وسكنوا جنوب شبه الجزيرة العربية . ص ١٣

٢- السرية : فرقة من الجنود بقيادة احد الصحابة . ص ٣٧

٣- حرب الفجار : حرب في الجاهلية شارك فيها الرسول ﷺ وعمره خمس عشرة سنة . ص ٢٤

\*السؤال الرابع : ويتكون من ( أ ، ب )

٤×درجة - ٤

أ- قارن بين غزوة بدر , وغزوة مؤتة في الجدول التالي :-

| وجه المقارنة | غزوة بدر   | غزوة مؤتة   |
|--------------|--|---|
| السنة        | ٢هـ<br>درجة - ص ٣٩   | ٨هـ<br>درجة - ص ٤٦  |
| النتائج      | ١- تثبيت دعائم الدولة الإسلامية.<br>٢- إغلاء كلمة الله وضعف شوكة اليهود.<br>٣- كان وقع النتيجة شديد على قريش لمقتل معظم زعمائها وكبار قادتها.<br>٢×نصف درجة = ١ ص ٤١ | ١- استشهد قادة المسلمين.<br>٢- رجوع الجيش بقيادة خالد بن الوليد.<br>٢×نصف درجة = ١ ص ٤٦ |

٣×درجة - ٣

ص ٤٣-٤٤

ب- اقرأ الفقرة التي أمامك ثم أجب عن الأسئلة التالية :

في العام السادس من الهجرة خرج الرسول ﷺ من المدينة متوجها إلى مكة المكرمة لأداء العمرة وخرج معه المهاجرون والأنصار, ولكن قريش اعترضت سبيلهم فلم يؤدي المسلمون العمرة وعقد الرسول ﷺ مع قريش صلح الحديبية.

١- اذكر أسباب بيعة الشجرة " الرضوان " :-

- أشيع أن عثمان بن عفان ﷺ قد قتل . ص ٣ درجة

٢- عقد الرسول ﷺ صلح الحديبية مع ممثل قريش واسمه سهيل بن عمرو . ص ٣ درجة

٢×نصف درجة = ١

ص ٤٤ ( يكتفي بنقطتين )

٣- عدد بنود صلح الحديبية :-

١- يرجع المسلمون هذا العام على أن يعودوا العام القادم لأداء العمرة بشرط أن تخلي قريش لهم مكة المكرمة مدة ثلاثة أيام.

٢- وضع هدنة بين الفريقين مدة عشر سنوات.

٣- من أراد الدخول في عقد قريش وعهدها فله ذلك, ومن أراد الدخول في عهد محمد ﷺ من غير قريش دخل فيه, فدخلت بكر في حلف قريش وخزاعة في حلف الرسول ﷺ.

٤- من أتى محمد ﷺ من قريش مسلما بدون إذن وليه يرد ولا ترد قريش من أتاها مرتدا من محمد ﷺ.



وزارة التربية  
الإدارة العامة لمنطقة الجهاد التعليمية للصف الحادي عشر / أدبي  
التوجيه الفني العام للاجتماعيات للعام الدراسي ( ٢٠١٣ - ٢٠١٤ م )  
المجال الدراسي : تاريخ إسلامي  
الزمن : ساعة كاملة  
عدد الأوراق : ( ٦ )

أجب عن جميع الأسئلة التالية :

السؤال الأول ( موضوعي ) يتكون من ( أ ، ب ، ج ، د )  
أ - أكمل العبارات التالية بما يناسبها :

١. الرجل الذي بشر الرسول صلى الله عليه وسلم بالنبوة يسمى ورقة بن نوفل ص ٢٦
  ٢. ملك الفرس الذي مزق كتاب الرسول له فمزق الله حكمة يسمى كسرى ص ٤٥
  ٣. الحرب التي شهدها الرسول - صلى الله عليه وسلم - قبل البعثة تسمى حرب الفجار ص ٢٤
  ٤. العام الهجري الذي فتح فيه الرسول - صلى الله عليه وسلم - مكة ٨ هـ ص ٤٦
  ٥. القبيلة التي أخرجها الرسول - صلى الله عليه وسلم - بعد غزوة بدر ٢ هـ تسمى بني قينقاع ص ٤١
- ب : صحح ما تحته خط في العبارات التالية :

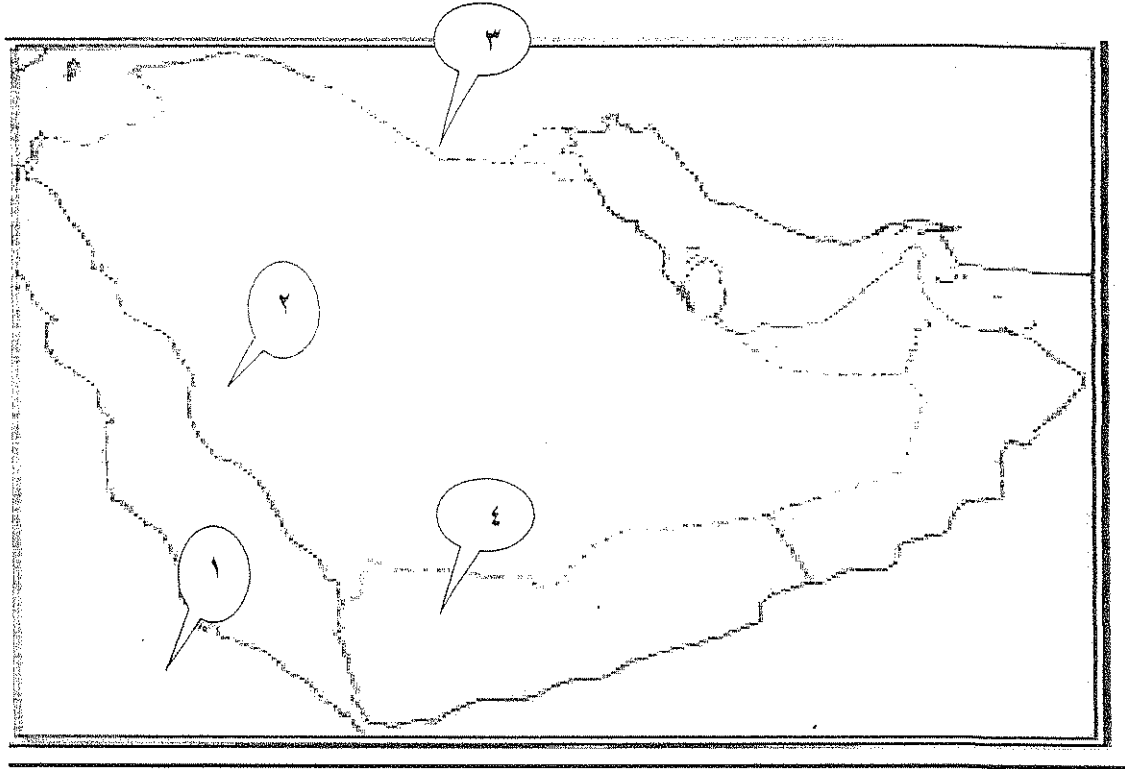
١. مجموعة الناس التي تربطهم رابطة القرابة والنسب والدم تسمى العرب المستعربة . ( القبيلة ) ص ١٥
  ٢. الجمع بين الأختين وزواج الابن من زوجة أبيه يسمى الخلع . زواج المقت ص ١٨
  ٣. جد الرسول صلى الله عليه وسلم الذي وحد قريش وأسس دار الندوة يسمى عبد مناف ( قصي بن كلاب ) ص ٢١
  ٤. عام ٦١٩ م الذي تعرض له الرسول - صلى الله عليه وسلم - لمحن وشدائد يسمى عام القيل ( الحزن ) ص ٣٠
  ٥. الغار الذي نزل فيه جبريل الوحي علي الرسول يسمى غار ثور . ( غار حراء ) ص ٢٦
- ج- صنف الأسباب والنتائج التالية حسب الأحداث التاريخية للجدول التالي : ص ٤٦ ( ٤ درجات )
- الأسباب : تصفية تجمعات اليهود في الجزيرة العربية - عدوان الغساسنة علي المسلمين وقتلهم رسول النبي  
النتائج : إنهاء قوة اليهود في شبه الجزيرة العربية - استشهاد قادة المسلمين ورجوع الجيش بقيادة خالد بن الوليد .

|   |   |         |
|---|---|---------|
| غزوة مؤتة ٨ هـ  | غزوة خيبر ٧ هـ                          |         |
| عدوان الغساسنة علي المسلمين وقتلهم رسول النبي             | تصفية تجمعات اليهود في الجزيرة العربية. | الأسباب |
| درجة  | درجة                                    |         |
| استشهاد قادة المسلمين ورجوع الجيش بقيادة خالد بن الوليد . | إنهاء قوة اليهود في شبه الجزيرة العربية | النتائج |
| درجة  | درجة                                    |         |

تابع / امتحان التاريخ الاسلامي / الفترة الدراسية الأولى / العام الدراسي ٢٠١٣ / ٢٠١٤ م  
تابع السؤال الأول ( موضوعي ) :-

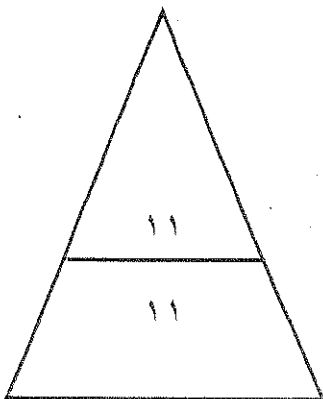
( نصف درجة لكل نقطة )

د- لاحظ الخريطة التي أمامك ثم نفذ المطلوب منك :



أولاً: اكتب مدلولات الأرقام التالية :

- منطقة هاجر إليها المسلمين هجرتهم الأولى يمثلها الرقم ( ١ ) ص ٢٩
- المعركة الأولى التي قادها الرسول الكريم يمثلها الرقم ( ٢ ) ص ٣٩
- منطقة انتشرت فيها الديانة المسيحية يمثلها الرقم ( ٣ ) ص ١٩
- منطقة سكنها قوم عاد يمثلها الرقم ( ٤ ) ص ١٣



( ٢ )

تابع / امتحان التاريخ الإسلامى / الفترة الدراسية الأولى / العام الدراسي ٢٠١٣ / ٢٠١٤ م  
السؤال الثاني : ( مقالى ) يتكون من ( أ ، ب ، ج )

أ. نفذ المطلوب منك بين الأقواس :

١. صلح الحديبية . ( درجة ونصف يكتفى ٣ نقاط ) ( البنود ) ص ٤٤

- يرجع المسلمين هذا العام ويعودوا العام القادم لأداء العمرة وأن تخلي قريش مكة لمدة ثلاثة أيام .  
- وضع هدنة بين الفريقين لمدة عشر سنوات .

- من أراد الدخول في عهد قريش فله ذلك ودخلت قبيلة بكر ومن أراد الدخول في عهد الرسول فله ذلك ودخلت قبيلة خزاعة في حلف الرسول .

- من أتى محمداً من قريش مسلماً بدون إذن ووليه يرد ولا ترد قريش من أتاهما من عند محمداً مرتداً .

٢. السرايا . ( درجة ونصف ويكتفى ٣ نقاط ) ( المهام ) ص ٣٧

- ضمان أمن المدينة ومراقبة الحدود / التعرض لقوافل قريش التجارية.

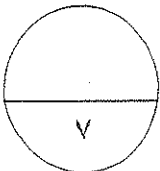
- الوقوف على تحركات قريش ضد الدولة الإسلامية / إشعار القبائل بهيبة الدولة وعقد معاهدات صداقة معها .

ب- قارن حسب الجدول التالي : ( درجتان ) ص ٣١

| المعيار       | بيعة العقبة الأولى            | بيعة العقبة الثانية                             |
|---------------|-------------------------------|---|
| العام         | ١٢ هـ / ٦٢١ م                 | ١٣ هـ / ٦٢٢ م                                   |
| بنود المبايعة | - مبايعة الرسول علي الإسلام . | - حماية الرسول والذود عنه ونشر الدين الإسلامي . |

ج. دلل على صحة العبارات التالية : (درجتان ويكتفى ؛ نقاط) ص ٢٠

- ١- تميزت شبه الجزيرة العربية بأنها بيئة قادرة على تقبل رسالة الإسلام .
- أن شبه الجزيرة العربية كانت خارج منطقة الصراع بين الفرس والروم ،
- أدرك العرب وجود الله ومع ذلك كانوا يعبدون الأصنام اعتقاداً منهم أنه يقربهم إليه .
- الموقع الجغرافي لشبه الجزيرة العربية في وسط العالم القديم سهل نشر الدعوة الإسلامية .
- وجود البيت الحرام بمكة مهد لها أن تكون مركزاً دينياً كبيراً .
- لغة العرب وما تمتاز به من خصائص يجدر بها أن تكون لغة المسلمين .
- صفاء الفكر فلم يتأثر بمعتقدات اليهود أو النصارى أو فلسفة اليونان .





تابع / امتحان التاريخ الإسلامي / الفترة الدراسية الأولى / العام الدراسي ٢٠١٣/٢٠١٤ م  
السؤال الثالث : ( مقال ) يتكون من ( أ ، ب ، ج )

أ. علل ما يلي :

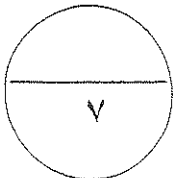
١. معارضة قريش للدعوة الإسلامية . ( درجة ونصف يكتفي ٣ نقاط ) ص ٢٨  
- أن قريش لم تفرق بين النبوة والسيادة وظنت أن التسليم بدين محمد معناه التسليم له بالزعامة ولبنى عبد المطلب بالسيادة .  
- أن الرسول كان يدعو إلى المساواة بين الناس وهي أساس المجتمع الإسلامي وقريش لا تريد ذلك .  
- التمسك بعادات وتقاليد الإباء والأجداد .  
- الخوف من فقدانهم للثروة والجاه اللذين كانوا يتمتعون بهما ويعدونهما حقاً لهم وذلك بسبب خدمتهم للأصنام ورعايتهم للحجاج .
٢. هزيمة المسلمين في غزوة أحد . ( درجة ونصف ) ص ٤٢  
- انشغال المسلمين بجمع الغنائم / نزول الرماة من مواقعهم أعلى جبل أحد / انكشف ظهر المسلمين فاستغل قائد خيالة قريش خالد بن الوليد ذلك وحقق النصر نهاية المعركة .

ب. قارن بين كل مما يلي حسب الجدول التالي : درجتان ص ٣٩

| المشركين  | المسلمين   | غزوة بدر |
|---|--|----------|
| أبو جهل   | الرسول   | القائد   |
| نصف درجة  | نصف درجة   |          |
| - القضاء علي الدولة الجديدة والدين الجديد .<br>- المحافظة علي تجارتها (الطريق التجاري إلي الشام )<br>نصف درجة | - المحافظة علي سيادة الدولة وحماية حدودها .<br>- الرغبة في استرجاع أموالهم التي استولت قريش عليها في مكة .<br>نصف درجة | الأسباب  |

ج. عرف ما يلي :

١. حلف الفضول : حلف بين بطون قريش شهده الرسول -صلي الله عليه وسلم - قبل البعثة في دار عبد الله بن جدعان . ص ١٥ ( درجة )
٢. طبقة الموالي : هم عرب انضموا إلي القبيلة أما عن طريق الجوار أو الحلف أو العتق ولهم حقوق الأحرار فيما عدا الرئاسة . ص ١٨ ( درجة )



تابع / امتحان التاريخ الإسلامى / الفترة الدراسية الأولى / العام الدراسى ٢٠١٣ / ٢٠١٤ م  
السؤال الرابع : ( مقالى ) يتكون من ( أ ، ب ، ج )

أ. اكتب فقرة فى حدود أربعة أسطر مستعينا بالكلمات التالية . ( ٢ درجات )  
" سرية نخلة - الدولة الإسلامية - الشهر الحرام - قوافل تجارية "

كلف الرسول الصحابي عبد الله بن جحش لقيادة سرية نخلة لاستطلاع أخبار قريش وتحركاتها ضد الدولة الإسلامية وقد تعرضت السرية لفاولة قريش التجارية وقتلت أحدهم وأسرت اثنين من المشركين وقدموا بهم إلى المدينة المنورة فقال لهم الرسول : ما أمرتكم بالقتال في الشهر الحرام وانتهم المشركين هذه الحادثة لإثارة القبائل العربية على المسلمين وحكومة الرسول - صلى الله عليه وسلم - في المدينة المنورة .

أى فقرة يراها المصحح مناسبة

ب. نفذ المطلوب منك بين الأقواس : (درجة ونصف يكتفى ٣ نقاط )

١. الصحيفة التي أقرها الرسول في المدينة المنورة . ص ٣٦ ( البنود )

- أن للجماعة شخصية دينية وسياسية ومن حق الجماعة أن تعاقب المفسد و أن تؤمن المطيع .

- أن الحرية الدينية مكفولة للجميع .

- إن على سكان المدينة من المسلمين وغيرهم أن يتعاونوا ماديا ومعنويا وعليهم أن يردوا متساندين أي اعتداء على مدينتهم .

- إن النبي هو الرئيس العام لسكان المدينة تعرض عليه القضايا الكبرى وصور الخلاف الضخمة ليفصل فيها .

٢. مقاومة قريش للدعوة الإسلامية . ص ٣٠ / ٢٩ / ٢٨ (الأساليب )

- اللامبالاة وعدم الاهتمام بأمر الدعوة في بدايتها ظننا منهم بأنها ليست سوى حركة تختفى بعد حين .

- تعذيب وحرمان العبيد والضعفاء مثل آل ياسر وبلال لذلك أمر الرسول بالهجرة إلى الحبشة .

- بعثت قريش وفدا إلى أبو طالب عم الرسول يطلب منه أن يكف محمد عن عيب أصنامهم وعبادتهم .

- عرضت قريش الجاه والمال على النبي مقابل أن يتوقف عن الدعوة فرفض .

- أسلوب الجدل والاستهزاء .

- مقاطعة بني هاشم اقتصاديا واجتماعيا في شعب أبي طالب وعانى بنو هاشم منها وتم إنهائها من

عقلاء قريش بعد ثلاث سنوات .

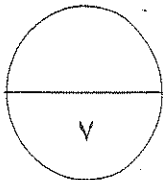
ج- دلل على صدق العبارة التالية : ( درجتان ) ص ٣٥ يكتفى بنقطتين

ضرب الأنصار أروع الأمثلة في الإيثار لإخوانهم المهاجرين في المدينة المنورة .

- استجاب الأنصار لأمر الله وتقاسموا مع المهاجرين أموالهم وبيوتهم وزوجاتهم .

- أصبحت المواخاة في الإسلام مثل المواخاة في النسب حتى في الميراث .

- نظام التوارث بعد غزوة بدر كان له الأثر في زيادة التالف بين المهاجرين والأنصار .



السؤال الخامس : ( مقال ) يتكون من ( أ ، ب ، ج )

أ. اقرأ الآية الكريمة ثم أجب عما يليها: ( ثلاث درجات ) ص ٤٣  
" بسم الله الرحمن الرحيم : لقد رضي الله عن المؤمنين إذ يبايعونك تحت الشجرة فعلم ما في قلوبهم فأنزل السكينة عليهم وأثابهم فتحا قريبا " صدق الله العظيم سورة الفتح  
١. ما أسم البيعة التي أشارت لها الآية الكريمة ؟ درجة  
- بيعة الرضوان .

٢. من هو الصحابي الذي أرسله الرسول لمفاوضة قريش ؟ درجة  
- الصحابي الجليل عثمان بن عفان .

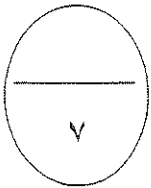
٣- اكتب الظروف التي أدت إلى تلك البيعة . درجة  
في العام السادس من الهجرة خرج الرسول -صلى الله عليه وسلم- من المدينة متوجها إلى مكة المكرمة لأداء العمرة ومعه الأنصار والمهاجرين وسافوا معهم الهدي ولكن قريش اعترضت سبيلهم فوقف الرسول في الحديبية وهم بلباس الإحرام وأرسل لهم عثمان بن عفان لمفاوضتهم ولكن عثمان تأخر وأشيع انه قتل فقام المسلمون بمبايعة الرسول علي رد أذي قريش وسميت هذه البيعة ببيعة الرضوان أ بيعة الشجرة .

ب. علل لما يلي :

١. أرادت حكمة الله أن ينشأ الرسول يتيما . (درجتان ) ص ٢٢ يكتفي بنقطتين  
- تتولاه عناية الله بعيدا عن الذراع التي تمعن في تدليله .  
- المال الذي يزيد في تنعيمه حتى لا تميل به نفسه إلى المال والجاه .  
- لا تتأثر بما خوله من معنى الصدارة والزعامة فتلتبس علي الناس قداسة النبوة بجاه الدنيا .  
- حتى لا يحسبوه يصطنع الأول ابتغاء الوصول إلي الثاني .

ج . دلل علي صحة العبارة التالية : ( درجتان ) ص ٤٥ يكتفي بنقطتين

١. يعتبر صلح الحديبية نصرا عظيما للرسول ودعوته .  
- اعتراف صريح من قريش بالدعوة الإسلامية .  
- تفرغ المسلمون لوضع حد لخطر اليهود الذين تجمعوا في خيبر .  
- دخل كثير من أبطال قريش في الإسلام .  
- تفرغ الرسول -صلى الله عليه وسلم- لنشر الدعوة الإسلامية فأرسل الرسل والوفود إلي الملوك والأمراء لدعوتهم إلي الإسلام .



انتهت الأسئلة ،،،

أجب عن جميع الأسئلة التالية

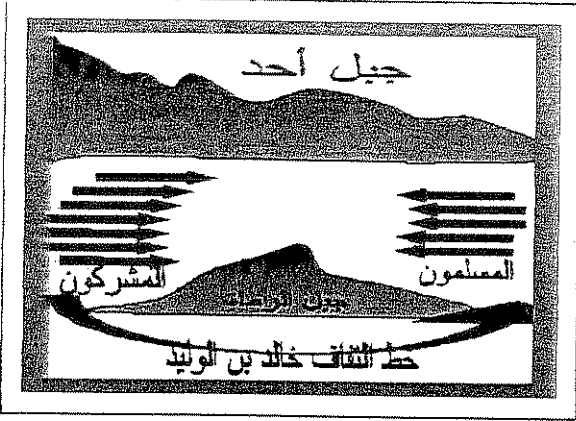
( درجتان لكل نصف )

السؤال الأول : ويتكون من أولاً وثانياً وثالثاً ورابعاً وخامساً

أولاً : اختر البديل المناسب من بين البدائل التالية لكل عبارة مما يأتي :

١- قائد المشركين في الغزوة التي

تشير إليها الصورة المقابلة هو :- ص ٤٢



• سهيل بن عمرو .

• الوليد بن المغيرة

• أبو سفيان بن حرب

• أمية بن خلف

٢- الآية الكريمة المشار إليها في الصورة المقابلة


تمثل حدثاً هاماً في تاريخ الإسلام هو: ص ٣٣

• البعثة النبوية

• الهجرة الشريفة

• حلف الفضول

• صلح الحديبية



٣- أشهر القبائل العربية التي سكنت الطائف قبل الإسلام في المربع المقابل تحمل الرقم

ص ٣٠


| القبيلة | الرقم |
|---------|-------|
| بكر     | ١     |
| هوازن   | ٢     |
| تميم    | ٣     |
| ثقيف    | ٤     |

أ- ( ٢ ، ١ )

ب- ( ٣ ، ١ )

ج- ( ٤ ، ٢ )

د- ( ٤ ، ٣ )



٤- الصورة المقابلة تشير إلى

أحد حضارات العرب القديمة هي :

- معين

- سبأ

- حمير

- مدين

ص ١٥

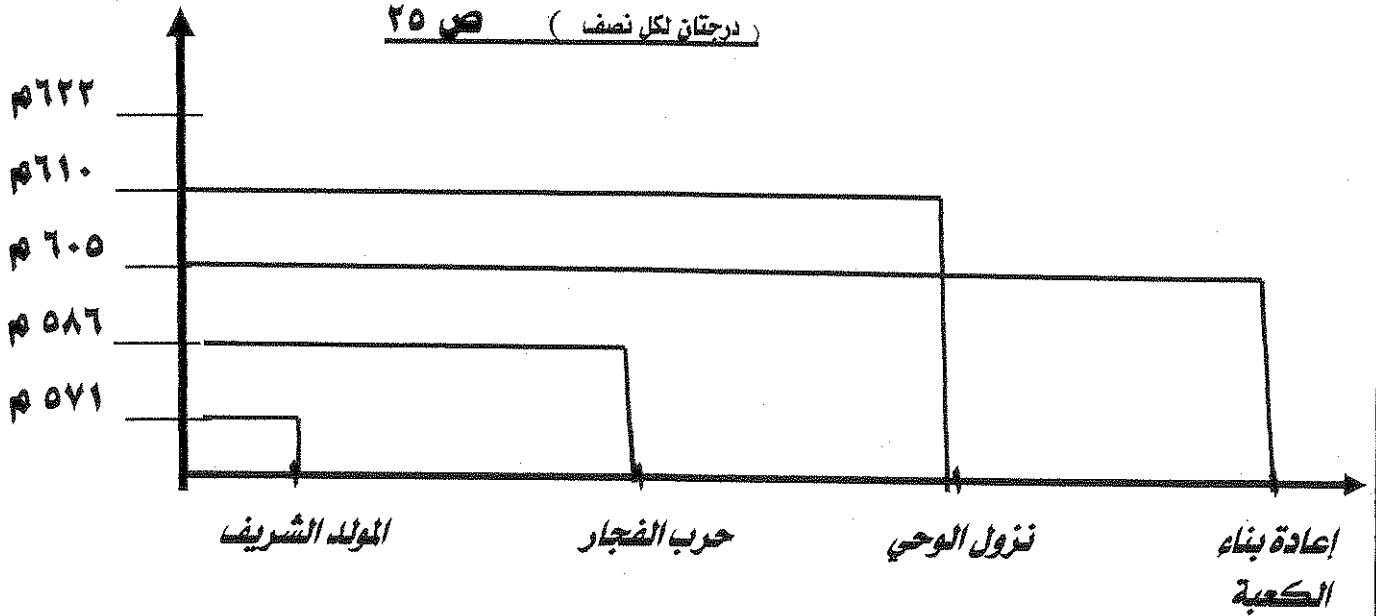
(درجتان لكل نصف )

**ثانياً: اكتب المدلول المناسب لكل مما يأتي :**

- ١- (..براءة.. ) هو بيان أصدره النبي ﷺ لانذار المشركين في موسم الحج ص ٤٦.
- ٢- (..العرب البائدة..) اصطلاح أطلق على الأقبام التي عاشت ثم انقرضت مثل (عاد وثمود) ص ١٢
- ٣- (..الجاهلية..) صفة أطلقها القرآن الكريم على الوثنيين من العرب قبل الإسلام.. ص ١٨
- ٤- (..طبقته الموالي..) " عرب انضموا الي القبيلة عن طريق الحلف او الجوار والعنق لهم حقوق الصرحاء عدا حق الرئاسة " ص ١٧

**ثالثاً : من خلال الرسم البياني صل العمود الأفقي بما يناسب من العمود الرأسي**

(درجتان لكل نصف ) ص ٢٥



(درجتان لكل نصف )

رابعاً:

**س أكمل الفراغات المطلوبة في الشكل التالي بذكر القائل والمناسبة :**

|   |   |
|---|---|
| <p>ارجع به الي بلده و احذر<br/>عليه من اليهود فانه<br/>سكون له شأن عظيم</p>   | <p>لقد امانك وصدقناك<br/>فو الذي بعثك بالحق لو<br/>استعرضت بنا هذا البحر<br/>فخضته لخضناه معك</p>                     |
| <p>المناسبة<br/>ص ٢٣</p> <p>عندما راي الرسول صلي الله عليه وسلم وهو<br/>في رحلة تجارة الي<br/>الشام مع عمه ابو طالب .</p> | <p>المناسبة<br/>ص ٣٩</p> <p>عندما عقد الرسول صلي الله<br/>عليه وسلم مجلسا<br/>استشاريا للاستعداد لغزوة بدر الكبرى</p> |
| <p>القائل<br/>جيرا الراهب</p>   | <p>القائل<br/>سعد بن معاذ</p>   |

خامسا : لاحظ خريطة شبه الجزيرة العربية الصماء التي أمامك ثم نفذ ما هو مطلوب :

ا- اكتب الرقم المناسب لكل عبارة مما يلي في الدائرة المناسبة على الخريطة التي أمامك :

( ثلاث درجات لكل نصف ) -

ص ٤٦

ص ١٩

ص ١٧

ص ٢٣

ص ٣٢

ص ٢٩

١ آخر فترات الرسول ﷺ

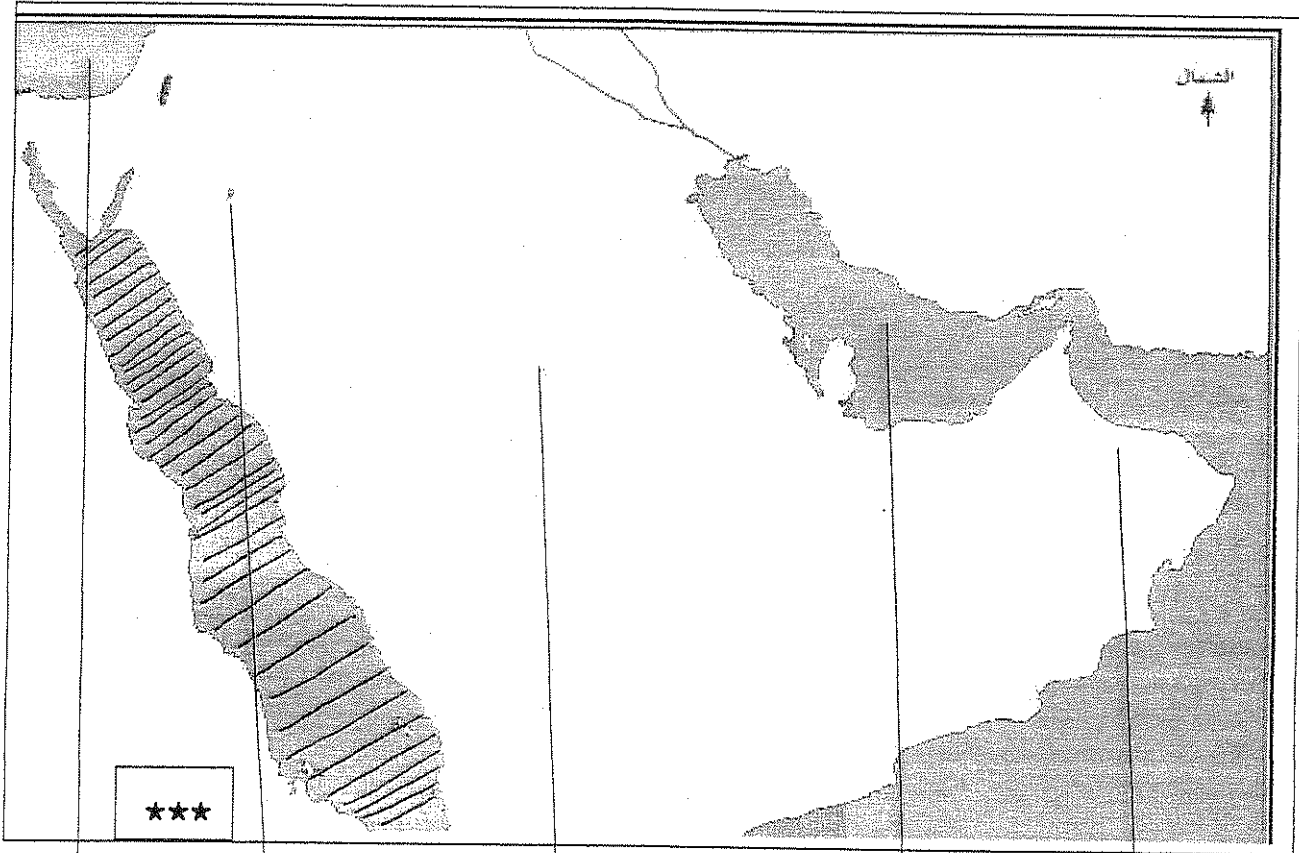
٢ موطن حضارة مجان

٣ هضبة نجد

٤ الخليج العربي

ب- ظلل بحر القلزم

ج- ضع علامة \*\*\* على أول أرض هاجر إليها المسلمون



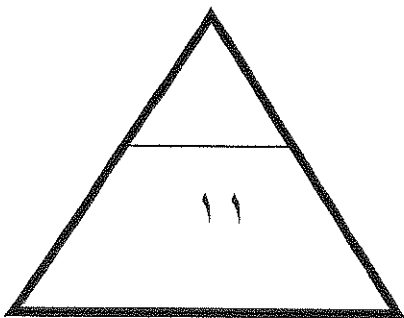
١

٢

٣

٤

٥



## السؤال الثاني ( يتكون من (أولاً ، ثانياً وثالثاً) )

( أولاً ) (( مهما تجرأ العقادون سوف يظل النبي المختار محمد ﷺ هو الرحمة المهداة للبشرية كلها ، والسيرة النبوية العطرة تشهد بالكثير من المواقف الإنسانية. ولنا في صلح الحديبية الكثير من العبر والعظات . فقد روى الإمام أحمد أن النبي - صلى الله عليه وسلم - بعد بيعة الشجرة بدأ يفلى شروط الصلح، و علي بن أبي طالب - رضي الله عنه - يكتب، فأمله النبي - ﷺ - : (بسم الله الرحمن الرحيم، فقال سهيل : أما الرحمن فوالله لا تدري ما هو ولكن اكتب باسمك اللهم، فأمر رسول الله - ﷺ - علياً فكتبها كذلك، ثم أملى - صلى الله عليه وسلم - : هذا ما صالح عليه محمد رسول الله، فقال سهيل : لو تعلم أنك رسول الله ما صددناك عن البيت، ولا قاتلتناك، ولكن اكتب محمد بن عبد الله، فوافق رسول الله - صلى الله عليه وسلم - وقال: والله ، اني لرسول الله وان كذبتوني، اكتب محمد بن عبد الله). وبينما هم كذلك إذ دخل عليهم أبو جندل بن سهيل بن عمرو في قيوده وألقى بنفسه بين المسلمين، فقال سهيل : هذا يا محمد أول من أفاضيك عليه أن ترده الي، فأعاده النبي - ﷺ - للمشركين، فقال أبو جندل : يا معشر المسلمين أزد إلى المشركين يفتنونني في ديني، فقال له النبي - ﷺ - : (انا عقدنا بيننا وبين القوم عهدا، وانا لا نغدر بهم )، ثم طمأنه النبي - صلى الله عليه وسلم - قائلا: (يا أبا جندل اصبر واحتسب، فإن الله جاعل لك ولئن معك فرجا ومخرجا)

من خلال الفقرة السابقة أجب عما يأتي :

### نصف درجة

١- اقترح عنوانا للنص ..... أي عنوان يراه المصحح مناسباً.....:

### نصف درجة

٢- علل رفض النبي - ﷺ - وجود أبو جندل بين صفوف المسلمين

قال انا عقدنا بيننا وبين القوم عهدا، وانا لا نغدر بهم)..... أو .. بسبب الشرط الثالث من شروط الصلح.....

### ٣- اكتب بنود صلح الحديبية

ص ٤٤

- ١) يرجع المسلمون هذا العام ويعودوا العام القادم لاداء العمرة
- ٢) وضع هدنة لمدة ١٠ سنوات بين الفريقين
- ٣) من اراد الدخول في عقد قريش له ذلك ومن اراد الدخول في عقد محمد صلى الله عليه وسلم له ذلك .
- ٤) من اتى محمد مسلما دون اذن وليه يرده ولا ترد قريش من اتاها من عند محمد صلى الله عليه وسلم

### ٤- علل أهمية صلح الحديبية

ص ٤٥

١- اعتراف صريح من قريش بالدولة الاسلامية .

٢- دخول ابطال قريش الاسلام - خالد بن الوليد - عمرو بن العاص

٣- تفرغ الرسول صلى الله عليه وسلم لخطر اليهود في خيبر .

٤- التفرغ لنشر الدعوة و ارسال الرسل للملوك و الامراء

(٥) عرف ما تحته خط :

ص ٤٣

درجة واحدة

بيعة الشجرة : البيعة التي بايعها المسلمون لرسول ﷺ قبل صلح الحديبية مباشرة عام ٦ هـ

ص ٢٠

### ( ثانياً ) دال على صدق العبارة

١- كانت شه الجزيرة العربية سبباً قادراً لتقبل رسالة الاسلام ؟ درجتان ( يكتفى بنقطتين)

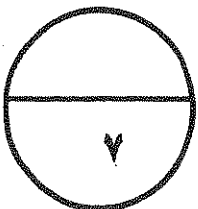
- أ- أنها خارج منطقة الصراع بين الفرس و الروم .
- ب - الموقع الجغرافي وسط العالم .
- ج - وجود البيت الحرام بمكة .
- د - صفاء الفكر .
- هـ - لغة العرب وما تمتاز به من خصائص

٢- تبوأ المرأة في النظام الملكي قبل الاسلام مكانة مرتفعة

ص ١٨

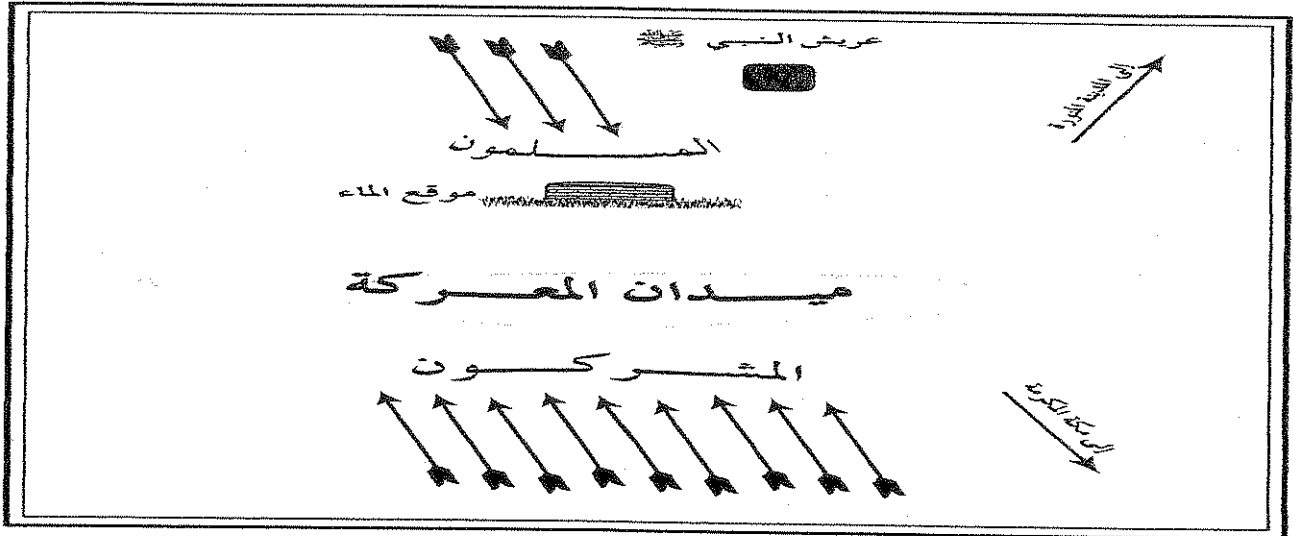
درجة واحدة

تبوأ مركز الرئاسة مثل بلقيس ملكة سبأ



السؤال الثالث ويتكون من أولاً وثانياً وثالثاً

( أ ) " انظر جيداً إلى الصورة المقابلة ثم اجب عن الاسئلة التالية



١ - ما اسم الغزوة المشار إليها في الشكل ؟ ص ٣٩ ( — غزوة بدر الكبرى — )  
درجة واحدة

| أسباب الغزوة بالنسبة للمسلمين | أسباب الغزوة بالنسبة للمشركين  |
|-------------------------------|--------------------------------|
| ١- المحافظة علي سيادة الدولة  | ١- القضاء علي الدولة الجديدة . |
| ٢- الرغبة في استرجاع اموالهم  | ٢- المحافظة علي تجارتها        |

درجتان لكل درجة

٢ - ما الفرق بين :  
ص ٣٩

( ب ) فند العبارات التالية :

درجتان لكل درجة

١- ادعاء المستشرقين بأن شخصية الرسول صلى الله عليه وآله وسلم لم تكن صالحة لقيادة الأمة الإسلامية ( ص ٣٦

- \* استقرار المجتمع من خلال وضع الصحيفة . \* المساهمة في بناء المسجد . \* بناء الجلمة الداخلية  
\* اجتثاث جذور الفرقة و البغضاء . \* المقررة في التنظيم

( ٢ ) كانت الأسواق في شبه الجزيرة العربية قبل الاسلام للتجارة فقط

ص ١٩

هذه العبارة خاطئة

حيث كانت الأسواق خير مكان يعرض فيه الشعر والخطابة مثل سوق مجنة وذي المجاز وعكاظ

( ج ) اكتب مذكرة تاريخية عن :

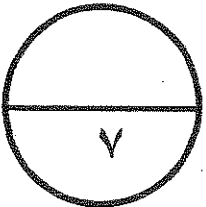
أهم بنود الصحيفة التي وضعها النبي صلى الله عليه وآله وسلم في المدينة المنورة : درجتان ( يكتفى  
بنقطتين )

١ - --- للجماعة شخصية دينية و سياسية ---

٢ - --- الحرية الدينية مكفولة للجميع . ---

٣ - --- علي سكان المدينة ان يتعاونوا لرد أي اعتداء عليها

٤ - --- الرسول صلى الله عليه وسلم هو الرئيس العام لسكان المدينة





تابع الفترة الأولى للصف الحادي عشر (أدبي) النظام الموحد للعام الدراسي ٢٠١٢/ ٢٠١٣ م) ص ٥

### السؤال الرابع يتكون من (أولاً ، ثانياً ، ثالثاً ورابعاً)

أولاً) ينقسم العرب الباقية إلى قسمين رئيسيين في ضوء ذلك

ص ١٣

درجتان لكل درجتان

### ما الفرق بين

| العرب المستعربة                                  | العرب العاربة                                     |
|--|---|
| بنو معد بن عدنان وسكنوا شمال شبه الجزيرة العربية | بنو يعرب بن قحطان وسكنوا جنوب شبه الجزيرة العربية |

ثانياً) اكتب فيما يلي

ص ٣٧ \_ درجة واحدة (يكتفى بنقطتين) لكل نصف

أ) أهم مهام السرايا

- ١) ضمان امن المدينة
- ٢) منع قريش من المرور في أراضي المسلمين
- ٣) الوقوف على تحركات قريش
- ٤) اشعار القبائل بهيبة الدولة الاسلامية

ب) نتائج رحلتي الشتاء والصيف على مكانة قريش ص ١٦ درجة واحدة لكل نصف

١ = زاد مكاتها بين العرب

٢ = وفرتها ثروة اقتصادية

ثالثاً) (( تنوعت أسباب معارضة قريش للدعوة الاسلامية واتبعت كثير من الأسباب لمواجهتها بكل حزم

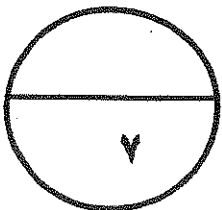
في ضوء هذه العبارة قارن بين : درجتان لكل درجتان

| أسباب معارضة قريش للدعوة الاسلامية   | أسباب معارضة قريش للدعوة الاسلامية  |
|--|---|
| ص ٢٩ درجة واحدة (يكتفى بنقطتين) لكل نصف  | ص ٢٨ درجة واحدة (يكتفى بنقطتين) لكل نصف   |
| <ul style="list-style-type: none"><li>- اللامبالاة وعدم الاهتمام .</li><li>- تعذيب وحرمان العبيد والضعفاء مثل ال ياسر .</li><li>- بعثت قريش وفداً الى عمه يطلب منه أن يكف ابن عمه عن عيب اصنامهم</li><li>- اسلوب الجدل والاستهزاء .</li><li>- عرضت الجاه والمال مقابل التوقف عن الدعوة .</li><li>- مقاطعة بني هاشم اقتصادياً</li></ul> | <ul style="list-style-type: none"><li>* قريش لم تفرق بين النبوة والسيادة .</li><li>* رفضهم للمساواة مع العبيد</li><li>* التمسك بعادات وتقاليد الاء والجداد .</li><li>* الخوف من فقدان الثروة والجاه</li></ul> |

رابعاً : برهن على صحة العبارة التالية : ص ٣٥ \_ درجة واحدة لكل نصف

(ضرب الأنصار أروع الأمثلة في التضحية والإيثار في تنشئة الدولة الاسلامية)

- استجابوا لأمر الله وتقاسموا اموالهم وبيوتهم وحتى زوجاتهم .
- أصبحت المؤاخاة في الاسلام مثل المؤاخاة في النسب .



مع أطيب التمنيات لكم بالنجاح والتوفيق ،،،

**السؤال الأول : ويتكون من ( أ-ب-ج ) لكل نقطة نصف درجة  
( أ ) أكمل العبارات التالية بما يناسبها :-**

١- آخر غزوات النبي صلى الله عليه وسلم عام ٩ هجري تسمى غزوة تبوك ص ٤٦

٢- مرضعة الرسول صلى الله عليه وسلم تسمى حليلة السعدية ص ٢٢

٣- صاحب فكرة حفر الخندق صحابي يسمى سلمان الفارسي ص ٤٣

٤- أول عمل قام به النبي صلى الله عليه وسلم بعد هجرته الى يثرب بناء المسجد ص ٣٤

( ب ) اختر البديل المناسب من البدائل التالية تلى كل عبارة مما يلي :-

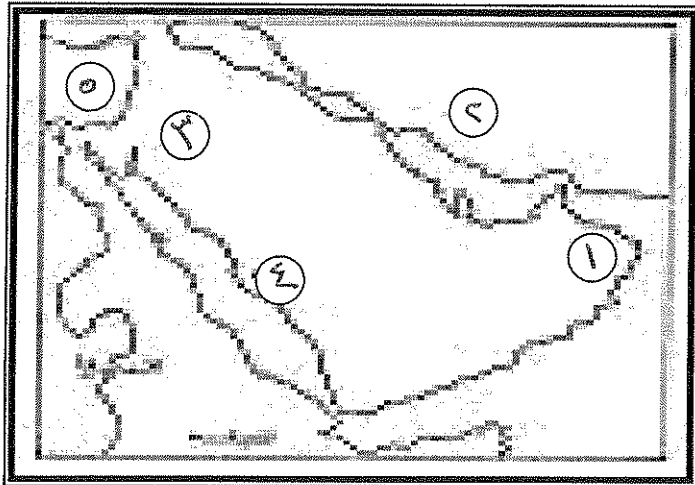
١- أنجب النبي صلى الله عليه وسلم جميع أبنائه من السيدة خديجة ما عدا : ص ٢٣  
أ- إبراهيم ب- القاسم ج- عبدالله د- فاطمة

٢- قبيلتين عربيتين سكنوا مدينة الطائف : ص ٣٠  
أ- خزاعة وبكر ب- قريش وأسد ج- الأوس والخزرج د- هوازن وثقيف

٣- آخر الحروب بين قبيلتي الأوس والخزرج قبل الإسلام : ص ٣٥  
أ- الفجار ب- بعاث ج- الخندق د- أحد

٤- الملك الذي مزق كتاب النبي صلى الله عليه وسلم : ص ٤٥  
أ- النجاشي ملك الحبشة ب- المقوقس حاكم مصر ج- كسرى ملك الفرس د- هرقل ملك الروم

( ج ) ادرس خريطة شبة الجزيرة العربية التي أمامك ثم اجب عما يليها :-



١- جبال الحجاز تحمل الرقم ( ٤ ) ص ١٤

٢- بلاد فارس تحمل الرقم ( ٢ ) ص ١٣

٣- بحر الروم يحمل الرقم ( ٥ ) ص ٢٣

٤- غزوة مؤتة تحمل الرقم ( ٣ ) ص ٣٨

## السؤال الثاني : يتكون من (أ-ب)

(أ) اكتب المفهوم التاريخي الذى تدل عليه العبارات التالية : لكل نقطة نصف درجة

- ١- ( العبيد ) ادنى طبقات المجتمع عليهم كل الواجبات وليس لهم حقوق القبيلة ص ١٨
- ٢- ( حرب الفجار ) حرب شارك فيها النبي صلى الله عليه وسلم وعمره ١٥ عاما ص ٢٤
- ٣- ( دار الندوة ) المكان الذى عقدت فيه قريش مجلسا للتفكير فى القضاء على النبي صلى الله عليه وسلم ودعوته ص ٣٢
- ٤- ( المعلقات ) قصائد مميزة ومفضلة عند العرب علفت على جدران الكعبة ص ١٩

(ب) علل تاريخيا لما يلى : - لكل نقطة درجة

١- نزول القرآن باللغة العربية ص ٢٠

١- فهى لغة قريش التى يتحدثونها

٢- متحديا العرب فى مجالهم الذى برعوا فيه

٢- اختيار النبي صلى الله عليه وسلم الحبشة لهجرة أصحابه

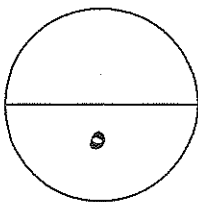
١- بعدها عن مكة

٢- لان بها ملك عادل

٣- يعرف العام العاشر للبعثة النبوية بعام الحزن ص ٣٠

١- وفاة السيدة خديجة

٢- وفاة أبو طالب



## السؤال الثالث : ويتكون من ( أ - ب )

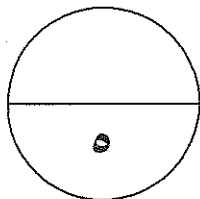
( أ ) فرق بين الطبقتين التاليتين من حيث التعريف والحقوق والواجبات :- ص ١٨ درجتان

| طبقة الموالى  | طبقة العرب الصرحاء   |
|---|--|
| هم عرب انضموا الى القبيلة إما عن طريق الجوار أو الحلف أو العتق ولهم حقوق العرب الصرحاء فيما عدا الرئاسة | هم أبناء القبيلة يجمعهم نسب واحد ولهم كثير من الحقوق وعليهم واجبات من أهمها الدفاع عن القبيلة وحمايتها |

( ب ) ١- تميزت شبة الجزيرة العربية بمميزات هيأتها لتكون بيئة قادرة على تقبل رسالة الإسلام أذكرها ؟ ص ٢٠ لكل نقطة درجة

- ١- خارج منطقة الصراع بين الفرس والروم
  - ٢- إدراك العرب وجود الله
  - ٣- الموقع الجغرافي
  - ٤- وجود البيت الحرام
  - ٥- لغة العرب وما تمتاز به من خصائص
  - ٦- صفاء الفكر العربى
- ٢- ما تفسيرك للأحداث التاريخية التالية :-

- ١- إرسال النبي صلى الله عليه وسلم للصحابي مصعب بن عمير الى يثرب بعد بيعة العقبة الأولى ص ٣١
  - أ- ليعلمهم أمور دينهم
  - ب- يدعوا أهل يثرب الى الإسلام
- ٢- غزوة خيبر عام ٧ هجرية ص ٤٦  
تصفية تجمعات اليهود فى خيبر



ملاحظة : جميع الأسئلة الموضوعية و المقالية إجبارية

السؤال الأول ( موضوعي ) و يتكون من ( أ - ب - ج ) :

( أ ) اختر البديل المناسب من بين البدائل التي تلي كل عبارة : ( ٤ درجات )

١- الرقم الذي يمثل على الخريطة سكن قوم عاد :

( أ ) ١ (ب) ٢

( ج ) ٣ (د) ٤

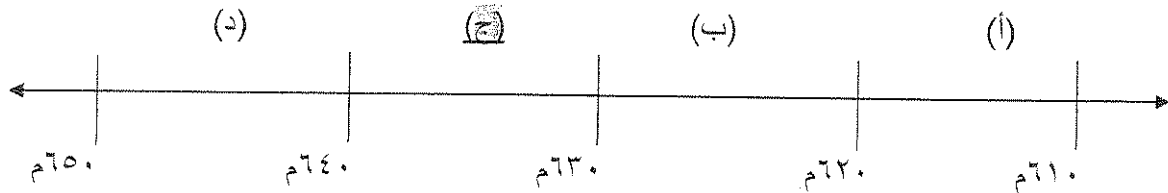
٢- الصحابي الذي ارسله الرسول عليه الصلاة و السلام بعد بيعة العقبة الأولى إلى يثرب ليعلم الناس دينهم هو

(أ) بلال الحبشي (ب) العباس بن عبدالمطلب (ج) أبو بكر الصديق (د) مصعب بن عمير

٣- الترتيب الصحيح زمنيا من الأقدم إلى الأحدث لحياة الرسول الكريم قبل البعثة يمثلته الحرف :

| (د)  | (ج)  | (ب)  | (أ)  |
|--|--|--|--|
| ١- نزول الوحي<br>٢- حرب الفجار<br>٣- زواجه من السيدة خديجة | ١- حرب الفجار<br>٢- زواجه من السيدة خديجة<br>٣- نزول الوحي | ١- زواجه من السيدة خديجة<br>٢- نزول الوحي<br>٣- حرب الفجار | ١- حرب الفجار<br>٢- نزول الوحي<br>٣- زواجه من السيدة خديجة |

٤- الفترة الزمنية التي تمثل مرض و وفاة الرسول عليه الصلاة والسلام يمثلها على المخطط الزمني الحرف :

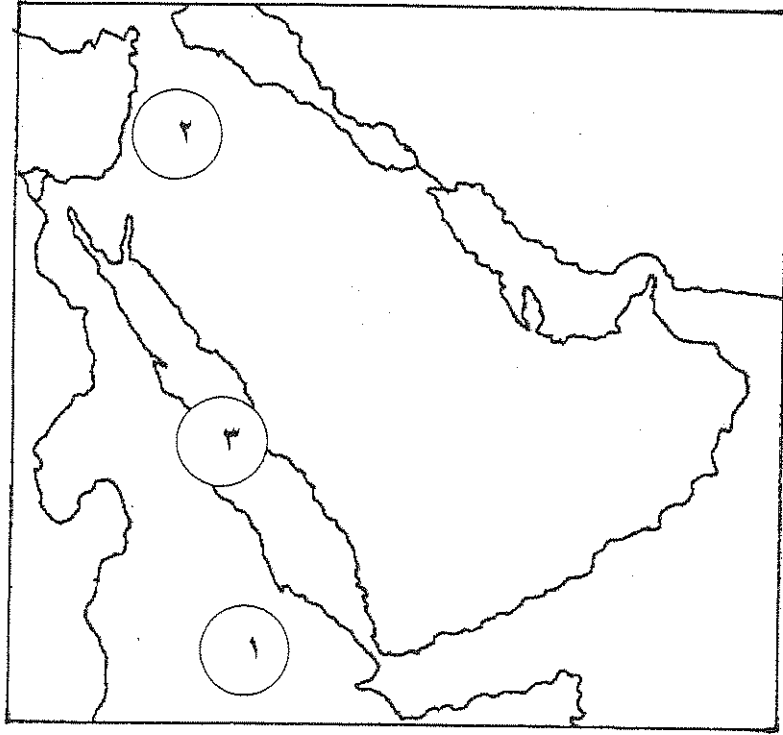


( ب ) صنف الأعمال التالية لأصحابها كما هو موضح بالجدول : ( ٤ درجات )

نام في فراش الرسول عليه الصلاة و السلام - قائد سرية نخلة - وحد قريش و أسس دار الندوة  
- أول من سن رحلتي الشتاء والصيف

| علي بن أبي طالب                         | عبدالله بن جحش | قصي بن كلاب               | هاشم بن عبد مناف               |
|---|----------------|---------------------------|--------------------------------|
| نام في فراش الرسول عليه الصلاة و السلام | قائد سرية نخلة | وحد قريش و أسس دار الندوة | أول من سن رحلتي الشتاء و الصيف |

( ج ) أمامك خريطة لشبه الجزيرة العربية حدد عليها المطلوب : ( ٣ درجات )



(١) المنطقة التي اتجه اليها المسلمون في هجرتهم الاولى .

(٢) المنطقة التي التقى بها الرسول ﷺ وعنه بالراهب بحيرا .

(٣) بحر القلزم .

١١

٢

السؤال الثاني : و يتكون من ( أ - ب - ج - د ) :

( أ ) برهن تاريخيا على صحة العبارات التالية : ( ٣ درجات )

(١) تميزت شبه الجزيرة العربية بمميزات هيأتها لتكون بيئة قادرة على تقبل الإسلام ؟ (ص ٢٠)

- ١- كانت خارج منطقة الصراع بين الفرس و الروم
- ٢- صفاء الفكر لدى العرب فلم يتأثروا باليهود و النصارى و فلاسفة اليونان .
- ٣- أدرك العرب وجود الله ومع هذا كانوا يعبدون الأصنام تقربا إلى الله .
- ٤- الموقع الجغرافي لشبه الجزيرة العربية وسط العالم القديم .
- ٥- وجود البيت الحرام بمكة مهد لها أن تكون مركزا دينيا كبيرا لها
- ٦- لغة العرب و ما تمتاز به من خصائص يجدر بها أن تكون لغة المسلمين .

( ٢ ) حقق المسلمون مكاسب عديدة من صلح الحديبية ؟ (ص ٤٥)

- ١- اعتراف صريح من قريش بالدولة الإسلامية ٢- وضع حد لخطر اليهود الذين تجمعوا في خيبر .
- ٣- كثير من أبطال قريش أعلنوا إسلامهم مثل خالد بن الوليد و عمرو بن العاص .
- ٤- تفرغ الرسول لنشر الدعوة فأرسل الرسل و الوفود إلى الملوك و الأمراء لدعوتهم إلى الإسلام .

( ب ) فرق بين طبقة الصرحاء و طبقة الموالي ؟ (ص ١٨) (درجتان)

| طبقة الصرحاء   | طبقة الموالي   |
|--|--|
| أبناء القبيلة يجمعهم نسب واحد و لهم كثير من الحقوق و عليهم واجبات أهمها حماية القبيلة و الدفاع عنها وله الحق في الوصول إلى منصب الرئاسة. | عرب انضموا إلى القبيلة إما عن طريق الجوار أو الحلف أو العتق و لها نفس واجبات العرب الصرحاء و لهم نفس الحقوق ما عدا الرئاسة |

( ج ) عرف المفهوم التالي : (ص ١٥) (درجة)

- القبيلة : مجموعة من الناس تربطهم رابطة القرابة و النسب و الدم .

( د ) ما أوجه الشبه بين : موقف يهود بني قينقاع و يهود بني النضير من المسلمين في المدينة ؟ ( ص

٤١-٤٢) (درجة)

- كلتا القبيلتين تحملان الكرة و العداء للمسلمين / إثارة الفتن و القلائل في المدينة / اتصالهم بقريش / نقضهم لبنود الصحيفة ( أو أي إجابة يراها المصحح صحيحة).

السؤال الثالث : و يتكون من ( أ - ب - ج )

( أ ) فند تاريخياً العبارة التالية : ( ٢ درجة )

( ١ ) تقبلت قريش الدعوة الإسلامية و لم تقاومها ؟ ( ص ٢٨-٢٩-٣٠ )

لم تقبل قريش الدعوة بل قاومتها بأساليب عد : ١- اللامبالاة و عدم الاهتمام بها ظنا منها أنها ستختفي و تنتهي .

- ٢- تعذيب و حرمان العبيد و الضعفاء مثل آل ياسر . ٣- عرضت على الرسول الجاه و المال مقابل رفض الدعوة .

- ٤- بعثت قريش وفدا إلى عمه أبو طالب حتى يكف عن نشر الدعوة و شتم أصنامهم .

- ٥- استخدمت أسلوب الجدل و الاستهزاء . ٦- مقاطعة بني هاشم اقتصادياً و اجتماعياً في شعب بني طالب و عانى بني هاشم من هذه المقاطعة .

( ب ) أقرأ النص التالي ثم أجب عن الأسئلة : ( ص ٣٧ ) ( ٢ درجة )

(( عمل الرسول على تنظيم شؤون الدولة الداخلية في المدينة المنورة حتى تستقر أحوالها و تحقق هدفها في نشر دعوة الإسلام فبين حدود الدولة و أرسل السرايا إلى مختلف الأماكن لنشر الإسلام .... ))

(١) عرف ما تحته خط : فرقة من الخنود بقيادة أحد الصحابة .

(٢) اذكر واحد من مهام السرية : - ضمان أمن المدينة و مراقبة الحدود . - التعرض لقوافل قريش التجارية .

- إشعار القبائل المجاورة بهيبة الدولة و عقد معاهدات صداقة . - الوقوف على تحركات قريش ضد المسلمين .

( ج ) ما لنتائج المترتبة على الأحداث التالية : ( ٣ درجات )

( ١ ) غزوة بدر ؟ ( ص ٤١ )

١- تثبيت دعائم الدولة الإسلامية و تأكيد سيادتها على أرضها و تقوية مركز المسلمين داخل المدينة المنورة و خارجها .

٢- علت كلمة المسلمين و دخل كثير من المشركين في الإسلام و ضعفت شوكة اليهود .

٣- كان وقع الهزيمة على قريش شديدا و خاصة بعد مقتل كثير من رجالها مما دعاهم للنار و الانتقام لاستعادة هيبتها .

٤- كان اليهود في المدينة يثيرون القلائل و الفتن و يترصدون للمسلمين و أظهروا العداوة و تعمدوا إهانة المسلمين فأخرج الرسول بني قينقاع من المدينة المنورة .

( ٢ ) غزوة خيبر ؟ ( ص ٤٦ )

- إنهاء قوة اليهود في شبه الجزيرة العربية .



السؤال الرابع : و يتكون من ( أ - ب - ج - د ) :

( ٢ درجة )

( أ ) علل لما يلي :

- (١) عارضت قريش الدعوة الإسلامية ؟ ( ص ٢٨ )
- قريش لم تفرق بين النبوة و السيادة و ظنت أن التسليم بدين محمد معناه التسليم له بالزعامة و لئني عبدالمطلب بالسيادة .
  - أن الرسول كان يدعو إلى المساواة بين الناس و هي أساس المجتمع الإسلامي و قريش لا تريد ذلك .
  - التمسك بعادات و تقاليد الآباء و الأجداد .
  - الخوف من فقدانهم للثروة و الجاه اللذين يتمتعون بهما .

( ١ درجة )

( ب ) ماذا يحدث لو : ألتزم الرماة بأماكنهم في غزوة أحد ؟

- (١) انتصار المسلمين في الغزوة . (٢) لما تعرض الجيش الإسلامي للخطر بعد انشغالهم بجمع الغنائم .
- ( أي إجابة يراها المصحح صحيحة و مناسبة )

( ٢ درجة )

( ج ) قارن بين كل من :

( ص ١٨ )

| وجه المقارنة             | النظام الملكي                           | النظام القبلي   |
|--------------------------|---|---|
| مكانة المرأة قبل الإسلام | نبوات مركز الرئاسة مثل بلقيس ملكة سبأ . | تدنت مكانة المرأة حيث المبالغة في صونها و حمايتها فانتشرت عادة وأد البنات و تعدد الزوجات و زواج المقت |

( ٢ درجة )

( د ) ما أوجه الاختلاف بين ما يلي :

( ص ٣٩ )

- أسباب غزوة بدر بالنسبة للمسلمين و قريش ؟
- (١) - المحافظة على سيادة الدولة و حماية حدودها .
- الرغبة في استرجاع أموالهم التي استولت قريش عليها في مكة .

قريش : (٢) - القضاء على الدولة الجديدة و الدين الإسلامي الجديد  
- المحافظة على تجارتها ( الطريق التجاري إلى الشام )

دولة الكويت

وزارة التربية

التوجيه الفني العام للاجتماعيات

اختبار نهاية الفترة الدراسية الثانية للصف الحادي عشر الأدبي

للعام الدراسي: ٢٠١٢/٢٠١١م

المجال الدراسي: التاريخ الإسلامي

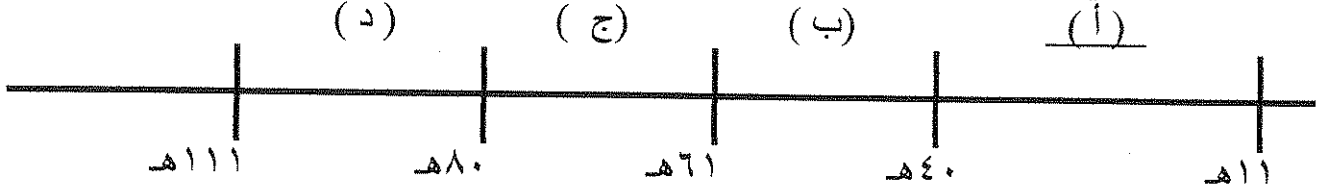
( الإجابة في ٧ صفحات )  
الزمن: ساعتان وربع

اجب عن أربعة أسئلة من الأسئلة الخمسة التالية على ان يكون السؤال الأول من بينها ( إجباري ):

السؤال الأول ( إجباري ) ويتكون من (أ- ب - ج - د):

أ) اختر البديل المناسب من بين البدائل التي تلي كل عبارة : ( ٥ درجات لكل نقطة درجة )

١- الفترة الزمنية التي تمثل دولة الخلفاء الراشدين علي المخطط الزمني التالي يمثلها الحرف : ص ٥٣



٢- القبيلة اليهودية التي قام النبي عليه السلام بطردها من المدينة على اثر غزوة بدر تسمى: ص ٤١



( أ ) قينقاع ( ب ) قريضة ( ج ) هوازن ( د ) النضير

٣- العام الذي وقعت فيه معركة ذات الصواري هو : ص ٨٣

( أ ) ٣٢ هـ ( ب ) ٣٤ هـ ( ج ) ٣٦ هـ

٤- قوم عاد وثمود من العرب : ص ١٣

( أ ) الباقية ( ب ) العاربة ( ج ) المستعربة ( د ) البائدة .

٥- القائد الذي يعتبر أول من قسم الجيش الإسلامي إلى كتائب : ص ٦٨

( أ ) عمرو بن العاص ( ب ) خالد بن الوليد ( ج ) سعد بن أبي وقاص ( د ) المثنى بن حارثة .

تابع السؤال الاول:

(ب) اكمل العبارات التالية بما يناسبها: ( ٤ درجات لكل نقطة درجة)

- ١- الصحابي الذي اشترى بئر الروم في المدينة ليشرّب الناس منه يسمى ٠٠٠ عثمان بن عفان ص ٨١
- ٢- يعرف العام العاشر للبعثة والذي تعرض فيه النبي عليه السلام للمحن والشدائد باسم ٠٠ عام الحزن ص ٣٠
- ٣- السرية التي ارسلها النبي عليه السلام سنة ٢ هـ بقيادة عبدالله بن جحش تسمى ٠٠ سرية نخلة ص ٣٧
- ٤- حلف بين بطون قريش شارك فيه النبي عليه السلام قبل البعثة يعرف بحلف ٠٠ الفضول ص ٢٤

(ج) اختر: من المجموعة ( أ ) ما يناسبها من المجموعة ( ب ) بوضع الرقم المناسب في المكان المناسب:

( ٤ درجات لكل نقطة درجة )

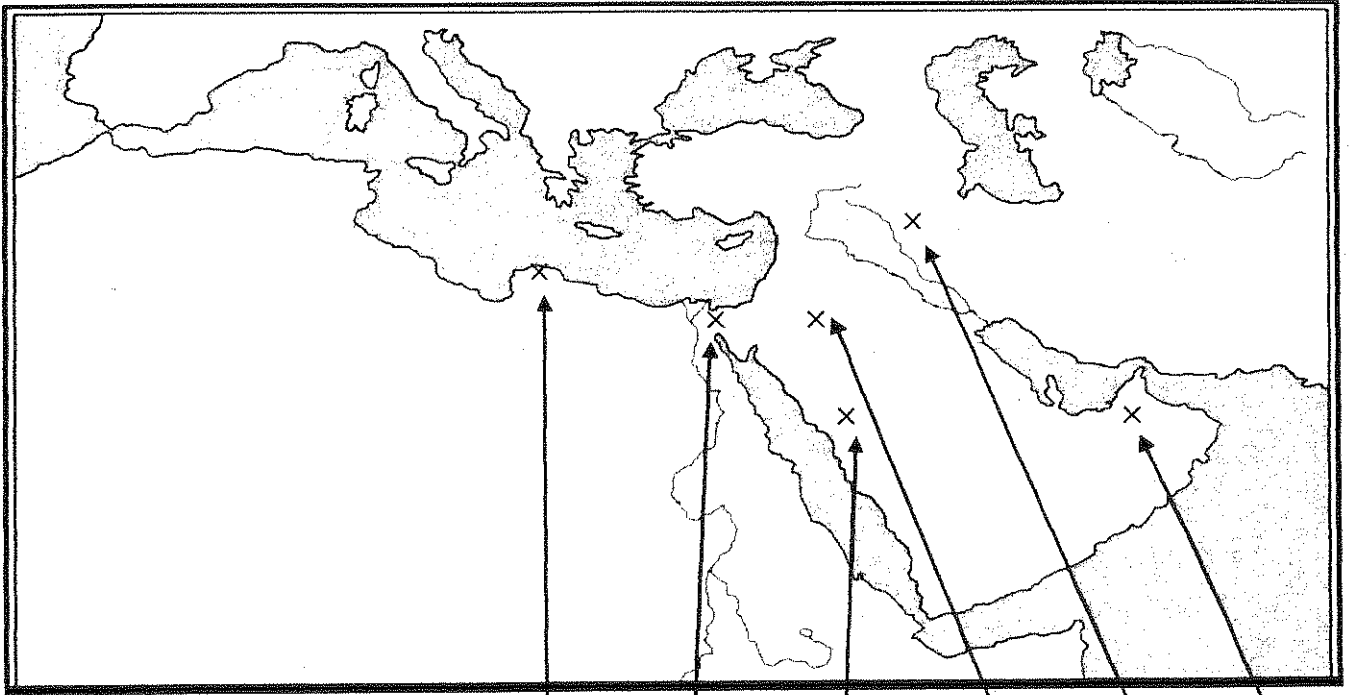
| ( أ )                      | الرقم | ( ب )                |
|----------------------------|-------|----------------------|
| ١- قاد معركة عقرباء ص ٥٩   | ( ٣ ) | سعد بن أبي وقاص      |
| ٢- فتح مصر ص ٧٣            | ( - ) | عبدالله بن أبي السرح |
| ٣- قاد معركة القانسية ص ٦٦ | ( ٤ ) | عياض بن غنم          |
| ٤- فتح بلاد الجزيرة ص ٦٨   | ( ١ ) | خالد بن الوليد       |
|                            | ( ٢ ) | عمرو بن العاص        |



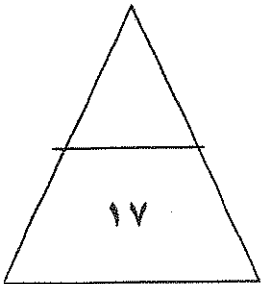
تابع السؤال الاول:

(د) على خريطة العالم الإسلامي المرفقة ضع الرقم في الدائرة المناسبة لكل عبارة مما يأتي:  
(٤ درجات لكل نقطة درجة)

- ١- نواة الدولة الإسلامية الأولى . ص ٢٩+٦٣
- ٢- مدينة اعتبر الفتح الإسلامي لها فتح الفتوح.ص ٦٨
- ٣- منطقة ظهر فيها المتنبي لقيط بن مالك .ص ٥٨
- ٤- صحراء النفوذ . ص ١٤



- ١ -
- ٢ -
- ٣ -
- ٤ -
- ١
- ٤
- ٢
- ٣



السؤال الثاني (اختياري) ويتكون من ( أ - ب - ج ):

(أ) عرف المفاهيم التالية: ( ٤ درجات لكل نقطة درجة )

- ١- القبيلة : مجموعة من الناس تربطهم رابطة القرابة والنسب والدم. ص ١٥
- ٢- السرية : فرقة من الجنود بقيادة أحد الصحابة. ص ٣٧
- ٣- الخلافة : رياسة دنيوية ودينية غايتها حمل الناس على ما فيه صلاحهم متبعا للخليفة في ذلك نصوص كتاب الله وسنة الرسول عليه السلام. ص ٥٣
- ٤- حجة الوداع : حج النبي عليه السلام في العام العاشر الهجري ومعه مئة ألف مسلم علمهم مناسك الحج وخطب فيهم خطبة الوداع أشهدهم بأنه بلغ الرسالة وأدى الأمانة. ص ٤٩



ب) ما تفسرك للأحداث التاريخية التالية: (٥ درجات لكل نقطة درجة)

- ١- عزم الرسول عليه السلام على فتح مكة سنة ٨ هـ .  
- أصبح المسلمون في حل من اتفاق صلح الحديبية بعد اقل من سنتين من عتق سبب اعتداء قبيلة بكر على قبيلة خزاعة ومساعدة قريش لهم وهنا عزم الرسول عليه السلام على فتح مكة. ص ٤٧
- ٢- تم جمع القرآن في عهد الخليفة أبي بكر الصديق.  
- جمع القرآن في عهده بعد حروب الردة برأي من عمر بن الخطاب خشية أن يهلك حفاظ القرآن. ص ٦٤
- ٣- هجرة المسلمين إلى الحبشة في السنة الخامسة للبعثة . ص ٢٩  
- لشدة تعذيب قريش للعبيد والضعفاء من المسلمين مثل آل ياسر وبلال فأمرهم النبي عليه السلام بالهجرة إلى الحبشة لينجوا من بلاء قريش إضافة إلى إن فيها ملكا لا يظلم عنده أحد .
- ٤- كانت ظروف مصر مؤهلة لمجيء الفتح الإسلامي. ص ٧٣  
- كانت مصر إحدى ولايات الروم لذا عمل الروم على استغلالها واعتبارها مخزنا يمد روما بحاجتها من الغلال  
- كما أهلك أهل مصر بالضرائب والصراع المذهبي مما جعلهم يتأملون دولة جديدة تخلصهم من هذه المظالم.

ج) اكتب فقرة مترابطة عن الحياة الفكرية عند العرب قبل الاسلام مستخدما الكلمات المساعدة التالية:

( المعلقات / الأنساب / لهجة قريش / عكاظ / النظام القبلي ) ص ١٩ (٤ درجات)

تأثرت الحياة الفكرية وارتبطت بالنظام القبلي فكان لكل قبيلة شاعرها وخطيبها وقصاصها الذين يعبرون عن مناقب القبيلة ويتفاخرون بأنسابهم وحرورهم وكان للشعراء مكانة كبيرة وسامية بين الناس.  
وتميزت بعض القصائد وفضلها العرب فعلقت على جدران الكعبة وعرفت بالمعلقات وكانت الأسواق خير مكان يعرض فيه الشعر مثل سوق عكاظ وذي المجاز، كما اشتهر العرب بعلم الأنساب والنجوم والملاحه وقد عبروا بفكرهم بلهجات متعددة إلا إنها متقاربة تلتقي في لهجة قريش التي نزل بها القرآن الكريم .

السؤال الثالث (اختياري) ويتكون من (أ- ب- ج) :

(أ) علل ما يلي تعليلا تاريخيا: ( ٣ درجات لكل نقطة درجة)

١- معارضة قريش للدعوة الإسلامية. ص ٢٨

- أن قريش لم تفرق بين النبوة والسيادة وظنت إن التسليم بدين محمد معناه التسليم له بالزعامة.

- إن الرسول عليه السلام كان يدعو إلى المساواة بين الناس وهي أساس المجتمع الإسلامي وقريش لا تريد ذلك.

- التمسك بعادات وتقاليد الإباء والأجداد.

- الخوف من فقدانهم للثروة والجاه بسبب خدمتهم للأصنام ورعايتهم للمجاهدين.

٢- قيام حركة الفتوح الإسلامية من الناحية الدينية. ص ٦١

- أسباب دينية: وهي الحماسة الدينية التي وضحت من خلال نشر الرسالة المحمدية وإعلاء كلمة الله  
وتحرير الإنسان من عبودية البشر إلى عبودية الله.

(ب) فرق بين كل مما يلي: (٨ درجات لكل نقطة درجة)

| الموالي ص ١٨  | الصرحاء ص ١٨   |
|---|--|
| - هم عرب انضموا إلى القبيلة إما عن طريق الجوار أو الحلف أو العتق ولهم حقوق طبقة الأحرار ما عدا الرئاسة. | ١- هم أبناء القبيلة يجمعهم نسب واحد ولهم كثير من الحقوق وعليهم واجبات من أهمها حماية القبيلة والدفاع عنها وتوجب عقوبة الخلع على من يتخاذل عن هذا الواجب. |
| فضل الأنصار على الدولة الإسلامية الناشئة ص ٥٦   | ٢- فضل المهاجرين على الدولة الإسلامية الناشئة ص ٥٦   |
| - أهل البلد.<br>- قامت الدولة الإسلامية بجهادهم وأموالهم.<br>- ناصروا الرسول عليه السلام وأووه.         | - أول الناس إسلاما. - أهل الرسول وعشيرته.<br>- تحملوا عداوة قومهم والأذى<br>- تركوا أوطانهم وأهلهم   |
| موقف كسرى من رسالة النبي عليه السلام ص ٤٥   | ٣- موقف المقوقس من رسالة النبي عليه السلام   |
| - مزق كتاب الرسول   | - لم يسلم ولكنه أكرم وقادة الرسول  |

(ج) اثبت صحة العبارات التالية: (درجتان لكل نقطة درجة)

١- كان لليهود عدة محاولات لهدم الوحدة الاجتماعية الجديدة في الدولة الإسلامية الناشئة. ص ٣٦

- محاولة إثارة البغضاء بين المهاجرين والأنصار

- محاولة الإيقاع بين الأوس والخزرج ولكنهم فشلوا.

- حرصوا قريشا ومشركي مكة على غزو المدينة.

- تأمرهم على المسلمين في خيبر.

٢- تم الفتح الإسلامي لبيت المقدس بدون قتال. ص ٧٠

- بعد محاصرة المسلمين بقيادة أبي عبيدة بن الجراح لبيت المقدس لمدة شهرين طلب أهل بيت المقدس

المصالحة مع الخليفة عمر بن الخطاب فقدم الخليفة إلى بيت المقدس ودخل من الباب الذي دخله الرسول

ليلة الإسراء.

السؤال الرابع (اختياري) ويتكون من (أ - ب - ج) :

(أ) قارن بين كلا مما يأتي : (درجات لكل نقطة نصف الدرجة)

| أوجه المقارنة | غزوة أحد ص ٤١  | غزوة مؤتة ص ٤٦   |
|---------------|--|--|
| الأطراف       | المسلمون × قريش (نصف درجة)   | المسلمون × الغساسنة (نصف درجة)   |
| الأسباب       | - دفاع المسلمين عن أنفسهم<br>و رغبة قريش في الثأر بعد غزوة بدر<br>(درجة)                                   | - عدوان الغساسنة على المسلمين وقتلهم<br>رسول النبي عليه الصلاة والسلام.<br>(درجة)                      |
| النتائج       | - انتصار قريش<br>- هزيمة المسلمين وسقوط ٧٠ شهيدا<br>- طرد المسلمون قبيلة بني النضير<br>اليهودية.<br>(درجة) | - هزيمة المسلمين واستشهاد قادة<br>المسلمين.<br>- رجوع جيش المسلمين بقيادة خالد بن<br>الوليد.<br>(درجة) |

(ب) ماالنتائج المترتبة على كلا من : (٤ درجات لكل نقطة درجة)

١- معركة القادسية. ص ٧١

- انهزام الفرس ومقتل عدد كبير منهم
- فتح الطريق أمام المسلمين للتوغل في الإمبراطورية الفارسية
- غنم المسلمون العديد من الغنائم.
- فرار يزيدجرد الثالث ملك الفرس.
- ٢- موافقة الخليفة عثمان بن عفان على إنشاء قوة بحرية للمسلمين
- بناء أول أسطول إسلامي بأيد عربية إسلامية
- فتحت قبرص سنة ٣١هـ
- سيطر معاوية على شواطئ الشام و اسيا الصغرى و جزيرة رودس.
- محاولة الروم ضرب المسلمين بحرا فدارت معركة ذات الصواري التي انتصر فيها المسلمون على الروم.

(ج) ما دور الشخصيات التالية: (٤ درجات لكل نقطة درجة)

١- النبي عليه الصلاة والسلام في بناء دولة الإسلام الجديدة. ص ٣٤-٣٥-٣٦

- بناء المسجد
- الصلح بين الأوس والخزرج
- المواخاة بين المهاجرين والأنصار
- وضع الصحيفة لتنظيم الحياة العامة في المدينة
- ٢- الخليفة عمر بن الخطاب في ظهور الدواوين الإسلامية. ص ٧٧
- أول من دون الدواوين في الإسلام وكان أولها ديوان الجند أو العطاء ثم ديوان الخراج.

٣- هاشم بن عبد مناف في تجارة مكة. ص ١٦

- نظم رحلتي الشتاء والصيف مما زاد في مكانة مكة بين العرب ووفر لها ثروة اقتصادية.

**السؤال الخامس (اختياري) ويتكون من (أ- ب- ج):**

**(أ) اقرأ الفقرة التالية ثم اجب عما يليها:**

(واجه الإسلام في أواخر عهد الرسول عليه الصلاة والسلام أزمة جديدة ، مالم يثبت أن اتسع نطاقها وزاد خطرهما بعد وفاته، إذ أنفسح المجال أمام المنافقين وأعداء قريش من العرب للقيام بحركة الردة، التي مالم يثبت أن انتشرت في أجزاء كثيرة في شبه الجزيرة العربية وظهرت بأشكال عديدة اختلفت في بواعثها وصورها ، لكن الخليفة أبي بكر الصديق تولى مقاومة هؤلاء المرتدين والمنتدبين ، وكان الانتصار عليهم انتصار للإسلام )

١- ضع عنوان للفقرة. (درجة واحدة)

- ظهور حركة الردة (أو أي عنوان مناسب يراه المصحح)

٢- عرف ما تحته خط. (درجة واحدة) ص ٥٨

تمرد القبائل العربية على سلطان الحكومة الإسلامية في المدينة المنورة

٣- ما الأساليب التي اتبعها الخليفة أبي بكر الصديق لمواجهة حركة الردة؟ ص ٥٩ (درجة واحدة)

- أقام الحجة على المرتدين بخطابهم وإنذارهم وتحذيرهم.

- لجأ إلى الحل العسكري وهو القتال لنصرة دين الحق فعقد أحد عشر لواء لكبار قادة المسلمين

لمواجهة المشكلة وتمكن بعد عدة معارك مثل بزاخة وعقرباء من القضاء على المرتدين.

**ب) اكمل الجدول الآتي حسب ما هو مطلوب: (٦ درجات لكل نقطة درجة واحدة)**

| العبارة  | قائل العبارة            | المناسبة  | الدلالة التاريخية   |
|--|-------------------------|---|---|
| (فإنما ينتظر الناس أхраهم اتقوا الله عباد الله في عباده وبلادهم إنكم مسئولون حتى عن البقاع والبهائم وأطيعوا الله عز وجل)     | الخليفة علي بن أبي طالب | حين تولى الخلافة  | اهتمام الخليفة بالنصح والحفاظ على البيئة (إنسان /حيوان /الأرض) ص ٨٦ |
| (لقد آما بك وصدقناك وشهدنا إن ما جنت به هو الحق وأعطيناك على ذلك عهودنا ومواثيقنا على السمع والطاعة فامضي لما أردت فنحن معك) | سعد بن معاذ.            | عقد النبي عليه السلام مجلس استشاري مع أصحابه قبل غزوة بدر | ولاء المسلمين لرسول الله عليه السلام وحبهم وطاعتهم له. ص ٣٩         |

**ج) نفذ المطلوب ما بين القوسين: (٤ درجات لكل نقطة درجة)**

١- صلح الحديبية (حدد بنوده) ص ٤٤

- يرجع المسلمون هذا العام على أن يعودوا العام القادم لأداء العمرة بعد أن تخلي لهم قريش مكة لمدة ثلاثة أيام.

- وضع هدنة بين الفريقين لمدة عشر سنوات.

- من أراد الدخول في عهد قريش له ذلك ومن أراد الدخول في عهد محمد من غير قريش دخل فيه.

- من أتى محمدا من قريش مسلما بدون إذن وليه يرد ولا ترد قريش من أتاها من عند محمد مرتدا.

٢- كانت شبه الجزيرة العربية بيئة قادرة لتقبل رسالة الإسلام (الأسباب) ص ٢٠

- كانت شبه الجزيرة خارج منطقة الصراع بين الفرس والروم .

- موقع شبه الجزيرة الجغرافي سهل نشر الدعوة في جميع أنحاء العالم.

- وجود البيت الحرام في مكة مهد لها لتكون مركز ديني كبير . - لغة العرب وخصائصها.

- أدرك العرب وجود الله وعبدوا الأصنام تقربا له . - صفاء الفكر العربي .



المادة : تاريخ إسلامي  
الصف : الحادي عشر أدبي  
الزمن : ( ساعتان )  
عدد الأوراق : ( ٧ )

(( الاجابة النموذجية ))

دولة الكويت  
وزارة التربية  
التوجيه الفني العام للاجتماعيات

اختبار الفترة الدراسية الثانية  
للعام الدراسي : ٢٠١٠ / ٢٠١١ م

أجب عن أربعة أسئلة فقط من الأسئلة التالية على أن يكون الأول من بينها إجبارياً :

السؤال الأول ( إجباري ) : يتكون من [ أ - ب - ج - د - هـ ] [ ١٣ درجة ]

١ - اختر البديل المناسب من بين البدائل التي تلي كل عبارة وضع خطأ تحته :  $٣ = ١/٢ \times ٦$   
١ - الأرقام الدالة على ثلاث ممالك ظهرت قبل الإسلام في جنوب شبه الجزيرة العربية يمثلها في الجدول المقابل الحرف : ص ١٥

| م | ممالك ودول |
|---|------------|
| ١ | الأنباط    |
| ٢ | معين       |
| ٣ | سبأ        |
| ٤ | حمير       |
| ٥ | تدمر       |

أ - ( ٥ ، ٣ ، ٢ )

ب - ( ٣ ، ٢ ، ١ )

ج - ( ٤ ، ٣ ، ٢ )

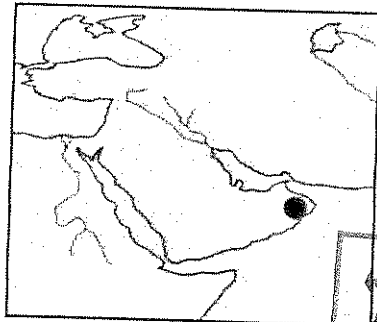
د - ( ٥ ، ٤ ، ١ )

٢ - الترتيب الصحيح لأهم الأحداث في حياة الرسول صلى الله عليه وسلم قبل البعثة يمثلها في الجدول التالي الحرف : ص ٢٥

| م | أ                     | ب                     | ج                     | د                     |
|---|-----------------------|-----------------------|-----------------------|-----------------------|
| ١ | إعادة بناء الكعبة     | وفاة جده عبدالمطلب    | زواجه من السيدة خديجة | وفاة جده عبدالمطلب    |
| ٢ | وفاة جده عبدالمطلب    | إعادة بناء الكعبة     | وفاة جده عبدالمطلب    | حرب الفجّار           |
| ٣ | زواجه من السيدة خديجة | حرب الفجّار           | حرب الفجّار           | زواجه من السيدة خديجة |
| ٤ | حرب الفجّار           | زواجه من السيدة خديجة | إعادة بناء الكعبة     | إعادة بناء الكعبة     |

٣ - العام الذي تم فيه صلح الحديبية هو :  
أ - ٦ هـ  
ب - ٧ هـ  
ج - ٨ هـ  
د - ٩ هـ

٤ - الدائرة المظللة على الخريطة المقابلة تمثل مكان ظهور أحد قادة حركة الردّة هو : ص ٥٨

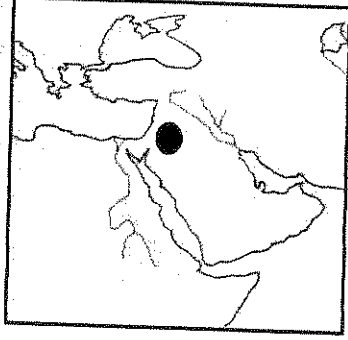


أ - سجاح بنت الحارث  
ب - لقيط بن مالك  
ج - طلحة بن خويلد  
د - الأسود العنسي

نموذج الإجابة

تابع السؤال الأول ( إجباري ) :-

- ٥ - الخليفة الذي تم في عهده سقوط إيوان كسرى اسمه : ص ٦٧  
 أ- أبو بكر الصديق      ب- عمر بن الخطاب      ج- عثمان بن عفان      د- علي بن أبي طالب
- ٦ - الدائرة المظللة على الخريطة المقابلة تمثل معركة فاصلة تسمى : ص ٦٨



- أ- عين شمس  
 ب- كاظمة  
 ج- القادسية  
 د- اليرموك

ب- اقرأ العبارات التالية ثم صحح ما تحته خط :  $٣ = ١/٢ \times ٦$

- ١- من أهم أعمال قصي بن كلاب رفع اللواء في الحرب ( وحدث قريش وأسس دار الندوة ) ص ٢١  
 ٢- ألغى نظام التوارث بين المهاجرين والأنصار بعد غزوة الخندق . ( بدر ) ص ٣٥  
 ٣- تم غزو جزيرة قبرص سنة ٢٧ هـ في عهد الخليفة أبو بكر الصديق . ( عثمان بن عفان ) ص ٨٤  
 ٤- قائد الدولة البيزنطية في معركة أجنادين اسمه ماهان . ( ثيودور ) ص ٦٣  
 ٥- وقعت معركة ذات الصواري في عام ٣٠ هجري . ( ٣٤ هـ ) ص ٨٣  
 ٦- أطلق على اليوم الثاني من معركة القادسية سنة ١٥ هجري بيوم أرمات . ( أغواث ) ص ٦٦

ج- إنسب العبارات التاريخية من القائمة ( أ ) لقاتلها من القائمة ( ب ) بوضع الرقم المناسب :  $٢ = ١/٢ \times ٤$

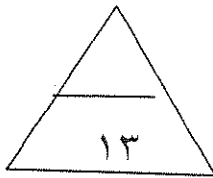
| م | القائمة ( أ ) عبارات تاريخية  | الرقم المناسب | القائمة ( ب ) شخصيات تاريخية           |
|---|---|---------------|--|
| ١ | فارجع به إلى بلده واحذر عليه من اليهود  | ٢....         | سعد بن معاذ ص ٣٩                       |
| ٢ | فوالله لو استعرضت بنا هذا البحر فخضته لخضناه معك                                  | ٤ ...         | هرقل ص ٧٠                              |
| ٣ | من يتقدم عليك يا أبابكر، وأنت أول الناس إسلاماً و ثاني اثنين إذ هما في الغار .... | ١....         | بحيرا الراهب ص ٢٣                      |
| ٤ | السلام عليك يا سورية، سلاماً لا لقاء بعده   | ٣ ....        | عمرو بن العاص<br>عمر بن الخطاب<br>ص ٥٦ |

د- أكمل العبارات التالية بما يناسبها مما درست :  $3 = 1/2 \times 6$

- ١- الصحابي الذي كان داره مقراً للدعوة الإسلامية أثناء المرحلة السريّة اسمه الأرقم بن أبي الأرقم ص ٢٧
- ٢- القرية التي بني فيها الرسول عليه الصلاة والسلام أول مسجد في الإسلام اسمها قباة ص ٣٢
- ٣- السرية التي قادها عبد الله بن جحش وكانت ممهدة لغزوة بدر اسمها نخلة ص ٤١
- ٤- المدينة التي هرب إليها ملك الفرس يزيدجرد بعد هزيمته في معركة المدائن اسمها حطوان ص ٦٧
- ٥- حاكم مصر الذي طلب من عمرو بن العاص الصلح عندما جاء لفتح مصر اسمه المقوقس ص ٧٤
- ٦- وقعت معركة النهروان بين الخليفة علي بن أبي طالب وفرقة تسمى الخوارج ص ٨٧

هـ - لاحظ الخريطة التي أمامك ثم أجب عما يليها من أسئلة :  $2 = 1/2 \times 4$

- ١- موقع ظهور قوم عاد يمثله على الخريطة علي الخريطة الدائرة رقم ٦..... ص ١٣
- ٢- موقع غزوة مؤتة يمثله علي الخريطة الدائرة رقم ٤... ص ٦٢
- ٣- موقع إقليم خراسان يمثله علي الخريطة الدائرة رقم ٢... ص ٦٨
- ٤- موقع حصن بابلبيون يمثله علي الخريطة الدائرة رقم ٧... ص ٧٣



[ ٩ درجات ]

السؤال الثاني : يتكون من [ أ - ب - ج ]

$$٢ = ١/٢ \times ٤$$

أ- قارن بين كل مما يلي حسب الجدول الموضح أدناه :-

| بيعة الرضوان  | بيعة العقبة الثانية  | وجه المقارنة      |
|---|--|-------------------|
| * سارعت قريش بإخلاء سبيل سيدنا عثمان بن عفان . ص ٤٣<br>* أرسلت قريش سهيل بن عمرو إلى الرسول فعدت مع الرسول صلح الحديبية . | * خافت قريش من هجرة المسلمين وعقدت مجلساً في دار الندوة للتفكير في القضاء على الرسول . ص ٣٢<br>* قررت قريش قتل الرسول بمشاركة جميع القبائل حتى يتفرق دمه بين القبائل . | رد فعل قريش بعدها |

$$٣ = ١/٢ \times ٦$$

ب- اكتب ثلاثاً فيما يلي :

يكتفى بثلاث نقاط فقط

- ١- ( تميزت شبه الجزيرة العربية بمميزات هيأتها لتكون بيئة قادرة لتقبل الإسلام ) ص ٢  
 \* كانت شبه الجزيرة خارج منطقة الصراع بين الفرس والروم .  
 \* إدراك العرب وجود الله .  
 \* موقعها الجغرافي سهل نشر الدعوة في جميع أنحاء العالم .  
 \* وجود البيت الحرام في مكة مهد لها أن تكون مركزاً دينياً .  
 \* لغة العرب وما تمتاز به .  
 \* صفاء الفكر وعدم التأثر بمعتقدات اليهود أو النصارى أو فلسفة اليونان .

ثلاث نقاط فقط

- ٢- ( المشكلات التي واجهت أبو بكر الصديق بعد وفاة الرسول عليه الصلاة والسلام ) ص ٥٥ - ٥٨  
 \* وفاة الرسول عليه السلام \* وإجتماع الأنصار في سقيفة بني ساعدة وبيعة السقيفة .  
 \* حركة الردة .  
 \* انفاذ جيش أسامة بن زيد .

$$٤ = ١ \times ٤$$

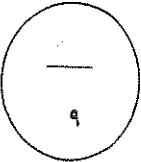
ج - علل لكل مما يلي :

يكتفى بنقطتين

- ١- كانت معركة اليرموك من أعظم المعارك الإسلامية . ص ٧٠  
 \* فقد جيش الروم أقوى جيش في العالم هزيمة قاسية على يد المسلمين .  
 \* فقد جيش الروم زهرة جنوده  
 \* أدرك هرقل حجم الكارثة وغادر المنطقة نهائياً .

يكتفى بنقطتين

- ٢- خروج أجزاء من بلاد أرمينيا عن الدولة الإسلامية بعد مقتل الخليفة عمر بن الخطاب ص ٨٣  
 \* ضعف الحامية .  
 \* قلة عدد الحامية .  
 \* رغبة أهل أرمينيا في التخلص من حكم المسلمين .  
 \* بُعد بلاد أرمينيا عن مركز الخلافة .



السؤال الثالث : يتكون من [ أ - ب - ج ] : [ ٩ درجات ]

أ- لاحظ الصورتين التاليتين ثم قارن بينهما حسب ما هو موضح بالجدول : -  $٣ = ١/٢ \times ٦$

| وجه المقارنة | إسم الغزوة  | نتائج الغزوة  |
|--------------|---|---|
| غزوة بدر     | ٣٩ ص ١/٢  | غزوة أحد ص ٤١ ١/٢   |
|              | * تثبيت دعائم الدولة وتقوية مركزها<br>* علت كلمة الاسلام ودخل الكثير في الدين<br>* مقتل كثير من قريش مما دعاهم للتأثر<br>* طرد بني قينقاع من المدينة $١/٢ \times ٢ =$<br>درجه | * انتصار قريش وهزيمة المسلمين .<br>* سقوط ٧٠ شهيد على رأسهم أسد الله حمزه<br>* طرد قبيلة بني النضير من المدينة .<br>$١/٢ \times ٢ =$ درجه |

$$٢ = ١ \times ٢$$

ب - عرّف المفاهيم التالية :

١- القبيلة : مجموعة من الناس تربطهم رابطة القرابة والدم والنسب . ص ١٥

٢- المُتنبّه : هم أشخاص من قبائل عربية إدعو النبوة خلال حياة الرسول وبعد وفاته صلى الله عليه وسلم . ص ٥٨

$$٤ = ١ \times ٤$$

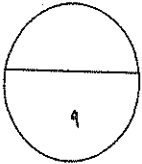
ج - بماذا تفسر كل مما يلي :

يكتفى بنقطتين فقط

- ١- معارضة قريش للدعوة الإسلامية ٢٨ .
- \* لم تفرق قريش بين النبوة والسيادة .
  - \* دعوة الرسول إلى المساواة بين الناس .
  - \* التمسك بعادات وتقاليد الآباء والأجداد .
  - \* الخوف على فقدان الثروة والجاه .

يكتفى بنقطتين

- ٢- عُرِفَت معركة نهاوند بفتح الفتوح . ص ٦٨
- \* لأنها قضت على آخر الجيوش الفارسية
  - \* أنهت الدولة الساسانية .



السؤال الرابع : يتكون من [ أ - ب - ج ] : [ ٩ درجات ]

أ - أكتب تاريخاً فيما يلي :

٤ درجات

يكتفي بثلاث نقاط

درجه ونصف

- ١- أساليب مقاومة قريش للدعوة الإسلامية . ص ٢٨
  - \* اللامبالاة وعدم الاهتمام بأمر الدعوة في البداية اعتقاداً بأنها حركة سوف تختفي بعد حين .
  - \* تعذيب وحرمان العبيد والضعفاء .
  - \* الطلب من عمه أبو طالب أن يطلب من الرسول أن يكف عن عيب أصنامهم وعبادتهم .
  - \* عرضت قريش على النبي الجاه والمال مقابل أن يتوقف عن الدعوة .
  - \* إتباع أسلوب الجدل والاستهزاء .
  - \* مقاطعة بني هاشم اقتصادياً واجتماعياً .
- ٢- أهم ما تضمنته الصحيفة التي وضعها الرسول لتنظيم الحياة في المدينة . ص ٣٦
  - \* أن للجماعة الدينية شخصية دينية وسياسية .
  - \* على سكان المدينة من المسلمين وغيرهم أن يتعاونوا في رد أي اعتداء على مدينتهم .
  - \* المواخاة بين المهاجرين والأنصار .
  - \* وضع الصحيفة .
- ٣- الأسباب الدينية لقيام حركة الفتح الإسلامية . ص ٦١
  - \* تحرير الإنسان من عبودية البشر الى عبودية الله عز وجل .
  - \* الحماسة الدينية التي وضحت من خلال نشر الرسالة المُحمدية .
  - \* إعلاء كلمة الله عز وجل .

ب - دُلل على صحة العبارات التالية :

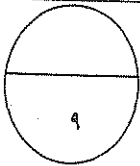
$$٢ = ١/٢ \times ٤$$

نقطتان فقط

- ١- كان لرحلتي الشتاء والصيف أثر ايجابي على قريش . ص ١٦
    - \* زادت من مكانة قريش بين العرب .
    - \* وفرت لقريش ثروة اقتصادية .
  - ٢- من براعة العسكرية واستناداً لمبدأ الشوري أخذ الرسول ﷺ برأي صحابته ونفذ أفكارهم خلال غزواته . ص ٤٣، ٣٩، ٤٠
    - \* عقد الرسول مجلساً استشارياً مع أصحابه قبيل غزوة بدر .
    - \* أخذ برأي الصحابي الحناب بن المنذر عندما أشار إلى الرسول ﷺ بجعل بئر بدر خلف المسلمين .
    - \* أخذ برأي الصحابي سلمان الفارسي صاحب فكرة حفر الخندق .
- ج - فرِّق بين كل مما يلي حسب ماهو موضح بالجدول :

|   |  |
|---|--|
| المرحلة الأولى من دعوة الرسول ﷺ في مكة ص ٢٧ | المرحلة الثالثة من دعوة الرسول ﷺ في مكة ص ٢٨ |
| * فيها دعا أهل بيته وخاصة أصحابه ١/٢ درجة   | * فيها دعا جميع الناس ١/٢ درجة               |

|  |  |
|--|--|
| المدائن الشرقية ص ٦٧   | المدائن الغربية ص ٦٧   |
| * لم يعان سعد بن أبي وقاص في فتحها حيث هرب الفرس منها عندما اقتحم نهر دجلة . | * حاصرها سعد بن أبي وقاص شهرين وعانى في فتحها كثيراً حتى دخلها . |



السؤال الخامس : يتكون من [ أ - ب - ج - د ] : [ ٩ درجات ]

درجتان

أ - أكتب فقرة تاريخية مناسبة باستخدام الكلمات التالية :-

( عام الفيل - أبوطالب - الرعي - الفضول ) من ص ( ٢١ - ٢٤ )  
 (( وُلد الرسول صلى الله عليه وسلم في دار أبي طالب الاثنتين من ربيع الأول الموافق ٢٠ ابريل ١٥١٧م المعروف بعام الفيل ، ونشأ يتيماً فكفله جده عبدالمطلب ، ثم كفله عمه أبو طالب بعد وفاة جده وهو في الثامنة من عمره ، وقد مارس الرسول أعمال عدة في شبابه منها الرعي والتجارة حيث طلبت منه السيدة خديجة أن يتاجر في أموالها ، ثم تزوجها وعمره خمسة وعشرون عاماً ، وقد شهد قبل بعثته أحداثاً هامة منها حلف الفضول في دار عبد الله بن جدعان كما شهد حرب الفجار التي كانت صراعاً اقتصادياً بين قريش والفرس ))

ثلاث درجات

ب - ماوجه الشبه بين كل مما يلي :

| عوامل أضعفت الروم وساعدت المسلمين على الانتصار ص ٧٥   | عوامل أضعفت الفرس وساعدت المسلمين على الانتصار ص ٧٦  |
|---|--|
| * الصراع المذهبي<br>* النزاع السياسي حلو العرش<br>* الصراع الطويل الذي أنهكها مادياً وعسكرياً<br>* كثرة الضرائب | * الصراع المذهب لرجة ونصف<br>* النزاع السياسي حلو العرش<br>* الصراع الطويل الذي أنهكها مادياً وعسكرياً<br>* كثرة الضرائب |

$$٢ = ١/٢ \times ٤$$

يكتفي بنقطتين

١٨ ص

ج - فُتد العبارات التالية :

- ١- ( الإسلام ظلم المرأة ولم يكرمها حيث كانت في وضع أفضل قبل الإسلام ) ص ١٨
  - \* كرم الإسلام المرأة تكريماً كبيراً وساوى بينها وبين الرجل
  - \* خلصها الإسلام من عادات سيئة كانت منتشرة قبل الإسلام
  - \* كانت المرأة تعاني من عادات سيئة قبل الإسلام مثل وأد البنات وزواج المقت

يكتفي بنقطتين

٤٥ ص

- ٢- ( كان صلح الحديبية مجحفاً وغير عادل في حق المسلمين )
  - \* كان صلح الحديبية نصراً عظيماً للرسول وللإسلام وللمسلمين
  - \* كان صلح الحديبية اعترافاً صريحاً من قريش بالدولة الإسلامية
  - \* أوقف مقاومة قريش مما ساعد المسلمين على التفرغ لوضع حد لخطر اليهود
  - \* دخل كثير من أبطال قريش في الإسلام وتفرغ الرسول لنشر الدعوة

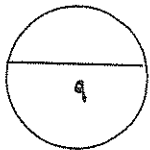
$$٢ = ١ \times ٢$$

٥٧ ص

د - اذكر المناسبة التي قيلت فيها العبارات التاريخية التالية :

- ١- ( والله لأحل عقده عقدها رسول الله ..... )
  - \* قالها عندما عارض بعض الصحابة قيام الخليفة بإتمام جيش أسامة بن زيد
- ٢- ( جنتك يقوم يحبون الموت كما تحبون الحياة )
  - \* قالها في رسالته إلى هرمل قائد جيش الفرس قبل معركة ذات السلاسل

٦٢ ص





دولة الكويت  
وزارة التربية  
التوجيه الفني العام للاجتماعيات

اختبار نهاية الفترة الدراسية الثانية  
الصف الحادي عشر الأدبي  
التاريخ الإسلامي

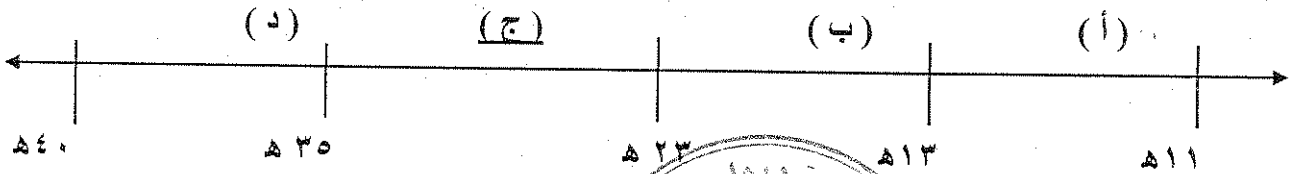
العام الدراسي : ٢٠١٣/٢٠١٤ م  
عدد الأوراق ( ٧ )  
الزمن : ساعتان وربع

## نموذج الإجابة

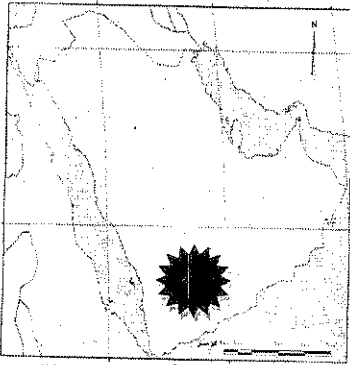
السؤال الأول إجباري يتكون من ( أ - ب - ج - د - هـ ) :

( أ ) اختر البديل المناسب من بين البدائل التي كل عبارة فيما يلي

١- الفترة الزمنية التي حكم فيها الخليفة الراشدي عثمان بن عفان يمثلها على الخط الزمني الحرف : ص ٨١



ص ٣٥



٢- آخر الحروب التي دارت بين قبيلتي الأوس والخزرج عرفت بيوم :

- ( أ ) - أخوات  
( ب ) - ارمات  
( ج ) - بعث  
( د ) - عماس

٣- متزعم حركة الردة في الدائرة المظلمة على الخريطة المقابلة اسمه : ص ٥٨

- ( أ ) - الأسود العنسي  
( ب ) - مسيلمة الكذاب  
( ج ) - طليحة بن خويلد  
( د ) - سجاح

٤- الدولة التي تم القضاء عليها بعد معركة نهاوند عام ٢١ هـ : ص ٦٨

- ( أ ) - المناذرة  
( ب ) - البيزنطية  
( ج ) - الغساسنة  
( د ) - الساسانية

ص ٢١

٥- العمل الذي قام به قصي بن كلاب :

- ( أ ) - أعاد حفر بئر زمزم  
( ب ) - توحيد قريش وتأسيس دار الندوة  
( ج ) - السقاية و الرفادة  
( د ) - اللواء في الحرب

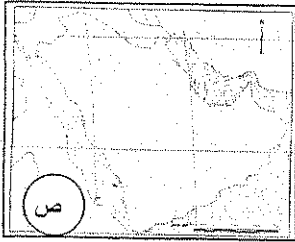
٦- الحدث الأقدم من بين الأحداث التاريخية التالية : ص ٢٥

- ( أ ) - نزول الوحي  
( ب ) - إعادة بناء الكعبة  
( ج ) - حرب الفجار  
( د ) - زواج النبي ﷺ من السيدة خديجة



(ب) - أكمل العبارات التالية بما يناسبها :

- ١ - أول ديوان تأسس في الإسلام اسمه-----الجند (العطاء)-----ص٧٧
- ٢ - أول من سن رحلتي الشتاء و الصيف اسمه-----هاشم بن عبد مناف-----ص٢١
- ٣ - الدار التي اتخذها الرسول ﷺ مقراً لدعوته السرية تسمى دار-----الأرقم بن الأرقم-----ص٢٧
- ٤ - عاصمة بلاد فارس قبل الإسلام مدينة أسمها-----المدائن-----ص٦٧
- ٥ - الحرف (ص) على الخريطة المقابلة يرمز إلى منطقة هاجر إليها المسلمون الأوائل اسمها-----الحبشة-----ص٢٩
- ٦ - قائد إسلامي تمكن من قتل القائد البيزنطي جرجور في موقعة العبادلة اسمه-----عبدالله بن الزبير-----ص٨٣



(ج) صنف مواقف الملوك من رسل النبي ﷺ في دعوتهم للإسلام في الجدول التالي: (٥ × 1/2 = 2 1/2)

- مزق كتاب الرسول ﷺ فمزق الله ملكه - خاف على ملكه ولم يسلم (ص٤٥)
- اسلم ووضع على عينه - هدد بغزو المدينة المنورة
- لم يسلم ولكنه أكرم وفادته

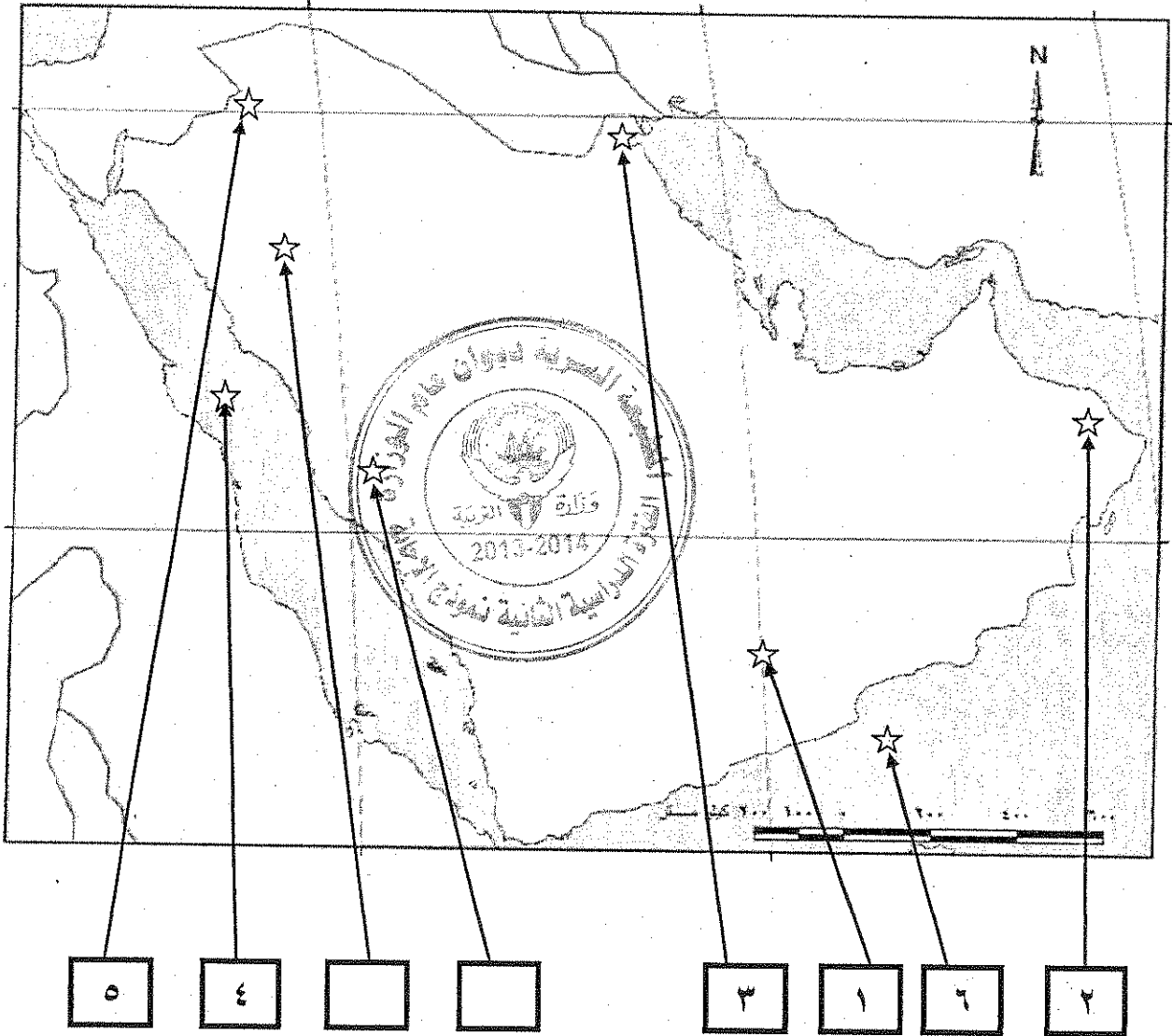
| الملك                   | الموقف                | الملك                              | الموقف                      | الملك                           | الموقف |
|-------------------------|-----------------------|------------------------------------|-----------------------------|---------------------------------|--------|
| هرقل<br>قيصر الروم      | النجاشي<br>ملك الحبشة | كسرى<br>ملك الفرس                  | المقوقس<br>حاكم مصر         | الهارث الغساني<br>أمير الغساسنة |        |
| - خاف على ملكه ولم يسلم | - اسلم ووضع على عينه  | - مزق كتاب الرسول ﷺ فمزق الله ملكه | - لم يسلم ولكنه أكرم وفادته | - هدد بغزو المدينة المنورة      |        |

(د) أختار من المجموعة (ب) ما يناسبها من المجموعة (أ) بوضع الرقم الصحيح :

| الرقم | (أ)        | الرقم الصحيح | (ب)  |
|-------|------------|--------------|--|
| ١     | بنو قينقاع | ٢            | تم طردهم بعد غزوة أحد ص٤١  |
| ٢     | بنو النضير | ٣            | عاقبهم المسلمون بعد غزوة الخندق ص٤٣  |
| ٣     | بنو قريظة  |              | تم القضاء عليهم بعد غزوة خيبر.   |
|       |            | ١            | تعمدوا إهانة المسلمين فأخرجهم النبي الكريم من المدينة المنورة بعد غزوة بدر ص٤١ |

هـ) على خريطة شبه الجزيرة المرفقة ضع الرقم في المربع المناسب لكل عبارة مما يلي :-

- ١- موطن قوم عاد . ص ١٣  
٢- موطن مدعي النبوة لقيط بن مالك . ص ٥٨  
٣- موقع معركة كاظمة . ص ٦٢  
٤- بحر القلزم . ص ١٤  
٥- موقع الغساسنة . ص ٢٣  
٦- بحر العرب . ص ١٩



٢٦ نقطة لكل نقطة نصف درجة = ١٣ درجة

السؤال الثاني : (اختياري) ويتكون من ( أ - ب - ج )

$$(٤ = \frac{1}{2} \times ٨)$$

أ) علل ما يأتي تاريخياً :

١ - ارتداد بلاد أرمينيا عن الدولة الإسلامية في إغراب مقتل الخليفة عمر بن الخطاب رضي الله عنه . ص ٨٣

- \* ضعف حاميتها .
- \* قلة عدد الحامية .
- \* بعد البلاد عن مركز الخلافة .
- \* رغبتهم في التخلص من المسلمين .

ص ٧٠

٢ - تعتبر معركة اليرموك عام ١٥ هـ من أعظم المعارك الإسلامية .

\* هزيمة جيش الروم أقوي جيوش العالم .

\* فقد جيش الروم زهرة جنده .

\* مغادرة الروم بلاد الشام نهائياً .

٣ - هزيمة المسلمين في غزوة أحد عام ٣ هـ .

\* نزول الرماة من فوق الجبل و انكشف ظهر المسلمين .

\* انشغال المسلمين بجمع الغنائم .

ب) ما أوجه الاختلاف بين كل من :

ص ١٨

$$(٢ = ٢ \times ١)$$

|   |  |
|---|--|
| مكانة المرأة في النظام القبلي ( البادية ) قبل الإسلام   | مكانة المرأة في النظام الملكي قبل الإسلام                      |
| في البادية تدنت مكانة المرأة وانتشرت عادة وأد البنات وتعدد الزوجات والجمع بين الأختين وزواج الابن من زوجة أبيه وهو ما عرف (بزواج المقت) | تبوأَت المرأة مركز الرئاسة في النظام الملكي مثل بلقيس ملكة سبأ |

$$(٣ = \frac{1}{2} \times ٦)$$

ج) دلل على صحة العبارات التالية :

ص ٤٠

١ - براعة الرسول صلى الله عليه وسلم في التخطيط العسكري لغزوة بدر .

\* التخطيط لغزوة بدر وإدارتها بما يتفق والمفاهيم العسكرية الحديثة .

\* تابع النبي صلى الله عليه وسلم أخبار قريش واستعداداتهم وقاد الجيش بنفسه .

\* خرج بالجيش ووصل إلى بدر حتى يتمكن المسلمون من الشرب دون الكفار .

\* خطب بالجيش قبيل المعركة وأوصاهم بالصبر والثبات والجهاد في سبيل الله .

\* توجه إلى الله - عز و جل - بالدعاء بالنصر للمسلمين .

ص ٢٠

٢ - تميزت شبه الجزيرة العربية بمميزات هيأتها لتقبل رسالة الإسلام .

\* كانت خارج منطقة الصراع بين الفرس و الروم . \* موقع شبه الجزيرة العربية وسط العالم القديم .

\* وجود البيت الحرام في مكة . \* أدرك العرب وجود الله .

\* لغة العرب و ما تمتاز فيه من خصائص . \* صفاء الفكر .

السؤال الثالث : (اختياري) ويتكون من ( أ - ب - ج ) :

أ ) وازن بين الأوضاع الداخلية أثناء الفتوحات الإسلامية لكل من : ( ٦ × ١/٢ = ٣ ) ص ٧٦/٧٥

| الفرس  | الروم                                |
|--|--------------------------------------|
| * الصراع المذهبي حول الإباحة المطلقة أو الزهد. | * الصراع المذهبي بين مذاهب المسيحية. |
| * الصراع حول العرش أنهك الإمبراطورية سياسيا.   | * كراهية أهل مصر و الشام للروم.      |
| * كثرة الضرائب.                                | * النزاع السياسي حول العرش.          |

ب ) اقرأ العبارات التالية ثم أكتب المناسبة التي قيلت في كل منها : ( ٣ × ١ = ٣ )

١ - " لا تخونوا ولا تغدروا ولا تغلوا ولا تمثلوا ولا تقتلوا طفلا ولا شيخا كبيرا ولا امرأة " ص ٦١

المناسبة : وصية الخليفة أبو بكر رضي الله عنه التي جاءت في خطبته لجيوش الفتح الإسلامي.

٢ - " إنك إن فتحتها كانت قوة للمسلمين و عوناً لهم " ص ٧٣

المناسبة : عندما أراد عمرو بن العاص استئذان الخليفة عمر بن الخطاب رضي الله عنه في فتح مصر.

٣ - " يا بني لا تخوضوا دماء المسلمين خوفاً ، تقولون قتل أمير المؤمنين " ص ٨٧

المناسبة : وصية الخليفة علي رضي الله عنه لابنيه الحسن والحسين بعد ان ضربه بالسيف عبد الرحمن بن الملجم.

ج ) نفذ المطلوب بين القوسين : ( ٦ × ١/٢ = ٣ )

١ - حركة الردة . ( أسبابها ) ص ٥٨

\* ادعاء النبوة وهو ما عرف باسم المشبهة.

\* الامتناع عن دفع الزكاة.

٢ - غزوة الخندق . ( نتائجها ) ص ٤٣

\* انتصار كبير للمسلمين.

\* استنفذت قريش كل إمكاناتها في القضاء على الدولة الجديدة.

٣ - الصحيفة التي وضعها النبي صلى الله عليه وسلم لسكان المدينة . ( بنودها ) ص ٣٦

\* ان للجماعة شخصية دينية و سياسية و من حقها ان تعاقب المفسد.

\* ان الحرية الدينية مكفولة للجميع.

\* ان الحرية الدينية مكفولة للجميع.

\* على سكان المدينة أن يتعاونوا لرد أي اعتداء على مدينتهم .

السؤال الرابع (اختياري) ويتكون من (أ - ب - ج) :  
 (أ) قارن حسب ما هو مطلوب منك في الجدول التالي:

$$(3 = \frac{1}{2} \times 6)$$

| من حيث          | معركة أجنادين ص ٦٣                                     | معركة القادسية ص ٧١   |
|-----------------|--|---|
| الأطراف         | المسلمون × الروم                                       | المسلمون × الفرس  |
| القائد الإسلامي | عمرو بن العاص  | سعد بن أبي وقاص   |
| النتائج         | - انتصار المسلمين<br>- أصبحت فلسطين كلها بيد المسلمين. | انتصار المسلمين<br>* الاستيلاء على المدائن عاصمة الفرس.<br>* فتح الطريق للمسلمين للتوغل في الإمبراطورية الفارسية.<br>* غنم المسلمون العديد من الغنائم.<br>* فرار يزيدجرد الثالث "ملك الفرس" |

(ب) عرف ما يلي:

١ - خلافة:

رياسة دنيوية ودينية غايتها حمل الناس على ما فيه صلاحهم.

٢ - قبيلة:

مجموعة من الناس تربطهم رابطة القرابة والنسب والدم.

٣ - عام الرمادة:

حدث بين عامي ١٧ و ١٨ هـ في عهد الخليفة عمر بن الخطاب ؓ حيث أصاب أهل المدينة وما حولها جوع شديد و هلك العديد من الناس .

$$(3 = \frac{1}{2} \times 6)$$

(ج) أكتب فيما يلي:

١ - محاولات اليهود لهدم الوحدة الاجتماعية الجديدة في المدينة .  
 \* إثارة البغضاء بين المهاجرين والأنصار . \* حرضوا قريشا و مشركين مكة على غزو المدينة المنورة .

\* محاولة الإيقاع بين الأوس و الخزرج .

ص ٣٧

٢ - أهم مهام السرايا في عهد الرسول ﷺ .

\* ضمان امن المدينة ومراقبة الحدود .

\* الوقوف على تحركات قريش ضد الدولة الإسلامية . \* التعرض لقوافل قريش التجارية .

ص ٤٨

٣ - نتائج فتح مكة .

\* توحيد شبه الجزيرة العربية .

\* أصبحت الدولة الإسلامية هي القوة السياسية والعسكرية الأولى في شبه الجزيرة العربية .

السؤال الخامس: (اختياري) ويتكون من ( أ - ب - ج ) :

أ) أجب عن الأسئلة التالية :

( ٦ × ١/٢ = ٣ )

ص ٤٤

- ١ - عدد أهم بنود صلح الحديبية ٦ هـ .  
 \* يرجع المسلمون هذا العام على ان يعودوا العام القادم لأداء العمرة بشرط أن تخلي قريش لهم مكة ثلاثة أيام .  
 \* وضع هدنة بين الفريقين لمدة عشر سنوات .  
 \* من أراد الدخول في عقد قريش فله ذلك ومن أراد الدخول في عهد محمد من غير قريش دخل .  
 \* من أتى محمداً من قريش مسلماً بدون إذن وليه يرد ولا ترد قريش من أتاه من عند محمد .

ص ٤٥

- ٢ - برهن على ان صلح الحديبية كان نصراً عظيماً للرسول ﷺ و دعوته .  
 \* اعتراف صريح من قريش بالدولة الإسلامية .  
 \* تفرغ المسلمين لمواجهة خطر اليهود في خيبر .  
 \* إسلام كثير من أبطال قريش .  
 \* تفرغ الرسول ﷺ لنشر الدعوة الإسلامية للملوك والأمراء .

ب) لخص انجازات الشخصيات التالية تاريخياً : ( يكتفي بانجازين لكل شخصية ) ( ٢ × ١ = ٢ )

ص ٧٨/٧٧

- ١ - الخليفة عمر بن الخطاب ؓ .  
 - أول من وضع التاريخ الهجري - أول من دون الدواوين في الإسلام - أول من مصر الأمصار - فتحت في عهده العراق و فارس و مصر و الشام - قيل انه انتصب في خلافته ١٢ ألف منبر في الإسلام .  
 ٢ - الخليفة عثمان بن عفان ؓ .  
 - كان من كتاب الوحي لرسول الله - كان سفيراً للرسول في صلح الحديبية - كان يأخذ على الوالي عهداً الا يلبس رقيقاً ولا يأكل نقياً ولا يتخذ دون حاجات الناس حجاباً - استنسخ المصحف و فرقها في الأمصار - جهز جيش العسرة و حفر بئر رومة في المدينة .

ص ٨٤

( ٤ درجات )

|   |  |
|---|--|
| نتائج غزوة خيبر ص ٤٦ ( ٢ × ١ = ٢ )  | نتائج غزوة مؤتة ص ٤٦ ( ٢ × ١ = ٢ )   |
| * إنهاء قوة اليهود في شبه الجزيرة العربية   | * استشهاد قادة المسلمين ورجوع الجيش بقيادة خالد بن الوليد                              |
| فضل المهاجرين ص ٥٦  | فضل الأنصار ص ٥٦ ( ٤ × ١/٢ = ٢ )   |
| * أول الناس إسلاماً .<br>* تحملوا عداوة قومهم والأذى<br>* تركوا أوطانهم وأهلهم .<br>* أهل الرسول و عشيرته . | * أهل البلد .<br>* قامت الدولة الإسلامية بجهادهم وأموالهم .<br>* ناصروا الرسول وأووه . |