



الفترة الدراسية  
الثالثة والرابعة  
المتوسطة

مفكرة

المصف الثاني عشر

مادة

التاريخ

أسئلة اختبارات وإجابات

نموذجية

العام الدراسي

٢٠١٥-٢٠١٦

٥١٢

السؤال الأول : ويتكون من ( أ - ب - ج - د )( أ ) اختر الإكمال المناسب من بين البدائل التي تلي كل عبارة بوضع خط تحتها :

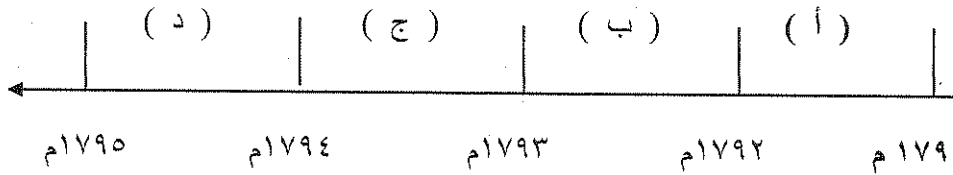
١- القانون الذي أثار أكبر قدر من المعارضة بين سكان المستعمرات في أمريكا ضد الإنجليز هو قانون :

( أ ) السكر ( ب ) التمغة ( ج ) العملة ( د ) التبغ

٢- ملك تولى عرش إنجلترا عام ١٦٨٩ م اسمه :

( أ ) جيمس الثاني ( ب ) شارل الثاني ( ج ) جورج الثالث ( د ) وليم الثالث

٣- الفترة الزمنية لعصر الإرهاب في فرنسا يمثلها على الخط الزمني الحرف :



٤- معاهدة عقدت بين النمسا و فرنسا عام ١٧٩٧م أعطت لفرنسا مكاسب كبيرة وحقت لها الفخر هي :

( أ ) معاهدة باريس ( ب ) صلح باريس ( ج ) إعلان بلننتز ( د ) كامبو فروميو

( ب ) أمامك مجموعة من العبارات ، اكتب اسم الشخصية التاريخية المناسبة لكل منها :

الاسم	العبارات
	١- كاتب ساخر عرف بنقده اللاذع للأوضاع في فرنسا .
	٢- ثائر اشتهر بمقولة (إننا هنا بإرادة الشعب ولن نبرح أماكننا إلا على أسنة الرماح).
	٣- مؤلف كتاب العقد الاجتماعي .
	٤- ملك إنجليزي سمح للكاثوليك بتولي الوظائف السياسية والعامة .

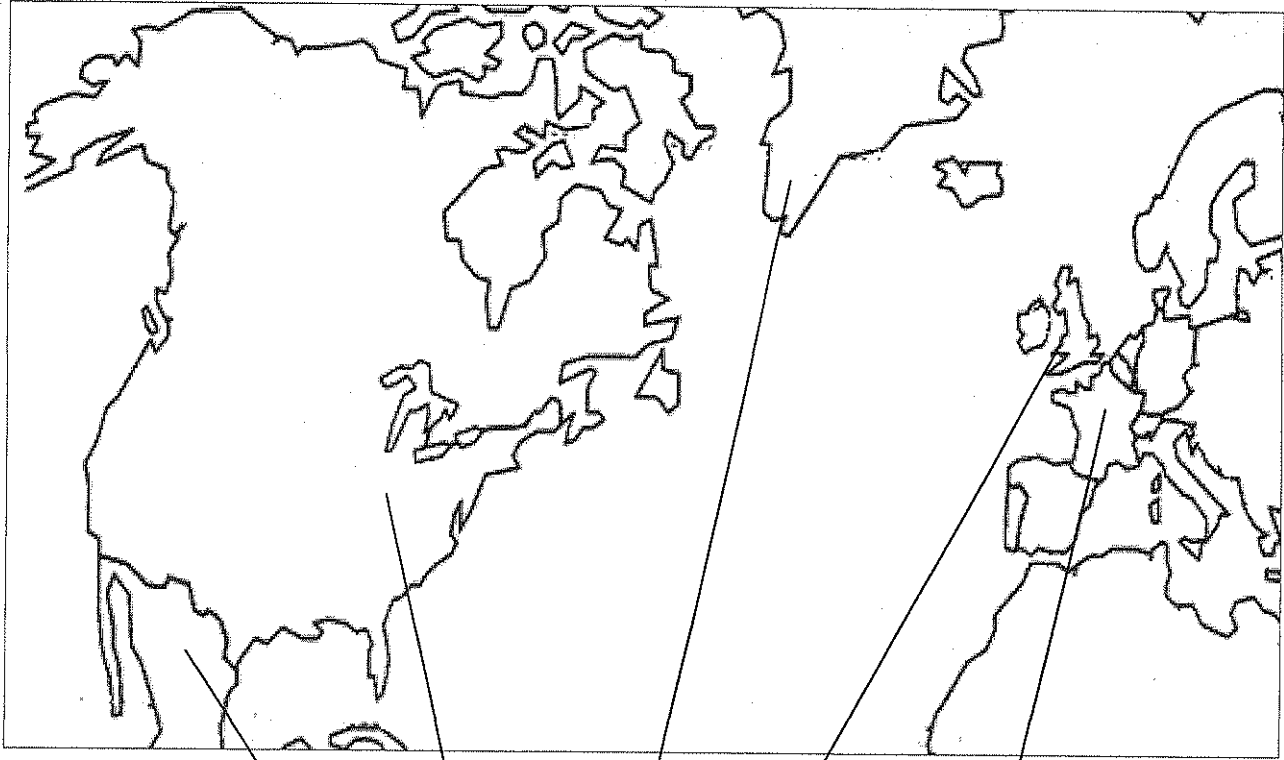
تابع / السؤال الأول :

( ج ) أمامك مجموعة من الأحداث التاريخية , صنفها حسب الجدول :

( التمثيل النيابي في مجلس العموم - صدور دستور ١٧٩١م - إعلان بلنتر - مؤتمر فيلادلفيا -  
قوانين سيئة السمعة - نظرية السيادة الشعبية )

الثورة الفرنسية	الثورة الأمريكية	الثورة الإنجليزية

( د ) لاحظ الخريطة ثم استعن بها في الإجابة :

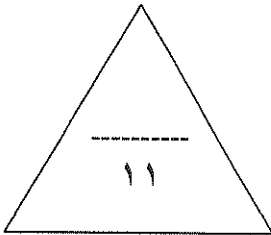


- دولة قامت بها الثورة المجيدة يمثلها الرقم ( )

- دولة لقبث ثورتها بالنموذج الشامل يمثلها الرقم ( )

- دولة ظهرت كوحدة سياسية في عام ١٧٨٣م يمثلها الرقم ( )

- حدد بالشكل ★ مستعمرة إسبانية في أمريكا الشمالية .



السؤال الثاني : ويتكون من ( أ – ب )

( أ ) ما الفرق بين ما يلي :

الطبقة الممتازة في المجتمع الفرنسي	الطبقة العامة في المجتمع الفرنسي
* ----- ----- -----	* ----- ----- -----
بنود لائحة الحقوق الإنجليزية	بنود وثيقة إعلان حقوق المواطن الفرنسية
* ----- ----- -----	* ----- ----- -----
* ----- ----- -----	* ----- ----- -----

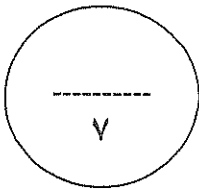
( ب ) دلل على صحة العبارات التالية :

١- حققت معركة ساراتوجا النصر الحاسم في حرب الاستقلال الأمريكية .

\*  
-----  
-----

٢- يعتبر دستور الولايات المتحدة الأمريكية من أكثر الدساتير تميزا .

-----  
-----  
-----



السؤال الثالث : ويتكون من ( أ - ب - ج )

( أ ) اذكر ردة فعل البرلمان الإنجليزي تجاه ما يلي :

١- قيام حفلة شاي بوسطن ١٧٧٣ م .

\*

\*

٢- سياسة الملك الإنجليزي جيمس الثاني .

\*

\*

( ب ) اكتب دور الشخصيات التالية :

١- المفكر الفرنسي منتيسكيو في قيام الثورة .

\*

\*

\*

٢- المفكر الإنجليزي ( جون لوك ) في إذكاء الروح الوطنية وتطور النظريات السياسية في الحكم .

\*

\*

\*



( ج ) لاحظ الصورة أمامك ثم أجب :

١- ما اسم صاحب الصورة ؟

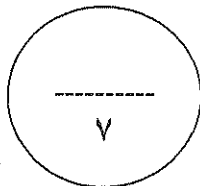
\*

٢- اذكر ثلاث من إصلاحاته الداخلية . ( مع الشرح )

\*

\*

\*



السؤال الرابع : ويتكون من ( أ - ب )

( أ ) أقرأ الفقرة التالية ثم أجب عما يليها من أسئلة :

( كان ملوك فرنسا يحكمون وفق نظرية التفويض الإلهي المقدس كسياسة لتدعيم الحكم المطلق للملكية والعروش الأوروبية وفي ظل سياسة الترف والضرائب والحروب الخاسرة استنزف ملوك فرنسا خزينة الدولة وتفاقت الأوضاع الاقتصادية مما جعل الشعب الفرنسي يعاني ويتحين الفرصة للتخلص من هذا النظام وخطر الأعداء في الداخل لاسيما النبلاء الذين هاجروا بعد أحداث سقوط حصن الباستيل . وبالرغم من أن هؤلاء النبلاء الفرنسيون كانوا يتابعون الأحداث في فرنسا بقلق شديد ويدعون ملوك أوروبا لإنقاذ الملكية الفرنسية , إلا أنهم فشلوا بعد هزيمتهم في معركة فالمي وتنفيذ الحكم بإعدام الملك لويس السادس عشر ) .

١- عرف ما تحته خط .

\*

\*

٢- اذكر النتائج التي ترتبت على ما يلي :

أ- معركة فالمي ١٧٩٢ م .

\*

\*

ب- إعدام الملك لويس السادس عشر .

\*

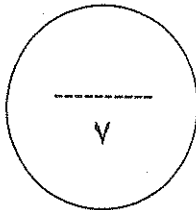
\*

( ب ) ما تفسيرك لما يلي :

- قيام الثورة الأمريكية .

\*

\*



انتهت الأسئلة ونتمنى لكم التوفيق ،،،،،،



**نموذج الإجابة**

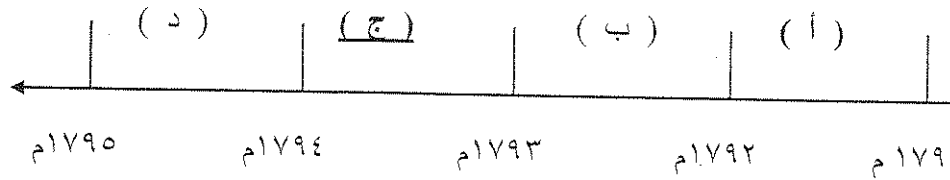
**السؤال الأول : ويتكون من ( أ - ب - ج - د )**

**( أ ) اختر الإكمال المناسب من بين البدائل التي تلي كل عبارة بوضع خط تحتها : ( أربع درجات )**

١- القانون الذي أثار أكبر قدر من المعارضة بين سكان المستعمرات في أمريكا ضد الإنجليز هو قانون : ص ٧٨  
 ( أ ) السكر ( ب ) التمغة ( ج ) العملة ( د ) التبغ

٢- ملك تولى عرش إنجلترا عام ١٦٨٩ م اسمه : ص ٧٤  
 ( أ ) جيمس الثاني ( ب ) شارل الثاني ( ج ) جورج الثالث ( د ) وليم الثالث

٣- الفترة الزمنية لعصر الإرهاب في فرنسا يمثلها على الخط الزمني الحرف : ص ٩١



٤- معاهدة عقدت بين النمسا و فرنسا عام ١٧٩٧ م أعطت لفرنسا مكاسب كبيرة وحقق لها الفخر هي : ص ٩٢  
 ( أ ) معاهدة باريس ( ب ) صلح باريس ( ج ) إعلان بلنتر ( د ) كاميو فروميو

**( ب ) أمامك مجموعة من العبارات ، اكتب اسم الشخصية التاريخية المناسبة لكل منها : (درجتان)**

الاسم	العبارات
فولتير ص ٨٥	١- كاتب ساخر عرف بنقده اللاذع للأوضاع في فرنسا .
ميرابو ص ٨٧	٢- تائر اشتهر بمقولة (إننا هنا بإرادة الشعب ولن نبرح أماكننا إلا على أسنة الرماح).
روسو ص ٨٥	٣- مؤلف كتاب العقد الاجتماعي .
جيمس الثاني ص ٧٣	٤- ملك إنجليزي سمح للكاثوليك بتولي الوظائف السياسية والعامه .

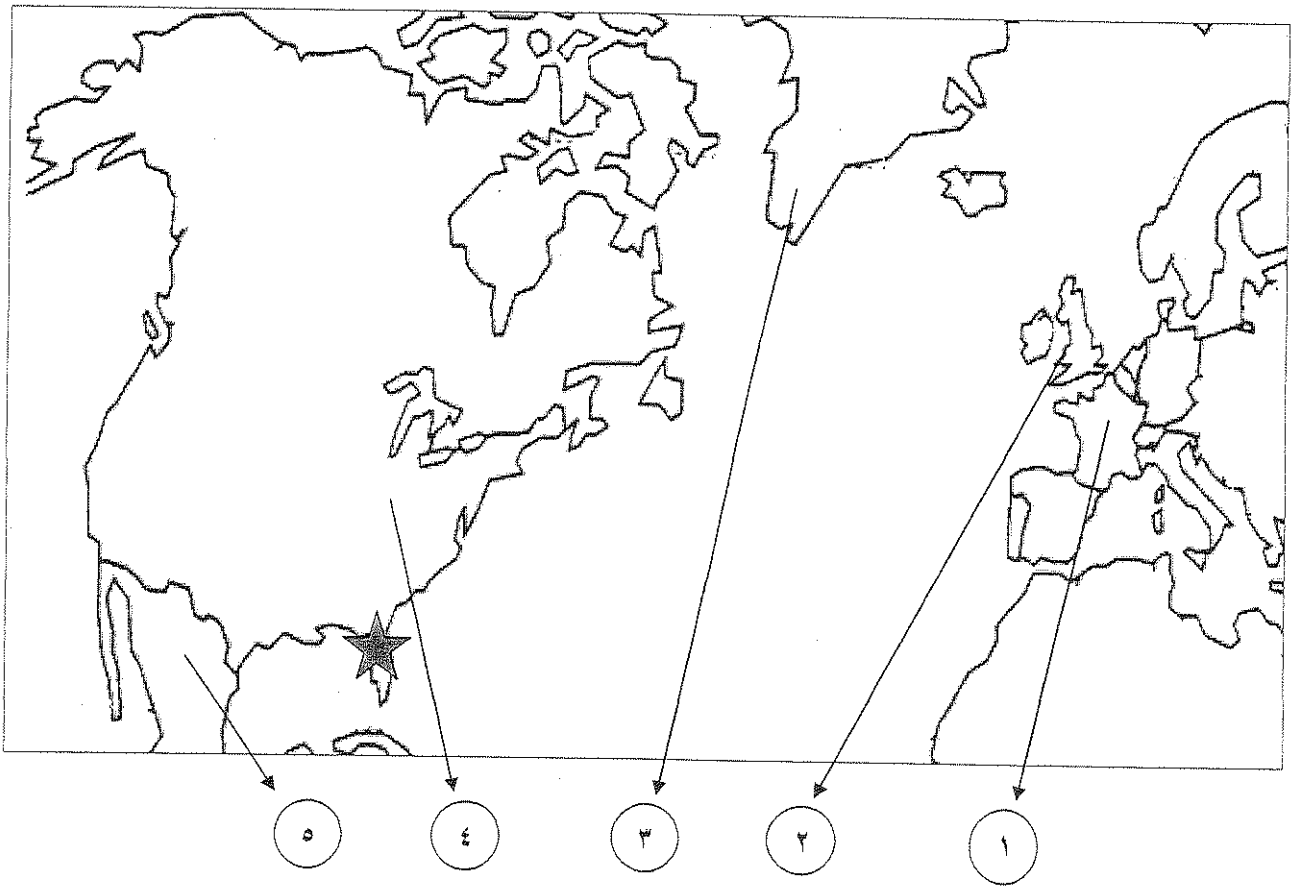
( ج ) أمامك مجموعة من الأحداث التاريخية , صنّفها حسب الجدول : ( ثلاث درجات )

( التمثيل النيابي في مجلس العموم - صدور دستور ١٧٩١م - إعلان بلنترز - مؤتمر فيلادلفيا -  
قوانين سيئة السمعة - نظرية السيادة الشعبية )

الثورة الفرنسية	الثورة الأمريكية	الثورة الإنجليزية
<u>٩٠</u> - إعلان بلنترز	<u>٨٠</u> - مؤتمر فيلادلفيا	<u>٧٥</u> - التمثيل النيابي في مجلس العموم
<u>٨٩</u> - صدور دستور ١٧٩١م	<u>٧٨</u> - قوانين سيئة السمعة	<u>٧٦</u> - نظرية السيادة الشعبية

( درجتان )

( د ) لاحظ الخريطة ثم استعن بها في الإجابة :



ص ٧٣

- دولة قامت بها الثورة المجيدة يمثلها الرقم ( ٢ )

ص ٨٣

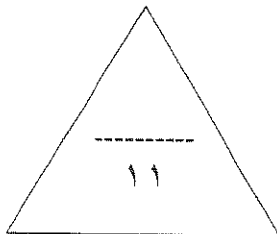
- دولة لقبّت ثورتها بالنموذج الشامل يمثلها الرقم ( ١ )

ص ٨٢

- دولة ظهرت كوحدة سياسية في عام ١٧٨٣م يمثلها الرقم ( ٤ )

ص ٧٧

- حدد بالشكل ★ مستعمرة أسبانية في أمريكا الشمالية . ( فلوريدا )





السؤال الثاني : ويتكون من ( أ - ب )

( أ ) ما الفرق بين ما يلي :

درجة لكل فرع ( أربع درجات )

الطبقة الممتازة في المجتمع الفرنسي ص ٨٥	الطبقة العامة في المجتمع الفرنسي ص ٨٥
تشمل الطبقة الأرستقراطية الغنية ورجال الدين حيث تمتعوا بجميع المزايا الاجتماعية من ارتفاع مكانتهم في المجتمع وكذلك تولي المناصب العليا في الدولة والجيش وليس عليهم أي حقوق تجاه الدولة , وعرفت هذه الطبقة كذلك بالتصاقها الشديد بالملك وكانت تمثل أقلية لا تزيد عن ١% من مجموع الشعب الفرنسي .	وتشمل عامة الشعب من الزراعة والصناع وأصحاب الحرف وصغار التجار , وتمثل نحو ٩٩% من مجموع الشعب الفرنسي حيث عانت هذه الطبقة من جميع صنوف الظلم والاستعباد وفرضت عليهم جميع أنواع الضرائب واستبعدت من جميع الوظائف العليا في الدولة مما حدا بهذه الطبقة أن تعيش في بؤس وشفاء شديدين جعلها تتحين الفرصة للتخلص من هذا النظام الذي أثقل كاهلها .
بنود لائحة الحقوق الإنجليزية ص ٧٤	بنود وثيقة إعلان حقوق المواطن الفرنسية ص ٨٨
١- لا يجوز للملك أبطال أو تعديل قانون صادر عن البرلمان . ٢- لا يحق للملك فرض ضرائب جديدة أو تشكيل جيش أو إعلان الحرب دون موافقة البرلمان . ٣- للبرلمان الحق الكامل في التعبير عن آرائهم بحرية تامة . ٤- أعطي البرلمان حصانة للمواطنين بحيث لا يمكن اعتقال مواطن دون محاكمة تجري وفق القوانين السائدة . <u>يكتفى بنقطتين</u>	١- يولد الناس أحراراً متساوين في الحقوق والواجبات . ٢- إن هدف الحكومة هو الحفاظ على الحقوق الأساسية للشعب ( الحرية/ الملكية/ الشعور بالأمن/ مقاومة الظلم ) ٣- الأمة هي صاحبة السيادة . ٤- لا عقوبة بدون قانون . ٥- المتهم بريء حتى تثبت إدانته . ٦- الجيش في خدمة الشعب والدفاع عنه لا لخدمة الملك وأغراضه الخاصة . <u>يكتفى بنقطتين</u>

( ب ) دلل على صحة العبارات التالية :

١- حققت معركة ساراتوجا النصر الحاسم في حرب الاستقلال الأمريكية . ص ٨٢ درجتان- يكتفى بنقطتين  
لأن جيش واشنطن استطاع أن يحسم الأمر لصالحه , وقد أفرزت المعركة عدة نتائج خطيرة أهمها :

أ- خسر الإنجليز جيشاً كاملاً من ستة آلاف جندي واستسلم .

ب- سيطر الأمريكيون على حوض هدسون .

ج- اعترف فرنسا باستقلال الثوار الأمريكيين ودخلها الحرب إلى جانبهم .

د- زاد تعاطف الشعوب الأوروبية مع الثورة الأمريكية .

٢- يعتبر دستور الولايات المتحدة الأمريكية من أكثر الدساتير تميزاً . ص ٨٢ درجة واحدة- يكتفى بنقطتين

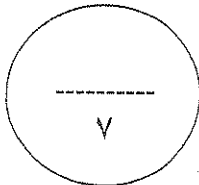
\* امتاز بالفصل التام بين السلطات الثلاث ( التنفيذية / القضائية / التشريعية ) .

\* وأكد على حق الفرد المطلق في الحرية والمساواة والاعتقاد وحرية الصحافة .

\* أكد على عدم تعارض السلطات المحلية مع السلطات الفدرالية بل تعمل معا في تناغم .

\* أشار إلى أن الدستور وضع لحماية حقوق الناس والمحافظة عليها .

\* أكد على مرونة الدستور وقابليته للتغيير والتعديل .



## السؤال الثالث : ويتكون من ( أ - ب - ج )

### ( أ ) اذكر ردة فعل البرلمان الإنجليزي تجاه ما يلي :

ص ٧٩ / درجتان - يكتفى بنقطتين

١- قيام حفلة شاي بوسطن ١٧٧٣ م :

- \* أعلن بوسطن منطقة اضطرابات ويجب إخضاعها للقوانين الإنجليزية بكل حزم وشدة .
- \* اتخذ البرلمان الإنجليزي عدة قرارات لمعاقبة ميناء بوسطن على النحو التالي :
- ١- إغلاق ميناء بوسطن حتى يتم دفع ثمن الشاي .
- ٢- تعيين الجنرال جيدج حاكما عسكريا على بوسطن .
- ٣- منع الاجتماعات إلا بإذن من السلطات العسكرية الإنجليزية .
- ٤- وقد عرفت تلك القوانين باسم ( القوانين الجائرة ) .

ص ٧٣ / درجة - يكتفى بنقطتين

٢- سياسة الملك الإنجليزي جيمس الثاني :

- \* رفض البرلمان وبقوة سياسة الملك وأصر على ضرورة احترام القوانين السائدة وتطبيقها .
- \* أثار ضده موجة هائلة من العداة في جميع إنجلترا , ولأنه تجاوز سلطات البرلمان وحقوقه فقد عارضه أنصاره لما انتهجه من سياسة ملكية مطلقة .
- \* بات على رجال البرلمان أن يتخذوا قرار حازم إذا أرادوا إيقاف الملك عند حد معين .
- \* اتفق رجال البرلمان والسياسيون المعارضون للملك على مخاطبة ابنته ماري وزوجها وليم أورانج ملك هولندا بدعونه للمجيء إلى إنجلترا وتسلم العرش مع زوجته .
- \* عمد البرلمان في اجتماع يناير سنة ١٦٨٩ م إلى إعلان أن العرش خال وأنه لم يعد للملك الهارب أي حقوق عليه .
- \* انتخب وليم أورانج ليمارس مهام الملك الإنجليزي مع زوجته ماري ابنة الملك جيمس الثاني ووريثة عرشه الشرعية .
- \* جرى تتويج وليم الثالث رسميا بعد أن قبل علنا بلائحة الحقوق الإنجليزية التي أقرها البرلمان .

### ( ب ) اكتب دور الشخصيات التالية :

ص ٨٥ / درجة

١- المفكر الفرنسي منتيسكيو في قيام الثورة :

- \* صاحب كتاب ( روح القوانين ) الصادر في ١٧٤٨ م , وكان معجبا بالنظام الإنجليزي المقيد لسلطات الملك .
- \* كان يعتقد أن النظام الملكي البرلماني الإنجليزي هو النظام الملائم لفرنسا حيث يقوم على أساس الدستور وعلى أساس البرلمان المنتخب والملك المقيد السلطات .

٢- المفكر الإنجليزي ( جون لوك ) في إنكاء الروح الوطنية وتطور النظريات السياسية في الحكم : ص ٧٦ / درجة

- \* ساهم في تطور النظريات السياسية - في نظريته المشهورة ( السيادة الشعبية ) .
- \* فقد قال : ( إن كل فرد له حقوق طبيعية في الحياة والحرية والتملك , وقد تعارف الناس على تأسيس الحكومات لحماية هذه الحقوق , فإذا فشلت الحكومة في القيام بمهمتها فإن الشعب له الحق في الثورة عليها وطردها من الحكم , فالشعب إذن هو الحاكم الحقيقي والقوة التي تسند العرش , ولما كان الشعب هو مجموعة من الأفراد متساويين في الحقوق فيجب أن تتحكم أغلبية هؤلاء الأفراد في تقرير الأمور ) .
- \* ولقد انتشرت هذه الأفكار في أمريكا وفرنسا وفيما بعد أصبحت القاعدة لمعظم دساتير العالم

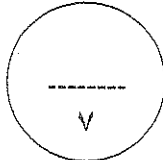


### ( ج ) لاحظ الصورة أمامك ثم أجب :

١- ما اسم صاحب الصورة ؟ \* نابليون بونابرت ص ٩٢ / نصف درجة

٢- اذكر ثلاث من إصلاحاته الداخلية . ص ٩٣ / نصف لكل نقطة - يكتفى بثلاث نقاط

- \* الإصلاح الإداري : اهتم بالإدارة وأصدر قانونا سنة ١٨٠٠م الذي تبني التقسيم الإداري القديم الذي أصدرته الجمعية الوطنية إلا أنه جعل الحكام يعينون من قبل القنصل الأول ( نابليون ) .
- \* القانون المدني : أصدر قانونا يعرف ب( قانون نابليون ) في ١٨٠٤م حيث أعطى هذا القانون فرنسا والعالم كله تشريعا يحافظ على القيم والتقاليد القديمة في مجال الأسرة والملكية الخاصة .
- \* إصلاح أوضاع الكنيسة : في ١٦ يوليو ١٨٠١م وقع نابليون مع البابا ( بيوس السابع ) اتفاقا نهائيا اعترفت فرنسا فيه بالكنيسة الكاثوليكية وسيادتها الروحية وفي المقابل اعترفت البابوية بقوانين مصادرة أملاك الكنيسة التي أصدرتها الثورة ويتم تعيين رجال الكنيسة بالتعاون بين البابوية والدولة الفرنسية .
- \* إصلاح التعليم : وضع نابليون مشروعا لتنظيم التعليم في كل أنحاء فرنسا والعمل على مجانية التعليم للفقراء وخاصة التعليم الثانوي وبذلك أتاح للطبقات الفقيرة إمكانية التعليم .



السؤال الرابع : ويتكون من ( أ - ب )

( أ ) أقرأ الفقرة التالية ثم أجب عما يليها من أسئلة :

( كان ملوك فرنسا يحكمون وفق نظرية التفويض الإلهي المقدس كسياسة لتدعيم الحكم المطلق للملكية والعروش الأوروبية وفي ظل سياسة الترف والضرائب والحروب الخاسرة استنزف ملوك فرنسا خزينة الدولة وتفاقت الأوضاع الاقتصادية مما جعل الشعب الفرنسي يعاني ويتحين الفرصة للتخلص من هذا النظام وخطر الأعداء في الداخل لاسيما النبلاء الذين هاجروا بعد أحداث سقوط حصن الباستيل . وبالرغم من أن هؤلاء النبلاء الفرنسيون كانوا يتابعون الأحداث في فرنسا بقلق شديد ويدعون ملوك أوروبا لإنقاذ الملكية الفرنسية , إلا أنهم فشلوا بعد هزيمتهم في معركة فالمي وتنفيذ الحكم بإعدام الملك لويس السادس عشر ) .

١- عرف ما تحته خط :

\* الحكم المطلق : إن الملك لا يستمد قوته من الشعب بل من الله الذي اختاره لشعبه فهو مسؤول أمام الله وحده وليس لأحد من الشعب أن يحاسبه على أعماله .  
ص ٧٣ / درجة

٢- اذكر النتائج التي ترتبت على ما يلي :

ص ٩٠ / درجتان - يكتفى بنقطتين

أ- معركة فالمي ١٧٩٢ م :

\* استطاع الجيش الفرنسي الانتصار . \* أنقذت أفكار الثورة الفرنسية من الضياع . \* حالت دون وقوع باريس . \* رفعت الروح المعنوية للفرنسيين . \* تحول جيش الثورة بعدها من الدفاع إلى الهجوم . \* أصبح جيش فرنسا مصدر رعب للدول الأوروبية فيما بعد .

ص ٩١ / درجتان

ب- إعدام الملك لويس السادس عشر :

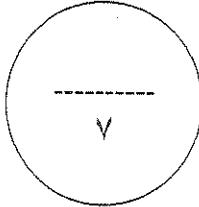
\* في الداخل : اندلعت الثورة المضادة من أصحاب تيار الملكية الدستورية .  
\* وفي الخارج : تشكل التحالف الدولي الأول ضد الثورة الفرنسية بانضمام كل : ( من إنجلترا وأسبانيا والبابوية والدويلات الإيطالية وبروسيا ضد فرنسا ) في فبراير سنة ١٧٩٣ م .

( ب ) ما تفسيرك لما يلي :

ص ٧٨ / درجتان

- قيام الثورة الأمريكية :

\* تطبيق قوانين الاحتكار التجاري وقوانين الملاحة ( ١٦٥١ / ١٦٧٣ م ) والتسلط على المستعمرات الإنجليزية بقوة وحزم لاسيما في عهد الملك جورج الثالث .  
\* فرض ضرائب باهظة جديدة على المستعمرات والتي كانت إنجلترا تيررها بالمصروفات اللازمة للجيش البريطاني لحماية المستعمرات , ولعل تلك الضرائب الجديدة كانت بمثابة الشرارة التي انطلقت منها الثورة الأمريكية والتي أطلق عليها الأمريكيون الضرائب سيئة السمعة أو ( القوانين السيئة ) .



وزارة التربية  
الإدارة العامة لمنطقة العاصمة التعليمية للصف الثاني عشر ( أدبي ) الزمن : ساعة كاملة  
التوجيه الفني للاجتماعيات عدد الصفحات : ٥

**السؤال الأول : ويتكون من ( أ - ب - ج - د - هـ ) :**

( أ ) : **اقرأ أسماء الشخصيات التالية بدقة ثم ضع الحرف المناسب لكل منها :-**


- الحرف ( أ ) إذا كانت الشخصية تخص الثورة الانجليزية .
- الحرف ( ب ) إذا كانت الشخصية تخص الثورة الأمريكية .
- الحرف ( ج ) إذا كانت الشخصية تخص الثورة الفرنسية .

م	الشخصيات	الحرف المناسب
١	ميرابو - دانتون - نيكر	
٢	شارل الخامس - جيمس الثاني - ولیم الثالث	
٣	صاموئيل آدمز - لي - جورج واشنطن	

( ب ) : **اختر البديل المناسب من بين**

**البدائل التالية لكل عبارة مما يأتي :**

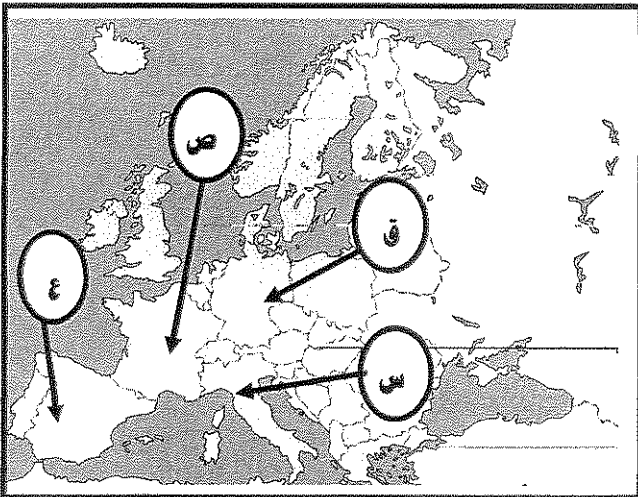
- ١- الشكل المقابل يشير إلى حدث هام من أحداث الثورة الأمريكية هو :
- أ - مذبحة بوسطن
  - ب - الكونجرس الأول
  - ج - حفلة شاي بوسطن
  - د - معركة لکنجستون



٢- عدد النواب الأمريكيين الذين اجتمعوا عام ١٧٨٧ م لوضع الدستور الأمريكي.  
( ٣٥ نائب - ٤٥ نائب - ٥٥ نائب - ٦٥ نائب )

٣- الدولة الأوروبية التي هرب لها الملك الإنجليزي جيمس الثاني عام ١٦٨٩ م . تحمل على الخريطة المقابلة الحرف :

( س - ص - ع - ق )



( ج ) صنف المدن التالية حسب الأحداث الواردة في الجدول التالي :  
( فردان - جيمس تاون - بوسطن - يورك تاون - فيلادلفيا - فلوريدا )

اسم الشخصية	أعمال الشخصية
	المدينة الأمريكية التي خرجت منها صحبات المعارضة ضد القوانين الجديدة .
	مدينة فرنسية تسمى مفتاح باريس الشمالي
	المستعمرة الأسبانية الوحيدة في أمريكا الشمالية .
	أول مستعمرة انجليزية تم تأسيسها في أمريكا الشمالية . .
	أهم مواقع الجيش الإنجليزي التي استولى عليه جورج واشنطن عام ١٧٨٣م
	المدينة التي عقد فيها مؤتمرين للكونجرس الأمريكي

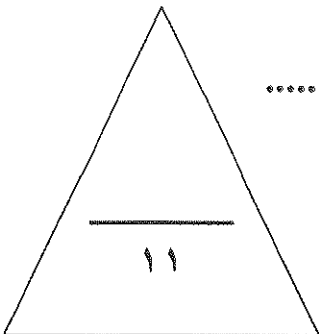
( د ) : اكتب المدلول المناسب لكل مما يأتي :

- ١ [ ..... ] معاهدة بين كل من فرنسا والنمسا حقت للفرنسيين الفخر والعزة ضد النمسا .
- ٢ [ ..... ] مجموعة من القوانين سنّها البرلمان الإنجليزي بعد حفلة شاي بوسطن .
- ٣ [ ..... ] كتاب أطلق عليه إنجيل الثورة الفرنسية .
- ٤ [ ..... ] جمعية قامت بتنظيم المعارضة الأمريكية ومقاومة الضرائب ضد الإنجليز
- ٥ [ ..... ] معركة انتصر فيها نابليون الفرنسي على النمسا عام ١٧٩٧ م .

( هـ ) : إكمل العبارات التالية بما يناسبها من كلمة لكل مما يلي :-


- ١ ( البابا الذي وقع معه نابليون اتفاقاً عام ١٨٠١ اسمه ..... )
- ٢ ( ملكة فرنسا النمساوية التي اعتبرت عدوة للشعب الفرنسي اسمها ..... )
- ٣ ( زعيم فرجينيا الأمريكي الذي تقدم للكونجرس باقتراح يدعو للاستقلال اسمه ..... )
- ٤ ( الملك الإنجليزي الذي سمح للكاثوليك بتولي الوظائف العامة اسمه ..... )
- ٥ ( قائد القوات الفرنسية في حرب الاستقلال الأمريكية اسمه ..... )

درجة السؤال الأول ..... فقط



السؤال الثاني : يتكون من (أ-ب-ج )

(أ) : « لاحظ الصورة التالية جيداً ثم أجب عن الأسئلة في الجدول التالي

	الصورة
.....	التاريخ
.....	أهم النتائج

( ب ) : دلل على صدق العبارات التالية

١ - استحالة التوافق بين الحاكم والمجلس المنتخب في المستعمرات الانجليزية في أمريكا

.....  
.....

٢ - كان تأثير نتائج الثورة الانجليزية واضحاً على الملكية الانجليزية و الملكيات بصفة عامة

.....  
.....

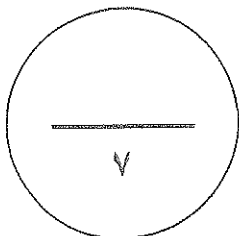
( ج ) علل ما يأتي :

١ - اشتراك فرنسا في حرب الاستقلال الأمريكية

.....

٢ - لحق قانون التمتع في أمريكا أكبر قدر من المعارضة

.....



درجة السؤال الثاني ..... فقط

السؤال الثالث يتكون من ( أ - ب - ج )

أ- مرت الثورة الفرنسية بالكثير من الفترات في ضوء ذلك اكتب مذكرة تاريخية عن الفترات

التالية :

<b>حكومة الإدارة</b>	<b>عصر الإرهاب</b>
.....	.....
.....	.....

( ب ) فند العبارات التالية :

١- ( يدعي بعض المعاصرين بأن معركة ساراتوجا معركة صغيرة و قليلة الأثر في التاريخ الأمريكي )  
هذه العبارة خاطئة حيث ترتبت عليها النتائج التالية :

.....  
.....

٢- ( تعتبر آراء المفكر الفرنسي فولتير مؤيدة للحكم المطلق المستبد )

.....  
.....

( ج ) : اكتب فيما يلي :

( ١ ) نتائج الثورة الأمريكية ..

.....  
.....  
.....

( ٢ ) صدور الدستور الفرنسي عام ١٧٩١ م ..

.....  
.....  
.....

درجة السؤال الثالث ..... فقط

السؤال الرابع : يتكون من ( أ - ب - ج ) :

( أ ) : بعد دراستك لأحداث الثورتين الأمريكية والفرنسية فرق بين كل من :

نتائج حرب السنين السبع ( على سكان المستعمرات )	نتائج حرب السنين السبع ( على إنجلترا )
..... -	..... -
..... -	..... -

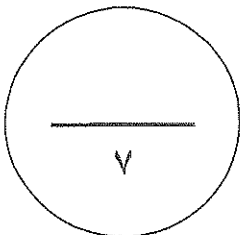
العوامل السياسية للثورة الفرنسية	العوامل الاقتصادية للثورة الفرنسية
..... -	..... -
..... -	..... -

( ب ) : عدد - أهم ( المكتسبات ) لوثيقة الحقوق الإنجليزية .

..... -  
..... -

( ج ) : قارن بين الطبقة الممتازة والعامّة من حيث الجدول الذي أمامك :

المقارنة	الطبقة الممتازة	الطبقة العامة
النسبة		
التعريف		



درجة السؤال الرابع ..... فقط



وزارة التربية ( ( اختبار الفترة الثالثة )) المادة: تاريخ العالم الحديث و المعاصر  
الإدارة العامة لمنطقة العاصمة التعليمية للصف الثاني عشر ( أدبي ) الزمن : ساعة كاملة  
التوجيه الفني للاجتماعيات عدد الصفحات : ٥

**السؤال الأول : ويتكون من ( أ - ب - ج - د - هـ ) :**

( أ ) : **اقرأ أسماء الشخصيات التالية بدقة ثم ضع الحرف المناسب لكل منها :-** درجة ونصف لكل درجة -

- الحرف ( أ ) إذا كانت الشخصية تخص الثورة الانجليزية .
- الحرف ( ب ) إذا كانت الشخصية تخص الثورة الأمريكية .
- الحرف ( ج ) إذا كانت الشخصية تخص الثورة الفرنسية .


م	الشخصيات	الحرف المناسب
١	ميرابو ص ٨٧ - دانتون ص ٩١ . نيكر ص ٨٧	( ج )
٢	شارل الخامس ص ٧٣ - جيمس الثاني ص ٧٣ - وليم الثالث ص ٧٤	( أ )
٣	سامونيل آدمز ص ٧٩ - لي ص ٨١ - جورج واشنطن ص ٧٨	( ب )

( ب ) : **اختر البديل المناسب من بين**

**البدائل التالية لكل عبارة مما يأتي :**

درجة ونصف لكل درجة

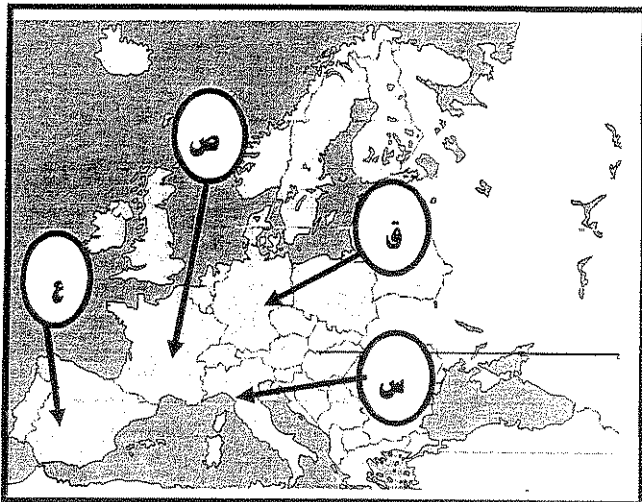
- ١- الشكل المقابل يشير إلى حدث هام من أحداث الثورة الأمريكية هو : ص ٧٩
  - أ - مذبحه بوسطن
  - ب - الكونجرس الأول
  - ج - حفلة شاي بوسطن
  - د - معركة لکنجستون



٢ - عدد النواب الأمريكيين الذين اجتمعوا عام ١٧٨٧ م لوضع الدستور الأمريكي.  
( ٣٥ نائب - ٤٥ نائب - ٥٥ نائب - ٦٥ نائب ) ص ٨٢

٣ - الدولة الأوروبية التي هرب لها الملك الانجليزي جيمس الثاني عام ١٦٨٩ م . تحمل على الخريطة المقابلة الحرف : ص ٧٤

( س - ص - ع - ق )



( ج ) صنف المدن التالية حسب الأحداث الواردة في الجدول التالي :  
( فردان - جيمس تاون - بوسطن - يورك تاون - فيلادلفيا - فلوريدا )

اسم الشخصية	أعمال الشخصية	تلات لكل نصف
بوسطن ص ٧٩	المدينة الأمريكية التي خرجت منها صيحات المعارضة ضد القوانين الجديدة .	
فردان ص ٩٠	مدينة فرنسية تسمى مفتاح باريس الشمالي	
فلوريدا ص ٧٧	المستعمرة الأسبانية الوحيدة في أمريكا الشمالية .	
جيمس تاون ص ٧٦	أول مستعمرة انجليزية تم تأسيسها في أمريكا الشمالية . .	
يورك تاون ص ٨٢	أهم مواقع الجيش الإنجليزي التي استولى عليه جورج واشنطن عام ١٧٨٣م	
فيلادلفيا ص ٨٠	المدينة التي عقد فيها مؤتمرين للكونجرس الأمريكي	

( د ) : اكتب المدلول المناسب لكل مما يأتي :

درجتين ونصف لكل نصف

- ١ [ كامبوفروميو ] . معاهدة بين كل من فرنسا والنمسا حققت للفرنسيين الفخر والعزة ضد النمسا . ص ٩٢
- ٢ [ القوانين الجائرة .. ] مجموعة من القوانين سنها البرلمان الانجليزي بعد حفلة شاي بوسطن . ص ٧٩
- ٣ [ ..العقد الاجتماعي .. ] كتاب أطلق عليه إنجيل الثورة الفرنسية . ص ٨٥
- ٤ [ ..أبناء الحرية .. ] جمعية قامت بتنظيم المعارضة الأمريكية ومقاومة الضرائب ضد الانجليز ص ٧٨
- ٥ [ ..ريفولي ... ] معركة انتصر فيها نابليون الفرنسي على النمسا عام ١٧٩٧ م . ص ٩٢

( هـ ) : إكمل العبارات التالية بما يناسبها من كلمة لكل مما يلي :-

درجتين ونصف لكل نصف

- ١ البابا الذي وقع معه نابليون اتفاقاً عام ١٨٠١ اسمه ..... بيوس التاسع ... ص ٩٣
- ٢ ملكة فرنسا النمساوية التي اعتبرت عدوة للشعب الفرنسي اسمها ... ماري أنطوانيت ص ٨٤
- ٣ زعيم فرجينيا الأمريكي الذي تقدم للكونجرس باقتراح يدعو للاستقلال اسمه . الجنرال لي .. ص ٨١
- ٤ - الملك الانجليزي الذي سمح للكاثوليك بتولي الوظائف العامة اسمه ..... جيمس الثاني . ص ٧٣
- ٥ قائد القوات الفرنسية في حرب الاستقلال الأمريكية اسمه .... لافاييت . ص ٨٢

**السؤال الثاني : يتكون من (أ- ب- ج )**

(أ) : « لاحظ الصورة التالية جيداً ثم أجب عن الأسئلة في الجدول التالي

	الصورة ص ٨٨
..... ١٧٨٩ م ..... درجة واحدة .....	التاريخ
درجتان (يكتفى بنقطتين)	أهم النتائج - انتشار الفوضى في كل مكان . - مهاجمة الفلاحين لقصور النبلاء . - هجرة النبلاء خارج فرنسا . - توقف الفلاحين عن دفع الضرائب

**( ب ) : دلي على صدق العبارات التالية**

١- استحالة التوافق بين الحاكم والمجلس المنتخب في المستعمرات الانجليزية في أمريكا ص ٧٧

\_\_\_\_\_ درجة واحدة لكل نصف (يكتفى بنقطتين)

- الحاكم يفضل مصلحة الملك الذي يمثله بغض النظر عن مصالح الشعب الأمريكي
- ... بينما المجلس المنتخب يفضل مصلحة الشعب في المقام الأول ويدافع عنها باستماتة

٢- كان تأثير نتائج الثورة الانجليزية واضحاً على الملكية الانجليزية و الملكيات بصفة عامة ص ٧٥

\_\_\_\_\_ درجة واحدة لكل نصف (يكتفى بنقطتين)

- انتشار فكرة المجالس النيابية في العالم.. - ادراك الفرد لحقوقه السياسية - تطوير النظريات السياسية
- - تطبيق نظام المجلسين - طبقت معظم الدول ( الدوائر الانتخابية)

**( ج ) علل لما يأتي :**

١- اشتراك فرنسا في حرب الاستقلال الأمريكية \_\_\_\_\_ درجة واحدة ص ٨٦

\_\_\_ للثأر لكرامتها من جراء هزيمتها في حرب السنين السبع .

٢- لقى قانون التمغة في أمريكا أكبر قدر من المعارضة. \_\_\_\_\_ درجة واحدة ص ٧٨

لأنه أصاب رجال الصحافة والكتاب ورجال المال والأعمال الذين كان لهم نفوذ قوي في التأثير على الرأي العام

## السؤال الثالث يتكون من ( أ - ب - ج )

أ- مرت الثورة الفرنسية بالكثير من الفترات في ضوء ذلك اكتب مذكرة تاريخية عن الفترات

التالية :

<p><b>حكومة الإدارة</b></p> <p>ص ٩٢</p> <p>فترة من فترات الثورة الفرنسية تعتبر فترة انتقال من عهد الاضطرابات والثورات إلى الحكم الامبراطوري</p>	<p><b>عصر الإرهاب</b></p> <p>ص ٩١</p> <p>فترة من فترات الثورة الفرنسية سيطر فيها زعماء اليقابة المتشددين قتلوا فيها المعارضين ( ١٧٩٣ - ١٧٩٤ )</p>
---	---

درجتين لكل درجة

( ب ) فند العبارات التالية :

١- ( يدعي بعض المعاصرين بأن معركة ساراتوجا معركة صغيرة و قليلة الأثر في التاريخ الأمريكي )

ص ٨٢

هذه العبارة خاطئة حيث ترتبت عليها النتائج التالية :

- خسر الانجليز ستة آلاف جندي - سيطرة الأمريكان على حوض هوسن
- دخول فرنسا الحرب بجوار أمريكا - تعاطف الشعوب الأوروبية مع الأمريكية

٢- ( تعتبر آراء المفكر الفرنسي فولتير مؤيدة للحكم المطلق المستبد ) ص ٨٥

هذه العبارة خاطئة حيث ::

- أهم مؤلفاته عهد لويس ١٤ . - دعا في كتاباته الساخرة إلى :  
أ- المساواة ونقد طغاة فرنسا - انتقد الحكم المطلق المستبد . - انتقد القوانين الفرنسية ونظام الضرائب  
- كان الأكثر انتشاراً وشهرة بسبب موهبته في توجيه النقد اللاذع والسخرية وعدم خوفه من السجن والنفي

( ج ) : اكتب فيما يلي :

( ١ ) نتائج الثورة الأمريكية .. درجة ونصف لكل نصف ص ٨٣

- (أ)..... انتشار عدوى الثورة في أمريكا اللاتينية.....
- (ب)..... تشجيع سكان مستعمرات انجلترا في آسيا و أفريقيا على القيام بثورة
- (ج)..... قيام الثورة الفرنسية.....

( ٢ ) صدور الدستور الفرنسي عام ١٧٩١م درجة ونصف لكل نصف ص ٨٩

- ..... بقاء الملكية
- ..... الملك موظف كبير لدى الدولة
- ..... سحب جميع الصلاحيات من الملك - للملك حق اختيار وزارة .

## السؤال الرابع : يتكون من ( أ - ب - ج ) :

( أ ) : بعد دراستك لأحداث الثورتين الأمريكية والفرنسية فرق بين كل من : ٤ درجات لكل درجة ( يكتفى بنقطتين )

( نتائج حرب السنين السبع ) على سكان المستعمرات ص ٧٨	( نتائج حرب السنين السبع ) على إنجلترا ص ٧٧
- شعورهم بقوتهم الحقيقية - بروز أبطال مثل واشنطن - زوال التهديد الخارجي - التوسع نحو الغرب	- معاناة إنجلترا من أزمة حادة - زيادة نفقات الدولة - فرض ضرائب على المستعمرات

العوامل الاقتصادية للثورة الفرنسية : ص ٨٦	العوامل السياسية للثورة الفرنسية : ص ٨٤
١ - خسارة فرنسا في حرب السنين السبع. ٢ - مشاركة فرنسا في حرب الاستقلال . ٣ - سياسة الامتيازات والإعفاءات الضريبية ٤ - حياة الترف والبدخ التي يعيشها الملوك والأمراء	١ - سيادة نظرية الحق الإلهي ٢ - عدم مشاركة الشعب في الحكم ٣ - الهزائم العسكرية للجيش الفرنسي ٤ - ضعف شخصية الملك لويس ١٦

( ب ) : عدد - أهم ( المكتسبات ) لوثيقة الحقوق الإنجليزية . درجة واحدة لكل نصف ( يكتفى بنقطتين )

ص ٧٤

- لا يجوز للملك تعديل قانون. -- لا يجوز للملك فرض ضرائب.  
- التعبير عن الآراء بحرية تامة. -- حصانة للمواطنين.

( ج ) : قارن بين الطبقة الممتازة والعامّة من حيث الجدول الذي أمامك : ص ٨٥ درجتين لكل نصف

المقارنة	الطبقة الممتازة	الطبقة العامة
النسبة	١ %	٩٩ %
التعريف	تشمل الاقطاعيين ورجال الدين لهم كل الحقوق وليس عليهم أية واجبات	تشمل عامة الشعب من العمال والفلاحين ليس لهم حقوق وعليهم كل الواجبات

مع تمنياتنا لجميع الطلاب بالنجاح والتوفيق ،،،،



وزارة التربية  
منطقة الهراء التعليمية  
التوجيه الفني للاجتماعيات

امتحان الفترة الدراسية الثالثة  
الصف الثاني عشر  
تاريخ العالم الحديث والمعاصر

الفصل الدراسي:- الثاني  
العام الدراسي :- ٢٠١٤/٢٠١٥م  
عدد الصفحات :- ( ٤ )

اجب عن جميع الاسئلة التالية

السؤال الأول : ويتكون من ( أ - ب - ج - د )

[[ أ ]] اكمل العبارات في الجمل التالية بما يناسبها :

- ١- قائل العبارة ( إننا هنا بإرادة الشعب ولن نبرح أماكننا إلا على أسنة الرماح ) نائب فرنسي اسمه.....
- ٢- القصر الذي أصبح سجنًا للملك لويس السادس عشر بعد القبض عليه عند قرية فارن يسمى.....
- ٣- الدولة التي هرب إليها ملك إنجلترا جيمس الثاني بعد الثورة تسمى.....
- ٤- الزعيم الأمريكي الذي قدم اقتراح يدعو المستعمرات لإعلان الاستقلال عن إنجلترا يسمى.....

[[ ب ]] انسب السنوات التالية إلى الأحداث التاريخية التي تمثلها في الجدول .

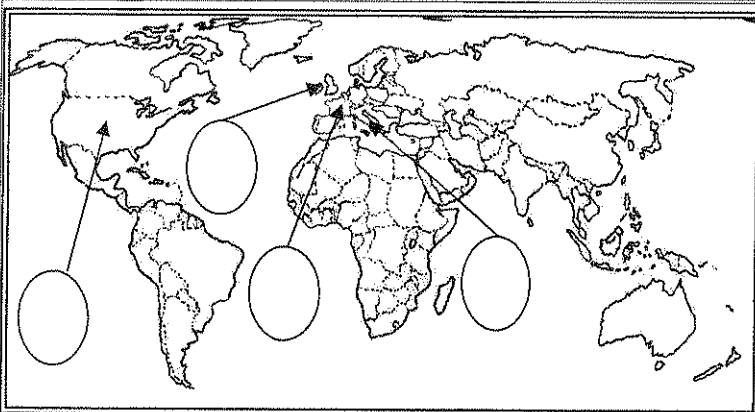
[ ١٧٧٠ م - ١٧٨٩ م - ١٧٩٣ م - ١٦٠٧ م ]

السنة	الأحداث التاريخية
	١- سقوط حصن الباستيل
	٢- اعدام لويس السادس عشر
	٣- مذبحه بوسطن
	٤- تأسيس مستعمرة جيمس تون

[[ ج ]] أكتب المدلول التاريخي المناسب للعبارات التالية :

- ١- (.....) الإعلان الذي أصدره امبراطور النمسا ليوبولد عام ١٧٩١ م لانتقاد الملكية الفرنسية
- ٢- (.....) جماعة قامت بتنظيم المعارضة ومقاومة الضرائب الجديدة التي اطلق عليها القوانين سيئة السمعة
- ٣- (.....) فترة من فترات حكم الثورة الفرنسية اخذ الناس بالشبهات واتهموا بالخيانة العظمى
- ٤- (.....) معاهدة أعطت لفرنسا مكاسب كثيرة وحققت للفرنسيين الفخر والعزة لانتصارهم على النمسا

[[ د ]] على خريطة العالم الموضحة أمامك ضع الرقم المناسب في الدائرة الموضحة



- ١- دولة ظهرت كوحدة سياسية مستقلة في العالم الجديد ١٧٨٣
- ٢- دولة أوروبية قدمت نموذجاً فريداً للثورات في العالم
- ٣- الدولة التي اطلق على ثورتها اسم الثورة المجيدة .

تابع / امتحان تاريخ العالم الحديث و المعاصر الفترة الدراسية الثالثة العام الدراسي :- ٢٠١٤/٢٠١٥م

السؤال الثاني : يتكون من ( أ - ب - ج - د )

[[ أ ]] ما تفسيرك لكل مما يلي

١- عانت الطبقة العامة في فرنسا معاناة شديدة قبل الثورة

٢- تعتبر الثورة الفرنسية من أهم الثورات في العالم

[[ ب ]] قارن بين وثيقة الحقوق الانجليزية و إعلان حقوق الإنسان المواطن الفرنسية

وجه المقارنه	وثيقة الحقوق الانجليزية	إعلان حقوق الإنسان المواطن الفرنسي
الحقوق	•	•
	•	•

[[ ج ]] عرف ما يأتي :

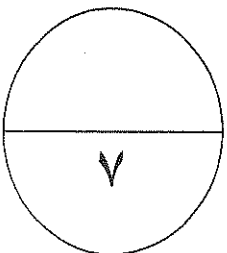
١- الكنيسة الانجليكانية

٢- قانون التمتع

[[ د ]] ماذا كان يمكن أن يحدث لو ..

١- لم تساعد فرنسا سكان المستعمرات ماليا وعسكريا في حرب الاستقلال الأمريكية

٢- كان لويس السادس عشر توي الشخصية ولم يخضع لزوجته ماري انطونيت



تابع / امتحان تاريخ العالم الحديث و المعاصر الفترة الدراسية الثالثة العام الدراسي :- ٢٠١٤/٢٠١٥م

السؤال الثالث : يتكون من ( أ - ب - ج - د )

[[ أ ]] فند ما يلي

١:- كان بإمكان مجلس طبقات الأمة الفرنسي اصدار قراراً يتعارض مع مصلحة الطبقة الارستقراطية

٢:- معركة فالى ليس لها اهمية تذكر في تاريخ الثورة الفرنسية .

[[ ب ]] ما أوجه الاختلاف بين مهام الحاكم والمجلس النيابي في المستعمرات الانجليزية في أمريكا

المجلس النيابي	الحاكم
•	•
•	•

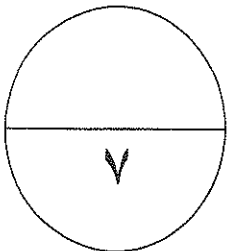
[[ ج ]] اكتب نتيجتين لكل مما يلي

١:- الثورة الأمريكية .

٢:- سقوط سجن الباستيل .

[[ د ]] دلل على صحة العبارة التالية

١:- تميز دستور الولايات المتحدة الأمريكية بعدة مميزات





تابع / امتحان تاريخ العالم الحديث و المعاصر الفترة الدراسية الثالثة العام الدراسي :- ٢٠١٤/٢٠١٥م

السؤال الرابع : يتكون من ( أ - ب - ج - د )

[[ أ ]] أقرأ العبارة التالية ثم اجب عما يليها :

(تركزت حرب السنين السبع آثاراً بالغة على أطراف عديدة والتي انتهت بانتصار إنجلترا وهزيمة فرنسا التي اضطرت الي عقد مفاوضات الصلح والتي عقدت في فرنسا و انتهت بمعاهدة باريس عام ١٧٦٣ م التي فرضت على فرنسا شروطاً قاسية وكانت نتائجها بالغة الأهمية على سكان المستعمرات الانجليزية في أمريكا الشماليه )

١- اذكر الشروط القاسية التي فرضت على فرنسا

٢- دليل على ان حرب السنين السبع كانت بداية للشورة الامريكية

[[ ب ]] ما أوجه الشبه بين كل من :-

((أراء جون لوك وجان جاك روسو كمفكرين أثرا في قيام الثورنين الأمريكية والفرنسية

روسو	جون لوك

[[ ج ]] نفذ المطلوب منك بين الاتواس

( القرارات )

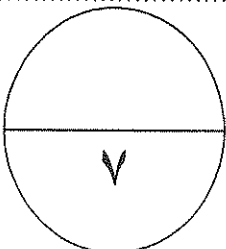
١- مؤتمر فيلادلفيا الثاني ١٧٧٥ م .

( النتائج )

٢- الشورة الانجليزية .

[[ د ]] اكتب مذكرات تاريخية عن :

١- حفلة شاي بوسطن ١٧٧٣م



انتهت الأسئلة مع أطيب التمنيات بالتوفيق والنجاح



وزارة التربية  
منطقة الجهراء التعليمية  
التوجيه الفني للاجتماعيات

الفصل الدراسي: الثاني  
العام الدراسي: ٢٠١٤/٢٠١٥ م  
عدد الصفحات: ( ٤ )

امتحان الفترة الدراسية الثالثة  
الصف الثاني عشر  
تاريخ العالم الحديث والمعاصر

نموذج الإجابة

اجب عن جميع الاسئلة التالية

السؤال الأول : ويتكون من ( أ - ب - ج - د )

أ ] اكمل العبارات في الجمل التالية بما يناسبها :-

- ١ :- قائل العبارة ( إننا هنا بإرادة الشعب ولن نبرح أماكننا إلا على أسنة الرماح ) نائب فرنسي اسمه ميرابو ص ٨٧  
٢ :- القصر الذي أصبح سجنًا للملك لويس السادس عشر بعد القبض عليه عند قرية فارن يسمى التويلري ص ٨٩  
٣ :- الدولة التي هرب إليها ملك إنجلترا جيمس الثاني بعد الثورة تسمى فرنسا ص ٧٤  
٤ :- الزعيم الأمريكي الذي قدم اقتراح يدعو المستعمرات لإعلان الاستقلال عن إنجلترا يسمى: لي ص ٨١

ب ] انسب السنوات التالية إلى الأحداث التاريخية التي تمثلها في الجدول . ( ٤ × نصف = درجتان )

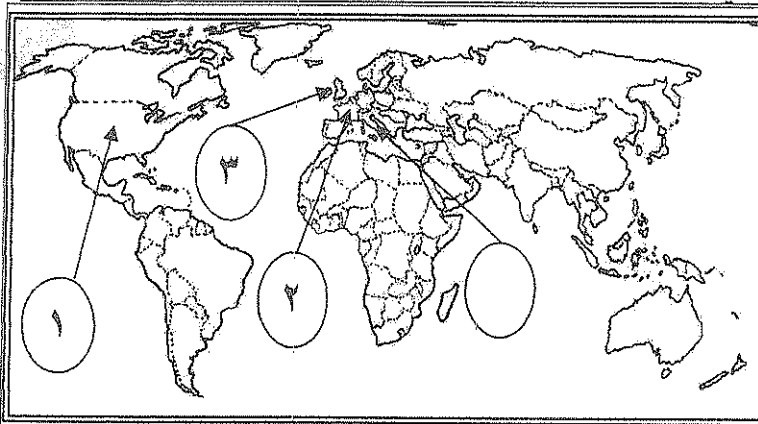
[ ١٧٧٠ م - ١٧٨٩ م - ١٧٩٣ م - ١٦٠٧ م ]

السنة	الأحداث التاريخية
١٧٨٩ م	١ :- سقوط حصن الباستيل ص ٨٨
١٧٩٣ م	٢ :- اعدام لويس السادس عشر ص ٩١
١٧٧٠ م	٣ :- مذبحه بوسطن ص ٧٩
١٦٠٧ م	٤ :- تأسيس مستعمرة جيمس تون ص ٧٦

ج ] اكتب المدلول التاريخي المناسب للعبارات التالية : ( ٤ × نصف = درجتان )

- ١ :- ( إعلان بلنتر ) الإعلان الذي أصدره امبراطور النمسا ليوبولد عام ١٧٩١ م لانتقاد الملكية الفرنسية ص ٩٠  
٢ :- ( أبناء الحرية ) جماعة قامت بتنظيم المعارضة ومقاومة الضرائب الجديدة التي اطلق عليها القوانين سيئة السمعة ص ٧٨  
٣ :- ( عصر الارهاب ) فترة من فترات حكم الثورة الفرنسية اخذ الناس بالشبهات واتهموا بالخيانة العظمى ص ٩١  
٤ :- ( كامبو فروميو ) معاهدة أعطت لفرنسا مكاسب كثيرة وحققت للفرنسيين الفخر والعزة لانتصارهم على النمسا ص ٩٢

د ] على خريطة العالم الموضحة أمامك ضع الرقم المناسب في الدائرة الموضحة ( ٣ × ١ = ٣ )



- ١ :- دولة ظهرت كوحدة سياسية مستقلة في العالم الجديد ١٧٨٣ ص ٨٢  
٢ :- دولة أوروبية قدمت نموذجا فريدا للثورات في العالم ص ٨٣  
٣ :- الدولة التي اطلق على ثورتها اسم الثورة المجيدة . ص ٧٣

تابع / امتحان تاريخ العالم الحديث و المعاصر الفترة الدراسية الثالثة العام الدراسي :- ٢٠١٤/٢٠١٥ م ((الموضوع الاجابة))

السؤال الثاني : يتكون من ( أ - ب - ج - د )

[[ أ ]] ما تفسيرك لكل مما يلي

١- عانت الطبقة العامة في فرنسا معاناة شديدة قبل الثورة

(نقطتان درجة ص ٨٥)

- الظلم والاستبعاد من قبل الطبقة الممتازة
- فرضت عليهم جميع الضرائب
- الاستبعاد من جميع الوظائف العليا
- العيش في بؤس وشقاء شديدين

٢- تعتبر الثورة الفرنسية من أهم الثورات في العالم .

(نقطتان درجة) ص ٨٢

- أعطت الثورة الفرنسية مفاهيم جديدة للعالم .
- وضعت في حيز التنفيذ مبادئ عامة كانت قبلها مجرد نظريات .
- غيرت الثورة جميع مناحي الحياة الفرنسية وانتشرت في أوروبا
- تعدت تأثيراتها إلى جميع أنحاء العالم .

[[ ب ]] قارن بين وثيقة الحقوق الانجليزية و إعلان حقوق الإنسان المواطن الفرنسية

وجه المقارنة	وثيقة الحقوق الانجليزية (نقطتان درجة) ص ٧٤	إعلان حقوق الإنسان المواطن الفرنسي (نقطتان درجة) ص ٨٨
الحقوق	<ul style="list-style-type: none"> <li>• لا يحق للملك أبطال أو تعديل قوانين البرلمان .</li> <li>• لا يحق للملك فرض ضرائب أو تشكيل جيش إلا بموافقة البرلمان .</li> <li>• حرية التعبير في البرلمان مكفولة .</li> <li>• لا يجوز اعتقال أي مواطن دون محاكمة تجري وفق القوانين الساندة .</li> <li>• الحفاظ على الحقوق الأساسية للشعب .</li> </ul>	<ul style="list-style-type: none"> <li>• يولد الناس أحرارا متساوين في الحقوق والواجبات</li> <li>• هدف الحكومة هو الحفاظ على الحقوق الأساسية للشعب</li> <li>• الأمة هي صاحبة السيادة</li> <li>• لا عقوبة بدون قانون .</li> <li>• المتهم بريء حتى تثبت إدانته .</li> <li>• الجيش في خدمة الشعب</li> </ul>

[[ ج ]] عرف ما يأتي :

١- الكنيسة الانجليكانية

أحدى الكنائس الإنجليزية تعتنق المذهب البروتستانتي المعادي بشدة للمذهب الكاثوليكي

(درجة) ص ٧٣

٢- قانون التمغة

قانون اصدره مجلس العموم البريطاني على الأمريكيين وفيه فرض عليهم رسوما مالية على كل المستندات التجارية عقود البيع والرهن

(درجة) ص ٧٨

[[ د ]] ماذا كان يمكن أن يحدث لو ..

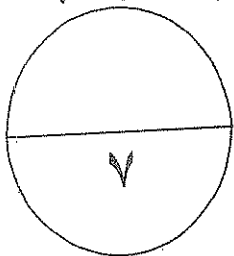
- لم تساند فرنسا سكان المستعمرات ماليا وعسكريا في حرب الاستقلال الأمريكية .
- عدم وجود عجز كثير في أموال الخزانة الفرنسية ولما اصبحت فرنسا على شفا الافلاس ولما اضطرت الحكومة على فرض ضرائب ادت الى التذمر الشعبي (( او أي اجابة يراها المصحح ))

(نصف درجة ص ٨٦)

- كان لويس السادس عشر قوي الشخصية ولم يخضع لزوجته ماري انطونيت .

(نصف درجة ص ٨٤)

- ارتفاع مكانته الشعبية توجية سياسة البلاد الى الطريق الصحيح شعوره بما يعاني منه الشعب الفرنسي من آثار المجاعة (( او أي اجابة يراها المصحح ))



تابع / امتحان تاريخ العالم الحديث و المعاصر الفترة الدراسية الثالثة العام الدراسي :- ٢٠١٤/٢٠١٥ م (النموذج الاصلي)

السؤال الثالث : يتكون من ( أ - ب - ج - د )

[[ أ ]] فند ما يلي

١- كان بإمكان مجلس طبقات الأمة الفرنسي اصدار قراراً يتعارض مع مصلحة الطبقة الارستقراطية .  
على العكس من ذلك ( ص ٨٧ درجة )

لأن نظام الانتخابات كان يتم على أساس اجتماع ممثلو النبلاء في غرفة ، ورجال الدين في غرفة ، وممثلو العامة في غرفة  
ثالثة. التصويت كان يتم على أساس الغرف وليس عدد الأصوات، وبالتالي أغلبية التصويت تكون للطبقة الارستقراطية التي  
تضم رجال الدين والنبلاء بعدد غرفتين

٢- معركة فالمي ليس لها اهمية تذكر في تاريخ الثورة الفرنسية .

على العكس من ذلك

- أنقذت أفكار الثورة الفرنسية من الضياع.
- حالت دون وقوع باريس .
- رفعت الروح المعنوية للفرنسيون.
- تحول جيش الثورة بعدها من الدفاع إلى الهجوم وأصبح مصدر رعب للدول الأوروبية فيما بعد.

[[ ب ]] ما أوجه الاختلاف بين مهام الحاكم والجلس النيابي في المستعمرات الانجليزية في أمريكا

الحاكم	الجلس النيابي
• يمثل الملك الانجليزي في المستعمرة. • المسؤول عن رعاية شئون الولاية والمحافظة على الامن • يعين ويعزل من خلال الملك الانجليزي فقط	• ينتخبه الشعب الأمريكي. • يسن القوانين والضرائب ومراقبة الموظفين. • كان رمزاً للحكم الديمقراطي في ظل السيادة الانجليزية

[[ ج ]] اكتب نتيجتين لكل مما يلي

١- الثورة الأمريكية .

- انتشرت عدواها إلى سكان أمريكا الجنوبية
- شجعت سكان المستعمرات البريطانية في آسيا و أفريقيا على القيام بالثورات
- أصبحت الولايات المتحدة ملاذاً لدعاة الفكر من الأوربيين و رمزاً للحرية .
- كانت السبب في قيام الثورة الفرنسية .

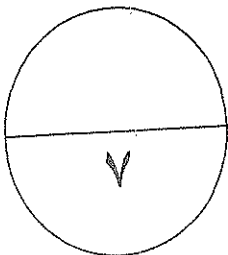
٢- سقوط سجن الباستيل .

- عمت الفوضى أنحاء فرنسا
- توقف الفلاحون عن دفع الضرائب .
- إحراق قصور النبلاء والوثائق التي تعطيهم حقوقاً إقطاعية
- هجرة الأشراف خارج فرنسا .

[[ د ]] امل على صحة العبارة التالية

١- تميز دستور الولايات المتحدة الأمريكية بعدة مميزات "

- امتاز بالفصل التام بين السلطات الثلاث ( التنفيذية - القضائية - التشريعية ) .
- أكد على حق الفرد المطلق في الحرية والمساواة والاعتقاد وحرية الصحافة .
- أكد على عدم تعارض السلطات المحلية مع السلطات الفيدرالية بل تعمل معاً في تناغم .
- أشار إلى أن الدستور وضع لحماية حقوق الناس والمحافظة عليها.
- أكد على مرونة الدستور وقابليته للتغير والتعديل.



تابع / امتحان تاريخ العالم الحديث و المعاصر الفترة الدراسية الثالثة العام الدراسي :- ٢٠١٤/٢٠١٥ م (نموذج الاجابة)

السؤال الرابع : يتكون من ( أ - ب - ج - د )

[[ أ ]] أقرأ العبارة التالية ثم اجب عما يليها :

(تركزت حرب السنين السبع أثاراً بالغة على أطراف عديدة والتي انتهت بانتصار إنجلترا وهزيمة فرنسا التي اضطرت الي عقد مفاوضات الصلح والتي عقدت في فرنسا و انتهت بمعاهدة باريس عام ١٧٦٣ م التي فرضت على فرنسا شروطاً قاسية وكانت نتائجها بالغة الأهمية على سكان المستعمرات الإنجليزية في أمريكا الشمالية )

١- اذكر الشروط القاسية التي فرضت على فرنسا

درجة ٧٧

تنازلت فرنسا لانجلترا عن جميع المستعمرات الفرنسية في أمريكا الشمالية والهند و خسرت فرنسا كل امبراطوريتها

٧٨ ( نقطتان درجة )

- ٢- دليل على ان حرب السنين السبع كانت بداية للثورة الأمريكية
- فرض إنجلترا ضرائب جديدة على سكان المستعمرات الأمريكية لتغطية نفقات حمايتهم
  - شعور سكان المستعمرات الإنجليزية في أمريكا الشمالية بقوتهم الحقيقية
  - بروز قواد من ابناء سكان المستعمرات امثال جورج واشنطن
  - اشتراكهم بالحرب جعلهم يعتادون التعاون فيما بينهم ويشعرون بانهم كيان واحد
  - انتصار إنجلترا ازال التهديد الخارجي الفرنسي وفتح الباب امام الأمريكيين للتوسع نحو الغرب دون حدود اوقيود

[[ ب ]] ما أوجه الشبه بين كل من :-

((أراء جون لوك وجان جاك روسو كمفكرين أثارا في قيام الثورتين الأمريكية والفرنسية

( درجتان )

جون لوك (درجة) ٧٦	روسو (درجة) ٨٥
كل فرد له حقوق طبيعية في الحياة والحرية والتملك ودور الحكومات حماية الحقوق وإذا فشلت الحكومة في القيام بمهمتها فمن حق الشعب القيام بالثورة فالشعب هو الحاكم الحقيقي	الشعب هو الذي يفوض السلطة للحاكم بشروط معينة وأن الشعب له الحق في سحب ذلك التفويض إذا ما أخل الملك بوظائفه ويرى ان كل حاكم لا يستند الى الشعب في حكمه يعتبر حاكماً غير شرعي

[[ ج ]] نفذ المطلوب منك بين الاتواس

مؤتمر فيلادلفيا الثاني ١٧٧٥ م

القرارات ( نقطتان درجة ) ٨٠

- اعتبار جيش بوسطن جيشاً أمريكياً يخص كل المستعمرات.
- تعيين لقيادته جورج واشنطن

١- الثورة الإنجليزية .

- انتشرت فكرة المجالس النيابية لإصدار القوانين وفرض الضرائب وتقرير سيادة الدولة بعد ما كان ذلك من حق الملك فقط.
- أخذت معظم دول العالم عن إنجلترا نظامها الانتخابي حيث التمثيل النيابي عبارة عن دوائر انتخابية وليست على أساس طبقي
- كانت للثورة الإنجليزية أثر بالغ في إدراك الفرد حقوقه السياسية .
- الأخذ بمبدأ تركيز الحياة النيابية في مجلسين هما ( مجلس اللوردات ) ومجلس العموم الذي يمثل الديمقراطية في أجل صورها
- ومن ثم أخذت عنها الشعوب الأخرى.
- كانت للثورة الإنجليزية الفضل الأكبر في تطور النظريات السياسية

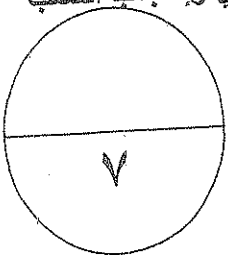
[[ د ]] اكتب مذكرات تاريخية عن :

١- حفلة شاي بوسطن ١٧٧٣ م

(درجة) ٧٩

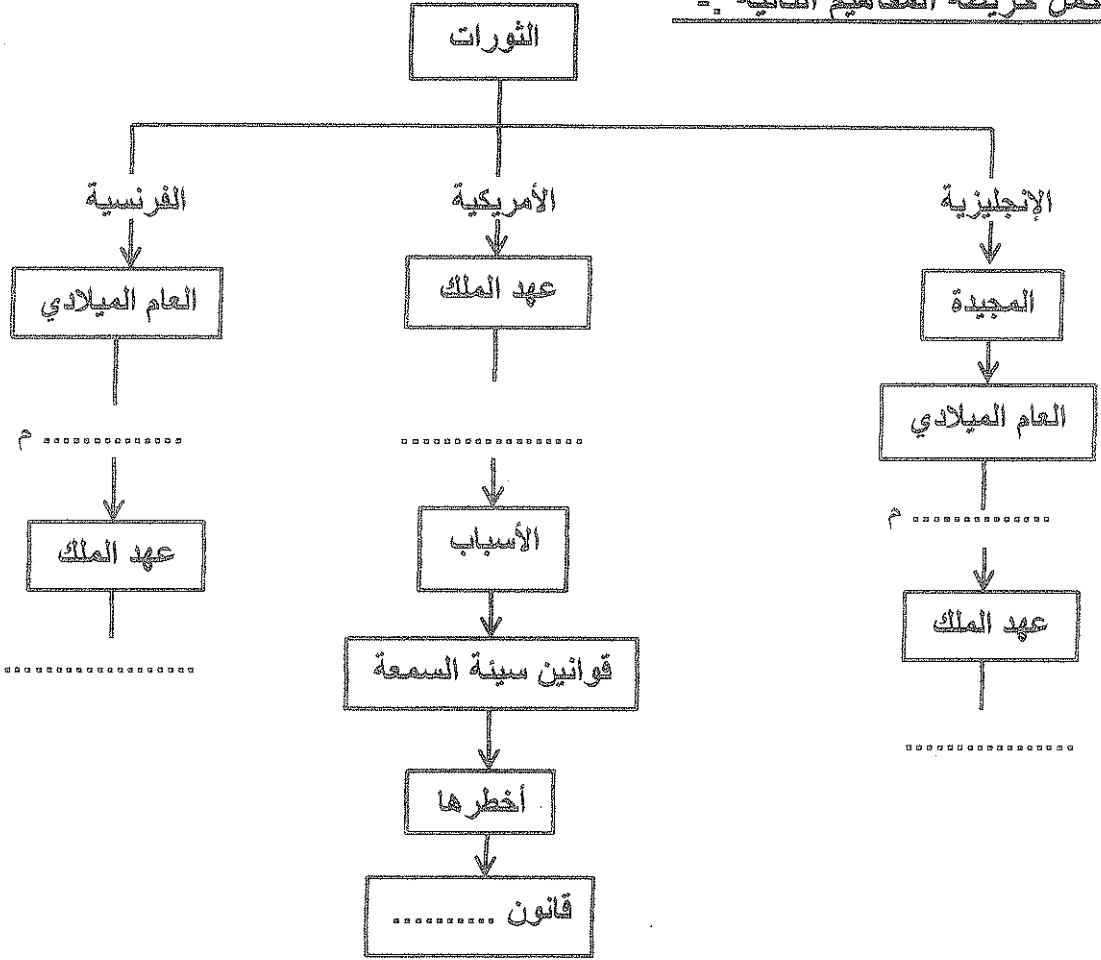
في مساء ١٦ سبتمبر ١٧٧٣م تنكر عدد من الأمريكيين في زي الهنود الحمر وتسللوا إلى ميناء بوسطن ليلاً وصعدوا على سطح ثلاثة سفن إنجليزية تحمل الشاي وألقوا حمولتها في البحر وقد أثار هذا العمل غضب البرلمان الإنجليزي وإعجاب الشعب الأمريكي وعاقبت الحكومة الإنجليزية مدينة بوسطن بإصدار قوانين ميناء بوسطن .

انتهت الأسئلة مع أطيب التمنيات بالتوفيق والنجاح



السؤال الأول : يتكون من ( أ - ب - ج )

( أ ) أكمل خريطة المفاهيم التالية :-

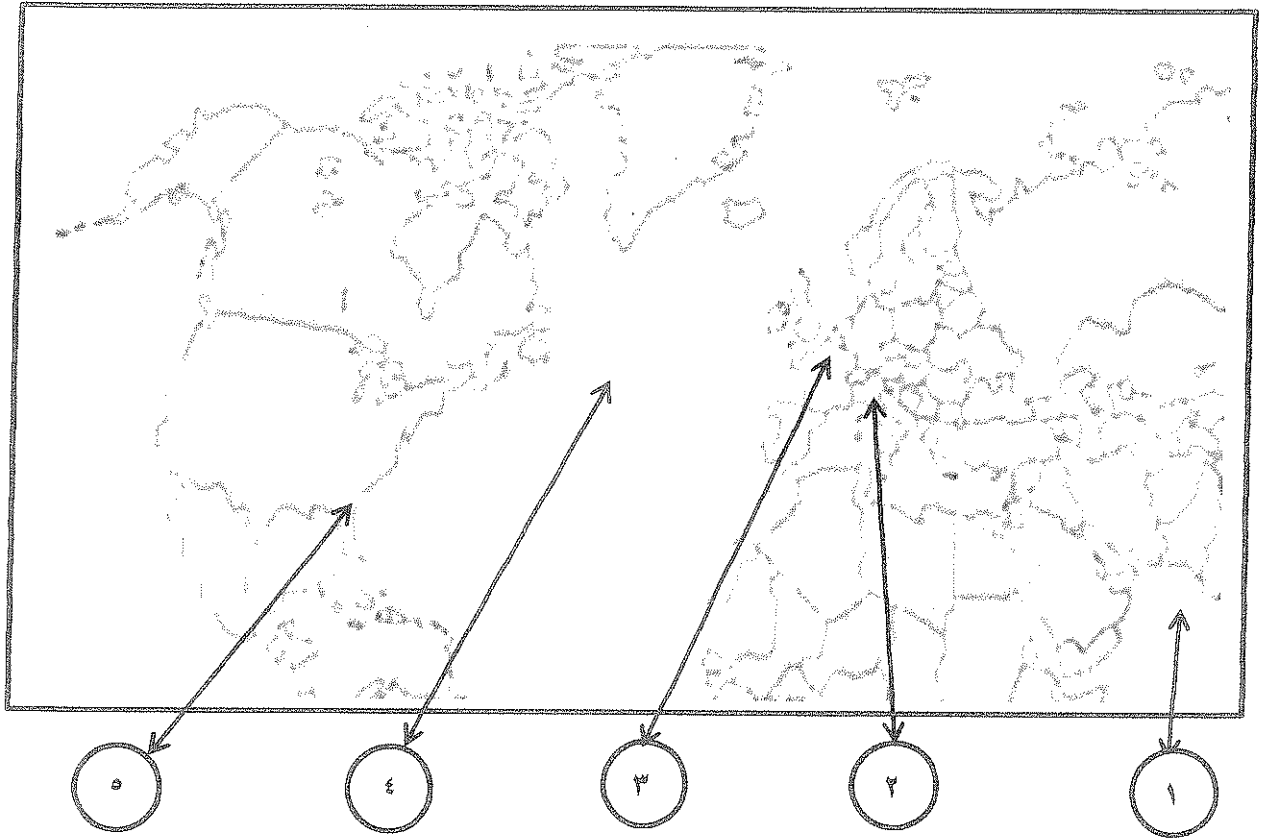


( ب ) أكتب بين القوسين المفهوم أو المصطلح التاريخي الدال على كل عبارة مما يلي :-

- ١- ( ..... ) يضم نواب الطبقتين الأرستقراطية الإقطاعية ورجال الدين ويعينهم الملك .
- ٢- ( ..... ) جماعة أخذت على عاتقها مهام تنظيم المعارضة ومقاومة ضرائب سينة السمعة .
- ٣- ( ..... ) الجهاز التشريعي والذي يمثل برلمان المرحلة الأولى من الثورة الفرنسية .

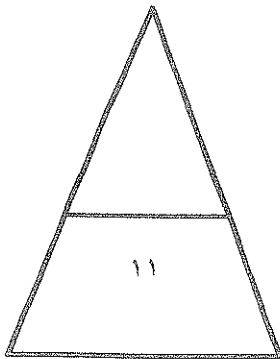
تابع : السؤال الأول :

( ج ) لاحظ خريطة العالم الصماء جيدا ثم نفذ المطلوب منك :



\*\*\* أختَر الرقم الصحيح لكل مما يلي :

- باريس عاصمة الدولة التي تحمل الرقم (.....).
- فلوريدا تحمل الرقم (.....).
- الدولة التي دارت على أرضها معركة ريفولي تحمل الرقم (.....).
- المحيط الذي امتدت بمحاذاته الولايات الإنجليزية الثلاثة عشر في أمريكا الشمالية يحمل الرقم (.....).



السؤال الثاني :- يتكون من ( أ - ب - ج )

أ / فند العبارات التالية :-

١- كان قرار الجمعية الوطنية "بامتناع أعضائها من ترشيح أنفسهم للجمعية التشريعية" لصالح الثورة الفرنسية .

٢- " لم يكن لحرب السنين السبع" أي أثر يذكر على سكان المستعمرات الإنجليزية في أمريكا الشمالية .

٣- قاوم الجيش الإنجليزي دخول الملك وليم أورانج وزوجته إنجلترا .

ب / ماذا يحدث لو :

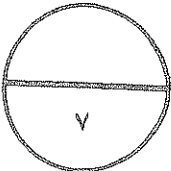
١- لم تعقد محكمة الثورة عام ١٧٩٣م في فرنسا .

٢- انسجم الحاكم الإنجليزي والمجلس النيابي التشريعي في حكم المستعمرات الإنجليزية في أمريكا الشمالية .

ج / دلل على صحة العبارات التالية :-

١- لعب قائد الجيش الفرنسي نابليون بونابرت دوراً كبيراً في استرجاع مجد فرنسا العظيم .

٢- ساهمت الثورة الأمريكية في انتشار عدواها إلى خارج حدود قارتها .





السؤال الثالث :- يتكون من ( أ - ب )



أ / لاحظ الصورة المقابلة جيداً ثم استخلص التالي :-

- مهنة العنصر المظلوم .

.....

- عناصر الطبقة الممتازة مع مراعاة المركز الاجتماعي .

١- ..... ٢- ..... ٣- .....

- قيمة تنادي أنت بتطبيقها في هذا المجتمع .

.....

- استنتج أسم الدولة التي تجسد الصورة وضعها الاجتماعي

- قبل الثورة .

.....

ب / علل ما يلي :-

١- انتخاب البرلمان الإنجليزي في يناير سنة ١٦٨٩ م وليم أورانج وزوجته ماري الثانية ليمارسا مهام الملك الإنجليزي .

.....

٢- أهمية دستور الولايات المتحدة الأمريكية لعام ١٧٩٨ م .

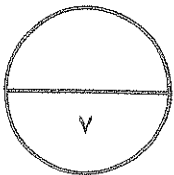
.....

٣- لم تمارس فرنسا أي نوع من أنواع المشاركة الشعبية في الحكم قبل الثورة .

.....

٤- تعتبر مؤلفات فولتير أكثر انتشاراً بين طبقات الشعب الفرنسي .

.....



اقرأ الفقرة التالية ثم أجب عما يليها :-

رغم تشابه كل من الثورة الإنجليزية والفرنسية بأنهما قامتتا ضد أنظمة مستبدة ملكية محلية ، وكلاهما وضعت أسس الديمقراطية السياسية من خلال إعلان وثيقة حقوق الإنسان، بل وتمكنت الثورة الفرنسية من القضاء على الامتيازات الإقطاعية في أعقاب سقوط الباستيل ، بل استطاعت إضعاف مكانة رجال الدين زمن حكومة القنصل حيث وقع نابليون مع البابا بيوس السابع اتفاقية نهائية عام ١٨٠١ م ، اعترفت فرنسا على أثرها بالكنيسة الكاثوليكية مقابل اعتراف البابوية بقوانين مصادرة أملاك الكنيسة، ويتم تعيين رجال الدين بالتعاون بين البابوية والدولة الفرنسية ، في حين اختلفت عنهما الثورة الأمريكية بأنها قامت ضد مستعمر خارجي ( بالإضافة إلى اختلاف القارات ).

- عرف ما تحته خط .

- استخرج من الفقرة السابقة ما يلي :-

١- أوجه التشابه بين الثورتين الإنجليزية والفرنسية .

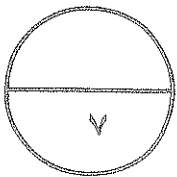
٢- أوجه الاختلاف بين الثورة الأمريكية والثورتين الإنجليزية والفرنسية .

٣- حدث تاريخي أدى إلى القضاء على الامتيازات الإقطاعية .

٤- تعميم يشمل الثورات الثلاثة .

٥- نظام من أنظمة الحكم .

٦- صمم جدولاً لاتفاقية ١٨٠١م يحتوي على كل من الأطراف المتعاقدة والبنود .

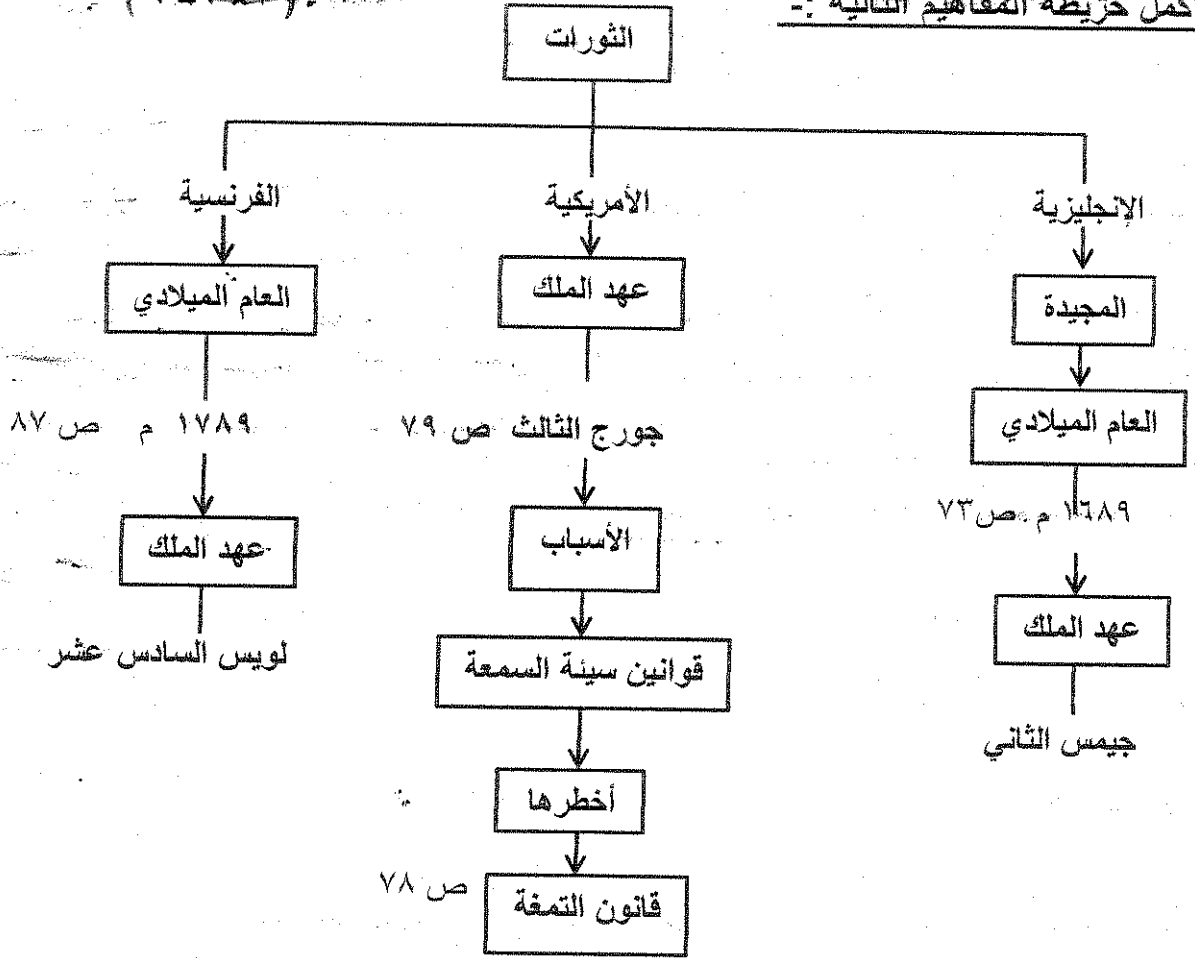


انتهت الأسئلة



السؤال الأول : يتكون من ( أ - ب - ج )

( أ ) أكمل خريطة المفاهيم التالية :-

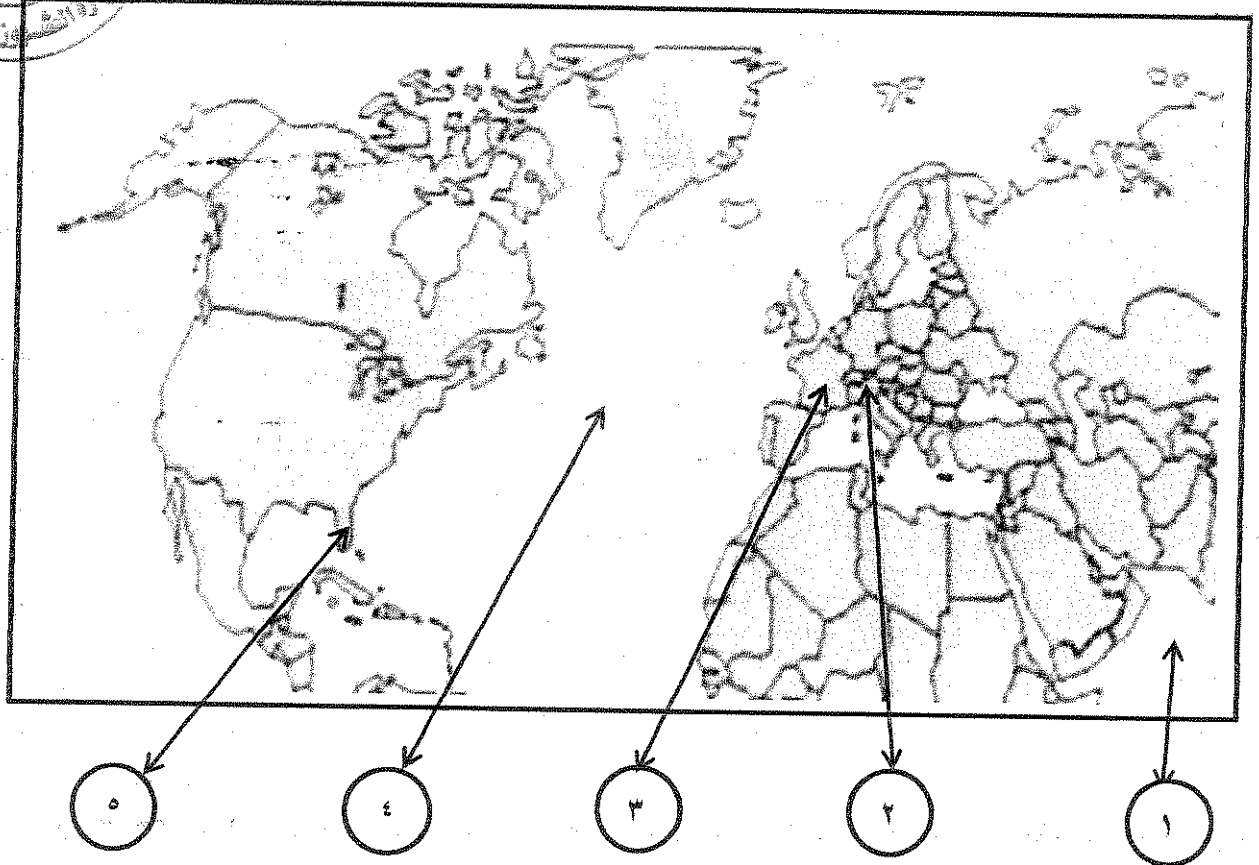
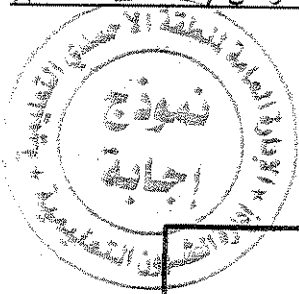


( ب ) أكتب بين القوسين المفهوم أو المصطلح التاريخي الدال على كل عبارة مما يلي :- ( ٣ = ٣ × ١ )

- ١- ( مجلس اللوردات ) يضم نواب الطبقتين الأرستقراطية الإقطاعية ورجال الدين ويعينهم الملك . ص ٧٥
- ٢- ( أبناء الحرية ) جماعة أخذت على عاتقها مهام تنظيم المعارضة ومقاومة ضرائب سيئة السمعة . ص ٧٨
- ٣- ( الجمعية الوطنية ) الجهاز التشريعي والذي يمثل برلمان المرحلة الأولى من الثورة الفرنسية . ص ٨٧

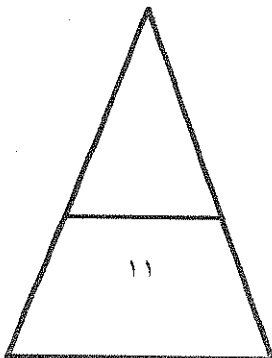
تابع : السؤال الأول :

( ج ) لاحظ خريطة العالم الصماء جيدا ثم نفذ المطلوب منك : ( ٥,٠ × ٤ = ٢ )



\*\*\* أختَر الرقم الصحيح لكل مما يلي :

- باريس عاصمة الدولة التي تحمل الرقم ( ٣ ) ص ٨٣
- فلوريدا تحمل الرقم ( ٥ ) ص ٧٧
- الدولة التي دارت على أرضها معركة ريفولي تحمل الرقم ( ٢ ) ص ٩٢
- المحيط الذي امتدت بمحاذاته الولايات الإنجليزية الثلاثة عشر في أمريكا الشمالية يحمل الرقم ( ٤ ) ص ٧٦





تابع/ امتحان نهاية الفترة الدراسية الثالثة /للف الثاني عشر الأدبي/ لمادة تاريخ العالم الحديث والمعاصر / للعام الدراسي (٢٠١٤/١٥) **السؤال الثاني :- يتكون من ( أ - ب - ج )**

**أ / فند العبارات التالية :- ( ١ × ٣ = ٣ \* الاكتفاء بنقطة واحدة )**

- ١- كان قرار الجمعية الوطنية "بامتناع أعضائها من ترشيح أنفسهم للجمعية التشريعية" لصالح الثورة الفرنسية . ص ٩٠
- ٢ - " لم يكن لحرب السنين السبع" أي أثر يذكر على سكان المستعمرات الإنجليزية في أمريكا الشمالية . بل شعر سكان المستعمرات بقوتهم الحقيقية حيث أدركوا ماهية قواهم خاصة أن كثيرين من أبناءهم برزوا في تلك الحروب مثل جورج واشنطن / وجعلهم يعتادون التعاون فيما بينهم وشعروا بأنهم كيان واحد / أزلت هذه الحروب التهديد الخارجي من الفرنسيين ضد المستعمرات الأمريكية / فتح الباب أمام الأمريكيين للتوسع نحو الغرب دون حدود أو قيود . ص ٧٨
- ٣- قاوم الجيش الإنجليزي دخول الملك وليم أورانج وزوجته إنجلترا . بل على العكس انضم معظم القادة العسكريين إليه مما قاد الملك جيمس الثاني إلى عزله رهينة مما دفعه للهروب إلى فرنسا . ص ٧٤

**ب / ماذا يحدث لو : ( ٥٠ × ٤ = ٢ \* الاكتفاء بنقطتين )**

- ١- لم تعقد محكمة الثورة عام ١٧٩٣م في فرنسا . ص ٩١
- لما أعدم الملك لويس السادس عشر / واستقر الوضع الداخلي ولم تقم الثورات المضادة من قبل المؤيدين للملكية الدستورية / ولما شكل التحالف الدولي الأول ( بريطانيا - إسبانيا - البابوية - الدويلات الإيطالية - بروسيا ) في الخارج ضد الثورة الفرنسية في فبراير سنة ١٧٩٣م / ولما قتل مئات من المواطنين دون محاكمة عادلة حيث كانت تحكم بالشبهات ولما وجهت لهم تهمة الخيانة العظمى / ولعرفت هذه الفترة بفترة الأمن والاستقرار بدلاً من عهد الإرهاب / ولما عرف وصف اليعاقبة بالتطرف .
- ٢- انسجم الحاكم الإنجليزي والمجلس النيابي التشريعي في حكم المستعمرات الإنجليزية في أمريكا الشمالية . ص ٧٧
- لاشترك الحاكم الإنجليزي والمجلس النيابي في رعاية شؤون الولاية والتعيين والعزل وساد التعاون والأمن .
- لانتخب الحاكم من قبل الشعب الأمريكي وتجسد المعنى الحقيقي للديمقراطية / لما وجد التسلط بينهما بل الهدف تحقيق المصالح المشتركة / مساواة المواطن الإنجليزي بالمواطن الأمريكي فلا يوجد مواطن من الدرجة الأولى ولا من الدرجة الثانية .

**ج / دلل على صحة العبارات التالية :- ( ٥٠ × ٤ = ٢ \* الاكتفاء بنقطتين )**

- ١- لعب قائد الجيش الفرنسي نابليون بونابرت دوراً كبيراً في استرجاع مجد فرنسا العظيم . ص ٩٢
- حقق انتصارات عظيمة وسريعة في عدة معارك ضد النمسا أهمها معركة ريفولي بتاريخ ١٤ يناير ١٧٩٧م .
- أجبر النمسا على عقد معاهدة ( كامبو فروميو ) التي أعطت فرنسا مكاسب كبيرة وحققت للفرنسيين الفخر والاعتزاز بالنصر على عدوهم اللدود ( النمسا ) .
- ٢- ساهمت الثورة الأمريكية في انتشار عدواها إلى خارج حدود قارتها .
- انتشرت الحركات الاستقلالية في أمريكا الجنوبية ( اللاتينية ) .
- قيام سكان المستعمرات البريطانية في قارتي آسيا وأفريقيا بالعديد من الثورات بهدف التخلص من الاستعمار البريطاني .



السؤال الثالث :- يتكون من ( أ - ب )

( ٣ = ٦ × ٥٠ )

أ / لاحظ الصورة المقابلة جيداً ثم استخلص التالي :-

- مهنة العنصر المظلوم .

زارع / فلاح

- عناصر الطبقة الممتازة مع مراعاة المركز الاجتماعي .

١- الملك ٢- رجال الدين ٣- النبلاء / الإقطاعيين

- قيمة تنادي أنت بتطبيقها في هذا المجتمع .

المساواة

- استنتج أسم الدولة التي تجسد الصورة وضعها الاجتماعي

قبل الثورة .

فرنسا ص ٨٥ / إنجلترا ص ٧٥

ب / علل ما يلي :- ( ١ × ٤ = ٤ \* الاكتفاء بنقطة واحدة )

- ١- انتخاب البرلمان الإنجليزي في يناير سنة ١٦٨٩م وليم أورانج وزوجته ماري الثانية ليمارسا مهام الملك الإنجليزي .
  - عند هروب الملك جيمس الثاني إلى فرنسا غيابه سبب حالة من الفراغ السياسي لأنه ترك العرش ولكنه لم يتنازل عنه لذا عمد البرلمان الإنجليزي في يناير سنة ١٦٨٩م إلى إعلان أن العرش خالي وأنه لم يعد للملك الهارب أي حقوق عليه فانتخب وليم أورانج ليمارس مهام الملك الإنجليزي مع زوجته ماري الثانية ابنة الملك جيمس الثاني ووريثة عرشه الشرعية . ص ٧٤
  - ٢- أهمية دستور الولايات المتحدة الأمريكية لعام ١٧٩٨م . ص ٨٢
    - امتاز بالفصل التام بين السلطات الثلاث ( التشريعية - التنفيذية - القضائية ) .
    - أكد على حق الفرد المطلق في الحرية والمساواة والاعتقاد وحرية الصحافة .
    - أكد على عدم تعارض السلطات المحلية مع السلطات الفيدرالية بل تعمل معاً في تناغم .
    - أشار إلى أن الدستور وضع لحماية حقوق الناس والمحافظة عليها .
    - أكد على مرونة الدستور وقابليته للتغيير والتعديل .
  - ٣- لم تمارس فرنسا أي نوع من أنواع المشاركة الشعبية في الحكم قبل الثورة . ص ٨٤
    - ملوكهم كانوا يحكمون بمقتضى نظرية الحق الإلهي المقدس حيث تؤكد على حق الملك المطلق في سن القوانين وإعلان الحرب وفرض الضرائب وتفوق سلطته سلطة القضاء حيث كان يعتبر قاضي المملكة الأكبر يستطيع أن يعفو عن مجرم عاقبته المحكمة بالسجن أو يلقي بمن يشاء في السجن المتواصل دون محاكمة ويعين الوزراء ويعزلهم دون مساءلة .
    - كان هناك مؤسسات برلمانية صورية هشة لم تستطع الحد من سلطات الملك أو تراقب أعماله .
    - مشاركة الشعب فقط ممثلة في ( محكمة باريس ) و ( مجلس طبقات الأمة ) وكانت قراراتها غير ملزمة للملك .
    - ٤- تعتبر مؤلفات فولتير أكثر انتشاراً بين طبقات الشعب الفرنسي . ص ٨٥
      - موهبته الفذة في توجيه النقد اللاذع .

السؤال الرابع :-

أقرأ الفقرة التالية ثم أجب عما يليها :-

رغم تشابه كل من الثورة الإنجليزية والفرنسية بأنهما قامتا ضد أنظمة مستبدة ملكية محلية وكلاهما وضعت أسس الديمقراطية السياسية من خلال إعلان وثيقة حقوق الإنسان بل وتمكنت الثورة الفرنسية من القضاء على الامتيازات الإقطاعية في أعقاب سقوط الباستيل ، بل استطاعت إضعاف مكانة رجال الدين زمن حكومة القنصل حيث وقع نابليون مع البابا بيوس السابع اتفاقية نهائية عام ١٨٠١م اعترفت فرنسا على أثره بالكنيسة الكاثوليكية مقابل اعتراف البابوية بقوانين مصادرة أملاك الكنيسة ويتم تعيين رجال الدين بالتعاون بين البابوية والدولة الفرنسية ، في حين اختلفت عنهما الثورة الأمريكية بأنها قامت ضد مستعمر خارجي (بالإضافة إلى اختلاف القارات ) .

- عرف ما تحته خط . ص ٨٨  
لائحة صيغت بها الحقوق القانونية الدستورية قيدت سلطات الملك وتحمي سلطات البرلمان الممثل للفرد والشعب .

- استخرج من الفقرة السابقة ما يلي :-

١- أوجه التشابه بين الثورتين الإنجليزية والفرنسية .

- قامت ضد أنظمة مستبدة ملكية محلية .  
- وضعتا أسس الديمقراطية السياسية من خلال إعلان وثيقة حقوق الإنسان .

٢- أوجه الاختلاف بين الثورة الأمريكية والثورتين الإنجليزية والفرنسية .

- الثورة الأمريكية قامت ضد مستعمر خارجي .  
- اختلاف القارات .

٢- حدث تاريخي أدى إلى القضاء على الامتيازات الإقطاعية .

- سقوط الباستيل .

٣- تعميم يشمل الثورات الثلاثة .

- قامت الثورات أثر احساس الشعب بالظلم السياسي أو الاجتماعي .

- الديمقراطية السياسية علاج للأنظمة المستبدة .

- قامت العديد من الثورات في العالم .

- الامتيازات الإقطاعية سادت فرنسا قبل الثورة .

٤- نظام من أنظمة الحكم .

- الديمقراطية

٥- صمم جدولاً لاتفاقية ١٨٠١م يحتوي على كل من الأطراف المتعاقدة والبنود .

اتفاقية ١٨٠١م	
الأطراف المتعاقدة	نابليون x البابا بيوس التاسع
بنود الاتفاقية	- اعتراف فرنسا بالكنيسة الكاثوليكية مقابل اعتراف البابوية بقوانين مصادرة أملاك الكنيسة . - يتم تعيين رجال الدين بالتعاون بين البابوية والدولة الفرنسية .



أجب على أربعة أسئلة مما يلي على أن يكون السؤال الأول من بينها إجبارياً :-

السؤال الأول : ( إجباري ) يتكون من ( أ ، ب ، ج ، د ، هـ ) :-

أ- اختر الإجابة الصحيحة من بين البدائل التي تلي كل عبارة مما يلي وضع خطأ تحتها:-

١- أصدر الكونجرس الأمريكي إعلان الاستقلال في ٤ يوليو عام :

ب- ١٧٧٧م

أ- ١٧٧٦م

د- ١٧٧٩م

ج- ١٧٧٨م

٢- المستعمرة الإنجليزية التي تأسست سنة ١٦٠٧م في أمريكا الشمالية :

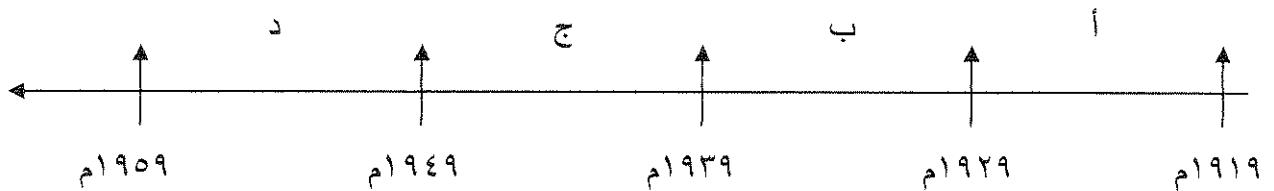
ب- جيمس تون

أ- نيويورك

د- واشنطن

ج- بوسطن

٣- الفترة الزمنية التي حدثت فيها الأزمة الاقتصادية العالمية يمثلها على المخطط الزمني الحرف :



٤- المفكر الذي ألف كتاب العقد الاجتماعي :

ب- جون لوك

أ- روسو

د- منتيسكيو

ج- فولتير

٥- أعلنت بريطانيا الحرب على ألمانيا في ٤ / ٨ / ١٩١٤م بسبب :

ب- احتلال ألمانيا لمنطقة الراين

أ- حشود القوات الألمانية على الحدود الروسية

د- انتهاك ألمانيا حياد البلجيك

ج- مهاجمة ألمانيا للسفن الأمريكية

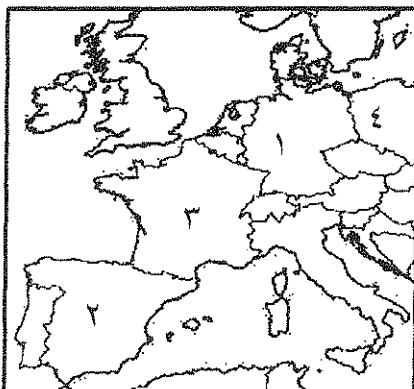
٦- دولة هرب إليها الملك جيمس الثاني يمثلها على الخريطة المقابلة الرقم :

ب- ( ٢ )

أ- ( ١ )

د- ( ٤ )

ج- ( ٣ )





السؤال الخامس : (اختياري) يتكون من (أ- ب- ج) :-

أ- عدد لكل مما يلي :-

١- مبادئ لائحة الحقوق الإنجليزية ١٦٨٩ م .

\*

\*

٢- نتائج سقوط حصن الباستيل ١٧٨٩ م .

\*

\*

ب- فرق حسب الجدول :-

السبب المباشر لقيام الحرب العالمية الثانية	السبب المباشر لقيام الحرب العالمية الأولى
*	*

ج- اكتب مهام الأجهزة التالية :-

١- منظمة التربية والعلوم والثقافة ( اليونسكو ) .

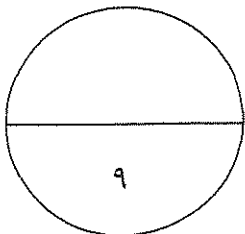
\*

٢- منظمة التغذية والزراعة ( الفاو ) .

\*

٣- محكمة العدل الدولية .

\*



انتهت الأسئلة

وزارة التربية الإجابة النموذجية لامتحان نهاية الفترة الدراسية الرابعة ( عدد الصفحات : ٧ )  
التوجيه الفني العام للاجتماعيات للصف الثاني عشر الأدبي الزمن : ساعتان وربع  
المقرر الدراسي : تاريخ العالم الحديث والمعاصر العام الدراسي ٢٠١٤/٢٠١٥ م

أجب على أربعة أسئلة مما يلي على أن يكون السؤال الأول من بينها إجبارياً :-

السؤال الأول : ( إجباري ) يتكون من ( أ ، ب ، ج ، د ، هـ ) :- ( كل نقطة نصف درجة )

أ- اختر الإجابة الصحيحة من بين البدائل التي تلي كل عبارة مما يلي وضع خطاً تحتها:-

ص ٨١

١- أصدر الكونجرس الأمريكي إعلان الاستقلال في ٤ يوليو عام :

ب- ١٧٧٧ م

أ- ١٧٧٦ م

د- ١٧٧٩ م

ج- ١٧٧٨ م

ص ٧٦

٢- المستعمرة الإنجليزية التي تأسست سنة ١٧٠٧ في أمريكا الشمالية :

ب- جيمس تون

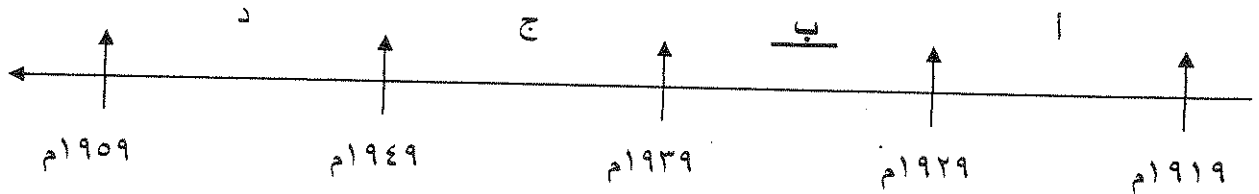
أ- نيويورك

د- واشنطن

ج- بوسطن

ص ١٠٥

٣- الفترة الزمنية التي حدثت فيها الأزمة الاقتصادية العالمية يمثلها على المخطط الزمني الحرف :



ص ٨٥

٤- المفكر الذي ألف كتاب العقد الاجتماعي :

ب- جون لوك

أ- روسو

د- منتيسكيو

ج- فولتير

ص ١٠٠

٥- أعلنت بريطانيا الحرب على ألمانيا في ٤ / ٨ / ١٩١٤ م بسبب :

ب- احتلال ألمانيا لمنطقة الراين

أ- حشود القوات الألمانية على الحدود الروسية

د- انتهاك ألمانيا حياد البلجيك

ج- مهاجمة ألمانيا للسفن الأمريكية

ص ٧٤

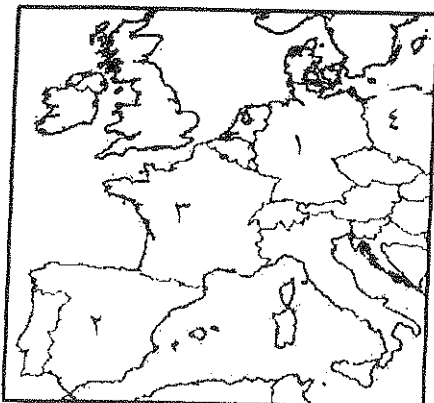
٦- دولة هرب إليها الملك جيمس الثاني يمثلها على الخريطة المقابلة الرقم :

ب- ( ٢ )

أ- ( ١ )

د- ( ٤ )

ج- ( ٣ )



( ١ )


تابع السؤال الأول ( الإجباري ) :-

ب - اكتب المفهوم الدالة عليه العبارات التالية :-

- ١- (أبناء الحرية) جماعة أمريكية نظمت المعارضة وقاومت القوانين الإنجليزية سينة السمعة . ص ٧٨
- ٢- (إتفاقيات سانت ) إتفاقيات حرم بموجبها استخدام الأسلحة الفتاكة . ص ١١٥
- ٣- (السوفيت) المجالس الشيوعية المحلية التي أسسها الحزب الشيوعي في روسيا . ص ١٠٦
- ٤- (مجلس اللوردات) مجلس يضم نواب الطبقتين الأرستقراطية الإقطاعية ورجال الدين ويعينهم الملك الإنجليزي . ص ٧٤

ج - رتب الأحداث التاريخية التالية وفقاً للمخطط الزمني التالي لها :- ص ١١٣

- \* إنزال الحلفاء في النورماندي .
- \* هزيمة دول المحور في ستالينجراد .
- \* فرنسا تستسلم لألمانيا .
- \* اليابان تهاجم ميناء بيرل هاربر .



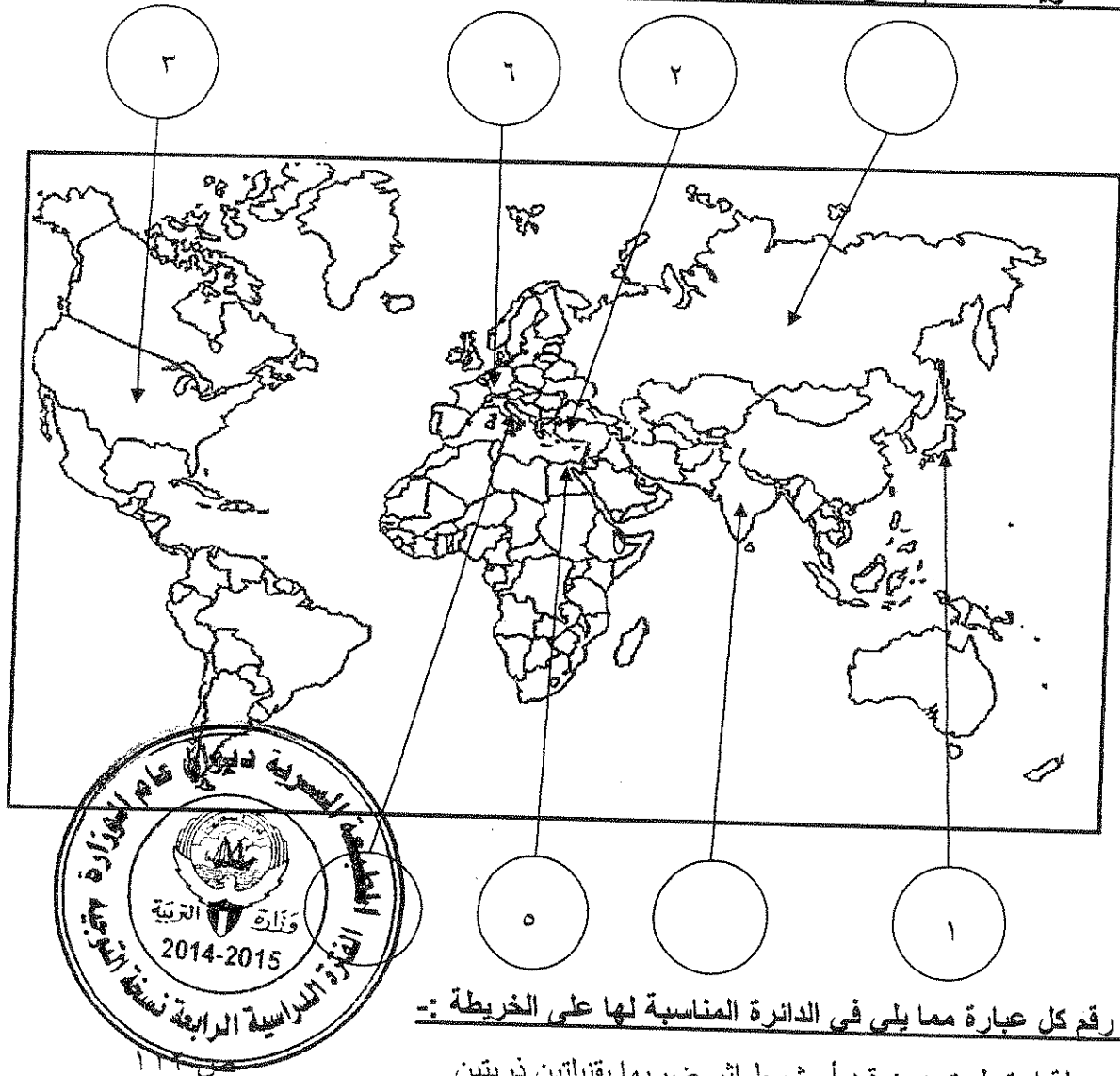
د - صنف الأسماء التالية حسب الجدول :-

( روسو - نيكر - دانتون - فولتير - ميرابو - منتيسكيو )

مفكرون	سياسيون
روسو	نيكر
فولتير	دانتون
منتيسكيو	ميرابو

تابع السؤال الأول ( الإجباري ) :-

هـ - لاحظ خريطة العالم التي أمامك جيدا ثم نفذ المطلوب :-



- ضع رقم كل عبارة مما يلي في الدائرة المناسبة لها على الخريطة :-

- ١- دولة استسلمت دون قيد أو شرط إثر ضربها بقنبلتين ذريتين .
- ٢- إمبراطورية إسلامية تفككت بعد الحرب العالمية الأولى .
- ٣- دولة ظهرت كوحدة سياسية مجتمعة في العالم الجديد عام ١٧٨٣م .
- ٤- دولة قامت فيها الحركة الفاشية عام ١٩٢٢م .
- ٥- دولة وقعت على أرضها معركة العلمين عام ١٩٤٢م .
- ٦- دولة أوروبية هزمت في الحرب العالمية الأولى وتحملت مسؤولية الحرب .

ص ١٠٣

ص ٨٢

ص ١٠٨

ص ١١١

ص ١٠٣

السؤال الثاني : ( اختياري ) يتكون من (أ- ب- ج):-

أ- دلل على صحة العبارات التالية :-

- ١- تعتبر الثورة الفرنسية واحدة من أهم الثورات الكبرى في العالم . درجتان ( يكتفى بنقطتين ) ص ٨٣  
- أعطت مفاهيم جديدة للعالم . - وضعت في حيز التنفيذ مبادئ عامة كانت مجرد نظريات .  
- غيرت الثورة جميع مناحي الحياة الفرنسية . - لم يكن تغييرها قاصراً على فرنسا وأوربا بل شمل جميع العالم .
- ٢- اختلفت الحرب العالمية الثانية عن جميع الحروب التي سبقتها . درجتان ( يكتفى بنقطتين ) ص ١١٣-١١٤  
- كانت حرب شاملة لدول العالم بالاشتراك المباشر أو بالتحالف مع الدول - تسخير الطاقات البشرية حيث سخرت دول المحور أسرى الحرب للعمل في المصانع والحقول ودفع الحلفاء بالإناث للعمل في هذا المجال بدل الرجال وفتحت الولايات المتحدة باب الهجرة للعمل  
- مواجهة بين أيديولوجيات وصراع بين نظريات دكتاتورية عنصرية تبنتها دول المحور بينما تبنى الحلفاء الديمقراطية التي تنادي بالمساواة وحقوق الإنسان - تنافس صناعي سخرت جميع الدول المشاركة في الحرب مقدراتها ومقدرات الشعوب التي احتلتها بهدف تطویر الإنتاج الصناعي الحربي وتطویر الاقتصاد - سباق تسلح تكنولوجي - تطور أساليب القتال والأسلحة فاستخدمت التكنولوجيا في الأرض والبحر والجو والصار أكبر وشمل جميع المجالات - استخدام القنبلة الذرية .

ب- عرف ما يلي :-

- ١- الحلف الفولاذي : درجة  
- حلف وقعه هتلر مع موسوليني في أغسطس عام ١٩٣٩م
- ٢- نازية : درجة  
- هي كلمة ألمانية تعني الاشتراكية الوطنية وهي التسمية التي أطلقها أدولف هتلر على الحزب النازي .
- ٣- مجلس العموم : درجة  
- يمثل الديمقراطية ويضم نواب الطبقتين الوسطى الزراعية والوسطى في المدن البرجوازية وينتخبهم الشعب .



ج- علل لما يلي:-

- ١- أثار قانون التمتع أكبر قدر من المعارضة لدى الأمريكيين . درجة ( يكتفى بنقطة ) ص ٧٨  
- لأنه أصاب رجال الصحافة والكتاب ورجال المال والأعمال ولهؤلاء نفوذ قوى في التأثير على الراي العام
- ٢- كانت القارة الأوربية محور العلاقات الدولية في بداية القرن العشرين . درجة ( يكتفى بنقطتين ) ص ٩٧  
- مركز الثورة الصناعية .  
- وفرة الموارد والإمكانات الاقتصادية .  
- النفوذ الاستعماري في جميع القارات .  
- نشوء الإمبراطوريات الكبرى .

**السؤال الثالث : (اختياري) يتكون من ( أ - ب - ج ) :-**

**أ- اقرأ الفقرة التالية ثم نفذ المطلوب :-**

" انقسم العالم سياسياً في أواخر القرن التاسع عشر وبداية القرن العشرين الميلادي بسبب عدة عوامل أهمها بروز النزعة القومية وتصادم الأيديولوجيات وسياسة التوسع للسيطرة على مناطق مختلفة من العالم ."

**١- عرف ما تحته خط .**

الأيديولوجية : نسق من الآراء والأفكار السياسية والقانونية والفلسفية . درجة ص ٩٧

٢- استخرج من الفقرة أسباب انقسام العالم سياسياً .  
- بروز النزعة القومية .

- تصادم الأيديولوجيات وسياسة التوسع للسيطرة على مناطق مختلفة من العالم .

**ب- فرق حسب الجدول :-**

القوانين سينة السمعة ص ٧٨	القوانين الجائرة ص ٧٩
ضرائب جديدة فرضها مجلس العموم البريطاني على الأمريكيين منها عام ١٧٦٤م على السكر و العسل والنبيد والحرير والبن و قانون التمغة الذي يفرض رسوم مالية على المستندات التجارية وعقود البيع والرهن وكانت الشرارة الأولى التي انطلقت منها الثورة الأمريكية .	قرارات اتخذها البرلمان الإنجليزي لمعاقبة ميناء بوسطن بعد حادثة حفلة شاي بوسطن ١٧٧٣م أهمها - إغلاق ميناء بوسطن حتى يتم دفع ثمن الشاي - تعيين الجنرال جيج حاكماً عسكرياً على بوسطن - منع الاجتماعات إلا بإذن من السلطات العسكرية الإنجليزية .

**ج- برهن على صحة العبارات التالية :- لكل سؤال درجتان ( يكتفى بنقطتين )**

- ١- ساهمت شروط معاهدات الصلح عام ١٩١٩م في قيام الحرب العالمية الثانية . ص ١٠٩  
- استحوذت الدول المنتصرة على نصيب الأسد من مكاسب مادية ومستعمرات .  
- فرض القيود ذات الشروط المذلة على الدول المهزومة .  
- فقدت الدول المهزومة أجزاء كبيرة من أراضيها مما أثار سخطها على هذه القيود .
- ٢- لم تقتصر إصلاحات الجمعية الوطنية على إصدار وثيقة الحقوق الفرنسية ودستور ١٧٩١م . ص ٨٩  
- قامت بإصلاح النظام الإداري حيث قسمت فرنسا إلى محافظات جغرافية وليس على أساس طبقي .  
- ألغت النظام القضائي القديم وأصبح منصب القاضي انتخابياً .  
- إصلاح النظام الضريبي والمالي بالمساواة بين جميع الأفراد وطبقاً لدخل الفرد .  
- إصلاح الكنيسة بمصادرة أملاكها لصالح الدولة لحل الأزمة المالية .

السؤال الرابع : (اختياري ) يتكون من (أ- ب - ج ) :-

أ- اكتب فقرة مترابطة من ثلاثة اسطر مستعينا بالكلمات التالية :- درجتان ص ١٠٥

( الكساد الإقتصادي - بورصة نيويورك - النظام الجديد - الإقتصاد الرأسمالي الحر )

كان من أبرز النتائج الإقتصادية للحرب العالمية الأولى الكساد الإقتصادي الذي أدى إلى انهيار بورصة نيويورك فترتب عليه إفلاس كثير من البنوك والمؤسسات . فتبنى الرئيس الأمريكي روزفلت سياسة إقتصادية جديدة عرفت بالنظام الجديد خرج بها عن الإقتصاد الرأسمالي الحر إلى إقتصاد رأسمالي موجه . ( أو ما يراه المصحح مناسباً )

ب- نفذ المطلوب منك بين الأقواس :- ثلاث درجات كل سؤال درجة ( يكتفى بنقطتين )

١- الثورة الإنجليزية . ( نتائجها ) ص ٧٥-٧٦

- انتشرت فكرة المجالس النيابية لإصدار القوانين وفرض الضرائب وتقرير سياسة الدولة بعد ما كان ذلك من حق الملك فقط - الأخذ بمبدأ تركيز الحياة النيابية في مجلسين اللوردات والعموم ومن ثم أخذت عنها الشعوب الأخرى لذلك نجد نظام المجلسين قد طبق في اغلب دول العالم حتى الآن- أخذت معظم دول العالم عن انجلترا نظامها الانتخابي حيث التمثيل النيابي على حساب الدوائر الانتخابية وليست على أساس طبقي حيث أصبح عضو البرلمان يمثل دائرة انتخابية على حسب التقسيم الجغرافي الذي تراه الدولة فالعضو لا يمثل طبقة اجتماعية او إقتصادية ولكنه يمثل جميع سكان دائرته - إدراك الفرد حقوقه السياسية- تطور النظرية السياسية وأشهرها نظرية السيادة الشعبية لجون لوك .

٢- إصلاحات نابليون الداخلية . ( الإصلاح الإداري ) ص ٩٣

- اهتم نابليون بالإدارة و أصدر قانونا عام ١٨٠٠م الذي نظم التعليم الإداري القديم الذي أصدرته الجمعية الوطنية .  
- جعل الحكام يعينون من قبل القنصل الأول ( نابليون )  
- الدستور الأمريكي ١٧٨٩م .

٣- ( مميزاته ) ص ٨٢

- امتاز بالفصل التام بين السلطات الثلاث ( التنفيذية / القضائية / التشريعية ) . - أكد على حق الفرد في الحرية والمساواة والاعتقاد وحرية الصحافة . - أكد على عدم تعارض السلطات المحلية مع السلطات الفيدرالية .  
- وضع الدستور لحماية حقوق الناس والمحافظة عليها . - أكد على مرونة الدستور وقابليته للتغيير والتعديل .

ج - ما تفسيرا لكل مما يلي :-

١- تغير أوضاع الحرب العالمية الثانية عام ١٩٤٢م لصالح الحلفاء . درجتان ( يكتفى بنقطتين ) ص ١١١

- إصرار بريطانيا بقيادة تشرشل على الصمود . - نمو قوة الحلفاء .

- صمود القوات الروسية ( الجيش الأحمر ) الذي هزم القوات الألمانية في ستالينجراد .

٢- نجاح الثورة الشيوعية في روسيا عام ١٩١٧م . درجتان ( يكتفى بنقطتين ) ص ١٠٦

- فساد الحكم القيصري في روسيا واستبداده . - هزائم الجيش الروسي منذ عام ١٩٠٥م على يد اليابان ثم الحرب العالمية الأولى . - سوء الحالة الإقتصادية لطبقة العمال والفلاحون وانتشار البطالة والمجاعات والأمراض .

- شخصية لينين وقدرته على إقناع الجماهير من خلال شعار ( السلام للجيش / الأرض للفلاحين / الغذاء للجميع / الحكم للسوفيت ) وتنظيم الحزب الشيوعي .

تابع امتحان تاريخ العالم الحديث والمعاصر - للصف الثاني عشر أدبي - الفترة الدراسية الرابعة - العام الدراسي ٢٠١٤/٢٠١٥ م

السؤال الخامس : (اختياري ) يتكون من (أ- ب- ج):-

أ- عدد لكل مما يلي :-

١- مبادئ لائحة الحقوق الإنجليزية ١٦٨٩ م . درجتان ( يكتفى بنقطتين ) ص ٧٤

- لا يحق للملك إبطال أو تعديل قانون صادر من البرلمان . - للبرلمان الحق الكامل في التعبير بحرية .

- لا يحق للملك فرض ضرائب جديدة أو تشكيل جيش أو إعلان حرب دون موافقة البرلمان .

- أعطى البرلمان حصانة للمواطنين حيث لا يمكن اعتقال مواطن دون محاكمة وفي البرلمان

٢- نتائج سقوط حصن الباستيل ١٧٨٩ م . درجتان ( يكتفى بنقطتين )

- عمت الفوضى في كل مكان . - توقف الفلاحون عن دفع الضرائب .

- انقض الفلاحون على قصور النبلاء واحرقوها وقتلوا من فيها واحرقوا الوثائق التي تعطيهم حقوقا إقطاعية .

- هجرة النبلاء خارج فرنسا هرباً بحياتهم فأصبح هؤلاء المهاجرون أكبر خطر على الثورة الفرنسية .

درجتان

ب- فرق حسب الجدول :-

السبب المباشر لقيام الحرب العالمية الأولى ص ١٠٠	السبب المباشر لقيام الحرب العالمية الثانية ص ١١٠
قيام طالب صربي باغتيال ولي عهد النمسا الأرشيدوق فرديناند وزوجته في مدينة سراييفو عاصمة البوسنة عام ١٩١٤ م .	طالب هتلر بولندا بإعادة ممر دانزيغ ولكنها رفضت بشدة فقام باجتياح بولندا عام ١٩٣٩ م ورفض إنذار بريطانيا وفرنسا .

ج- اكتب مهام الأجهزة التالية :-

١- منظمة التربية والعلوم والثقافة ( اليونسكو ) . درجة ص ١١٨

- تقوم بتعزيز التعاون الدولي في مجالات التربية والعلوم والثقافة لتطويرها وتحقيق أكبر قدر من التفاهم بين الأمم .

٢- منظمة التغذية والزراعة ( الفاو ) . درجة ص ١١٨

- تساعد على تحسين إنتاج المزارع والغابات ومناطق صيد الأسماك .

٣- محكمة العدل الدولية . درجة ص ١١٧

- حل النزاعات على الحدود بين الدول الأعضاء والنزاعات الناجمة عن مخالفة القوانين الدولية .



## امتحان نهاية الفترة الدراسية الرابعة

الزمن :- ساعتان وربع

للسف الثاني عشر/ أدبي ٢٠١٣ - ٢٠١٤م

الأسئلة في ٧ صفحات

المجال الدراسي: تاريخ العالم الحديث والمعاصر

السؤال الأول اجباري :- ويتكون من ( أ - ب - ج - د )( أ ) أكمل العبارات التالية بما يناسبها :-

- ١- العام الذي تأسست فيه أول مستعمرة إنجليزية في أمريكا الشمالية هو ..... م .
- ٢- المعركة التي هزمت فيها النمسا وأجبرت على أثرها توقيع معاهدة كامبو فروميو اسمها .....
- ٣- قائد دكتاتوري ظهر في تركيا بعد الحرب العالمية الأولى اسمه .....
- ٤- العام الذي انتصرت فيه القوات الروسية على القوات الألمانية في معركة ستالينجراد ..... م .
- ٥- رئيس أمريكي كان له دور بارز في تأسيس عصبة الأمم اسمه .....
- ٦- الرمز ( ILO ) هو اختصار لمنظمة عالمية اسمها .....
- ٧- مدينة يوجد بها مقر محكمة العدل الدولية اسمها .....
- ٨- القائد الفرنسي الذي أصدر عام ١٨٠٤م قانونا يحافظ على القيم والتقاليد القديمة اسمه .....

( ب ) انسب العبارة في المجموعة ( أ ) إلى المفكر في المجموعة ( ب ) :-

الرقم	( أ )	الرقم المناسب	( ب )
١-	انتقد بشدة القوانين الفرنسية الجائرة ونظام الضرائب والامتيازات .		روسو
٢-	اعتقد بأن النظام الملكي البرلماني الإنجليزي هو النظام الملائم لفرنسا .		جون لوك
٣-	نادى بأن لكل فرد حقوق طبيعية في الحياة والحرية والتملك .		فولتير
٤-	أنكر أن يكون هناك حاكم يستمد سلطته من مصدر غير الأمة .		ميكافيلي
			منتسكيو

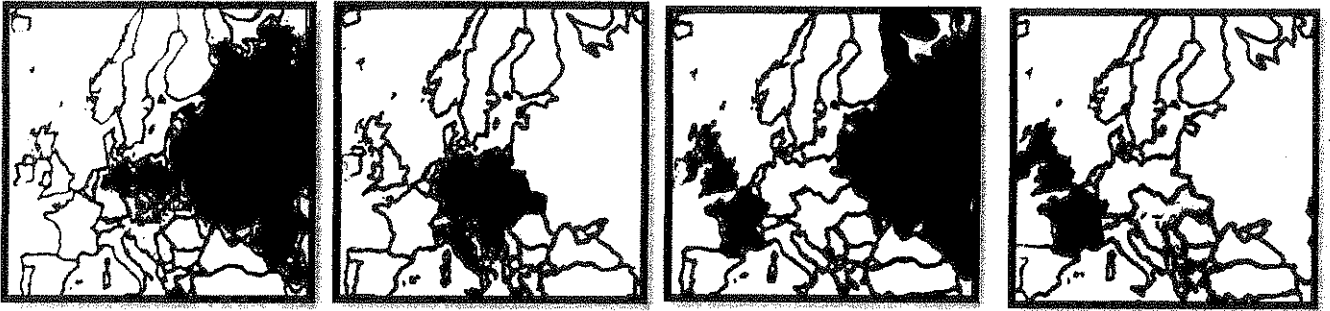
تابع السؤال الأول ( اجباري ) :-

( ج ) اختر الإجابة الصحيحة من بين البدائل التي تلي كل عبارة مما يلي :-

١. أحد أسباب قيام الثورة الأمريكية :-

- أ - انقسام المجتمع قبيل الثورة إلى طبقتين الممتازة والعامية . ج - إعلان مبدأ التسامح مع الكاثوليكية .  
ب - المشاركة الشعبية التي تحد من سلطة الملك . د - تطبيق قوانين الاحتكار التجاري وقوانين الملاحة .

٢. التكتل السياسي للدول التي شكلت الوفاق الودي تمثله الخريطة التي تحمل الحرف :-



٣. آخر الحروب التي خاضتها الولايات المتحدة الأمريكية ضد بريطانيا عام ١٧٨١ م :-  
( أ ) ( ب ) ( ج ) ( د )

أ - سارا توجا ب - يورك تاون ج - لونغ آيلاند د - لکنجستون .

٤ - استمرت آثار الأزمة الاقتصادية العالمية في كافة أنحاء العالم في الفترة بين :-

أ - ( ١٩٢٩ - ١٩٣٩ م ) ج - ( ١٩٣٩ - ١٩٤٢ م )  
ب - ( ١٩٢٩ - ١٩٣٥ م ) د - ( ١٩٣٨ - ١٩٤٥ م )

٥ - الحدث التاريخي الذي أدى إلى اندلاع الثورة المضادة في فرنسا :-

أ - إصدار إعلان بلنترز . ج - سقوط حصن الباستيل .  
ب - المؤامرة الملكية ضد الجمعية الوطنية . د - إعدام الملك لويس السادس عشر .

٦ - معركة تمكن فيها الحلفاء وقف الزحف الألماني على باريس عام ١٩١٤ م :-

أ - العلمين . ب - فردان ج - المارن الأولى د - النورماندي

٧ - رؤساء الدول الثلاث الذين دعوا إلى إنشاء تنظيم دولي باسم الأمم المتحدة هم :-

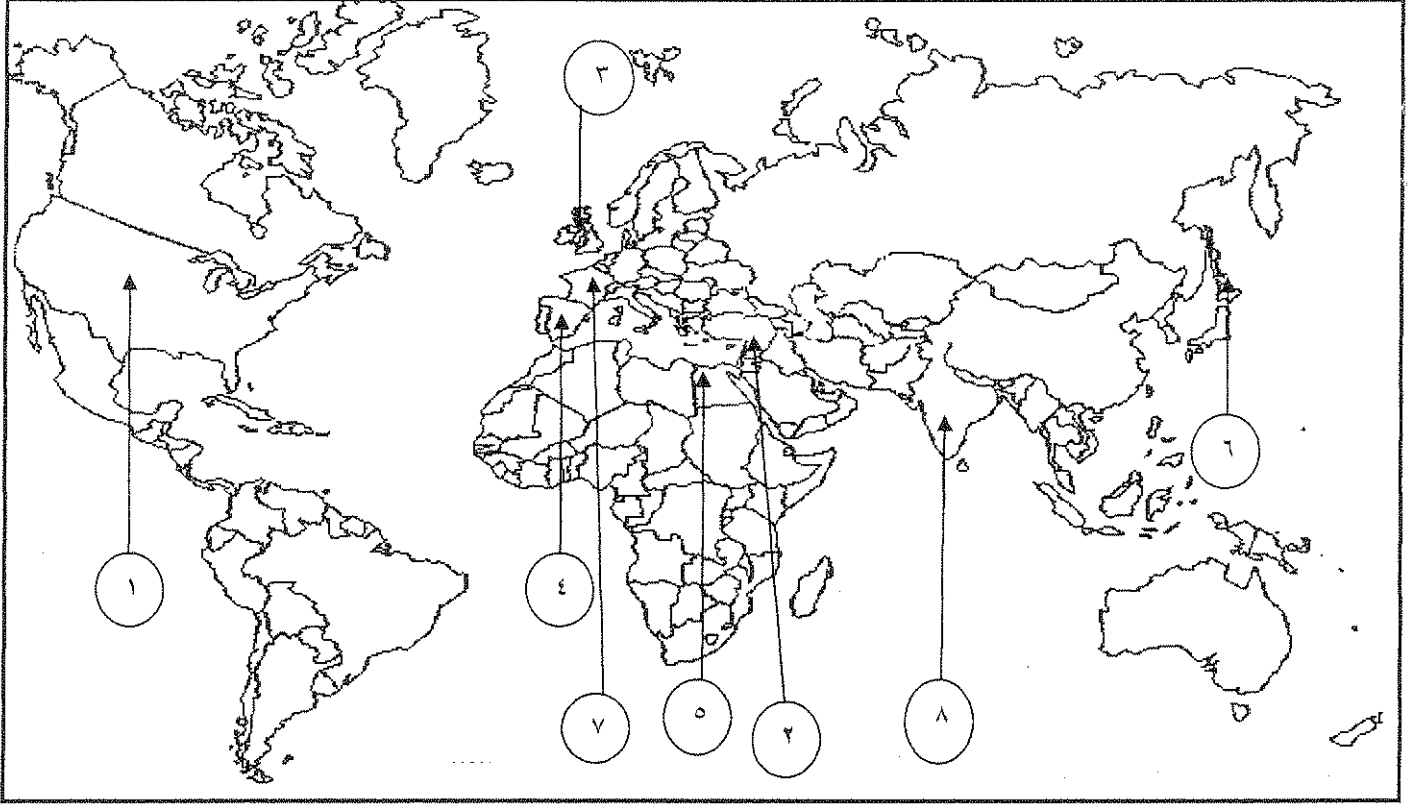
أ - ( روزفلت - تشرشل - ستالين ) ج - ( تشرشل - فرانكو - روزفلت )  
ب - ( لينين - ستالين - روزفلت ) د - ( ستالين - تشرشل - ولسن )

٨ - مدينة أقام فيها هتلر الحكومة الموالية له بعد توقيع الهدنة مع فرنسا عام ١٩٤٠ م :-

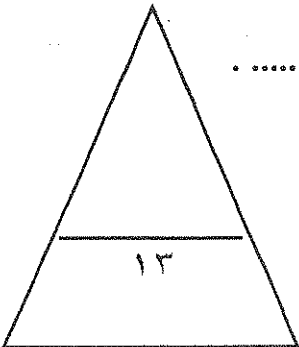
أ - باريس ب - مارسيليا ج - ليون د - فيشي

تابع السؤال الأول ( إجباري )

د ) أنسب الأرقام على خريطة العالم إلى العبارة المناسبة لها :-



- مدينة قامت فيها معركة العلمين يمثلها الرقم .....
- دولة ظهرت كوحدة سياسية مجتمعة عقب معاهدة صلح باريس عام ١٧٨٣م يمثلها الرقم .....
- دولة أوروبية ظلت مستعمراتها تنافس الإنجليز في أمريكا بعد حرب السنين السبع يمثلها الرقم .....
- دولة لقبث ثورتها بالنموذج الشامل للثورة يمثلها الرقم .....
- دولة استسلمت دون قيد أو شرط لقوات التحالف أثر ضربها بقنبلتين ذريتين يمثلها الرقم .....
- إحدى الإمبراطوريات التي تفككت في أعقاب الحرب العالمية الأولى يمثلها الرقم .....



الأسئلة الاختيارية ( أجب عن ثلاثة أسئلة كاملة من الأسئلة التالية ):

السؤال الثاني:- ( اختياري ) ويتكون من ( أ - ب - ج )

أ) علل لما يأتي :-

١ - استحالة التوافق بين الحاكم والمجلس النيابي المنتخب في المستعمرات الإنجليزية في أمريكا .

.....  
.....

٢ - كانت القارة الأوروبية محور العلاقات الدولية في بداية القرن العشرين .

.....  
.....

٣ - هروب الملك جيمس الثاني إلى فرنسا عام ١٦٨٨ م .

.....  
.....

ب) اذكر أوجه الشبه بين كلا من :-

١ - أسباب إنشاء كلا من عصبة الأمم المتحدة ومنظمة الأمم المتحدة .

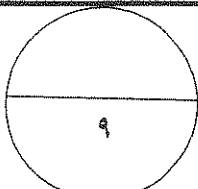
.....  
.....  
.....

٢ - نظام الحكم الذي كان يحكم به ملوك إنجلترا وملوك فرنسا قبل اندلاع الثورة في بلادهما .

.....  
.....

ج) قارن بين كل من :-

وجه المقارنة	النازية	الفاشية
المؤسس (الزعيم)		
سنة التأسيس		
التعريف		



السؤال الثالث اختياري يتكون من ( أ - ب - ج )

( أ ) وازن بين نظام الحكم ، والسلطة التشريعية في فرنسا من خلال :-

دستور ١٧٩٥ م	دستور ١٧٩١ م
نظام الحكم :- السلطة التشريعية :-	نظام الحكم :- السلطة التشريعية :-

( ب ) نفذ المطلوب بين القوسين :-

١- اختلفت الحرب العالمية الثانية عن جميع الحروب التي سبقتها بما فيها الحرب الأولى . ( دلل على صدق العبارة )

- .....
- .....
- .....
- .....

٢- دخول الولايات المتحدة الأمريكية الحرب العالمية الأولى إلى جانب الحلفاء . ( اذكر السبب )

- .....
- .....

٣- مجلس اللوردات ومجلس العموم في الحياة النيابية في إنجلترا . ( أوجه الاختلاف )

- .....
- .....

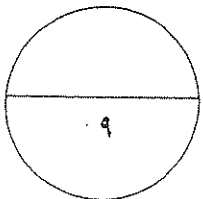
( ج ) اكتب مهام الأجهزة التالية :-

١- البنك الدولي للتنمية والتعمير .

- .....

٢- جمعية أبناء الحرية .

- .....



السؤال الرابع : ( اختياري ) ويتكون من ( أ - ب - ج )

أ ) ما تفسيرك لما يلي :-

١- لم يصدر مجلس طبقات الأمة الفرنسي قرارا يتعارض مع مصلحة الطبقات الأرستقراطية .

.....  
.....

٢- قيام الثورة الشيوعية في روسيا عام ١٩١٧ م .

- ..... ●
- ..... ●
- ..... ●
- ..... ●

٣- عانت الدول المنتصرة والدول المهزومة في الحرب العالمية الأولى من الكساد الاقتصادي العالمي بعد الحرب .

.....  
.....

ب ) فند العبارات التالية :-

١- اختلاف المبادئ بين وثيقة الاستقلال الأمريكية ووثيقة الحقوق الإنجليزية .

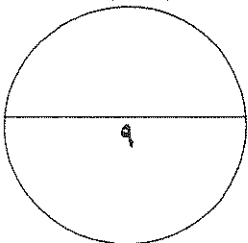
.....  
.....  
.....

٢- عدم تمتع مجلس الأمن الدولي بأي سلطة فعلية كأحد أجهزة الأمم المتحدة .

.....  
.....

ج ) فرق بين أثر حرب السنين السبع على :-

سكان المستعمرات	الإنجليز
-١	-١
-٢	-٢



السؤال الخامس : ( اختياري ) ويتكون من ( أ - ب - ج )

أ ) دلل على صحة العبارات التالية :-

١- " تعتبر نتائج الحرب العالمية الأولى وما تلاها من أحداث هي نفسها أسباب الحرب العالمية الثانية " .

..... \*

..... \*

..... \*

٢- " إن القوانين الجائرة التي اتخذها البرلمان الإنجليزي لمعاقبة بوسطن أعطى نتائج عكسية لما كان يتمناه الإنجليزي " .

..... \*

..... \*

٣- بالرغم من صغر معركة فالمي إلا أنه كان لها أهمية كبيرة في التاريخ الفرنسي .

..... \*

..... \*

..... \*

ب ) أجب عما يلي :-

١- عدد أهم ملامح عالمنا المعاصر .

..... \*

..... \*

..... \*

..... \*

ج ) عرف المفاهيم التالية :-

١- الكنيسة الإنجليكانية :-

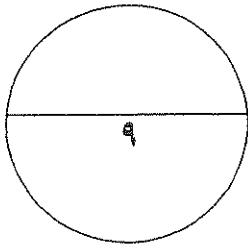
.....

٢- الأيديولوجية :-

.....

٣- البلقان :-

.....



( انتهت الأسئلة )

## امتحان نهاية الفترة الدراسية الرابعة

الزمن :- ساعتان وربع

للمصف الثاني عشر/ أدبي ٢٠١٣ - ٢٠١٤ م

الأسئلة في ٧ صفحات

المجال الدراسي: تاريخ العالم الحديث والمعاصر

السؤال الأول اجباري :- ويتكون من ( أ - ب - ج - د )

( أ ) أكمل العبارات التالية بما يناسبها :-

١- العام الذي تأسست فيه أول مستعمرة إنجليزية في أمريكا الشمالية هو ... ٧... ٦... ١... م .

٢- المعركة التي هزمت فيها النمسا وأجبرت على أثرها توقيع معاهدة كامبو فروميو اسمها ... ريبون ...

٣- قائد دكتاتوري ظهر في تركيا بعد الحرب العالمية الأولى اسمه ... مصطفى كمال ... أتاتورك

٤- العام الذي انتصرت فيه القوات الروسية على القوات الألمانية في معركة ستالينجراد ... ٤... ٦... ٩... م .

٥- رئيس أمريكي كان له دور بارز في تأسيس عصبة الأمم اسمه ... ويلسون ...

٦- الرمز ( ILO ) هو اختصار لمنظمة عالمية اسمها ... منظمة العمل الدولية

٧- مدينة يوجد بها مقر محكمة العدل الدولية اسمها ... لاهاي ...

٨- القائد الفرنسي الذي أصدر عام ١٨٠٤م قانونا يحافظ على القيم والتقاليد القديمة اسمه نابليون بونابرت

(ب) انسب العبارة في المجموعة ( أ ) إلى المفكر في المجموعة ( ب ) :-

الرقم	( أ )	الرقم المناسب	( ب )
١-	انتقد بشدة القوانين الفرنسية الجائرة ونظام الضرائب والامتيازات .	٤	روسو
٢-	اعتقد بأن النظام الملكي البرلماني الإنجليزي هو النظام الملائم لفرنسا .	٣	جون لوك
٣-	نادى بأن لكل فرد حقوق طبيعية في الحياة والحرية والتملك .	١	فولتير
٤-	أنكر أن يكون هناك حاكم يستمد سلطته من مصدر غير الأمة .		ميكافيلي
		٢	منتسكيو



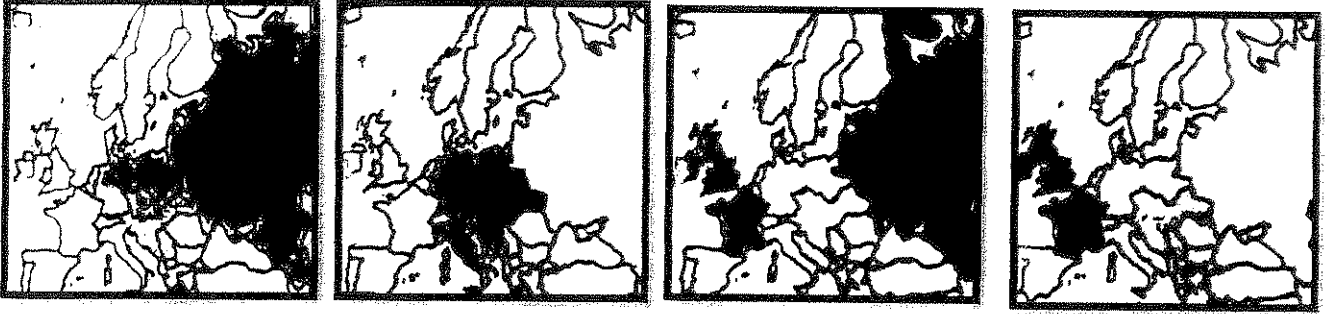
تابع السؤال الأول ( اجباري ) :-

( ج ) اختر الإجابة الصحيحة من بين البدائل التي تلي كل عبارة مما يلي :-

١. أحد أسباب قيام الثورة الأمريكية :-

أ - انقسام المجتمع قبيل الثورة إلى طبقتين الممتازة والعامية . ج - إعلان مبدأ التسامح مع الكاثوليكية .  
ب - المشاركة الشعبية التي تحد من سلطة الملك . ( د ) تطبيق قوانين الاحتكار التجاري وقوانين الملاحة .

٢. التكتل السياسي للدول التي شكلت الوفاق الودي تمثله الخريطة التي تحمل الحرف :-



( د )

( ج )

( ب )

( أ )

٣. آخر الحروب التي خاضتها الولايات المتحدة الأمريكية ضد بريطانيا عام ١٧٨١ م :-

أ - سارا توجا . ب - يورك تاون . ج - لونج آيلاند . د - لكنجستون .

٤ - استمرت آثار الأزمة الاقتصادية العالمية في كافة أنحاء العالم في الفترة بين :-

( أ ) ( ١٩٢٩ - ١٩٣٩ م ) . ج - ( ١٩٣٩ - ١٩٤٢ م )  
ب - ( ١٩٢٩ - ١٩٣٥ م ) . د - ( ١٩٣٨ - ١٩٤٥ م )

٥ - الحدث التاريخي الذي أدى إلى اندلاع الثورة المضادة في فرنسا :-

أ - إصدار إعلان بلنترز . ج - سقوط حصن الباستيل .  
ب - المؤامرة الملكية ضد الجمعية الوطنية . ( د ) إعدام الملك لويس السادس عشر .

٦ - معركة تمكن فيها الحلفاء وقف الزحف الألماني على باريس عام ١٩١٤ م :-

أ - العلمين . ب - فردان . ( ج ) - المارن الأولى . د - النورماندي

٧ - رؤساء الدول الثلاث الذين دعوا إلى إنشاء تنظيم دولي باسم الأمم المتحدة هم :-

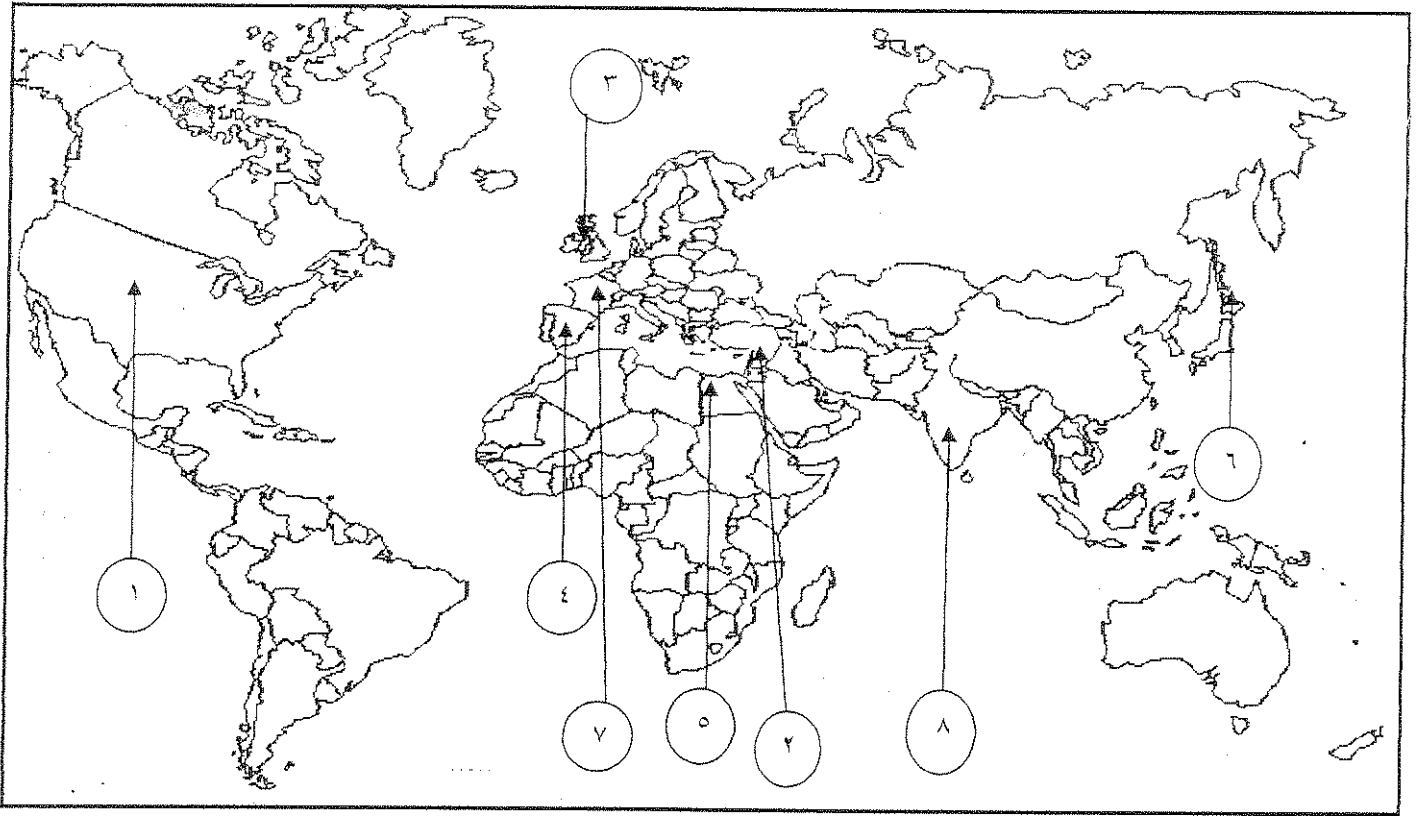
( أ ) ( روزفلت - تشرشل - ستالين ) . ج - ( تشرشل - فرانكو - روزفلت )  
ب - ( لينين - ستالين - روزفلت ) . د - ( ستالين - تشرشل - ولسن )

٨ - مدينة أقام فيها هتلر الحكومة الموالية له بعد توقيع الهدنة مع فرنسا عام ١٩٤٠ م :-

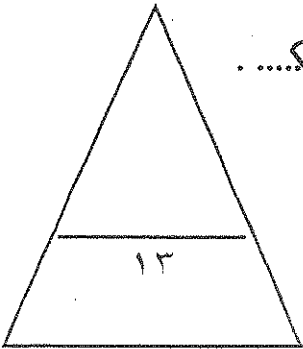
أ - باريس . ب - مارسيليا . ج - ليون . ( د ) - فيشي

تابع السؤال الأول ( اجباري )

د ) أنسب الأرقام على خريطة العالم الى العبارة المناسبة لها :-



- مدينة قامت فيها معركة العلمين يمثلها الرقم ..... ٥ .....
- دولة ظهرت كوحدة سياسية مجتمعة عقب معاهدة صلح باريس عام ١٧٨٣م يمثلها الرقم ..... ١ .....
- دولة أوروبية ظلت مستعمراتها تنافس الإنجليز في أمريكا بعد حرب السنين السبع يمثلها الرقم ..... ٤ .....
- دولة لقبث ثورتها بالنموذج الشامل للثورة يمثلها الرقم ..... ٧ .....
- دولة استسلمت دون قيد أو شرط لقوات التحالف أثر ضربها بقنبلتين ذريتين يمثلها الرقم ..... ٦ .....
- إحدى الإمبراطوريات التي تفككت في أعقاب الحرب العالمية الأولى يمثلها الرقم ..... ٢ .....



الأسئلة الاختيارية ( أجب عن ثلاثة أسئلة كاملة من الأسئلة التالية ):

السؤال الثاني:- ( اختياري ) ويتكون من ( أ - ب - ج )

أ) علل لما يأتي :-

- ١- استخالة التوافق بين الحاكم والمجلس النيابي المنتخب في المستعمرات الإنجليزية في أمريكا .  
حيث أن الحاكم يهيمن بالدرجة الأولى مصالح الملك الإنجليزي  
أما المجلس النيابي يهيمن بمصالح الشعب الأمريكي في المقام الأول
- ٢- كانت القارة الأوروبية محور العلاقات الدولية في بداية القرن العشرين .

- مركز الثورة الصناعية - وفرة الموارد الاقتصادية
- النفوذ السياسي لجميع القارات - نشوء الامبراطوريات الكبرى

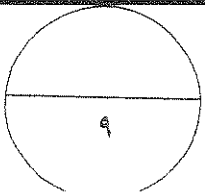
٣- هروب الملك جيمس الثاني إلى فرنسا عام ١٦٨٨ م .  
سبب انضمام العسكريين الإنجليز إلى وليام أورانج مما قاد الملك  
جيمس الثاني إلى المنفى في هولندا

ب) اذكر أوجه الشبه بين كلا من :-

- ١- أسباب إنشاء كلا من عصبة الأمم المتحدة ومنظمة الأمم المتحدة .  
إعلان السلام والوحدة بين الدول  
تحقيق التعاون الدولي في جميع المجالات  
اجتماع مسؤولين السياسات
- ٢- نظام الحكم الذي كان يحكم به ملوك إنجلترا وملوك فرنسا قبل اندلاع الثورة في بلادهما .  
نظرية الحق الإلهي المقدس

ج) قارن بين كل من :-

وجه المقارنة	النازية	الفاشية
المؤسس (الزعيم)	أدولف هتلر	موسوليني
سنة التأسيس	١٩٢٠ م	١٩٢٢ م
التعريف	الاشتراكية الوطنية	حركة يمينية متطرفة تؤمن بتفوق النهر الرومان



السؤال الثالث اختياري يتكون من ( أ - ب - ج )

أ) وازن بين نظام الحكم ، والسلطة التشريعية في فرنسا من خلال :-

دستور ١٧٩٥ م	دستور ١٧٩١ م
نظام الحكم :- جمهورية	نظام الحكم :- ملك
السلطة التشريعية :- البرلمان ويتكون من - مجلس الخمسمائة - مجلس الشيوخ	السلطة التشريعية :- الجمعية التشريعية

ب) نفذ المطلوب بين القوسين :-

١- اختلفت الحرب العالمية الثانية عن جميع الحروب التي سبقتها بما فيها الحرب الأولى . ( دلل على صدق العبارة )

- حرب عالمية شاملة
- تسخير الطاقات البشرية
- تنافس مناعى
- سباق تسلح تكنولوجى

٢- دخول الولايات المتحدة الأمريكية الحرب العالمية الأولى إلى جانب الحلفاء . ( اذكر السبب )

سبب حرب الضواصات الألمانية ضد السفن الأمريكية

٣- مجلس اللوردات ومجلس العموم في الحياة النيابية في إنجلترا . ( أوجه الاختلاف )

- - مجلس اللوردات يضم الطبقتين الأرستقراطية ورجال الدين وهم ملك انجلترا
- - مجلس العموم يضم نواب الطبقتين الوسطى والبرجوازية والبرجوازية والبرجوازية والبرجوازية

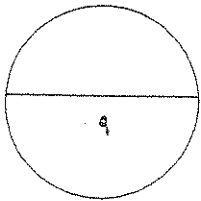
ج) اكتب مهام الأجهزة التالية :-

١- البنك الدولي للتنمية والتعمير .

• منح قروض مساعدة مختلف الطرق في تنفيذ مشاريعها

٢- جمعية أبناء الحرية .

• تنظيم المعارض ومقاومة الضرائب الجديدة التي أُلقت عليها  
القوانين سيئة السمعة



السؤال الرابع : ( اختياري ) ويتكون من ( أ - ب - ج )

( أ ) ما تفسيرك لما يلي :-

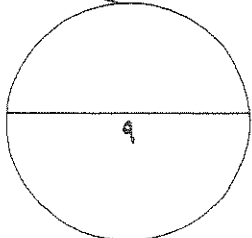
- ١- لم يصدر مجلس طبقات الأمة الفرنسي قرارا يتعارض مع مصلحة الطبقات الأرستقراطية .  
 لدراسة التمهيدية كانت يتبع على أساسها عدد من الفروع وليس على عدد الأصوات  
 وجميع ذلك برجال الدين والسلاطين من فروعهم فكان يصدر المجلس أي قرار  
 يتعارض مع مصلحة الطبقات الأرستقراطية
- ٢- قيام الثورة الشيوعية في روسيا عام ١٩١٧ م .  
 • خصائص الحكم القمري في روسيا  
 • الهزائم الكبرى التي حلت بالجيش الروسي  
 • بيروقراطية الحزب الشيوعي  
 • شخصيات لينين و ستالين و كوروشكين و أرتاغاج الجماهير
- ٣- عانت الدول المنتصرة والدول المهزومة في الحرب العالمية الأولى من الكساد الاقتصادي العالمي بعد الحرب .  
 ١- الدول المنتصرة و كبريها و حتمت لهم تسعة برامج من بينها برنامج ويلسون و كبريها و حتمت لها  
 ٢- الدول المهزومة و كبريها و حتمت لها برنامج ويلسون و كبريها و حتمت لها

( ب ) فند العبارات التالية :-

- ١- اختلاف المبادئ بين وثيقة الاستقلال الأمريكية ووثيقة الحقوق الإنجليزية .  
 لديمقراطية وحرية وحرية الصحافة وحرية الدين وحرية الصحافة وحرية الصحافة وحرية الصحافة  
 الحقوق من حرية الصحافة وحرية الصحافة وحرية الصحافة وحرية الصحافة
- ٢- عدم تمتع مجلس الأمن الدولي بأي سلطة فعلية كأحد أجهزة الأمم المتحدة .  
 هو واجب السلطة الفعلية من المنظمة وله صلاحية استعمال  
 القوة العسكرية للسلام وحرية على السلام وحرية على السلام

( ج ) فرق بين أثر حرب الستين السبع على :-

الإنجليز	سكان المستعمرات
١- فرجة إنجلترا من كبر وهرقان أزمة مالية طامنة	١- شعورهم بقوتهم الحقيقية
٢- أصبحت إنجلترا صاحبة لياوة على الكونغرس الأمريكي بالكامل	٢- بروز أرباب المال أتمال جورج واشنطن - اعتمادوا التعاون فيما بينهم



السؤال الخامس : ( اختياري ) ويتكون من ( أ - ب - ج )

( ا ) دلل على صحة العبارات التالية :-

١ - " تعتبر نتائج الحرب العالمية الأولى وما تلاها من أحداث هي نفسها أسباب الحرب العالمية الثانية " .

- ما هو صراع المصلح ١٩١٩ جعلت لدول المهزومة تحاول التخلص من شروطها المذا
- قيام المنظمة البريكتا سورنية من ألمانيا وإيطاليا واليابان وغيرها للتوسع لإس
- الأزمة الأولى في مفاوضات المعاهدة

٢ - " إن القوانين الجائرة التي اتخذها البرلمان الإنجليزي لمعاقبة بوسطن أعطى نتائج عكسية لما كان يتمناه الإنجليزي " .

- عدم الرضوخ للقوانين الجائرة التي أصدرتها إنجلترا ضد بوسطن
- إصرار بوسطن على المطالبة بالحرية التجارية للبريطانيين في إنجلترا
- ٣ - بالرغم من صغر معركة فالمي إلا أنه كان لها أهمية كبيرة في التاريخ الفرنسي .

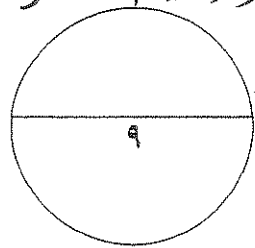
- أفضت أفكار الثورة الفرنسية من الطبقات
  - حالت رعب وقلق وقلق بارين
  - برهنت لبروع الجمهورية للفرنسيين
  - تحول جيش الثورة بعد ماسك الدفاع إلى الهجوم
- ( ب ) أجب عما يلي :-

١ - عدد أهم ملامح عالمنا المعاصر .

- تقدم علمي والتكنولوجيا
- زيادة سكانية هائلة
- مجوعة عالمية اجتماعية بين الدول المتقدمة والنامية
- مخاوف من حرب نووية

( ج ) عرف المفاهيم التالية :-

- ١ - الكنيسة الإنجليكانية :- هي الكنيسة الإنجليزية التي تعترف بالذهب البروتستانتي بعدد
- ٢ - الأيديولوجية :- حثت من الأفكار السياسية والقانونية والدينية والفلسفية
- ٣ - البلقان :- اصطلاح سياسي يطلق على جمهورية بولندا وأوروبا الشرقية  
يوغسلافيا - اليونان - بلغاريا - ألبانيا .



( انتهت الأسئلة )

الزمن : ساعتان وربع

امتحان نهاية الفترة الدراسية الرابعة

للفصل الثاني عشر / أدبي للعام ٢٠١٢ / ٢٠١٣ م

المجال الدراسي : تاريخ العالم الحديث والمعاصر

السؤال الأول ( إجباري ) يتكون من أ - ب - ج - د :-

أ- أكمل العبارات التالية بما يناسبها :-

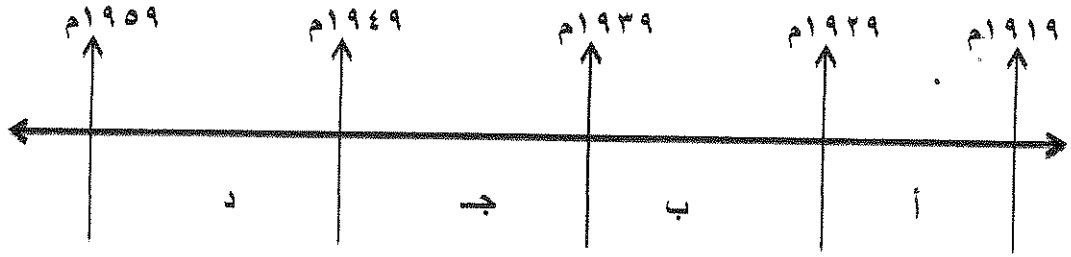
- ١- الكنيسة الأنجليزية التي تعتنق المذهب البروتستانتي تسمى .....
- ٢- المستشار الألماني الذي أتبع أسلوب الأحلاف والتكتلات في أوروبا يسمى .....
- ٣- الساحل الفرنسي الذي تم إنزال الحلفاء قواتهم فيه عام ١٩٤٣ م يسمى .....
- ٤- العام الذي أفتتحت فيه هيئة الأمم المتحدة رسميا هو .....
- ٥- المدينة التي كانت مقرا للجمعية العامة لعصبة الأمم تسمى .....
- ٦- الدولة التي دخلت الحرب العالمية الأولى بسبب انتهاك ألمانيا حياد البلجيك تسمى .....
- ٧- الكتاب الذي وضع فيه هتلر مبادئه يسمى .....
- ٨- المفكر الفرنسي صاحب كتاب " روح القوانين " أسمه .....

ب- أختار البديل الصحيح من بين البدائل التي تلي كل عبارة مما يلي وضع خطا تحته :-

- ١- الدولة الأفريقية التي احتلها موسوليني عام ١٩٣٦ م :  
أ - الصومال  
ب - ليبيا  
ج - أثيوبيا  
د - موريتانيا
- ٢- الزعيم الأمريكي الذي شارك في مؤتمر يالطا ١٩٤٥ م :  
أ- روزفلت  
ب- جورج واشنطن  
ج- ودر وويلسون  
د- جون كنيدي
- ٣- المدينة التي حدثت فيها خاتمة حرب استقلال الولايات المتحدة ضد بريطانيا :  
أ- بوسطن  
ب- لكسنجتون  
ج- يورك تاون  
د- نيويورك
- ٤- الحلف الذي تكون من دولتي فرنسا وبريطانيا عام ١٩٠٤ م :  
أ - عصبة الأباطرة  
ب - الاتفاق الودي  
ج - الحلف الثلاثي  
د - الوفاق الودي

تابع السؤال الأول ( اجباري ) :

٥- الفترة الزمنية التي تمثل الكساد الإقتصادي العالمي يمثلها على المخطط الزمني الحرف :



٦- الدول التي تمثل دول المحور في الحرب العالمية الثانية :

يمثلها في الجدول المقابل :

الدولة	م
المانيا	-١
بريطانيا	-٢
ايطاليا	-٣
اليابان	-٤

ب - ( ١ ، ٢ ، ٣ )

أ - ( ١ ، ٣ ، ٤ )

د - ( ١ ، ٢ ، ٤ )

ج - ( ٢ ، ٣ ، ٤ )

٧- المدينة التي أعتقل فيها الملك لويس السادس عشر أثناء هروبه من فرنسا :

ب - نيس

أ - باريس

د - فاران

ج - فرساي

ج- أكتب المفهوم الدالة عليه العبارات التالية :-

١- ( ) صلح عقد بين الولايات المتحدة وبريطانيا عام ١٧٨٣م أقرت بموجبه بريطانيا باستقلال

الولايات المتحدة الأمريكية .

٢- ( ) تشريعات يتفق عليها دوليا وهي مقننة تلتزم الدول المشتركة بها .

٣- ( ) إعلان الحرب على فرنسا من قبل أمبراطوري النمسا وبروسيا عام ١٧٩١م لإنقاذ الملكية الفرنسية .

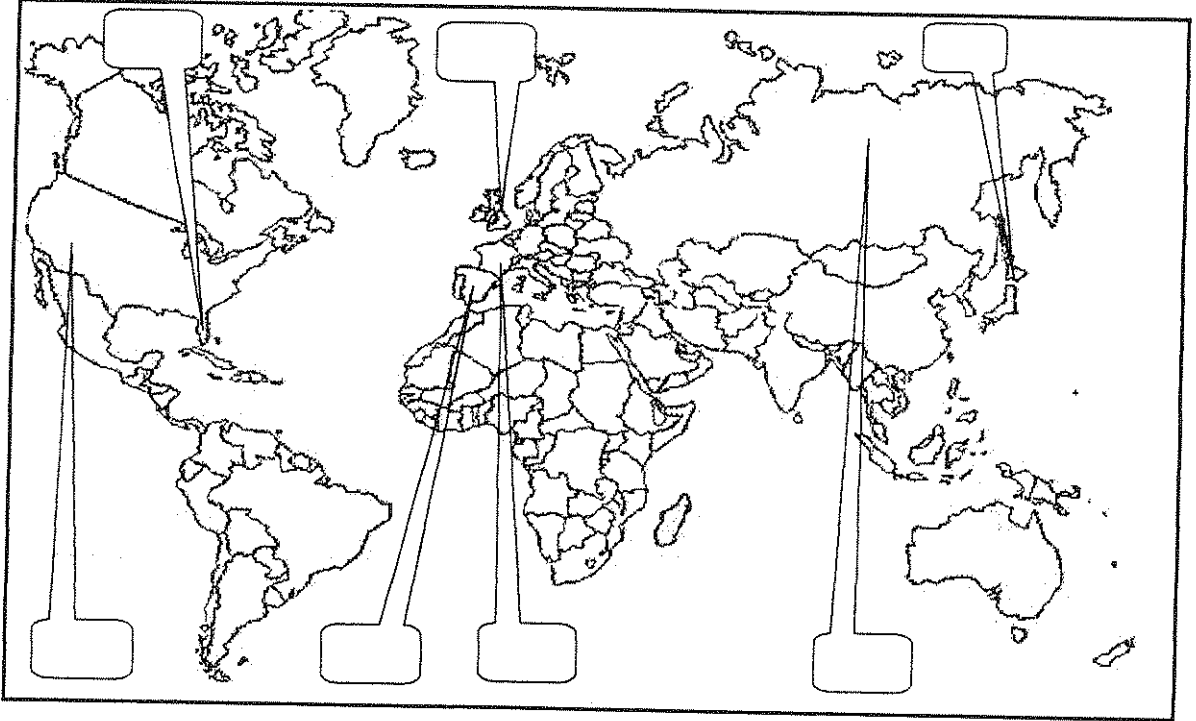
٤- ( ) مؤتمر عقد عام ١٩٣٨م تقرر فيه ضم تشيكوسلوفاكيا الى ألمانيا .

٥- ( ) معاهدة عقدت عام ١٧٩٧م أعطت فرنسا مكاسب كبيرة وحققت للفرنسيين الفخر والعزة .



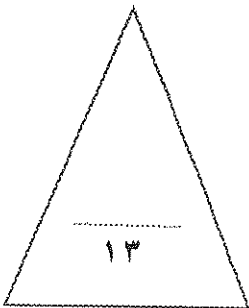
تابع السؤال الأول ( اجباري ) :

د - لاحظ خريطة العالم التي أمامك جيدا ثم نفذ المطلوب منك :-



ضع رقم كل عبارة مما يلي في المربع المناسب لها على خريطة العالم الصماء :-

- ١- الدولة التي ألفت عليها الولايات المتحدة الأمريكية قنبلتين ذريتين .
- ٢- المستعمرة الأسبانية في أمريكا الشمالية .
- ٣- دولة انسحبت من الحرب العالمية الأولى عام ١٩١٧ م .
- ٤- دولة قامت فيها الثورة المجيدة عام ١٦٨٩ م .
- ٥- دولة قام فيها النظام الديكتاتوري بزعامة فرانسيس فرانكو .
- ٦- دولة أحتلها هتلر عام ١٩٤٠ م .



السؤال الثاني : ( اختياري ) يتكون من أ - ب - ج :-

أ - علل لكل مما يلي :-

١- أهمية معركة فالمي تاريخيا .

.....  
.....

٢- نجاح الثورة الشيوعية في روسيا عام ١٩١٧ م .

.....  
.....

ب - أكتب النتائج المترتبة على ما يلي :-

١- الثورة الإنجليزية .

.....  
.....

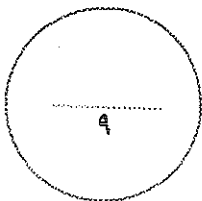
٢- حرب السنين السبع بالنسبة لسكان المستعمرات .

.....  
.....

ج - ماذا يحدث لو لم :-

١- يحتل هتلر ممر دانزيغ ( دانزيغ ) البولندي عام ١٩٣٩ م

.....



السؤال الثالث : ( اختياري ) يتكون من أ - ب - ج

أ - أكتب فقرة مترابطة مستعينا بالكلمات التالية :-

الطبقة الممتازة - المجتمع الفرنسي - الضرائب - الوظائف العليا .

.....  
.....  
.....  
.....

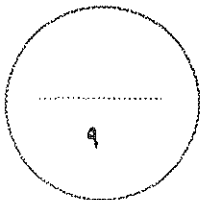
ب - ما أوجه الشبه بين كل مما يلي :-

١- الفاشية والنازية كأنظمة ديكتاتورية .

.....  
.....  
.....  
.....

ج - فرق بين ما يلي :-

أسباب الحرب العالمية الثانية	أسباب الحرب العالمية الأولى
..... ..... ..... .....	..... ..... ..... .....



السؤال الرابع ( إختياري ) يتكون من أ - ب - ج :

أ - اقرأ الفقرة التالية ثم نفذ المطلوب منك :-

" هدم هروب الملك لويس السادس عشر الجسور التي كانت العناصر الثورية المعتدلة ( الجيرونديين ) في المؤتمر الوطني منذ البداية تحرص على استمرارها بين العرش والثورة بل أكثر من ذلك فإن هذا الحدث قد قضى على كل أمل بإقامة ملكية دستورية في فرنسا وأطلق للعناصر المتطرفة اليعاقة وللجمهوريين عامة حرية العمل والدعوة لأفكارهم حيث صدر الحكم بإعدام الملك بعد أن ظهر علانية بمظهر الخائن المتعاون مع المهاجرين أعداء الثورة و دول أجنبية تضرر الكره والبغضاء لفرنسا وثورتها فنفذ الحكم بتاريخ ٢١ يناير ١٧٩٣م مما أدى إلى قيام الثورة المضادة في فرنسا وتشكل التحالف الدولي الأول ضد الثورة الفرنسية."

١- عرف ما تحته خط .

اليعاقة :

٢- استخلص من الفقرة نتائج إعدام الملك لويس السادس عشر على فرنسا .

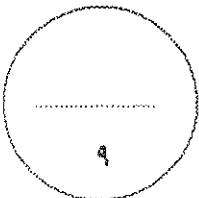
ب - علل لما يلي :-

١- إستحالة التعاون بين الحاكم والمجلس التشريعي في المستعمرات الإنجليزية في أمريكا الشمالية بعد حرب السنين السبع .

٢- عجز عصبة الأمم في حل القضايا التي كانت الدول الكبرى طرفاً فيها .

ج - فرق بين ما يلي :-

دخول الولايات المتحدة الأمريكية الحرب العالمية الأولى	دخول الولايات المتحدة الأمريكية الحرب العالمية الثانية
.....	.....



السؤال الخامس : ( إختياري ) يتكون من أ - ب - ج

أ - نفذ المطلوب منك بين الأقواس :-

( العوامل الإقتصادية )

١- الثورة الفرنسية .

.....  
.....

( النتائج السياسية )

٢- الحرب العالمية الثانية .

.....  
.....

( النتائج )

٣- معركة ساراتوجا

.....  
.....

ب- علل ما يلي :-

١- إلغاء البرلمان الإنجليزي جميع الضرائب سيئة السمعة ما عدا ضريبة الشاي .

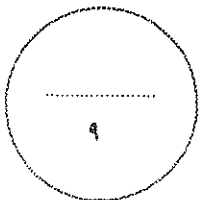
.....

٢- إنقسام العالم سياسيا في أواخر القرن التاسع عشر وبداية القرن العشرين .

.....  
.....

ج- أكتب ملمحين لعالمنا المعاصر :-

.....  
.....



أنتهت الأسئلة ...،،،،

( ٧ )

الزمن : ساعتان وربع

امتحان نهاية الفترة الدراسية الرابعة

للفيف الثاني عشر / أدبي للعام ٢٠١٢ / ٢٠١٣ م

المجال الدراسي : تاريخ العالم الحديث والمعاصر

السؤال الأول ( إجباري ) يتكون من أ - ب - ج - د :-

أ- أكمل العبارات التالية بما يناسبها :-

- ١- الكنيسة الأنجليزية التي تعتقد المذهب البروتستانتية تسمى البروتستانتية.
- ٢- المستشار الألماني الذي أتبع أسلوب الأحلاف والتكتلات في أوروبا يسمى بيسمارك.
- ٣- الساحل الفرنسي الذي تم إنزال الحلفاء قواتهم فيه عام ١٩٤٣ م يسمى البيزو برجلانمري.
- ٤- العام الذي أفتتحت فيه هيئة الأمم المتحدة رسميا هو ١٩٤٥ م.
- ٥- المدينة التي كانت مقرا للجمعية العامة لعصبة الأمم تسمى جنيف.
- ٦- الدولة التي دخلت الحرب العالمية الأولى بسبب انتهاك ألمانيا حياد البلجيك تسمى بريطانيا.
- ٧- الكتاب الذي وضع فيه هتلر مبادئه يسمى كفاحي.
- ٨- المفكر الفرنسي صاحب كتاب " روح القوانين " أسمه مونتسكيو.

ب- أختار البديل الصحيح من بين البدائل التي تلي كل عبارة مما يلي وضع خطا تحته :-

١- الدولة الأفريقية التي احتلها موسوليني عام ١٩٣٦ م :

- أ - الصومال  
ب - ليبيا  
ج - أثيوبيا  
د - موريتانيا

٢- الزعيم الأمريكي الذي شارك في مؤتمر يالطا ١٩٤٥ م :

- أ - روزفلت  
ب - جورج واشنطن  
ج - ودر وويلسون  
د - جون كنيدي

٣- المدينة التي حدثت فيها خاتمة حرب استقلال الولايات المتحدة ضد بريطانيا :

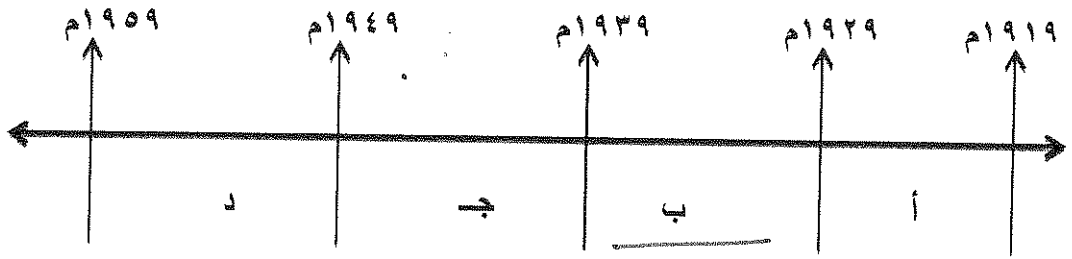
- أ - بوسطن  
ب - لكسنجتون  
ج - يورك تاون  
د - نيويورك

٤- الحلف الذي تكون من دولتي فرنسا وبريطانيا عام ١٩٠٤ م :

- أ - عصبة الأباطرة  
ب - الاتفاق الودي  
ج - الحلف الثلاثي  
د - الوفاق الودي

تابع السؤال الأول ( اجباري ) :

٥- الفترة الزمنية التي تمثل الكساد الإقتصادي العالمي يمثلها على المخطط الزمني الحرف :



٦- الدول التي تمثل دول المحور في الحرب العالمية الثانية :

الدولة	م
المانيا	-١
بريطانيا	-٢
إيطاليا	-٣
اليابان	-٤

يمثلها في الجدول المقابل :

ب - ( ١ ، ٢ ، ٣ )

أ - ( ١ ، ٣ ، ٤ )

د - ( ١ ، ٢ ، ٤ )

ج - ( ٢ ، ٣ ، ٤ )

٧- المدينة التي أعتقل فيها الملك لويس السادس عشر أثناء هروبه من فرنسا :

ب - نيس

أ - باريس

د - ( ١ - ) فاران

ج - فرساي

ج- أكتب المفهوم الدالة عليه العبارات التالية :-

١- ( صلح باريس ) صلح عقد بين الولايات المتحدة وبريطانيا عام ١٧٨٣م أقرت بموجبه بريطانيا باستقلال

الولايات المتحدة الأمريكية .

٢- ( الإغفآت الرولية ) تشريعات يتفق عليها دوليا وهي مقننة تلتزم الدول المشتركة بها .

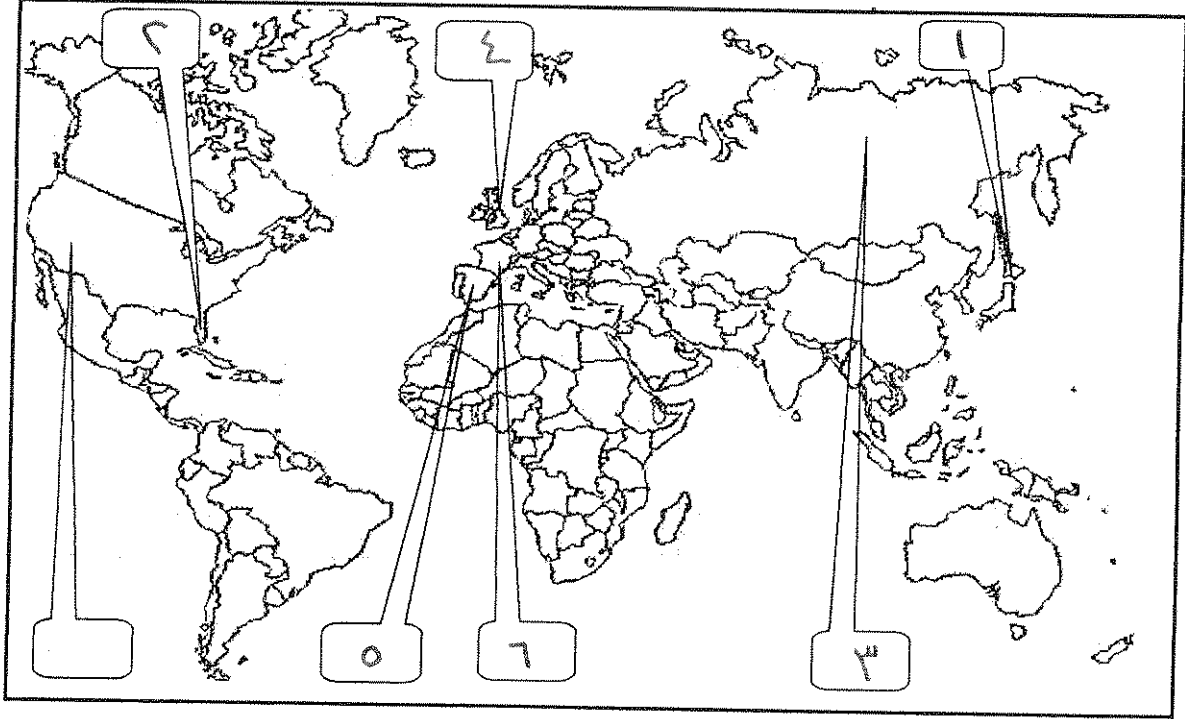
٣- ( بلنتر ) إعلان الحرب على فرنسا من قبل إمبراطوري النمسا وبروسيا عام ١٧٩١م لإنقاذ الملكية الفرنسية .

٤- ( ميونخ ) مؤتمر عقد عام ١٩٣٨م تقرر فيه ضم تشيكوسلوفاكيا الى ألمانيا .

٥- ( ريسولي ) معاهدة عقدت عام ١٧٩٧م أعطت فرنسا مكاسب كبيرة وحققت للفرنسيين الفخر والعزة .

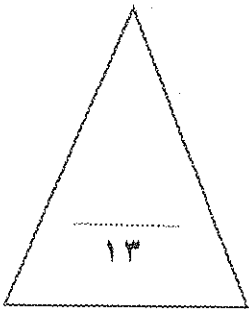
تابع السؤال الأول ( اجباري ) :

د - لاحظ خريطة العالم التي أمامك جيدا ثم نفذ المطلوب منك :-



ضع رقم كل عبارة مما يلي في المربع المناسب لها على خريطة العالم الصماء :-

- ١- الدولة التي ألقت عليها الولايات المتحدة الأمريكية قنبلتين ذريتين .
- ٢- المستعمرة الأسبانية في أمريكا الشمالية .
- ٣- دولة انسحبت من الحرب العالمية الأولى عام ١٩١٧ م .
- ٤- دولة قامت فيها الثورة المجيدة عام ١٦٨٩ م .
- ٥- دولة قام فيها النظام الديكتاتوري بزعامة فرانسيس فرانكو .
- ٦- دولة أحتلها هتلر عام ١٩٤٠ م .





السؤال الثاني : ( اختياري ) يتكون من أ - ب - ج :-

أ - علل لكل مما يلي :-

- ١- أهمية معركة فالمي تاريخيا .  
- الأهمية التاريخية الفرنسية  
- روعة المرحع المدعوية الفرنسية  
- حالت دون وقوع باريس  
- تحول جيش الثورة مع المدافع للمرجوم
- ٢- نجاح الثورة الشيوعية في روسيا عام ١٩١٧ م .  
- فساد الحكم القيصري وسباده  
- سوء الحالة الاقتصادية  
- الإزاحة التي جلبت اليها الروس  
- شخصية لينين وقدرته على الإقناع

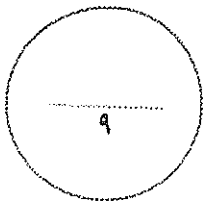
ب - أكتب النتائج المترتبة على ما يلي :-

- ١- الثورة الإنجليزية .  
- انتشار فكرة المجالس النيابية  
- إضطرار معظم البرولديتظام الإبتحائها الكائم على البرولديتظام الإبتحائية  
- ادراكه العزء حقوقه السياسية  
- تطور النظريات السياسية  
- حرب السنين السبع بالنسبة لسكان المستعمرات
  - ٢- شعورهم بقوتهم الكفيفة  
- الإعتقاد في العناوين  
- فتح الباب نحو التوسع إلى العزء دون حدود  
- الكثير من إبتحائهم العزء في الحرب " جورج واشنطن  
- إزالة تهديد فرنسية
- ج - ماذا يحدث لو لم :-

١- يحتل هتلر ممر دانزيغ ( دانزيغ ) البولندي عام ١٩٣٩ م

لم تجرته الحرب العالمية الثانية

- لم ينقذ العالم إلى مفكرين الكلفاء والمحور



السؤال الثالث: ( اختياري ) يتكون من أ - ب - ج -

أ - أكتب فقرة مترابطة مستعينا بالكلمات التالية :-

الطبقة الممتازة - المجتمع الفرنسي - الضرائب - الوظائف العليا .

- الطبقة الممتازة من المجتمع الفرنسي تكونت من الأثرياء ورجال الرسم  
وتمتعوا بالأسير من الكرزاي مثل الإقطاع من الفزارب وكذا للبر  
عولس المناصب العليا ونسبتهم إلى من المجتمع الفرنسي

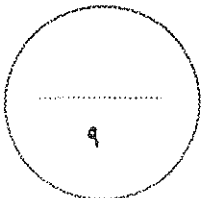
ب - ما أوجه الشبه بين كل مما يلي :-

١- الفاشية والنازية كأنظمة ديكتاتورية .

- هما حركة قامت في أوروبا بعد الحرب العالمية الأولى  
- الإنشيط حركة عينية من طرف  
- كلتا الحركتين تميزتا بالعنف والقوة والبطر والقب  
- هما حركة قامت بالتوسع على حساب الدول الأخرى

ج - فرق بين ما يلي :-

أسباب الحرب العالمية الثانية	أسباب الحرب العالمية الأولى
- معاهدة الصلح عام ١٩١٩ - معاهدة الأنظمة الركنية في باريس - الأزمات الاقتصادية العالمية - التوتر الدولي - سياسة هتلر العدوانية	- زيادة التماس الاستعماري بين دول أوروبا - الصراع حول المنعرج في أفريقيا - التحارم حول من الكلاخ الدوله العمانيه - المسألة الشرقية



السؤال الرابع ( اختياري ) يتكون من أ - ب - ج :

أ - اقرأ الفقرة التالية ثم نفذ المطلوب منك :-

" هدم هروب الملك لويس السادس عشر الجسور التي كانت العناصر الثورية المعتدلة ( الجيروندي ) في المؤتمر الوطني منذ البداية تحرص على استمرارها بين العرش والثورة بل أكثر من ذلك فإن هذا الحدث قد قضى على كل أمل بإقامة ملكية دستورية في فرنسا وأطلق للعناصر المتطرفة اليعاقة وللجمهوريين عامة حرية العمل والدعوة لأفكارهم حيث صدر الحكم بإعدام الملك بعد أن ظهر علانية بمظهر الخائن المتعاون مع المهاجرين أعداء الثورة و دول أجنبية تضمز الكره والبغضاء لفرنسا وثورتها فنفذ الحكم بتاريخ ٢١ يناير ١٧٩٣م مما أدى إلى قيام الثورة المضادة في فرنسا وتشكل التحالف الدولي الأول ضد الثورة الفرنسية."

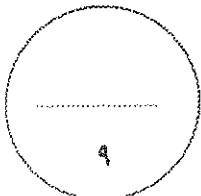
- ١- عرف ما تحته خط .  
 اليعاقة : حزب فرنسي متطرف يدين بالعداء الشديد للملكية وامتازوا بأنهم أوليس  
 سديرة التنظيم ذات صلة بالشعب وجمهور باريس .
- ٢- استخلص من الفقرة نتائج إعدام الملك لويس السادس عشر على فرنسا .  
 - قيام الثورة المضادة .  
 - تشكيل التحالف الدولي الأول ضد الثورة الفرنسية .

ب - علق لما يلي :-

- ١- استحالة التعاون بين الحاكم والمجلس التشريعي في المستعمرات الإنجليزية في أمريكا الشمالية بعد حرب  
 السنين السبع .  
 لأن الحاكم يوصف بالديمقراطي معارض الملك حيث نظرت إنجلترا للمواطن  
 الأمريكي بأنه مواطن معارض للملك .  
 الشعب يريد أن يرفع عنك ولا يوجد منعه
- ٢- عجز عصبة الأمم في حل القضايا التي كانت الدول الكبرى طرفاً فيها .  
 - عدم التزام الدول الكبرى بحيثيات العصبة  
 - لم تكن العصبة قوة عسكرية قادرة على تنفيذ قراراتها  
 - لم تكن له الولايات المتحدة ما يضرب

ج - فرق بين ما يلي :-

دخول الولايات المتحدة الأمريكية للحرب العالمية الأولى	دخول الولايات المتحدة الأمريكية للحرب العالمية الثانية
سبب مهاجمة العواصم الألمانيتين السفن التجارية الأمريكية	سبب مهاجمة اليابان ميناء بيرل هاربور في جزر هاواي



السؤال الخامس : ( اختياري ) يتكون من أ - ب - ج -

أ - نفذ المطلوب منك بين الأقواس :-

( العوامل الاقتصادية )

- ١- الثورة الفرنسية .  
- الجبائر الكبرى الناشئة عن الحروب النابليونية  
- استنزاف القوى البشرية من حروب الاستقلال الأمريكية

( النتائج السياسية )

- ٢- الحرب العالمية الثانية .  
- تقوية نظم أوروبا السياسي  
- إنهاء الهيمنة البريطانية والفرنسية واليابانية  
- قيام أنظمة شيوعية في دول أوروبا الشرقية  
- فقدان أسياياح كل من كلاً من بريطانيا وفرنسا  
- بروز قطبين في العالم هما الولايات المتحدة والاتحاد السوفيتي  
٣- معركة ساراتوجا  
- جنرال الأنجلز جيتا كاملا  
- اعتراف فرنسا باستقلال الأمريكيين  
- زاد تحالف الشعوب الأوروبية مع الثورة الأمريكية

ب- علل ما يلي :-

١- إلغاء البرلمان الإنجليزي جميع الضرائب سينة السمعة ما عدا ضريبة الشاي .

- مما يسبب عدم رضخ الضرائب قائماً على الاستعانة

٢- انقسام العالم سياسياً في أواخر القرن التاسع عشر وبداية القرن العشرين .

- بروز النزعة القومية  
- تصادم الأيديولوجيات  
- تصادم المصالح الإقتصادية  
- سياسة التوسع من قبل القوى

ج - أكتب ملحقين لعالمنا المعاصر :-

- البيابرة قوة إقتصادية عظيمة  
- الصين دولة كبرى عظم  
- دول نامية ومتنامية اقتصادياً  
- الولايات المتحدة القوة العظمى  
- تقدم علمي وزيادة كفاءة  
- مخاوف من حرب نووية

انتهت الأسئلة ...

( ٧ )

بسم الله الرحمن الرحيم


دولة الكويت

وزارة التربية ( الأسئلة في 8 صفحات )

التوجيه الفني العام للاجتماعيات

اختبار نهاية الفترة الدراسية الرابعة للصف الثاني عشر أدبي 2010 - 2011م

المجال الدراسي: تاريخ العالم الحديث والمعاصر



السؤال الأول اختاري :- ويتكون من ( أ - ب - ج - د )

( أ ) اختر الإجابة الصحيحة من بين البدائل التي تلي كل عبارة مما يلي :-

1. الأحداث التاريخية المرتبة بصورة زمنية صحيحة تحمل الحرف :-

- أ- مذبحه بوسطن - معركة سارا توجا - حرب السنين السبع - حفل شاي بوسطن .
- ب- معركة سارا توجا - حفل شاي بوسطن - حرب السنين السبع - مذبحه بوسطن .
- ج- حرب السنين السبع - مذبحه بوسطن - حفل شاي بوسطن - معركة سارا توجا .
- د- حفل شاي بوسطن - حرب السنين السبع - معركة سارا توجا - مذبحه بوسطن .

2. وقع أول صدام مسلح بين القوات الإنجليزية والأمريكية عند مدينة :-

- أ- لكسنجتون .
- ب- جيمس تاون .
- ج- كونكورد .
- د- فرجينيا .

3. " إننا هنا بإرادة الشعب ولن نبرح أماكننا إلا على أسنة الرماح " قائل العبارة :-

- أ - دانتون .
- ب - فولتير .
- ج - ميرابو .
- د - روبيسير .

تابع السؤال الأول إجباري :-

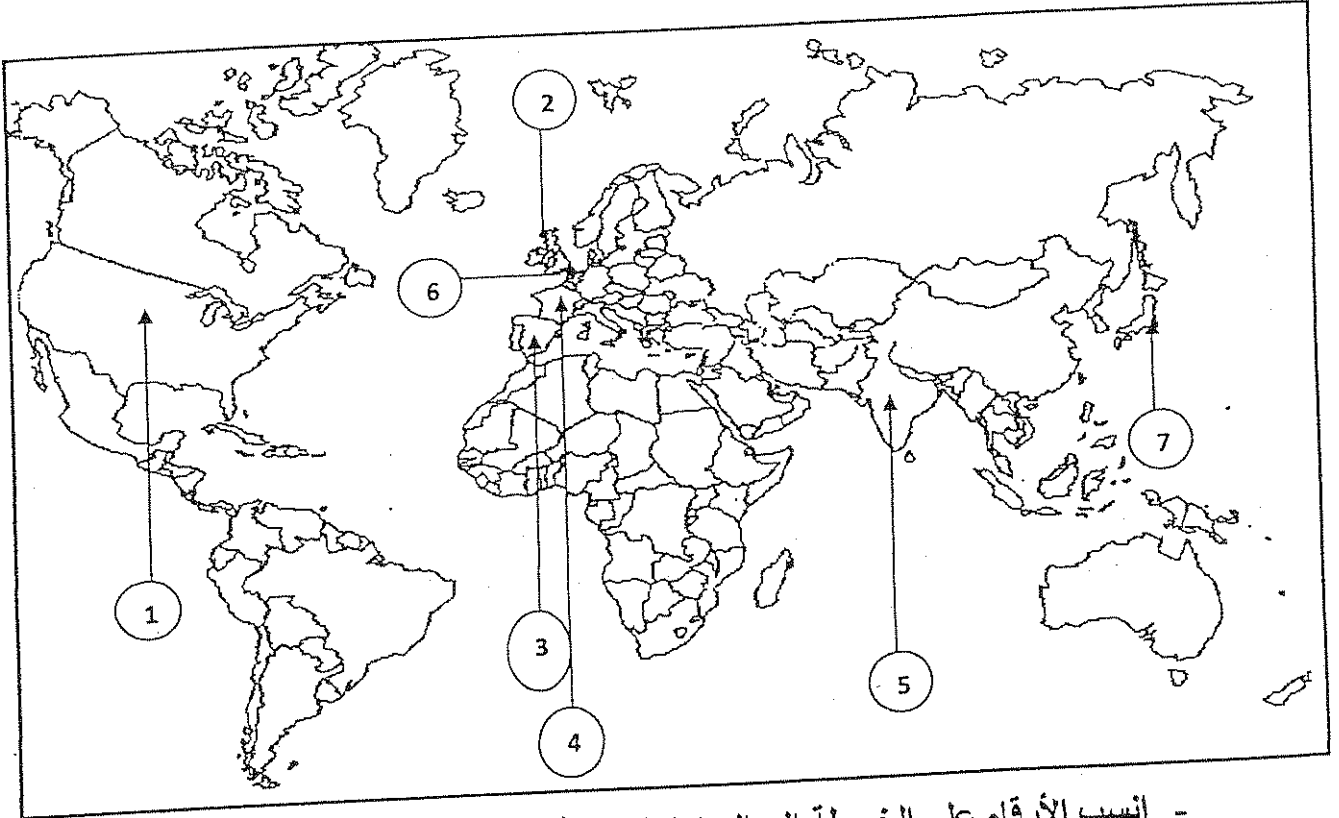
4. التكتل السياسي للدول التي شكلت الوفاق الودي يمثلته الحرف :-
- أ- ( روسيا - فرنسا - بريطانيا ) . ج- ( ألمانيا - إيطاليا - النمسا )  
ب- ( فرنسا - إنجلترا - النمسا ) . د- ( روسيا - ألمانيا - النمسا )
5. أحد الأسباب التي أدت إلى ظهور الأنظمة الدكتاتورية في أوروبا هو :-
- أ- قيام عصبة الأمم . ج- الأزمة الاقتصادية العالمية .  
ب- نجاح الثورة البلشفية . د- نظام الحكم المطلق .
6. الدول ~~التي~~ التي سعت إلى إنشاء تنظيم دولي جديد بعد الحرب العالمية الثانية تحمل الحرف :-
- أ- ( الولايات المتحدة الأمريكية - فرنسا - بريطانيا ) .  
ب- ( الولايات المتحدة الأمريكية - بريطانيا - الإتحاد السوفيتي ) .  
ج- ( الولايات المتحدة الأمريكية - فرنسا - الإتحاد السوفيتي ) .  
د- ( الولايات المتحدة الأمريكية - الإتحاد السوفيتي - إيطاليا )
- ب ) أكمل العبارات التالية بما يناسبها :-
- 1- القائد الروسي الذي احتل مدينة برلين عام 1945م اسمه .....
- 2- جماعة أخذت على عاتقها تنظيم المعارضة ومقاومة القوانين سيئة السمعة أسمها .....
- 3- إعلان أصدره ملوك أوروبا لإنقاذ الملكية الفرنسية من الثورة الفرنسية اسمه .....
- 4- معاهدة أجبرت فيها النمسا بعد هزيمتها عام 1797م أمام نابليون على إعطاء فرنسا مكاسب كبيرة أسمها .....
- 5- مدينة اغتيل فيها ولي عهد النمسا عام 1914م اسمها .....
- 6- نجح البريطانيون من إلحاق الهزيمة بالقوات الألمانية والإيطالية في معركة العلمين عام .....م .

تابع السؤال الأول ( إجباري )

7- قائد النظام الديكتاتوري الذي ظهر في تركيا بعد الحرب العالمية الأولى اسمه .....

8- الرمز ( who ) هو اختصار لمنظمة عالمية اسمها .....

ج - لاحظ خريطة العالم المرفقة ثم نفذ المطلوب منها:-



- انسب الأرقام على الخريطة إلى العبارة المناسبة لها :-

- دولة يوجد بها مقر محكمة العدل الدولية يمثلها الرقم .....
- دولة وقعت فيها هدنة 1918م لإنهاء الحرب العالمية الأولى يمثلها الرقم .....
- دولة تعرضت لكارثة اقتصادية عام 1929م يمثلها الرقم .....
- دولة ظلت مستعمراتها تنافس الإنجليز في أمريكا بعد حرب السنين السبع يمثلها الرقم .....
- دولة أعلنت الحرب على ألمانيا بعد انتهاكها حياد البلجيك 1914م يمثلها الرقم .....
- دولة لم تستسلم في الحرب العالمية الثانية إلا بعد إلقاء قنبلتين ذريتين على أراضيها يمثلها الرقم .....

تابع السؤال الأول ( إجباري )

د) أقرأ الفقرة التالية ثم استخرج منها ما هو مطلوب في الأسئلة التي تليها :-

" كان لبروز النزعة القومية وتصادم الأيدلوجيات وغيرها من العوامل التي أدت إلى انقسام العالم في أواخر القرن التاسع عشر وبداية القرن العشرين سياسيا . كما كان لزيادة التنافس والصراع بينها ظهور الأحلاف والتكتلات التي اتبعتها دول أوروبا والتي غيرت موازين القوى فيها مع بداية القرن العشرين ، وقد أصبحت أوروبا مجموعتين متنافستين متسلحتين تولد عنها صدام عسكري تمثل في أكبر حربين شهدتهما البشرية بسبب خسائرهما التي تضاعفت في الحرب العالمية الثانية والتي أدت إلى سقوط خمسين مليون قتيل وتشريد الملايين ، كذلك النفقات الباهظة للحرب التي حولت دول أوروبا إلى دول مستوردة بعد أن كانت دول مصدرة ، إلى غير ذلك من الآثار والنتائج مما دعا الدول المحبة للسلام السعي لإنشاء تنظيم دولي جديد بعد فشل عصبة الأمم لتكون أداة للتنسيق بين أعمال الدول والمنظمات الأخرى . "

1- الفكرة الرئيسية للنص .

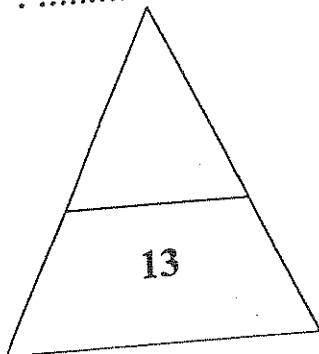
2- أحد أسباب انقسام العالم سياسيا في القرن التاسع عشر الميلادي .

3- دليل على توتر العلاقة بين دول أوروبا قبيل الحرب العالمية الأولى .

4- نتيجة اقتصادية من نتائج الحرب العالمية الثانية .

5- اسم لمنظمة عالمية ظهرت في القرن العشرين .

6- هدف لمنظمة الأمم المتحدة .





الأسئلة الاختيارية ( أجب عن ثلاثة أسئلة كاملة من الأسئلة التالية ):

السؤال الثاني:- ( اختياري ) ويتكون من ( أ - ب - ج )

( أ ) علل لما يأتي :-

1- تلقب الثورة الفرنسية في العالم بالنموذج الشامل للثورة .

.....\*

.....\*

2- توقيع بريطانيا الإتفاق الودي مع فرنسا عام 1904 م .

.....\*

.....

3- الخلاف بين الملك جيمس الثاني والبرلمان الإنجليزي بعد توليه حكم إنجلترا عام 1685 م .

.....\*

.....\*

4- اعتبار القارة الأوربية محور العلاقات الدولية في بداية القرن العشرين .

.....\*

.....\*

( ب ) عرف المفاهيم التالية :-

1- الأيديولوجية : .....

.....

2- السوفيت : .....

.....

3- علاقات نولية : .....

.....

( ج ) وازن بين أثر حرب السنين السبع على كلا من :-

سكان المستعمرات الإنجليزية	إنجلترا
*	*
*	*

السؤال الثالث اختياري يتكون من ( أ – ب – ج )

أ) أكمل الجدول التالي:-

وجه المقارنة	الشيوعية	النازية
المؤسس	.....	.....
سنة التأسيس		
مبادئ النظام	-1	-1
	-2	-2

ب) ما أوجه الشبه بين كلا من :-

1- إعلان حقوق الإنسان الإنجليزي – وإعلان حقوق المواطن الفرنسي .

.....\*

.....\*

.....\*

2- ( روسو – جون لوك ) كمفكرين أثرا في قيام الثورتين الإنجليزية والفرنسية

.....

.....

ج) أكتب وظيفة كلا من الوكالات العالمية المتخصصة في الجدول الرفق :-

البنك الدولي للتنمية والتعمير	منظمة العمل الدولية

السؤال الرابع: ( اختياري ) ويتكون من ( أ - ب - ج )

( أ ) ما أوجه الاختلاف بين كلا من :-

1- ( الطبقة الممتازة - والطبقة العامة ) في المجتمع الفرنسي قبل الثورة .

.....  
.....  
.....

2- مجلس الأمن الدولي - الجمعية العامة من حيث عدد الأعضاء والصلاحيات .

.....  
.....  
.....

( ب ) ماذا يحدث لو :-

1- لم تهاجم ~~الولايات المتحدة~~ <sup>العالم</sup> ميناء بير هاربر الأمريكي .

.....  
.....  
.....

2- لم تنضم الولايات المتحدة كدولة عضوه في منظمة الأمم المتحدة .

.....

( ج ) نفذ المطلوب بين القوسين :-

1- الفاشية في إيطاليا . ( أسباب الظهور )

.....\*  
.....\*  
.....\*

2- الحرب العالمية الثانية . ( نتائجها السياسية )

.....\*  
.....\*  
.....\*

السؤال الخامس : ( اختياري ) ويتكون من ( أ - ب - ج )

أ) دلي على صحة العبارات التالية :-

1- " يعتبر دستور الولايات المتحدة والذي صدر عام 1789م من أكثر دساتير العالم تميزا ووضوحا " .

..... \*

..... \*

..... \*

..... \*

2- " لعبت ماري أنطوانيت دورا كبيرا في إضعاف مكتبة لويس السادس عشر الشعبية " .

..... \*

..... \*

3- " إن نتائج الحرب العالمية الأولى وما تلاها من أحداث كانت هي نفسها أسباب الحرب العالمية الثانية " .

..... \*

..... \*

ب) فرق بين كلا من :-

معركة المارن الأولى	معركة المارن الثانية

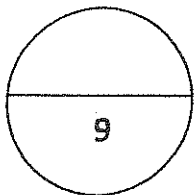
ج) فند العبارة التالية :-

"لم يكن للثورة الأمريكية أي علاقة بالثورة الفرنسية "

.....

.....

.....



انتهت الأسئلة

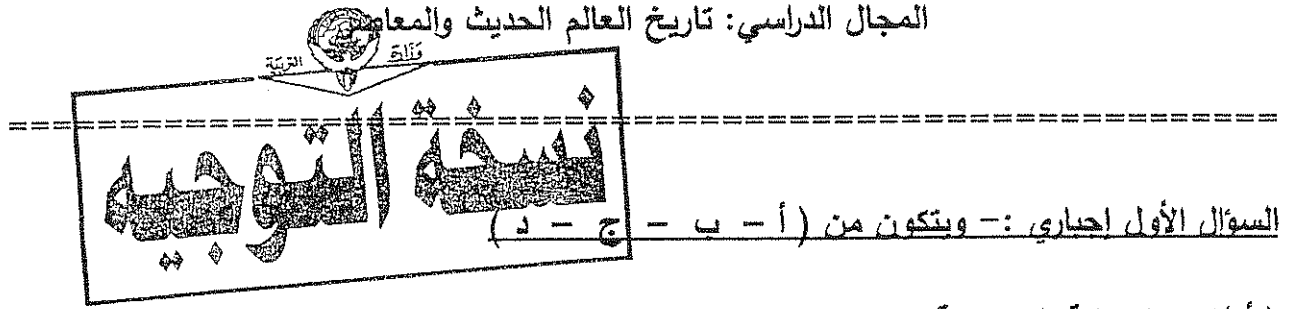
( 8 )

# نموذج الإجابة

دولة الكويت

وزارة التربية

اختبار نهاية الفترة الدراسية الرابعة للصف الثاني عشر / أدبي 2010 / 2011م



( أ ) اختر الإجابة الصحيحة من بين البدائل التي تلي كل عبارة مما يلي :- ( ثلاث درجات لكل نقطة 2/1 )

1. الأحداث التاريخية المرتبة بصورة زمنية صحيحة تحمل الحرف :-

- أ- مذبحه بوسطن - معركة سارا توجا - حرب السنين السابع - حفل شاي بوسطن .  
ب-معركة سارا توجا - حفل شاي بوسطن - حرب السنين السابع - مذبحه بوسطن .  
ج- حرب السنين السابع - مذبحه بوسطن - حفل شاي بوسطن - معركة سارا توجا .  
د- حفل شاي بوسطن - حرب السنين السابع - معركة سارا توجا - مذبحه بوسطن .

2. وقع أول صدام مسلح بين القوات الإنجليزية والأمريكية عند مدينة :- ص 80

- أ- لكسنجتون .  
ب- جيمس تاون .  
ج- كونيورد .  
د- فرجينيا .

3. " إننا هنا بإرادة الشعب ولن نبرح أماكننا إلا على أسنة الرماح " قائل العبارة :- ص 87

- أ - دانتون .  
ب - فولتير .  
ج - مير أبو .  
د - روبيسير .

تابع السؤال الأول إجباري :-

4. التكتل السياسي للدول التي شكلت الوفاق الودي يمثله الحرف :- ص 98

- أ- ( روسيا - فرنسا - بريطانيا ) .  
ب- ( فرنسا - إنجلترا - النمسا ) .  
ج- ( ألمانيا - إيطاليا - النمسا ) .  
د- ( روسيا - ألمانيا - النمسا ) .

5. أحد الأسباب التي أدت إلى ظهور الأنظمة الدكتاتورية في أوروبا هو:- ص 106  
أ- قيام عصبة الأمم .  
ب- نجاح الثورة البلشفية .  
ج- الأزمة الاقتصادية العالمية .  
د- نظام الحكم المطلق .

6. الدول الأوروبية التي سعت إلى إنشاء تنظيم دولي جديد بعد الحرب العالمية الثانية تحمل الحرف :-

- أ- ( الولايات المتحدة الأمريكية - فرنسا - بريطانيا ) .  
ب- ( الولايات المتحدة الأمريكية - بريطانيا - الاتحاد السوفيتي ) . ص 116  
ج- ( الولايات المتحدة الأمريكية - فرنسا - الاتحاد السوفيتي ) .  
د- ( الولايات المتحدة الأمريكية - الاتحاد السوفيتي - إيطاليا ) .  
ب ) أكمل العبارات التالية بما يناسبها :- ( أربع درجات لكل نقطة 2/1 د )

1- القائد الروسي الذي احتل مدينة برلين عام 1945م اسمه زوكوف . ص 112

2- جماعة أخذت على عاتقها تنظيم المعارضة ومقاومة القوانين سيئة السمعة أسماها أبناء الحرية . ص 78

3- إعلان أصدره ملوك أوروبا لإنقاذ الملكية الفرنسية من الثورة الفرنسية اسمه بلنتر . ص 90

4- معاهدة أجبرت فيها النمسا بعد هزيمتها عام 1797م أمام نابليون على إعطاء فرنسا مكاسب كبيرة اسمها كاميو فروميو . ص 92

5- مدينة اغتيل فيها ولي عهد النمسا عام 1914م اسمها سراييفو . ص 100

6- نجح البريطانيون من إلحاق الهزيمة بالقوات الألمانية والإيطالية في معركة العلمين عام 1942م . ص 111

تابع السؤال الأول ( إجباري )

7- قائد النظام الديكتاتوري الذي ظهر في تركيا بعد الحرب العالمية الأولى اسمه مصطفى كمال أتاتورك . ص 108

8- الرمز ( who ) هو اختصار لمنظمة عالمية اسمها منظمة الصحة العالمية . ص 118

ج - لاحظ خريطة العالم المرفقة ثم نفذ المطلوب منها:- ( ثلاث درجات لكل نقطة 2/1 )

- انسب الأرقام على الخريطة إلى العبارة المناسبة لها :-

- دولة يوجد بها مقر محكمة العدل الدولية يمثلها الرقم ( 6 ) . ص 117
- دولة وقعت فيها هدنة 1918م لإنهاء الحرب العالمية الأولى يمثلها الرقم ( 4 ) . ص 102
- دولة تعرضت لكارثة اقتصادية عام 1929م يمثلها الرقم ( 1 ) . ص 105
- دولة ظلت مستعمراتها تنافس الإنجليز في أمريكا بعد حرب السنين السبع يمثلها الرقم ( 3 ) . ص 77
- دولة أعلنت الحرب على ألمانيا بعد انتهاكها حياد البلجيك 1914م يمثلها الرقم ( 2 ) . ص 100
- دولة لم تستسلم في الحرب العالمية الثانية إلا بعد إلقاء قنبلتين ذريتين على أراضيها ، الرقم ( 7 ) . ص 112

د ( أقرأ الفقرة التالية ثم استخراج منها ما هو مطلوب في الأسئلة التي تليها :- ( ثلاث درجات لكل نقطة 2/1 )

1- الفكرة الرئيسية للنص .

أي فكرة يكتبها الطالب يراها المصحح مناسبة .

2- أحد أسباب انقسام العالم سياسيا في القرن التاسع عشر الميلادي .

بروز النزعة القومية ، تصادم الأيدلوجيات - ظهور الأحلاف والتكتلات . ص 97

3- دليل على توتر العلاقة بين دول أوروبا قبيل الحرب العالمية الأولى .

تغير موازين الأحلاف وانقسام أوروبا إلى مجموعتين متنافستين متسلحتين . ص 97

4- نتيجة اقتصادية من نتائج الحرب العالمية الثانية .

تحويل دول أوروبا إلى دول مستوردة بعد أن كانت دول مصدرة بسبب النفقات الباهظة للحرب . ص 114

5- أسم لمنظمة عالمية ظهرت في القرن العشرين .

عصبة الأمم . ص 104

6- هدف لمنظمة الأمم المتحدة .

أن تكون أداة للتنسيق بين أعمال الدول والمنظمات الأخرى . ص 116

السؤال الثاني:- ( اختياري ) ويتكون من ( أ - ب - ج )

( أ ) علل لما يأتي :- ( أربع درجات لكل سؤال درجة )

1- تلعب الثورة الفرنسية في العالم بالنموذج الشامل للثورة . ص 83 (نقطتين)  
\* أعطت مفاهيم جديدة للعالم ، ووضعت في حيز التنفيذ مبادئ عامة كانت قبلها مجرد نظريات .  
\* شمل التغيير جميع مناحي الحياة الفرنسية ، وامتد التغيير إلى أوروبا ووصل إلى جميع أنحاء العالم .

2- توقيع بريطانيا الإتفاق الودي مع فرنسا عام 1904م . ص 98  
\* لشعورها بالخطر من تقدم ألمانيا الصناعي والإقتصادي ونمو قوتها البحرية مما يهدد سيادتها .

3- الخلاف بين الملك جيمس الثاني والبرلمان الإنجليزي . ص 73 ( لكل نقطة 2/1 )  
\* بسبب تبني الملك سياسة ذات ثلاثة عناصر هي الكاثوليكية ، والحكم المطلق ، والتعاون مع لويس الرابع عشر ملك فرنسا والتي كانت تلقي اعتراضا شديدا داخل إنجلترا .  
\* قيام الملك جيمس بتعديل قانون يسمح للكاثوليك وغيرهم بتولي الوظائف العامة .

4- إعتبار القارة الأوربية محور العلاقات الدولية في بداية القرن العشرين . ص 97 ( يكتفى بنقطتين لكل نقطة 2/1 )  
\* كانت مركز الثورة الصناعية . \* النفوذ الإستعماري في جميع القارات .  
\* وفرة الموارد والإمكانات الإقتصادية . \* نشوء الإمبراطوريات الكبرى .

( ب ) عرف المفاهيم التالية :- ( ثلاث درجات لكل مفهوم درجة )

1- الأيديولوجية : نسق من الآراء والأفكار السياسية والقانونية والدينية والفلسفية . ص 97

2- السوفيت : المجالس الشيوعية المحلية التي أسسها الحزب الشيوعي . ص 106

3- علاقات دولية : الإتصالات بين الدول وبين المنظمات الدولية في جميع المجالات . ص 97

( ج ) وازن بين أثر حرب السنين السبع على كلا من :- ( درجتين )

سكان المستعمرات الإنجليزية ص 78	إنجلترا ص 77
* شعورهم بقوتهم و بروز شخصيات قيادية امثال جورج واشنطن . * التعاون فيما بينهم وشعورهم أنهم كيان واحد . * زوال التهديد الخارجي من قبل الفرنسيين نحو المستعمرات الأمريكية . * فتح الباب أمام الأمريكيين للتوسع نحو الغرب دون حدود أو قيود . ( درجة / يكتفى بنقطتين 2/1 × 2 = 1 )	* حصولها على جميع المستعمرات الفرنسية في أمريكا الشمالية، فأصبحت صاحبة السيادة على المستعمرات الأمريكية . * خروجها وهي تعاني من أزمة مالية طاحنة نتيجة لنفقات الحرب والمصروفات العسكرية مما أدى لفرض ضرائب جديدة على المستعمرات لتغطية النفقات . ( درجة )



السؤال الثالث اختياري يتكون من ( أ - ب - ج )

( أ ) اكمل الجدول التالي:- ( أربع درجات )

وجه المقارنة	الشيوعية ص 106	النازية ص 107
المؤسس	لينين ( 2/1 درجة )	هتلر ( 2/1 درجة )
سنة التأسيس	1917م ( 2/1 درجة )	1920م ( 2/1 درجة )
مبادئ النظام	<p>1- سيطرة الدولة على جميع مصادر الثروة ووسائل الإنتاج .</p> <p>2- إلغاء الملكية الخاصة وإشراف الدولة على التخطيط الإقتصادي .</p> <p>3- تحقيق العدالة الإجتماعية بين أفراد الشعب ومحو الفوارق بين القوميات في روسيا .</p> <p>يكتفى بنقطتين لكل نقطة نصف درجة</p>	<p>1- تفوق العنصر الجرماني على جميع العناصر البشرية .</p> <p>2- قيام ألمانيا الكبرى التي تضم كل الألمان .</p> <p>3- إمتلاك الدولة للشركات الإحتكارية .</p> <p>4- إلغاء معاهدة فرساي .</p> <p>5- إستعادة المستعمرات الألمانية .</p> <p>يكتفى بنقطتين لكل نقطة نصف درجة</p>

( ب ) ما أوجه الشبه بين كلا من :- ( ثلاث درجات / لكل سؤال درجة ونصف )

1- إعلان حقوق الإنسان الإنجليزي - وإعلان حقوق المواطن الفرنسي . ص 74 - 88

\* لإعقوبة بدون قانون ولا يحق اعتقال مواطن دون محاكمة فالمتهم بريئ حتى تثبت إدانته .

\* الجيش لخدمة الشعب وليس الملك ، ولا يحق للملك إعلان الحرب دون موافقة الشعب أو البرلمان .

\* الناس أحرار ومتساوون في الحقوق والواجبات وهدف الحكومة الحفاظ عليها ، وكذلك للبرلمان الحق في التعبير عن آرائهم بحرية .

2- ( روسو - جون لوك ) كمفكرين أثرا في قيام الثورتين الإنجليزية والفرنسية . ص 76 - 85

كلاهما كانت مبادئهما وأفكارهما تنص على أن السيادة للشعب وأن كل فرد له حقوقه في الحياة والحرية والتملك على أساس المساواة المطلقة في المجتمع ، وأن على الحكومات والتي تستمد قوتها من الشعب الذي يفوض السلطة للحاكم بشروط معينة حماية هذه الحقوق ، وفي حال فشل الحكومة القيام بمهمتها فإن من حق الشعب الثورة وطرد الحكومة أو الملك والذي يصبح حاكما غير شرعي .

ج أكتب وظيفة كلا من الوكالات العالمية المتخصصة في الجدول الرفق :- ( درجتين / ص 118 )

البنك الدولي للتنمية والتعمير	منظمة العمل الدولية
منح قروض لمساعدة مختلف الأقطار في تنفيذ مشاريعها كالسدود ومحطات الطاقة الكهربائية والسكك الحديدية . درجة	تساعد في تحسين ظروف العمل والمعيشة في أنحاء العالم . درجة

السؤال الرابع: ( اختياري ) ويتكون من ( أ - ب - ج )

( أ ) ما أوجه الاختلاف بين كلا من :- ( أربع درجات / لكل سؤال درجتين )

- 1- ( الطبقة الممتازة - والطبقة العامة ) في المجتمع الفرنسي قبل الثورة . ص 85  
\* الطبقة الممتازة كانت تمثل 1% من مجمع الشعب الفرنسي وتشمل الطبقة الأرستقراطية الغنية ورجال الدين حيث تمتعوا بجميع الحقوق والمزايا وتولي المناصب العليا في الدولة والجيش وليس عليهم واجبات .  
\* أما الطبقة العامة والتي تمثل 99% من المجتمع الفرنسي وتشمل عامة الشعب من الزراعة والصناع وصغار التجار فقد عانت من كل أنواع الظلم وفرض جميع أنواع الضرائب واستبعدت من جميع الوظائف العليا في الدولة مما جعل هذه الطبقة تعيش في بؤس وشقاء شديدين .
- 2- مجلس الأمن الدولي - الجمعية العامة من حيث عدد الأعضاء والصلاحيات . ص 117  
\* بالنسبة لمجلس الأمن فيتألف من 15 عضوا خمسة دائمون ، وعشرة ينتخبون كل سنتين ، وهو صاحب السلطة الفعلية في المنظمة ومن صلاحياته استعمال القوة المسلحة للمحافظة على السلام والأمن في العالم ، بالإضافة لوجود حق الفيتو والذي يتمتع بها الأعضاء الدائمين .  
\* أما الجمعية العامة فتتألف من مندوبين من جميع الدول الأعضاء وأعضاء الأجهزة الأخرى ومن صلاحياتها انه عند طرح أي مشكلة تستطيع الجمعية التصويت بأكثرية الثلثين على توصيات ترفعها إلى مجلس الأمن .

( ب ) ماذا يحدث لو :- ( درجتين / لكل سؤال درجة )

- 1- لم تهاجم الغواصات الألمانية ميناء بيرهاربر الأمريكي .  
أي إجابة يكتبها الطالب يراها المصحح صحيحة . ( مثلا لما دخلت الولايات المتحدة الحرب إلى جانب الحلفاء ولما تغيرت موازين الحرب ، وممكن أن تكون نتيجة الحرب مختلفة ، ..... الخ )
- 2- لم تنضم الولايات المتحدة كدولة عضوه في منظمة الأمم المتحدة .  
أي إجابة يكتبها الطالب يراها المصحح صحيحة ( مثلا لفشلت المنظمة مثل عصبة الأمم ولم تستمر للوقت الحالي ، لتعرض العالم لمشاكل كبيرة ممكن أن تكون قد أدت لحرب عالمية ثالثة ..... الخ ) .

( ج ) نفذ المطلوب بين القوسين :- ( ثلاث درجات / لكل سؤال درجة ونصف )

1- الفاشية في إيطاليا . ( اسباب الظهور ) ص 108 / يكتفى بثلاث أسباب

- \* عجز الحكومات الضعيفة التي تعاقبت على إيطاليا في معالجة آثار الأزمة الاقتصادية بعد الحرب الأولى .
- \* انتشار الأفكار اليسارية والشيوعية والحركات الثورية التي تأثرت بالحركة الشيوعية في روسيا .
- \* محاولة العمال الإستيلاء على السلطة فظهرت في المقابل حركة يمينية متطرفة قادها الحزب الفاشي اليميني .
- \* وصول موسوليني إلى الحكم وإقامة النظام الفاشي بعد نجاح اتباعه في الزحف على روما .

2- الحرب العالمية الثانية . ( نتائجها السياسية ) ص 114 / يكتفى بثلاث أسباب

- تغير خريطة أوروبا السياسية ، وتعديل الكثير من الحدود / تراجع مكانة بريطانيا وفرنسا إلى دول من الدرجة الثانية انتهت اليكتاتوريات في إيطاليا وألمانيا واليابان . / قيام أنظمة شيوعية في دول أوروبا الشرقية / انقسام ألمانيا إلى قسمين شرقي شيوعي وغربي رأسمالي / فقدت إيطاليا كل مستعمراتها / دمرت أراضي اليابان وفقدت كل ممتلكاتها التي حصلت عليها منذ نهاية ق 20 / ظهور الولايات المتحدة الأمريكية والإتحاد السوفيتي كأقوى دولتين في العالم .

( أ ) دلل على صحة العبارات التالية :-

1- يعتبر دستور الولايات المتحدة والذي صدر عام 1789م من أكثر دساتير العالم تميزا ووضوحا . ص 82 ( درجتين )

- لانه امتاز بالفصل التام بين السلطات الثلاث ( التنفيذية / القضائية / التشريعية ) . يكتفى بأربع نقاط
- أكد على حق الفرد المطلق في الحرية والمساواة والإعتقاد وحرية الصحافة .
- أكد على عدم تعرض السلطات المحلية مع السلطات الفدرالية .
- أكد على أن الدستور وضع لحماية حقوق الناس والمحافظة عليها .
- أكد على مرونة الدستور وقابليته للتغيير والتعديل .

2- لعبت ماري أنطوانيت دورا كبيرا في إضعاف مكانة لويس السادس عشر الشعبية . ص 84 ( درجة ) نفطتين

- حيث كان لها دور في توجيه سياسة البلاد من خلال إشراكها في المؤتمرات التي تعين وتعزل الوزراء
- عدم إحساسها بما يعانيه الشعب الفرنسي من آثار المجاعة .

3- إن نتائج الحرب العالمية الأولى وما تلاها من أحداث كانت هي نفسها أسباب قيام الحرب العالمية الثانية . ص 109

- 1- معاهدات الصلح ذات الشروط المذلة والتي فرضتها الدول المنتصرة عام 1919م على الدول المهزومة حيث فقدت على إثرها أجزاء كبيرة من أراضيها ، فأخذت تعبر عن سخطها على هذه القيود . ( درجتان )
- 2- قيام الأنظمة الديكتاتورية في ألمانيا وإيطاليا واليابان وسعيها للتوسع الإستعماري .
- 3- التوتر الدولي حيث مكن كلا من إيطاليا وألمانيا في بناء جيوش قوية واستغلال ضعف الأنظمة الديمقراطية في تحقيق أهدافها التوسعية ( إحتلال موسوليني أثيوبيا ، إحتلال هتلر منطقة الراين ، وضم النمسا لألمانيا ) .
- 4- الأزمة الاقتصادية العالمية التي دفعت بعض الأنظمة للتوسع خارج أوروبا وعدم تمكن دول أوروبا للتصدي للاطماع النازية والفاشية .

5- سياسة هتلر التوسعية . ( درجتين / يكتفى بأربع نقاط ) ص 109 ب ) فرق بين كلا من :- ص 101 / درجتين - لكل معركة درجة

معركة المارن الأولى	معركة المارن الثانية
حدثت عام 1914 م وفيها أوقف الحلفاء زحف الألمان على باريس .	حدثت عام 1918م حيث شن الحلفاء هجوما معاكسا أدى إلى إنزال الهزيمة بالألمان .

( ج ) فند العبارة التالية :- درجتين / ص 83

"لم يكن للثورة الأمريكية أي علاقة بالثورة الفرنسية " ص 83

الثورة الأمريكية كانت السبب المباشر في قيام الثورة الفرنسية لأن فرنسا أنفقت أموالا طائلة في حربها ضد بريطانيا في العالم الجديد، وهي تساند الثوار وتساعدهم وتحارب إلى جانبهم مما أرق ميزانية الدولة الفرنسية وحملها الكثير من الديون فكانت سببا في حدوث الأزمة المالية في عهد الملك الفرنسي لويس السادس عشر .