



العام الدراسي  
٢٠١٥-٢٠١٦

السؤال الأول : ويتكون من ( أ - ب - ج - د )( أ ) اختر الإكمال المناسب من بين البدائل التي تلي كل عبارة بوضع خط تحتها :

١- الترتيب الصحيح لرحلات الكشوف الجغرافية يمثله في الجدول التالي الحرف :-

م	( أ )	( ب )	( ج )	( د )
١	الأسبانية	البرتغالية	الفرنسية	الإنجليزية
٢	البرتغالية	الأسبانية	الإنجليزية	الفرنسية
٣	الفرنسية	الإنجليزية	الأسبانية	البرتغالية
٤	الإنجليزية	الفرنسية	البرتغالية	الأسبانية

٢- عدد الحجج التي أطلقها مارتن لوثر ضد أوضاع الكنيسة بلغت :-


( أ ) ٦٥ حجة ( ب ) ٧٥ حجة ( ج ) ٨٥ حجة ( د ) ٩٥ حجة

٣- الدافع الاقتصادي لقيام دول أوروبا بحركة الكشوف الجغرافية هو الرغبة في :-

( أ ) نشر المسيحية . ( ب ) السيطرة ونشر مبادئها .

( ج ) زيادة المعلومات الجغرافية . ( د ) تخطي الوساطة التجارية الإسلامية .

٤- الفترة الزمنية للعصور الوسطى يمثلها على الخط الزمني الحرف :-



٥- الأرقام الدالة على أسماء ملوك ساهموا في حركة الكشوف الجغرافية البرتغال يمثلها في الجدول المقابل الحرف :-

الملك	م
جون الأول	١
فرانسيس الأول	٢
جون الثاني	٣
مانويل الأول	٤
هنري السابع	٥

أ - ( ٤ ، ٢ ، ١ )

ب - ( ٤ ، ٣ ، ١ )

ج - ( ٥ ، ٣ ، ٢ )

د - ( ٥ ، ٤ ، ٢ )

تابع / السؤال الأول

( ب ) أمامك في الجدول التالي مجموعة من الأحداث التاريخية ، اذكر اسم صاحب الإنجاز :

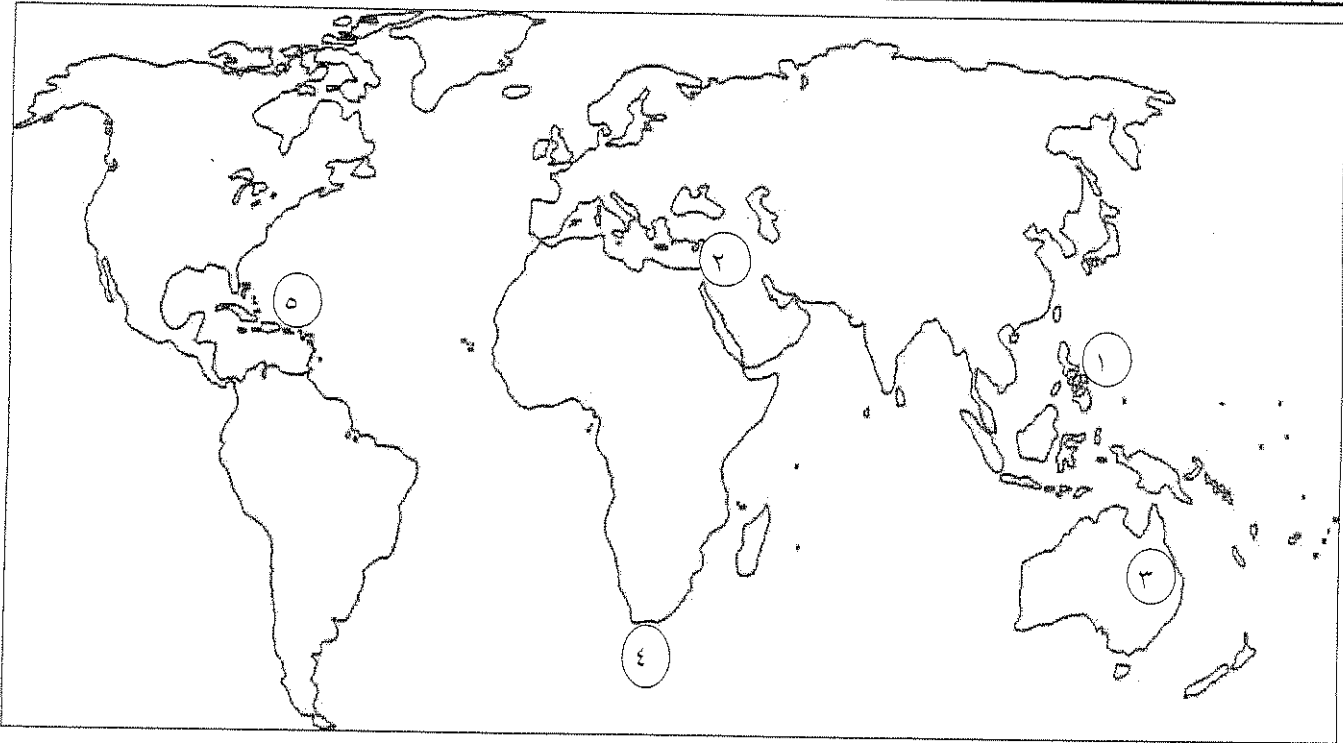
صاحب الإنجاز	الحدث التاريخي
	١- عالم ألماني اخترع أحرف الطباعة المعدنية .
	٢- شاعر إيطالي امتاز بالقدرة الفائقة على الوصف ومن أعماله الكوميديا الإلهية .
	٣- رائد الحركة الفنية في مجال التصوير ومن أعماله لوحة الموناليزا .
	٤- ملكة إسبانية مولت رحلة كريستوفر كولومبس إلى الهند .

( ج ) أمامك مجموعة من المناطق التي اكتشفها الأوروبيون ، صنفها حسب الجدول :

( جزر الأنتيل - جزيرة نيوفونلند - جزر ماديرا - كندا - مضيق هُديسن )

جون كابوت	جاك كارتية	كريستوفر كولومبس	الأمير هنري الملاح


( د ) لاحظ خريطة العالم جيدا ثم استعن بها في الإجابة :

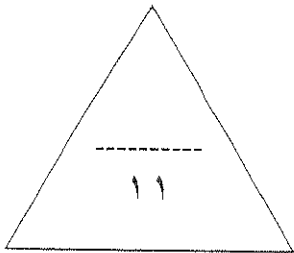


- مضيق رأس الرجاء الصالح يمثله الرقم ( )

- جزر الفلبين يمثله الرقم ( )

- منطقة وصل إليها الرحالة جيمس كوك يمثله الرقم ( )

- ظل بالشكل  جزيرة جرينلاند .



السؤال الثاني : ويتكون من ( أ - ب )

( أ ) ما تفسيرك لما يلي :

١- تعتبر البرتغال أول الدول الأوروبية في مجال حركة الكشوف الجغرافية .

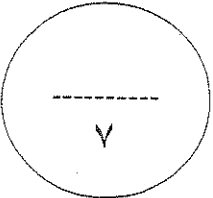
٢- قيام حركة الإصلاح الديني .

٣- سبقت إيطاليا الدول الأوروبية في حركة النهضة .

( ب ) دلل على صحة العبارات التالية :

١- تحقق للمدن الأوروبية النمو والازدهار في عصر النهضة .

٢- واجه الرحالة كريستوفر كولومبس صعوبات في تمويل مشروع رحلاته .



السؤال الرابع : و يتكون من ( أ - ب )

( أ ) أقرأ الفقرة التالية ثم أجب عما يليها من أسئلة :

( مثلت حركة الكشوف الجغرافية التي قامت بها الدول الأوروبية اعتبارا من نهاية القرن الخامس عشر الميلادي حدثا بارزا في تاريخ العالم ، فقد رفعت الدول المكتشفة العديد من الشعارات لتغطية هدفها الأساسي وهو الوصول إلى الهند . فبدأت دولة البرتغال تلك الحملات مستعينة باختراعهم لسفن الكرافيل وتلتها بقية الدول في محاولات من جهة الشرق وجهة الغرب ، عابرين في طريقهم البحار والقارات حتى حققوا أهدافهم واكتشفوا مناطق جديدة ساعدت على تطور خريطة العالم . )

١- ضع عنوانا مناسباً للفقرة السابقة .

٢- عرف ما تحته خط .

٣- ما دور الأمير هنري الملاح في مجال حركة الكشوف الجغرافية ؟

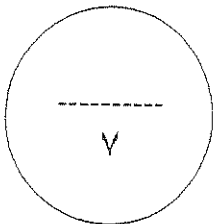
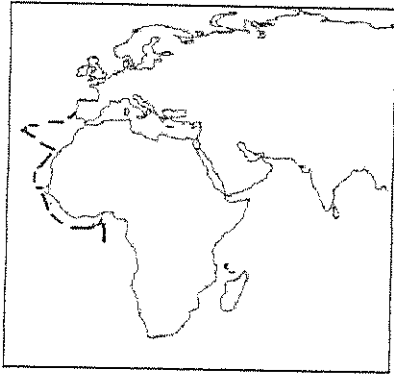
٤- لاحظ الخريطة أمامك ثم أجب :

اذكر أسماء المناطق التي وصلت إليها بعثة الأمير هنري الملاح .

( ب ) عرف كل مما يلي :

١- البرجوازية .

٢- الإنسانيين .



انتهت الأسئلة ونتمنى لكم التوفيق ،،،

اختبار الفترة الأولىالصف الثانى عشر أدبى العام الدراسى 2014 / 2015السؤال الاول : يتكون من ( أ - ب - ج - د )( اكتب المدلول التاريخي المناسب لكل عبارة مما يأتي :

- 1- ( نظام ساد فى اوروبا فى العصور الوسطى وادى الى تقسيم المجتمع الاوروبى الى مجتمع طبقي )
- 2- ( ممر مائى يقع عند الطرف الجنوبى لامريكا الجنوبية ويفصل القاره عن جزيرة ارض النار )
- 3- ( سفن عملاقة تتميز بكبر حمولتها واستعمالها لعدد كبير من الاشرعة وقدرة على المغامرة )

( ب ) - أكمل العبارات التالية بما يناسبها :

- 1- الطبقة التى تحالف مع الملوك لتحطيم النظام الإقطاعى فى اوروبا اواخر العصور الوسطى اسمها .....
- 2- البحار الايطالى الذى اكتشف جزر الانتيل الكبرى والصغرى واطلق عليها سان سلفادور اسمه .....
- 3- الكنيسة الالمانية التى علق عليها مارتن لوثر حججه عام 1517 م تسمى .....

( ج ) اختر البديل المناسب من بين البدائل التى تلى كل عبارة1- اول من استخدم طريق رأس الرجاء الصالح للوصول الى الهند

- أ - جون ديفيز      ب - بارثلميو دياز      ج - فاسكو دى جاما      د - ماجلان

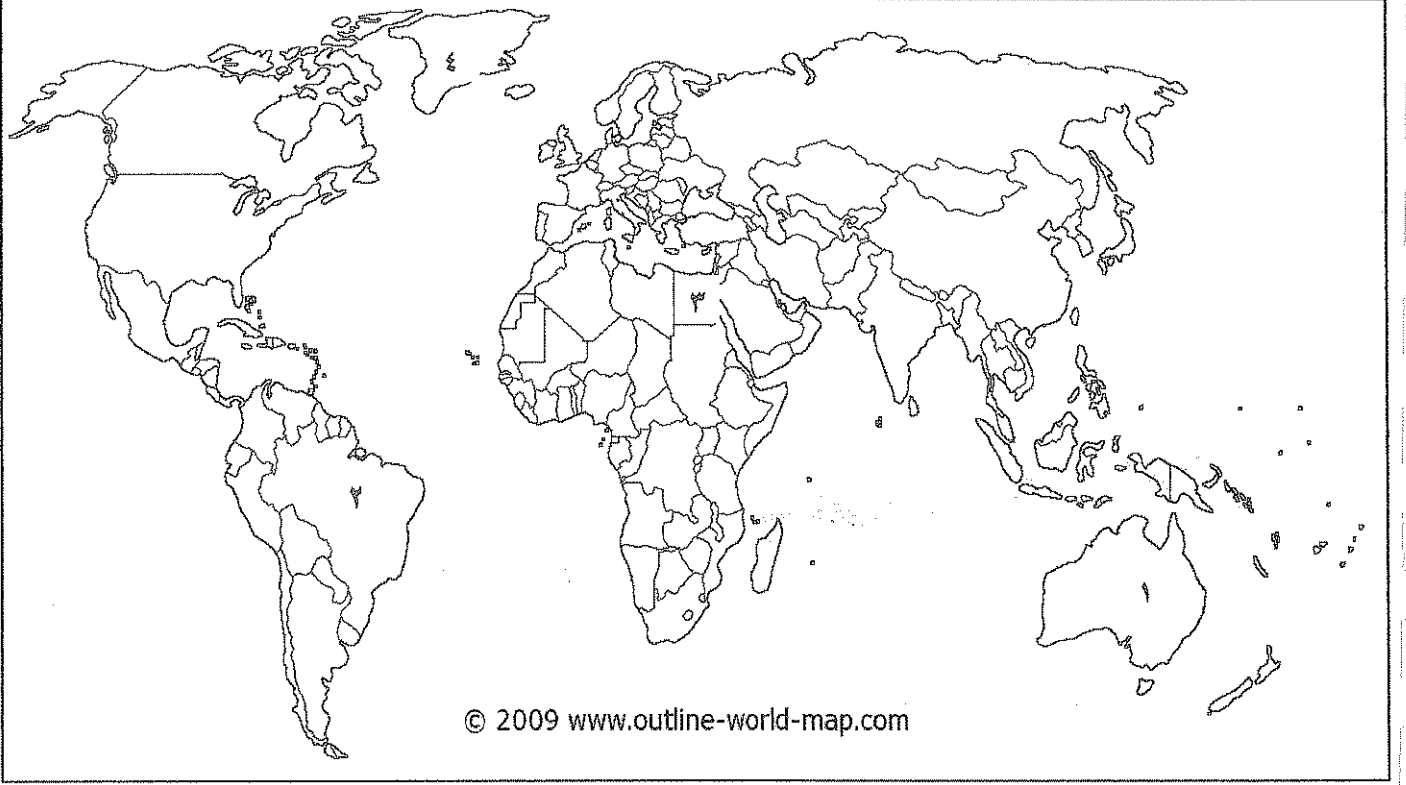
2- فتحت القسطنطينية عاصمة الامبراطورية البيزنطية على العثمانيين عام

- أ - 1476 م      ب - 1453 م      ج - 1615      د - 1620

3- الميناء الذى خرج منه البحار جون كابوت برحلته عام 1496 م اسمه

- أ - بريستول      ب - سان لوكار      ج - لشبونة      د - سبتة

د) اكتب مدلولات ارقام الخريطة في مكان الاجابة المخصص :-



١- الدولة التي اكتشفها المكتشف الايطالى امريكو فسبوتشى تحمل الرقم ( ..... )

٢- احد مراكز الحضارة العربية الاسلامية التي ساهمت في قيام النهضة الاوربية يحمل الرقم ( ..... )

١١

السؤال الثاني: يتكون من ( أ - ب - ج )

( د ) دتل على صحة العبارات التالية :

1. الدافع الاقتصادي كان من اهم دوافع قيام حركة الكشوف الجغرافيه

\* -

\* -

\* -

- بذل المفكرون الأوربيون جهودا كبيرة في إحياء الدراسات اليونانية القديمة

\* -

\* -

\* -

( د ) عرف ما يأتي

- الكشوف الجغرافيه

\* -

2- الكومونات

\* -

( د ) اقرأ الفقرة التالية ثم اجب عن الاسئلة التي تليها

عرض كريستوفر كولومبس مشروعه على ملكة اسبانيا فرفضته في البداية ثم عادت ووافقت عليه ومولته عام 1492م

في ضوء هذه العبارة اجب عن الاسئلة الاتيه

1- ما اسم ملكة اسبانيا المقصودة بالعبارة

\* -

تفسر رفض الملكة مشروع كولومبس في البداية

\* -



السؤال الثالث: يتكون من ( أ - ب - ج )

أ - اكتب فيما يلي

( 1 ) - أهم الآراء التي تضمنها كتاب الأمير لمكيافلي

-\*

-\*

2 - عوامل قيام النهضة الأوروبية

-\*

-\*

3 - نمو الروح القومية واثرها في قيام حركة الكشوف الجغرافية

-\*

-\*

ب - ما النتائج التي ترتبت على كل مما يأتي

( 1 ) - رحلات جيمس كوك الثلاث التي أنجزها خلال القرن الثامن عشر

-\*

-\*

( 2 ) - اختراع حنا جوتنبرج لأحرف الطباعة المعدنية

-\*

-\*

ج - اكتب فقرة مترابطة مستعيناً بالكلمات التالية :

( جاك كارتيه - الملك فرانسيس الأول - سانت مالو - نهر سانت لورنس )

-\*

-\*

أسؤال الرابع: يتكون من ( أ - ب - ج )

أ - بم تفسر

1- قيام حركة الإصلاح الدينى فى اوروبا على يد مارتن لوثر

2- اسبقية البرتغال فى مجال حركة الكشوف الجغرافيه

3- للحضارة العربية الاسلاميه دور عظيم فى قيام النهضة الاوروبيه

ب - فند العبارات الاتيه

1- لم يطرأ اى تغيير على الحركة الفنية فى عصر النهضة

2- لم تبدى الحركة الادبيه فى عصر النهضة اهتماماً بالانسان

ج - فرق بين كل من :

أهم المناطق التى اكتشفها مارتن فروبشير

أهم المناطق التى اكتشفها هنرى هديسون



وزارة التربية  
منطقة الجهراء التعليمية  
التوجيه الفني للاجتماعيات

امتحان الفترة الدراسية الاولى  
الصف الثاني عشر الادبي  
تاريخ العالم الحديث والمعاصر

الفصل الدراسي :- الاول  
العام الدراسي :- ٢٠١٤/١٥ م  
عدد الصفحات :- ( ٥ )

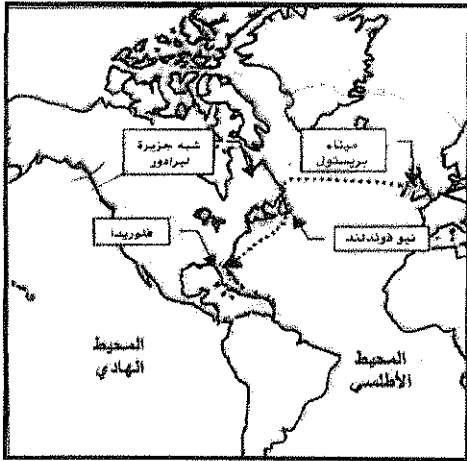
اجب عن جميع الاسئلة التالية

السؤال الأول يتكون من ( أ ، ب ، ج ، د ، هـ )

[[ أ ]] أكمل العبارات التالية بما يناسبها

- (.....م.)  
(.....)  
(.....)  
(.....)

- ١- العام الميلادي الذي سقطت فيه القسطنطينية على يد العثمانيين هو  
٢- القبائل التي اسقطت مدينة روما عام ٤٧٦ م تسمى  
٣- الشاعر العربي الذي تأثر به دانتي يسمى  
٤- المكتشف الذي قام بالرحلة التي تمثلها الخريطة التي أمامك يسمى



[[ ب ]] أكتب المفهوم الدال عليه التعريفات التالية

- ١:- (.....) لوحة رسمها ليوناردو دافنشي وموجوده حاليا في متحف اللوفر بباريس  
٢:- (.....) تحالفات تمت بين المدن الصغيرة في اوربا لمنحها الاستقلال والقوة السياسية  
٣:- (.....) كنيسة علق مارتن لوثر على بابها احتجاجه

[[ ج ]] اختر من المجموعة ( أ ) ما يناسبها من المجموعة ( ب ) بوضع الرقم المناسب :

الرقم	المجموعة (أ)	الرقم	المجموعة (ب)
١-	من رواد الحركة الفنية في مجال النحت		جاك كارتيه
٢-	من رواد النهضة الادبية شاعر ايطالي		فيليو برونيلسكي
٣-	المستكشف الفرنسي الذي أسس مدينة كويبك		بوكاشيو
٤-	من رواد الحركة الفنية في مجال العمارة		رفائيل
			مايكل انجلو

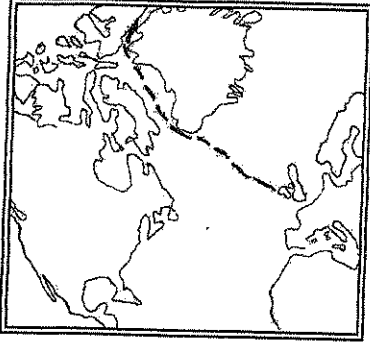
**[[ د ]]** اختر البديل المناسب من بين البدائل التي تلي كل عبارة فيما يلي :

١:- مدينة مغربية بدأ الأمير هنري الملاح رحلته اليها تسمى

( الرأس الأخضر - طنجة - لشبونة - سبتة )


٢:- الجزيرة التي يفصل مضيق ماجلان بينها وبين امريكا الجنوبية تسمى

( نيوفونلاند - ارض النار - شتلند - سان سلفادور )



٣:- الرحلة المبينة على الخريطة المقابلة قام بها الملاح

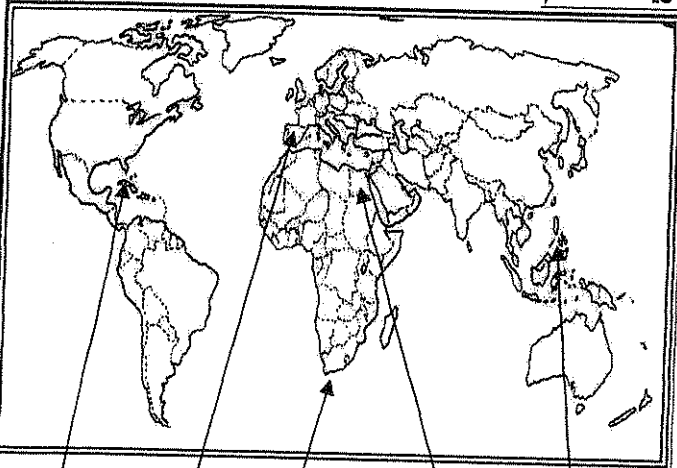
( جاك كارتية - جيمس كوك - جون ديفيز - مارتن فروبشير )



٤:- صاحب الفضل في الانجاز الذي تمثله الصورة المقابلة

( رفايل - دونالدلو - ليوناردو دافنشي - حنا جوتنبرج )

**[[ هـ ]]** ضع رقم كل عبارة مما يلي في المربع المناسب لها على خريطة العالم



١:- منطقة اطلق عليها اسم رأس العواصف

٢:- منطقة يعتبر كولمبس اول من وصل اليها

٣:- جزر قتل فيها الملاح ماجلان في صراعه مع السكان

الاصليين

٤:- دولة يرجع إليها الفضل في اكتشاف

جزر الهند الغربية

<input type="checkbox"/>	<input type="checkbox"/>	<input type="checkbox"/>	<input type="checkbox"/>	<input type="checkbox"/>
--------------------------	--------------------------	--------------------------	--------------------------	--------------------------

١١
----

**السؤال الرابع و يتكون من ( أ ، ب ، ج )**

**[[ أ ]] فند العبارات التالية**

١- كان المجتمع الأوربي في مرحلة العصور الوسطى مجتمعا متساويا في الحقوق والواجبات

- .....
- .....

٢- يدعي البعض انه لم يكن للحضارة العربية الإسلامية أي دور في قيام النهضة الأوروبية

- .....
- .....

**[[ ب ]] فرق طبقا للجدول التالي :-**

الرحالة	مارتن فروبشير	فاسكو دي جاما
الاكتشافات	• .....	• - .....
	• .....	• .....

**[[ ج ]] :- أقرأ الفقرة التالية ثم اجب عن الاسئلة التي تليها**

(( لم تكن الحياة السياسية بمعزل عن التطورات الادبية والفنية والدينية خلال عصر النهضة حيث انتشرت كثير من الآراء السياسية على ايدي بعض اعلام النهضة الأوروبية ساهمت في رسم ملامح الحياة السياسية لعصر النهضة ومن اكثر هؤلاء شهرة نيقولا ماكيافيللي ))

١- اذكر اسم الكتاب الذي الفه نيقولا ماكيافيللي ونشر فيه آرائه السياسية ؟

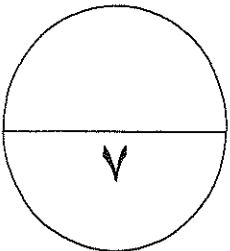
- .....

٢- عدد الآراء التي نادي بها ؟

- .....
- .....

٣- مارأيك بمبدأ (الغاية تبرر الوسيلة )

- .....



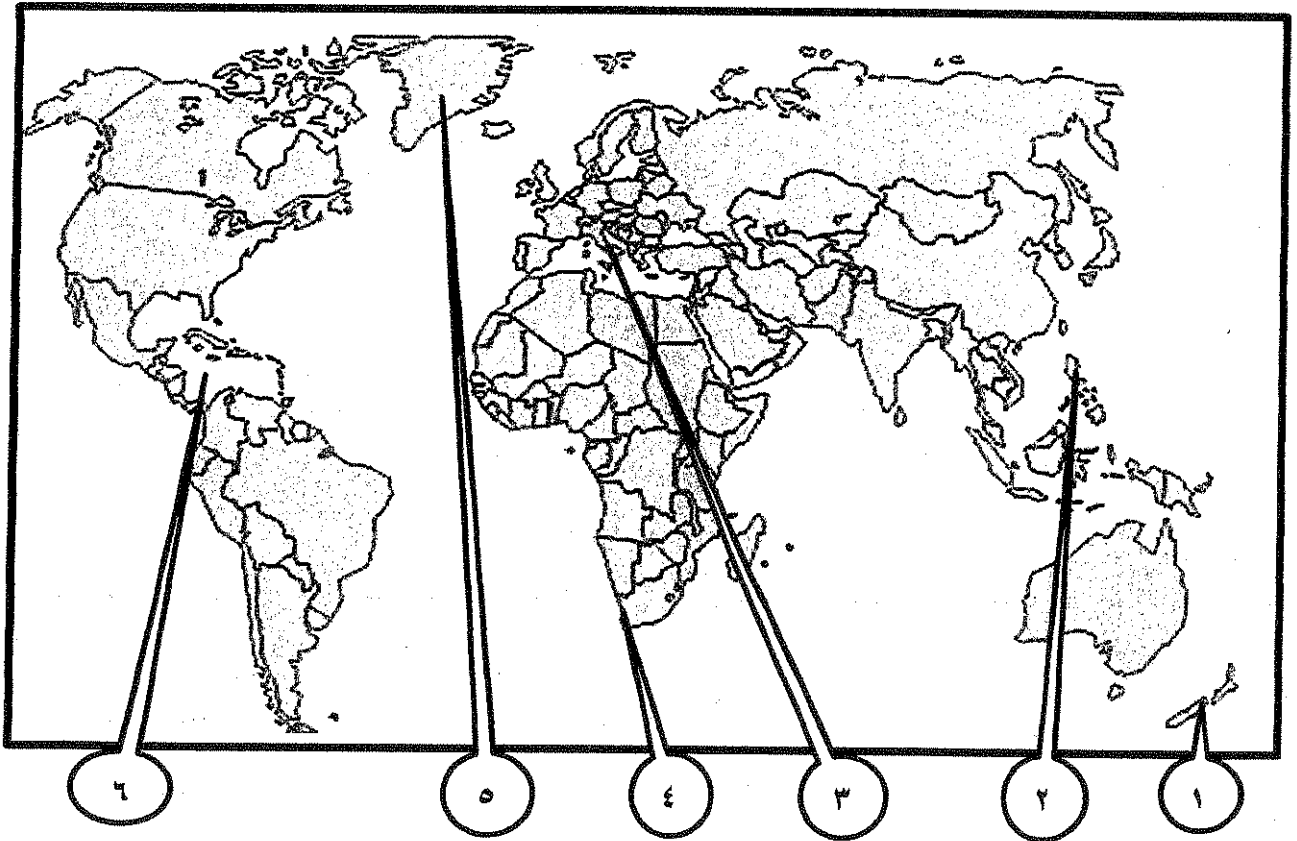
مع تمنياتنا للجميع بالتوفيق

السؤال الأول : يتكون من ( أ - ب )

( أ ) أكمل العبارات التالية بما يناسبها :

- ١- أول ملاح استخدم رأس الرجاء الصالح اسمه .....
- ٢- أبرز رواد الحركة الفنية في مجال العمارة اسمه .....
- ٣- مخترع أحرف الطباعة اسمه .....
- ٤- المدينة العملاقة التي تقع على مصب نهر هيدسون تسمى .....
- ٥- أطلق على السفينة التي تحطمت في رحلة كرسطوفر كولومبس اسم .....
- ٦- القصة التي تأثر فيها الأديب دانتي في كتابه الكوميديا الإلهية تسمى .....

( ب ) لاحظ خريطة العالم الصماء جيداً ثم نفذ المطلوب منك :



\*\*\* اختر الرقم الصحيح لكل مما يلي :

- البحر الكاريبي يحمل الرقم .....
- أولى الدول الأوروبية في النهضة تحمل الرقم .....
- ميناء سانت هيلينا يحمل الرقم .....
- جزيرة نيوزيلندا تحمل الرقم .....
- الدولة التي قتل فيها الملاح ماجلان تحمل الرقم .....



السؤال الثاني :- يتكون من ( أ - ب )

( أ ) دل على صحة العبارات التالية :

١- حققت الكشوف الجغرافية في عهد الملك جون الثاني نصراً عظيماً .

الدليل :

٢- مبادرة فرنسا في إنشاء إمبراطورية فرنسية في أمريكا الشمالية .

الدليل :

( ب ) علل لما يلي :

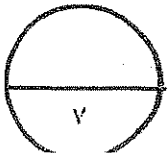
١- تفجر الطاقات الفنية لدى الفنانين في عصر النهضة الأوروبية .

٢- نمو المدن في عصر النهضة الأوروبية .

٣- قيام حركة الإصلاح الديني .

٤- تسمية الحكومة الإسبانية الفلبين بهذا الاسم .

٥- أسبقية البرتغال في حركة الكشوف الجغرافية .



السؤال الثالث :- يتكون من ( أ - ب - ج )

( أ ) دون رأيك بمقولة نيقولا مكيافيللي السياسية " الغاية تبرر الوسيلة " .

( ب ) نفذ المطلوب بين الأقواس :

( الحجج )

١- المصلح الديني مارتن لوثر .

( دوره في حركة الكشوف الجغرافية )

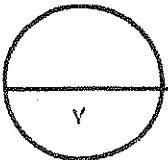
٢- الأمير هنري بن حنا .

( نتائج الرحلة )

٣- فاسكو دي جاما .

( ج ) فرق بين المصطلحين التاليين :

العصور الوسطى	النهضة الأوروبية
.....	.....
.....	.....
.....	.....
.....	.....





السؤال الرابع :- يتكون من ( أ - ب - ج )

( أ ) فرق بين نتائج الرحلات التالية :

النتائج	رحلات الملاحون
	١- أمريكو فسويبيشي
	٢- جون ديفيز

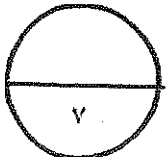
( ب ) عرف ما يلي :-

١- الحركة الإنسانية :

٢- المجاعة النقدية :

( ج ) أكمل الناقص في الجدول التالي :-

ارتباطات	السبب	النتيجة	الدليل
..... .....	- إشراف المسلمين على أهم المسطحات البحرية. - البراعة البحرية والتجارية للمسلمين .	سيطرت المسلمين على أهم الطرق التجارية البحرية	- الإشراف على الطريق البري في قارة آسيا . - الإشراف على الطرق المؤدية للهند والتي تربط المحيط الهندي بذراعي الخليج العربي وبحر الأحمر
إصرار كرسطوفر كولومبس على تنفيذ مشروعه	رغبته في الوصول إلى الهند	قام بأربع رحلات إلى الغرب حيث اكتشف جزر الهند الغربية وبعض أجزاء من أمريكا الوسطى	١- ..... ..... ٢- توجه لملك ومملكة إسبانيا لكنها رفضت لانشغالها بالحرب مع المسلمين . ٣- جدد طلبه لتمويل مشروعه بعد أن انتهت الحرب مع المسلمين وفعلاً وافقت ومولته عام ١٤٩٢ م .
براعة جيمس كوك البحرية	تطوعه في خدمة الأميرالية الإنجليزية	تم اختياره بواسطة الجمعية الملكية عام .....م	أنجز ثلاث رحلات استكشافية خلال القرن الثامن عشر الميلادي



انتهت الأسئلة

وزارة التربية منطقة العاصمة التعليمية التوجيه الفني للاجتماعيات	امتحان الفترة الدراسية الأولى الفصل الدراسي :- الأول العام الدراسي :- ٢٠١٣/٢٠١٢م	المجال :- تاريخ العالم الحديث والمعاصر الصف :- الثاني عشر الأدبي عدد الصفحات :- ( ٤ )
---	--	---

السؤال الأول: ويتكون من ( أ - ب - ج )

[[ أ ]] أضر الجديلي الصحيح من بين الجداول التي تسمى العبارات فيما يأتي :

١ :- الملاح الإنجليزي الذي تمكن من الوصول إلى جزر هاواي ووصل إلى المحيط المتجمد الشمالي اسمه :  
( جيمس كوك - جون كابون - فروبشير - ديفيز )

م	الشخصيات
١	دوناتلو
٢	روبرت بيري
٣	تشارلز ويكلز
٤	مايكل انجلو

٢ :- اسماء رواد الحركة الفنية في النهضة الأوروبية في الجدول المقابل يمثلهم الأرقام

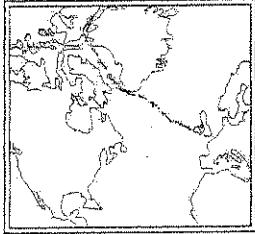
( ٢،١ - ٤،٢ - ٣،٢ - ٤،١ )

٣ :- عدد الحجج التي علقها مارتن لوثر على باب كنيسة وتبرج

( ٩٣ - ٩٤ - ٩٥ - ٩٦ )

٤ :- الرحلة المبينة على الخريطة المقابلة قام بها الملاح :

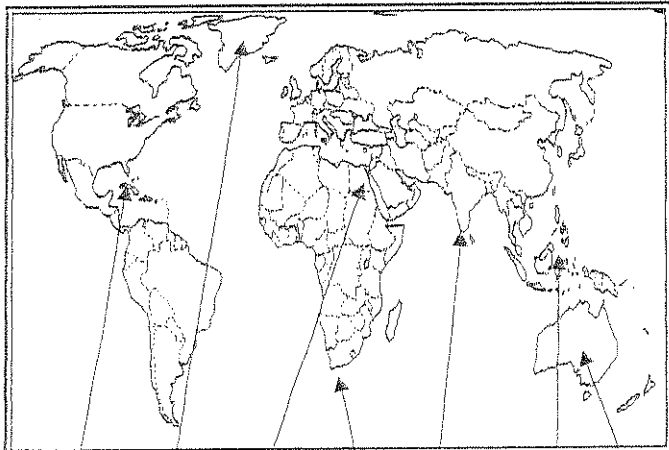
( هنري هيدسون - جيمس كوك - مارتن فروبشير - جون ديفيز )



[[ ب ]] أكمل العبارات التالية بما يناسبها :-

- ١ :- السفن العملاقة التي ظهرت مع حركة الكشوف الجغرافية تميزت بكبر حمولتها وعدد الأشرعة تسمى ( )
- ٢ :- احد اعظم شعراء ايطاليا ومن اهم اعماله رواية الحياة الجديدة اسمه ( )
- ٣ :- المكتشف الذي سمى العالم الجديد "امريكا" نسبة اليه اسمه ( )
- ٤ :- العام الميلادي الذي سقطت فيه مدينة القسطنطينية على يد الأتراك العثمانيين هو ( )

[[ ج ]] ضع رقم كل عبارة مما يلي في المربع المناسب لها على خريطة العالم



١ :- جزيرة اكتشفها الملاح مارتن فروبشير

٢ :- احد مراكز الحضارة العربية الإسلامية الى اوروبا

٣ :- منطقة اطلق عليها اسم راس العواصف

٤ :- منطقة قتل فيها الملاح ماجلان

٥ - كلكتا وصل اليها فاسكو دي جاما

٦ :- منطقة يعتبر كولمبس اول من وصل اليها

السؤال الثاني : ويتكون من ( أ - ب - ج )

[[ أ ]] : - لاحظ الصورة التي أمامك وهي لرحالة مشهور ، ثم أجب عن الأسئلة



١- اسم الرحالة هو

•

٢- المنطقة التي وصل إليها

•

٣- النتائج المترتبة على الرحلة

•

•

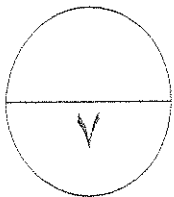
[[ ب ]] علل لما يأتي

نمو المدن الأوروبية في عصر النهضة

[[ ج ]] مادور كلا من

١- الفكرين الأوربيين في احياء الدراسات اليونانية القديمة

٢- هنري الملاح في حركة الكشوف الجغرافية



السؤال الثالث : ويتكون من ( أ - ب - ج )

[[ أ ]] :- عرف المفاهيم والمصطلحات التالية

١- التفويض الإلهي

٢- الكشوف الجغرافية :

٣- الكيمونات

[[ ب ]] قارن بين اكتشافات كل من وكما في الجدول

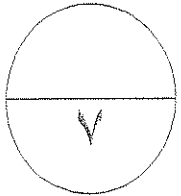
هارتس نروبشير	جون كابوت
•	•
•	•

[[ ج ]] اقرأ الفقرة التالية ثم استخراج منها ما هو مطلوب في الأسئلة التي تليها

بدأت العصور الوسطى منذ سقوط روما ، حيث عانت أوروبا خلال هذه الفترة من هيمنة الكنيسة الكاثوليكية روحيا وثقافيا على أوروبا ، إلا أنه ونتيجة لتوافر مجموعة من العوامل كانتقال الحضارة العربية الإسلامية وقيام المفكرين الأوروبيين بأحياء الدراسات اليونانية القديمة فقد شهدت أوروبا ملامح التغيير في مختلف نواحي الحياة وظهر ما يسمى بعصر النهضة والذي أدى لزيادة المعارف الجغرافية وتقدم الملاحة ، و نمو الروح القومية التي قيام حركة الكشوف الجغرافية والتي كان لها أثرا سلبية على العالم العربي بظهور حركة الاستعمار الأوروبي حيث فقدت المستعمرات القدرة على التحكم في مقدراتها الاقتصادية ، وتحطيم الأنشطة التجارية والصناعية بها . ومع ظهور المد الاستعماري و تدفق الثروات والمواد الخام من المستعمرات إلى أوروبا كانت الحاجة ملحة لعملية تغير شامل في أدوات الإنتاج و حجمه و وسائله ممثلا بالثورة الصناعية

١- عاملين من عوامل قيام النهضة الأوروبية

٢- سببين دفعا أوروبا للقيام بحركة الكشوف الجغرافية



السؤال الرابع : ويتكون من ( أ - ب - ج )

[[ أ ]] : - ما الآثار المترتبة على كل مما يلي

١ - سيادة نظام الاقتراع في أوروبا في التصور الواسطي

٢ - اختراع الطباعة

٣ - قيام حركة الإصلاح الديني في أوروبا

[[ ب ]] : - أقرأ الفقرة التالية ثم اجب عن الامئلة التي تليها

( عاش في مدينة فلورنسا بايطاليا وتولى العديد من المناصب السياسية بها واصبح بمثابة نخبير لشكوماتشافي العديد من الدول الاوربية وعندما انهارت حكومة فلورنسا حرص على التفرق لكتابه آرائه السياسية وكتب ذلك بكتاب عام ١٥١٣م شرح فيه اصول الحكم )

١ - ما الشخصية التي ينطبق عليها هذا الوصف ؟

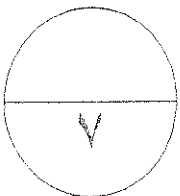
٢ - ما أهم مؤلفاته ؟

٣ - ما الآراء التي نادى بها ؟

[[ ج ]] : - ماذا يحدث لو لم

تظهر النهضة الاوربية في ايطاليا

تمويل الملكة ايزابيلا مشروع كريستوفر كولومبس



السؤال الأول : يتكون من ( أ - ب - ج - د )

(أ) - أكمل الفراغات التالية بكلمات مناسبة :

- ١- الحضارة التي أمدت أوروبا بأعظم الانجازات العلمية وكانت عاملا في قيام النهضة تسمى .....
- ٢- أطلق علي العالم الجديد الذي وصل إليه اميركوفسوتشي اسم .....
- ٣- الملاح الذي يعتبر أول من استخدم رأس الرجاء الصالح للوصول للهند يسمى .....

(ب) اكتب المصطلح المناسب أمام كل عبارة من العبارات التالية :

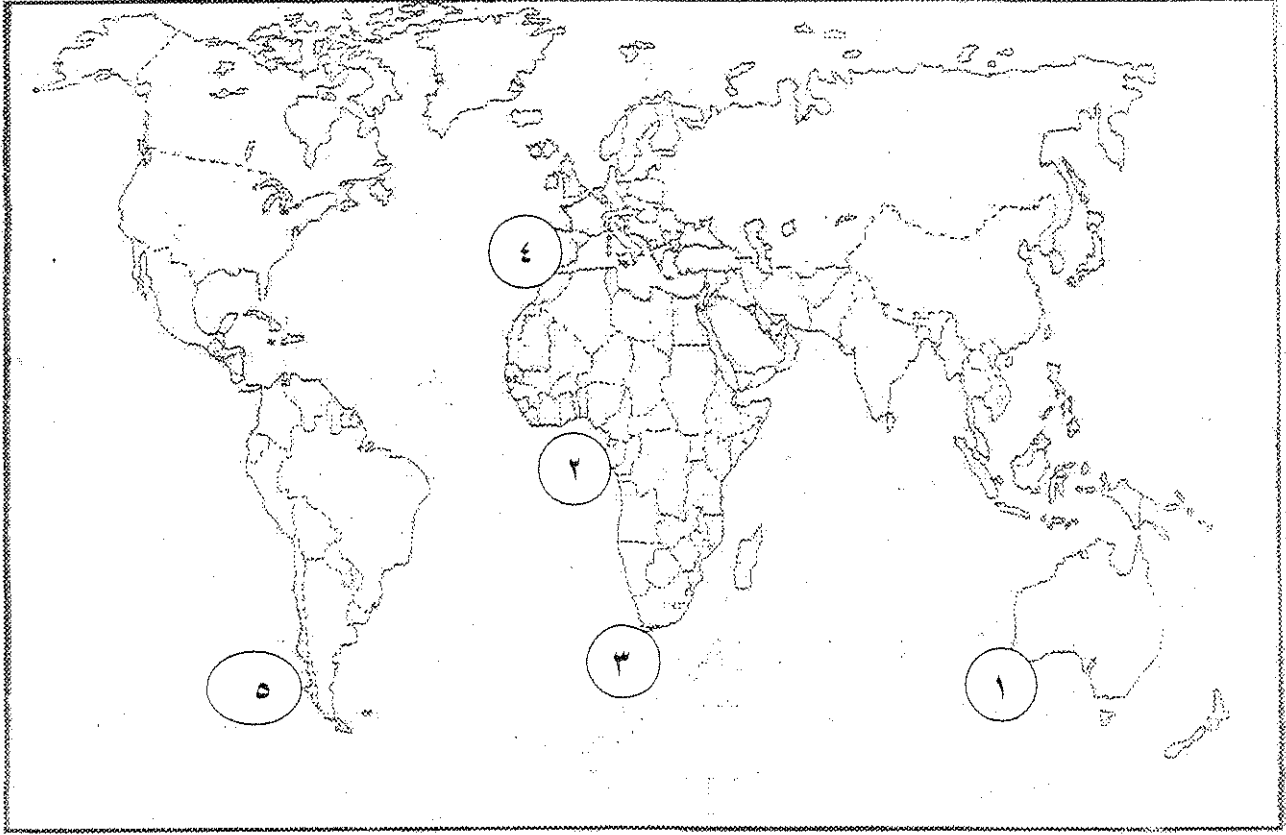
- ١- ( ) هي مرحلة انتقال من العصور الوسطي إلي العصور الحديثة وتمتد من القرن الثالث عشر إلي القرن السادس عشر ميلادي .
- ٢- ( ) هم الذين عبروا في كتاباتهم الأدبية عن صورة الإنسان الذي يتصف بالإبداع والتفقه بالنفس
- ٣- ( ) الجهود التي قام بها الأوروبيون بهدف التعرف علي أراضي جديدة خلال القرن الخامس عشر والسادس عشر الميلادي .

(ج) اختر الاجابه الصحيحة من بين البدائل التي تلي كل عبارة :



- ١- الشكل المقابل يمثل احد رواد الحركة الدينية في أوروبا اسمه ب.  
أ - مايكل انجلو  
ب - مارتن لوثر  
ج - رفائيل  
د - دوناتالو
- ٢- الملاح الذي وصل الي خط عرض ٧٢ شمالا اسمه :-  
أ - بارثلميو دياز  
ب - كريستوفر كولمبس  
ج- جون ديفيز  
د- ماجلان
- ٣- الالماني الذي اخترع أحرف الطباعة المعدنية اسمه :-  
أ - حناجوتنبرج  
ب- ليوناردو دافنشي  
ج- رفائيل  
د - دوناتالو
- ٤- الرحالة الذي اكتشف جزيرة نيوزوندلاند :-  
أ - ماجلان  
ب - كريستوفر كولمبس  
ج- بارثلميو دياز  
د- جون كابوت

(د) انسب الأرقام على الخريطة أمام العبارة المناسبة لها:



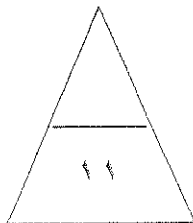
\* رأس الرجاء الصالح يمثل الرقم .....

\* احد مراكز انتقال الحضارة العربية الإسلامية إلى أوروبا يمثل الرقم .....

\* القارة التي اكتشفها جيمس كوك يمثلها الرقم .....

\* المنطقة التي وصل لها الأمير هنري يمثلها الرقم .....

\* ارسم على الخريطة المرفقة رحلة الملاح ماجلان باستخدام الرمز ← ← ←



السؤال الثاني : يتكون من ( أ - ب - ج - د )

أ - علل كانت إيطاليا اسبق الأقاليم الأوروبية في النهضة .

\*

\*

ب- اقرأ الفقرة التالية ثم اجب عن الأسئلة التي تليها :  
( عاش في مدينة فلورنسا بايطاليا وتولي العديد من المناصب السياسية بها وصيغ بمثابة سفير لحكومتها في العديد من الدول الأوروبية وعندما انهرت حكومة فلورنسا حرص علي التفرغ لكتابة آرائه السياسية وكتب ذلك بكتاب عام ١٥١٣م شرح فيه أصول الحكم )

١- ما الشخصية التي ينطبق عليها هذا الوصف ؟

٢- ما أهم مؤلفاته ؟

٣- ما الآراء التي نادي بها ؟

\*

\*

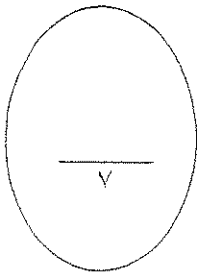
ج- ما النتائج التي ترتبت علي رحلات كريستوفر كولمبس ؟

\*

\*

د- اشرح العلاقة التاريخية بين :  
الدافع الديني وقيام حركة الكشوف الجغرافية .

\*





السؤال الثالث: يتكون من ( أ - ب - ج - د )

أ - اكتب جهود المفكرين الأوروبيين في إحياء الدراسات القديمة .

\*

\*

ب- ماذا تتوقع أن يحدث لو :

١- لم يتم اتصال علماء أوروبا بعلماء المسلمين .

\*

٢- لم تحدث حركة الإصلاح الديني في أوروبا .

\*

ج- برهن علي صحة العبارة التالية:

يعتبر ليوناردافنشي عبقرى عصر النهضة .

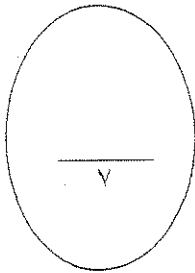
\*

\*

د- فسر العبارة التالية :

١- عدم رؤية جيمس كوك لقارة أنتاركتيكا ( القارة القطبية الجنوبية ) .

\*



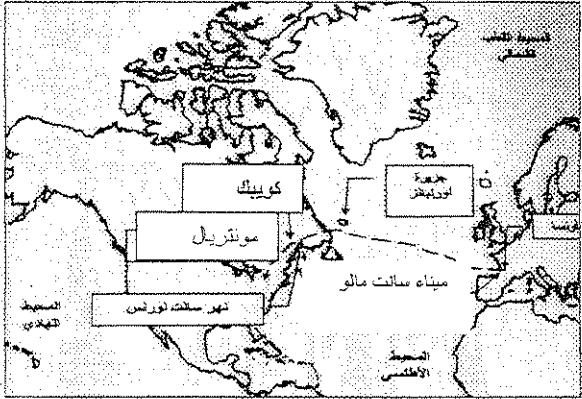
السؤال الرابع : يتكون من ( أ - ب - ج - د )

أ - فرق حسب الجدول :

حجج مارتن لوثر ضد أوضاع الكنيسة	أسباب قيام حركة الإصلاح الديني
*	*
*	*

ب- لاحظ الخريطة التي أمامك ثم اجب عما هو مطلوب :

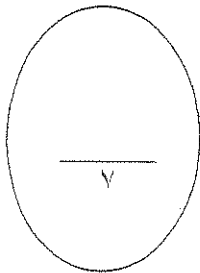
١- اسم المكتشف الذي قام بالرحلة .



ج - دلل علي صحة العبارة التالية :

هناك من يعتبر إن النهضة الأوروبية هي وليدة نمو المدن .

د- اكتب الدور التاريخي للأمير هنري ابن ملك البرتغال في حركة الكشوف الجغرافية .



مع التمنيات بالنجاح

اختبار الفترة الدراسية الأولى لمقرر تاريخ العالم

الحديث والمعاصر للصف الثاني عشر

( النظام الموحد )

للعام الدراسي ٢٠٠٩ / ٢٠١٠

وزارة التربية

الإدارة العامة لمنطقة الفروانية التعليمية

التوجيه الفني للاجتماعيات

السؤال الأول ( إجباري ) ويتكون من ( أ - ب - ج - د )

( أ ) اكتب المصطلح المناسب أمام كل جملة من الجمل التالية: ( ثلاث درجات)

١- ( ) حركة كشفية قامت بها أوروبا خلال القرنين الخامس عشر

والسادس عشر الميلاديين تعرفوا بها علي أراضي جديدة.

٢- ( ) مجموعة من الأدباء الذين عبرت كتابتهم الأدبية عن صورة الإنسان.

٣- ( ) تلك الحركة التي انطلقت من إيطاليا ثم انتقلت إلي كافة أنحاء

أوروبا بهدف إعادة اكتشاف الذات وإعادة إحياء الأمجاد.

( ب ) اختر الإجابة المناسبة من البدائل التالية: ( ثلاث درجات)

١- المكتشف الذي تمكن من الوصول إلي رأس الرجاء الصالح هو .....

أ- ماجلان ب- بارثيمو دياز

ج - أمريكو فسبوتشي د- كريستوفر كولمبس

٢- بدأت الكشوف الجغرافية الأسبانية في عهد .....

أ- الملك مانويل الأول ب- الملك جون الثاني

ج - الملكة إيزابيلا د- الملك جون الأول

٣- الحرف الذي يمثل تاريخ رحلة أمريكو فسبوتشي هو :



(ج) اختر من القائمة (ب) ما يناسب القائمة (أ) وذلك بكتابة الرقم المناسب أمامها.

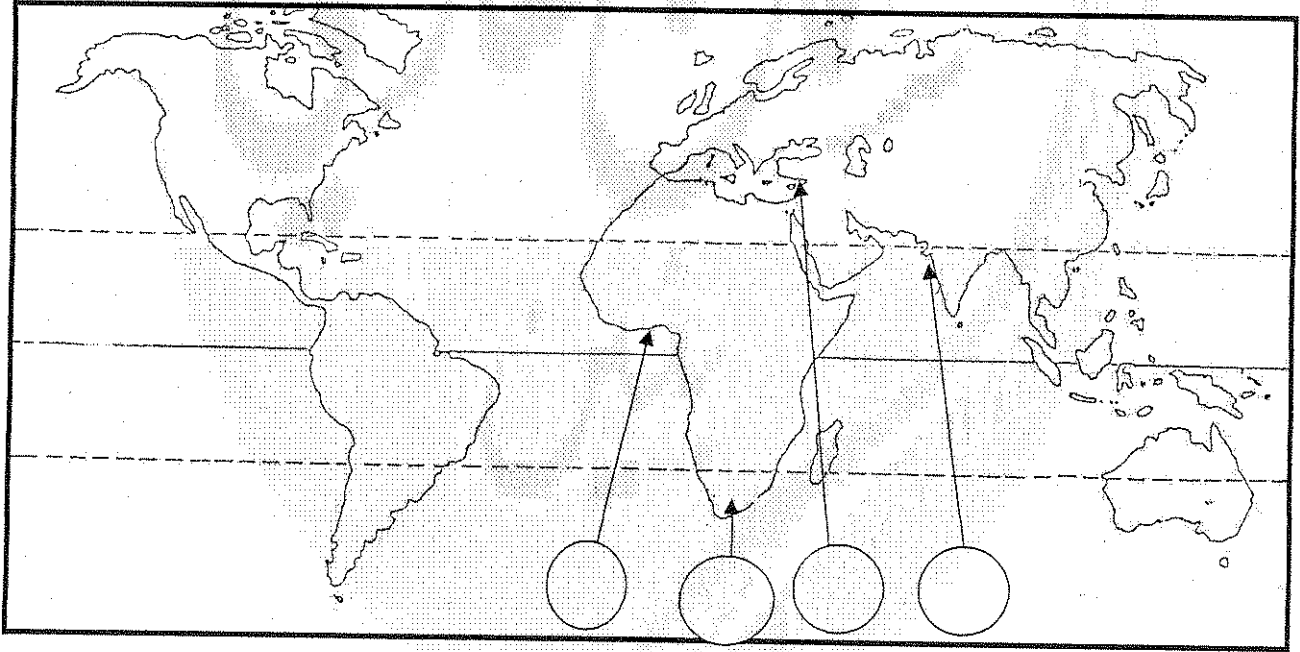
(درجتان)

القائمة (أ)	القائمة (ب)
١. دانتي	الموناليزا
٢. ليوناردو دافنشي	الكوميديا الإلهية
٣. حنا جوتنبرج	الإصلاح الديني
٤. مارتن لوثر	اختراع أحرف الطباعة المعدنية
	كتاب الامير

(د) انظر الخريطة التي أمامك جيدا ثم حدد عليها ما هو مطلوب من العبارات التي

(ثلاث درجات)

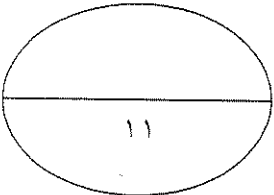
تليها:



١- المنطقة التي وصل إليها هنري الملاح في رحلاته الكشفية.

٢- أحد مراكز انتقال الحضارة الإسلامية إلى أوروبا قبيل عصر النهضة.

٣- المنطقة التي وصل إليها فاسكو دي جاما في رحلاته الكشفية.



## السؤال الثاني يتكون من ( أ - ب - ج )

( درجتان )

( أ ) علل لكل مما يأتي: ( بذكر نقطتين )

١- قيام حركة الإصلاح الديني في ألمانيا.

.....  
.....  
.....

( أربع درجات )

( ب ) ما النتائج التي ترتبت على كل مما يلي:

١- قيام النهضة الأوروبية في إيطاليا.

.....  
.....

٢- حركة الإصلاح الديني.

.....  
.....

( درجتان )

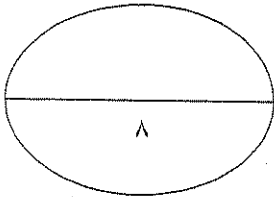
ج - عرف المفاهيم التالية:

١- نظرية التفويض الإلهي: -

.....  
.....

٢- الطبقة البورجوازية: -

.....  
.....



## السؤال الثالث ( يتكون من أ - ب ج )

( أ ) - ما النتائج التي ترتبت على كل مما يلي :- (بذكر نقطتين) ( لكل نقطة درجتان )

١- رحلة فاسكو دي جاما.

.....

.....

٢- رحلة هنري هيدسون سنة ١٦١٠م.

.....

.....

( ب ) دلل على صحة العبارات التالية: ( يذكر نقطتين ) (درجتان )

١ - بذل المفكرون الأوروبيون جهدا كبيرا في إحياء الدراسات اليونانية القديمة.

.....

.....

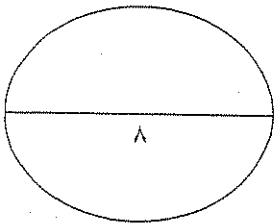
( ج ) علل لما يأتي : ( يكتفي بنقطة واحدة ) (درجتان )

١- سبق البرتغال بقية الدول الأوروبية إلى حركة الكشوف الجغرافية.

.....

ب- تسمية الفلبين بهذا الاسم.

.....



## السؤال الرابع ( إجباري ) يتكون من ( أ - ب - ج )

( درجتان )

( أ ) علل لما يأتي بنقطة واحدة:-

١- تعتبر رحلة ماجلان ذات أهمية علمية كبيرة .

٢- العوامل التي جعلت إيطاليا في مقدمة حركة النهضة الأوروبية.

( ب ) اكتب في سطرين عن :- ( أربع درجات )

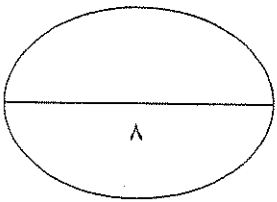


١- الآراء السياسية لصاحب الصورة الموجودة أمامك.

٢- المطالب التي تقدم بها مارتن لوثر إلي الكنيسة في نوفمبر ١٥١٧م.

( ج ) اذكر المراحل التي مرت بها عملية نمو المدن الأوروبية. (يكتفى بنقطتين))

( درجتان )



الزمن : ساعتان وربع

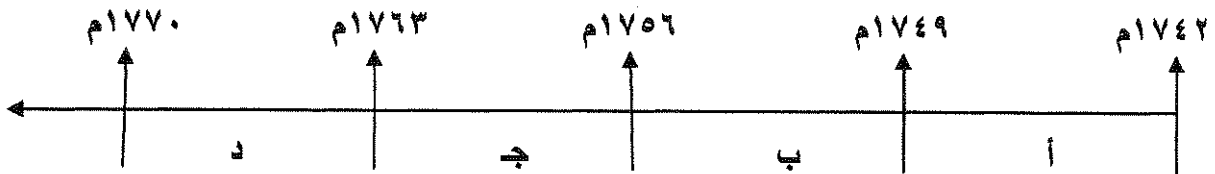
امتحان نهاية الفترة الدراسية الثانية  
للمصف الثاني عشر / أدبي للعام ٢٠١٤ / ٢٠١٥ م  
في مادة تاريخ العالم الحديث والمعاصر

أجب عن أربعة أسئلة مما يلي على أن يكون السؤال الأول من بينها اجباريا :-

السؤال الأول ( اجباري ) يتكون من ( أ - ب - ج - د ) :-

أ - اختر البديل الصحيح من بين البدائل التي تلي كل عبارة مما يلي وضع خطأ تحته :

١- الفترة الزمنية التي تمثل حرب السنين السبع يمثلها على المخطط الزمني الحرف :



٢- الجزر التي اكتشفها البرتغاليون في عهد هنري الملاح :

أ- كوبا

ب- هايتي

ج- ترينداد

د- آزور

٣- رواد الحركة الفنية الذين برعوا في مجال النحت يمثلهم في الجدول المقابل الأرقام :

أ- ( ١ ، ٣ )

ب- ( ٢ ، ٤ )

ج- ( ٣ ، ٥ )

د- ( ٢ ، ٥ )

٤- العالم الذي اخترع القاطرة البخارية :

أ- نيقولوس أوتو

ب- ديمرلر وينز

ج- جورج ستيفنسن

د- روبرت فولتن

٥- الرحالة البرتغالي الذي أكتشف رأس الرجاء الصالح :

أ- بارثلميو دياز

ب- فاسكو دي جاما

ج- ماجلان

د- كريستوفر كولمبس

٦- الدولة العربية التي احتلتها فرنسا عام ١٨٣٠ م :

أ- تونس

ب- سوريا

ج- الجزائر

د- موريتانيا

ب - أكتب المفهوم الدالة عليه التعريفات التالية :-

- ١- ( طبقة اجتماعية تحالفت مع الملوك في أواخر العصور الوسطى لتحطيم نظام الإقطاع . )
- ٢- ( سفن عملاقة تميزت بكبر حمولتها وازدياد قدرتها على المغامرة وسط المحيطات . )
- ٣- ( عملية تغيير شامل في أدوات الإنتاج ووسائله وحجمه وعلاقاته ومستواه . )
- ٤- ( حركة قام بها الأوروبيون خلال القرنين ١٥ - ١٦ م ساعدت على تطور خريطة العالم . )

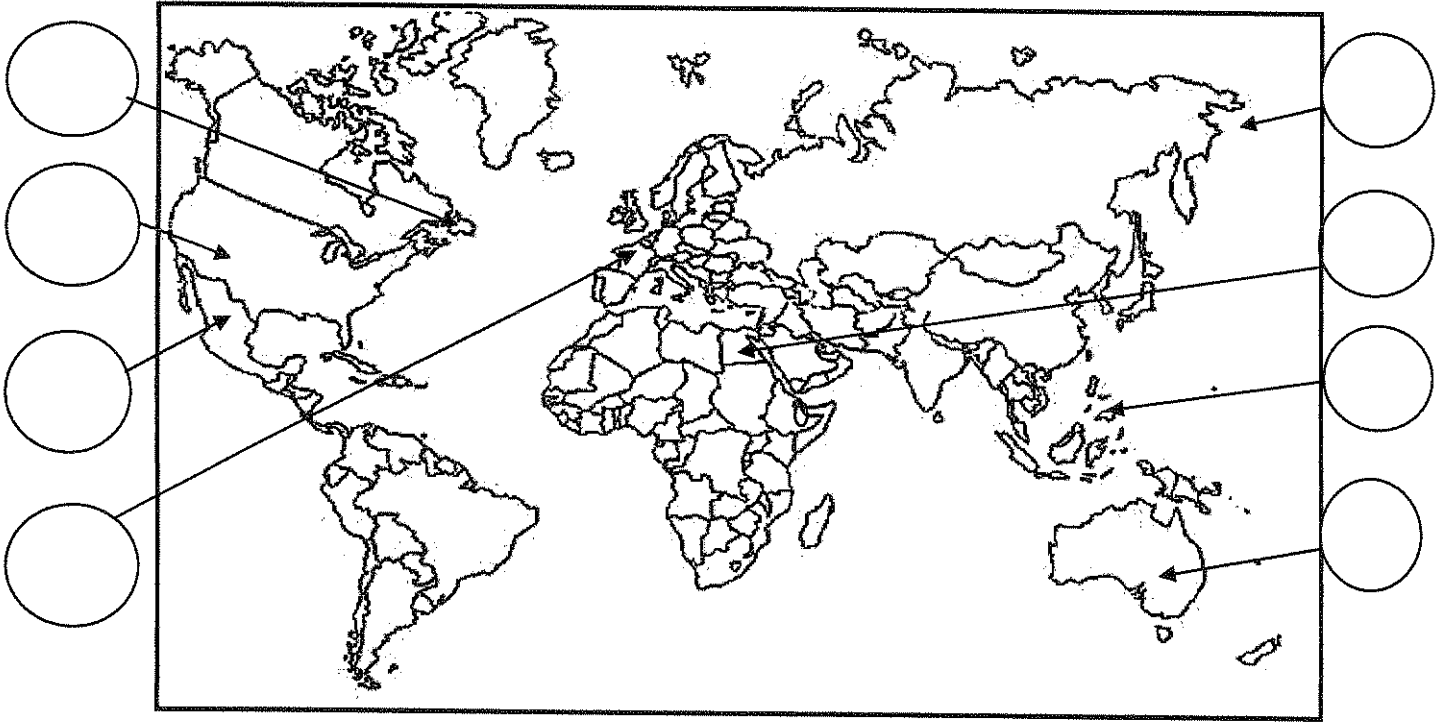


تابع السؤال الأول :-

ج - أكمل الجمل التالية بما يناسبها :-

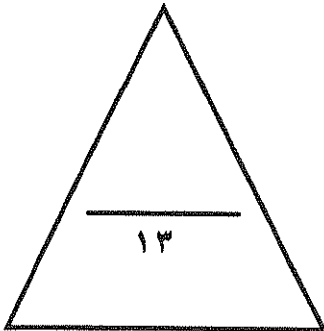
- ١- البحار البرتغالي الذي احتل جزيرة سوفطرة عام ١٥٠٦م يسمى .....
- ٢- المجال الذي برع فيه العالم هنري بسمر يسمى .....
- ٣- الحضارة التي ظهرت في بيرو تسمى .....
- ٤- ملكة بريطانيا التي تم في عهدها تأسيس مستعمرة فرجينيا عام ١٦٠٧م تسمى .....
- ٥- الكتاب الذي نشر فيه ماكيافيللي آرائه السياسية يسمى .....
- ٦- الملك الفرنسي الذي شجع قيام شركة الهند الشرقية الفرنسية عام ١٦٦٤م يسمى .....

د- لاحظ خريطة العالم التي أمامك جيدا ثم نفذ المطلوب :



ضع رقم كل عبارة مما يلي في الدوائر على الخريطة:

- ١- جزر قتل فيها ماجلان في صراع مع السكان .
- ٢- أحد مراكز انتقال الحضارة العربية الإسلامية إلى أوروبا .
- ٣- منطقة ظهرت فيها حضارة الآزتك .
- ٤- جزيرة أكتشفها الملاح جيمس كوك .
- ٥- دولة يرجع إليها الفضل في اكتشاف كندا .
- ٦- جزيرة أكتشفها الملاح جون كابوت .



السؤال الثاني ( اختياري ) يتكون من ( أ - ب - ج ) :-

أ - علل لكل مما يلي :-

١- إيطاليا في مقدمة حركة النهضة الأوروبية .

..... •  
..... •

٢- انهيار الامبراطورية الأسبانية .

..... •  
..... •

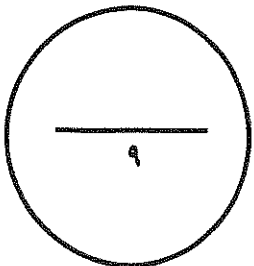
ب - فرق حسب الجدول :-

نظرية كوبرنيكوس في مجال الفلك	نظرية بطليموس في مجال الفلك
..... • .....	..... • .....

ج - دلل على صحة العبارة التالية :-

١- أن الثورة الصناعية أحدثت تغييرا سياسيا في قارة أوروبا .

..... •  
..... •  
..... •



السؤال الثالث ( اختياري ) يتكون من ( أ - ب - ج ) :-

أ - اكتب فقرة مترابطة من ثلاثة أسطر مستعينا بالكلمات التالية :-

(( الإستعمار الأوروبي - الحضارة الأوروبية - الإرساليات التبشيرية - المستشرقون ))

.....  
.....  
.....

ب - فرق حسب الجدول التالي :-

عوامل انهيار الإمبراطورية الهولندية	عوامل انهيار الإمبراطورية البرتغالية في الشرق
..... .....	..... .....
نتائج رحلة كولمبس الثانية	نتائج رحلة كولمبس الأولى
..... .....	..... .....

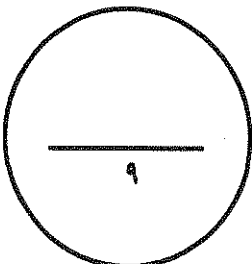
ج - ماذا يحدث لو لم :-

١- اخترع حنا جوتنبرج أحرف الطباعة المعدنية .

.....  
.....

٢- اخترع توماس أديسون المصباح .

.....



السؤال الرابع ( اختياري ) يتكون من ( أ - ب - ج ) :-

أ - أكتب النتائج المترتبة على كل مما يلي :-

١- رحلة فاسكو دي جاما .

..... •

..... •

٢- حركة الإصلاح الديني في أوروبا .

..... •

..... •

ب - دلل على صدق العبارة التالية :-

" إن العلاقات التي تمت بين قارة أوروبا والقارات الأخرى كانت ذات نتائج عظيمة في الإقتصاد العالمي "

..... •

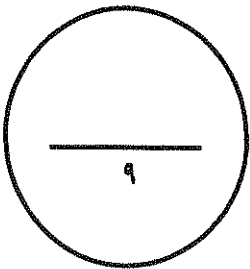
..... •

..... •

ج - ما أوجه الاختلاف بين الإقتصاد الأوروبي قبل ... و بعد الثورة الصناعية .

..... •

..... •



السؤال الخامس ( اختياري ) يتكون من ( أ - ب - ج ) :-

أ - أقرأ الفقرة التالية ثم نفذ المطلوب :-

" اتبعت الدول الإستعمارية أساليب شتى ومتنوعة خلال سيطرتها على الشعوب الأخرى ، حيث هدف الإستعمار لإقامة المحطات التجارية والقواعد العسكرية . وكان لكل أسلوب خصائص خاصة به ، ومع تعدد تلك الخصائص تعددت أشكال الإستعمار . "

١- عرف الإستعمار .

..... \*

٢- عدد أشكال الإستعمار .

..... \*

..... \*

..... \*

..... \*

ب - فند العبارة التالية :-

١- أهملت النهضة الأوروبية دراسة الإنسان .

..... \*

..... \*

ج - علل لكل مما يلي :-

١- قيام حركة الإصلاح الديني في أوروبا .

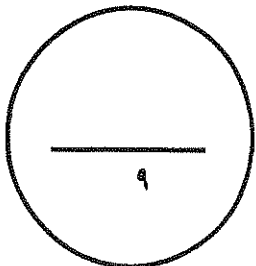
..... \*

..... \*

٢- إنجلترا هي القاعدة التي انطلقت منها الثورة الصناعية .

..... \*

..... \*



انتهت الأسئلة...،،،،

تمنياتنا لكم بالنجاح والتوفيق...،،،،

(الاسئلة في ٧ صفحات)

امتحان نهاية الفترة الدراسية الثانية


للمصف الثاني عشر / أدبي للعام ٢٠١٣ / ٢٠١٤ م

المجال الدراسي : تاريخ العالم الحديث والمعاصر

السؤال الأول اجباري ويتكون من ( أ - ب - ج - د ) :-

أ- اختر البديل الصحيح من بين البدائل التي تلي كل عبارة مما يلي :-

١ - الفترة الزمنية للعصور الوسطى يمثلها علي المخطط الزمني الحرف:



٢- نتيجة سياسية ترتبت على الثورة الصناعية:-

ب- زيادة الانتاج

أ- ظهور الصراع الطبقي

د- سيطرة الطبقة الرأسمالية

ج- ظهور المراكز الصناعية

٣- الاحرف الدالة على مركزين من مراكز انتقال الحضارة

الاسلامية الى اوربا في الخريطة التي أمامك :-

( ب ، ج )

( أ ، ب )

( أ ، د )

( ج ، د )

٤- العالم الألماني الذي اخترع أحرف الطباعة المعدنية:-

أ - ديملر وبنز

ج- توماس نيوكمان

٥- الملاح الذي تمكن من الوصول الى القطب الشمالي :

أ- جون كابوت

ج- روبرت بيرري

ب- مارتن فروبشير

د- الكسندر ماكينزي

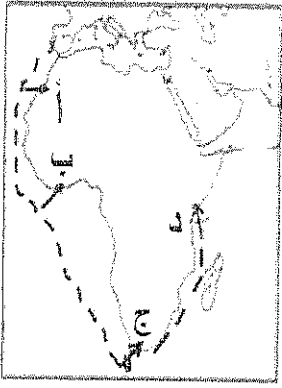
٦- العالم الذي أسهم في احداث تغيير في مجال النقل وبداية سير السكك الحديدية :-

ب- جيمس وات

أ- جورج ستيفنسن

د- ريتشارد اركرايت

ج- جون كي



٧- المنطقة التي وصل اليها الامير هنري الملاح يمثلها على الخريطة الحرف :-

( أ - ب - ج - د )

٨- أول شعب اوروبي قام بتأسيس امبراطورية استعمارية فيما وراء البحار:-

أ- الأسبان ب- البرتغال

ج- الإنجليز د- الفرنسيين

ب - انسب العبارات التالية حسب مايناسبها في الجدول المرفق بوضع الرقم المناسب :-

- ١- تحالف المدن الصغيره مما منحها القوة والاستقلال.
- ٢- لوحة فنية رسمها ليوناردو دافنشي.
- ٣- مدينة أسسها الملاح جاك كارتية في كندا .
- ٤- اسطول اسباني تحطم على يد الانجليز سنة ١٥٨٨م.
- ٥- سفن عملاقة تميزت بكبر حمولتها واستعمالها لعدد كبير من الاشرعة .
- ٦- الساحل الجنوبي لقارة افريقيا .

الأرمادا	رأس العواصف	كويبك	كومونات	الجيوكلدا	الكرافيل

ج- أكمل الفراغ في العبارات التالية :-

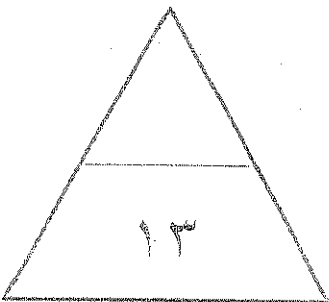
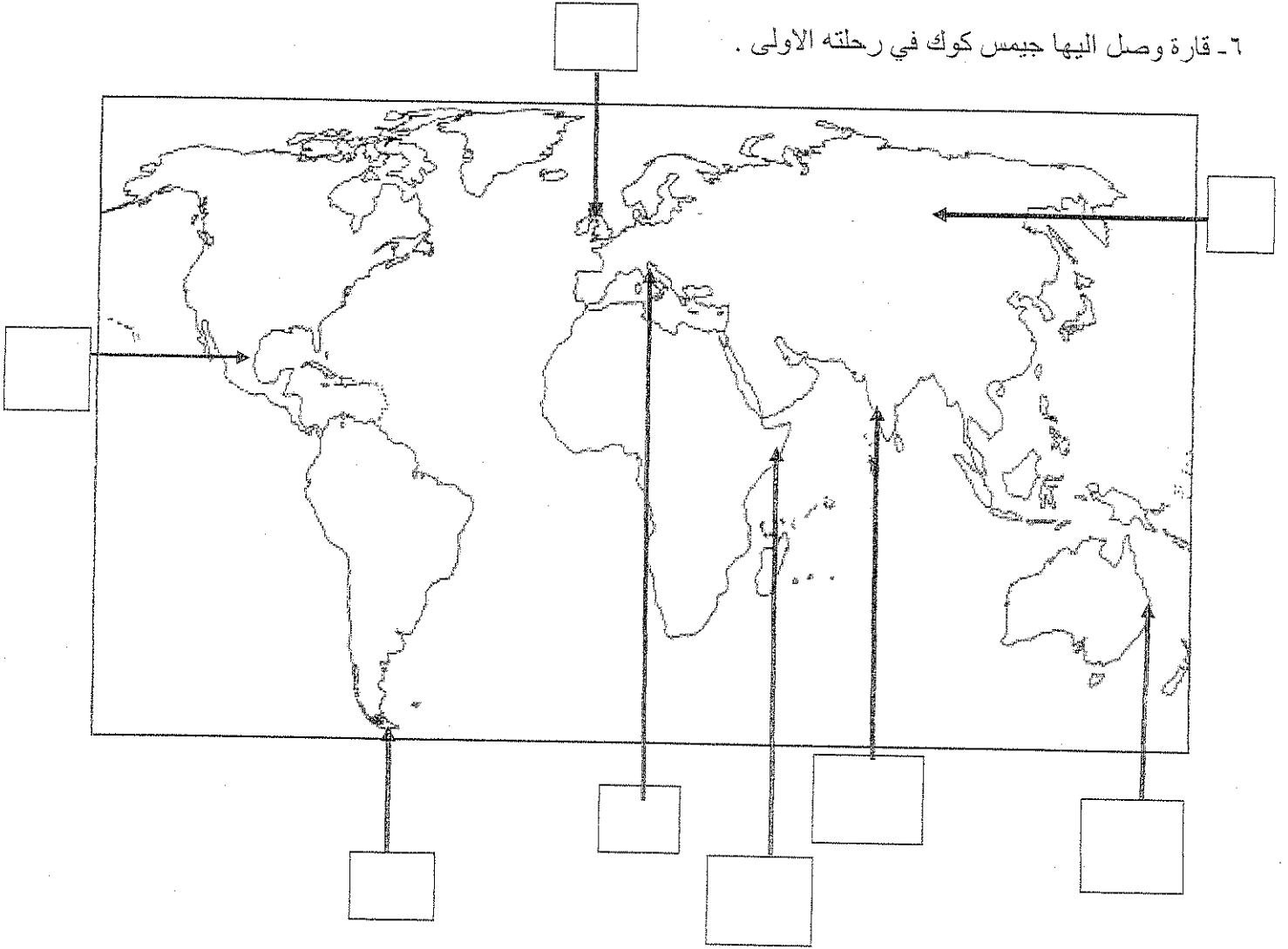
- ١- شاعر عربي تأثر به دانتي بتأليف رواية الكوميديا الإلهية اسمه-----
- ٢- اسلوب استعماري قائم على التفرقة بين الناس بسبب الدين أو الجنس أو اللون يسمى-----
- ٣- العام الذي احتلت فيه فرنسا الجزائر ----- م
- ٤- الملكة التي قدمت الدعم والتمويل لمشروع كريستوفر كولمبس اسمها-----
- ٥- العالم الذي اخترع المصباح الكهربائي اسمه-----
- ٦- عملية تغيير شامل في أدوات الإنتاج الصناعي ووسائله وحجمه ومستواه تسمى-----

تابع / امتحان الفترة الدراسية الثانية للصف الثاني عشر الأدبي لمادة تاريخ العالم الحديث والمعاصر ٢٠١٣-٢٠١٤م

(٨ × نصف = ٤ درجات)

د- أكتب رقم العبارة في المربع المناسب لها على الخريطة :

- ١- مركز انطلاق الثورة الصناعية .
- ٢- منطقة تنافست عليها الدول الاستعمارية وتعتبر مصدرا للتوابل والمنتجات الشرقية .
- ٣- دولة احتلتها إيطاليا بنظام الوصاية .
- ٤- منطقة وصل اليها الملاح امريكو فسبوتشي .
- ٥- مضيق وصل اليه الملاح ماجلان .
- ٦- قارة وصل اليها جيمس كوك في رحلته الاولى .





الأسئلة الاختيارية ( أجب عن ثلاثة أسئلة كاملة من كل مما يلي ) :-

السؤال الثاني :- يتكون من ( أ - ب - ج )

( أ ) ماتفسيرك لما يلي :-

١- سبق إيطاليا للأقاليم الأوروبية في حركة النهضة .

.....\*

.....\*

.....\*

٢- قيام حركة الإصلاح الديني في أوروبا.

.....\*

.....\*

.....\*

( ب - ) برهن على أن :-

١- الثورة الصناعية نتائج اجتماعية .

.....\*

.....\*

.....\*

٢- انهيار الإمبراطورية الأسبانية على الرغم من نشاطهم الاستعماري الواسع .

.....\*

.....\*

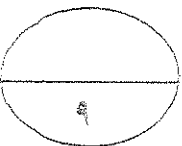
.....\*

( ج ) عرف كل مما يلي :-

١- ( استيطان )

٢- ( الإنسانيين )

٣- ( تجارة الرق )



السؤال الثالث :- يتكون من ( أ- ب- ج )

أ- اكتب النتائج التي ترتبت على اختراع كل مما يلي :-

١- المكوك الطائر

٢- الديمو

ب- دلل على صحة العبارات التالية :-

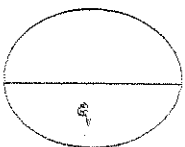
١- كان لظهور النظام الاقطاعي أثر واضح على المجتمع الاوروبي في العصور الوسطى.

٢- للكشوف الجغرافية نتائج اقتصادية .

ج- ما اوجه الاختلاف بين كل من :-

<u>النظرية الفلكية لنيكولاس كوبرنيكس</u>	<u>النظرية الفلكية لبطليموس</u>

<u>الوصايه</u>	<u>الانتداب</u>



السؤال الرابع:- يتكون من ( أ- ب- ج )

أ) ما الدور الذي قامت به الشخصيات التالية:-

١- مارتن لوثر في حركة الاصلاح الديني .

.....\*

.....\*

.....\*

.....\*

٢- الأمير هنري ابن ملك البرتغال في قيام حركة الكشوف الجغرافية .

.....\*

.....\*

.....\*

.....\*

ب) فند بالأدلة التاريخية مايلي:

١- لم تمتلك إنجلترا أي من المقومات لقيام الثورة الصناعية .

.....\*

.....\*

.....\*

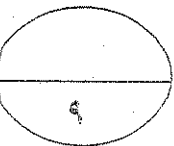
.....\*

٢- يختلف الدافع الديني للدول الأوروبية في الكشوف الجغرافية عنه في الحركة الاستعمارية .

.....\*

.....\*

ج) ما أوجه الشبه بين كل من عوامل انهيار الامبراطورية الهولندية والإمبراطورية البرتغالية.



السؤال الخامس :- يتكون من ( أ- ب- ج - )

أ) نفذ المطلوب بين القوسين :-

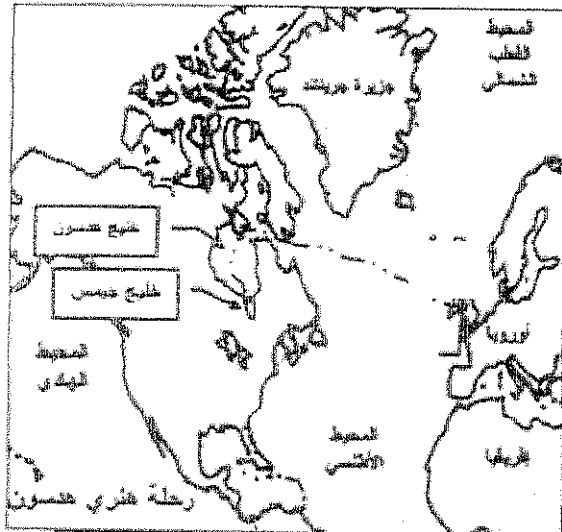
( العامل الاستراتيجي )

١- الاستعمار الاوروبي .

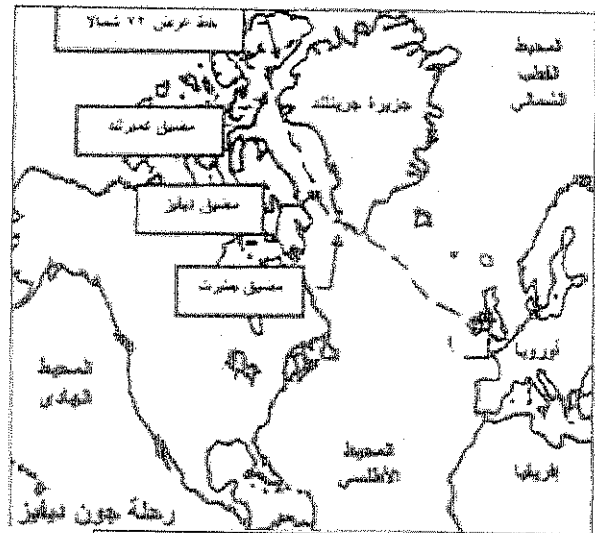
( جهود المفكرون في احياء الدراسات اليونانية القديمة )

٢- النهضة الاوروبية

ب- لاحظ خرائط الكشوف الجغرافية التالية واستخرج منها :-



الرحلة الكشفية ( ٢ )



الرحلة الكشفية ( ١ )

١- الدولة التي سيرت الرحلتين رقم ١ ورقم ٢

٢- أقصى نقطة وصل اليها الملاح جون كولومبوس شمالا

٣- النتائج التي ترتبت على الرحلة الكشفية رقم (٢)

ج) ما انجازات الشخصيات التالية :-

١- فاسكودي جاما من رحلته الكشفية

٢- الاخوان رايت في مجال الطيران

انتهت الأسئلة



تابع السؤال الأول ( اجباري ) :-

م	الشخصيات
1-	دوناتللو
2-	روبرت بيرى
3-	فيلبو برونيلسكي
4-	تشارلز ويكلز

5- الأسماء التي تنتمي إلى عصر النهضة الأوروبية في الجدول المقابل :

أ - ( 1 ، 2 )      ب - ( 2 ، 4 )

ج - ( 2 ، 3 )      د - ( 1 ، 3 )

6- أول شعب أوروبي أسس إمبراطورية استعمارية فيما وراء البحار :

أ - الهولنديون      ب - الفرنسيون

ج - البرتغاليون      د - الانجليز

1517م

7- عدد الحجج التي علقها مارتن لوثر على باب كنيسة وتنبرج عام :

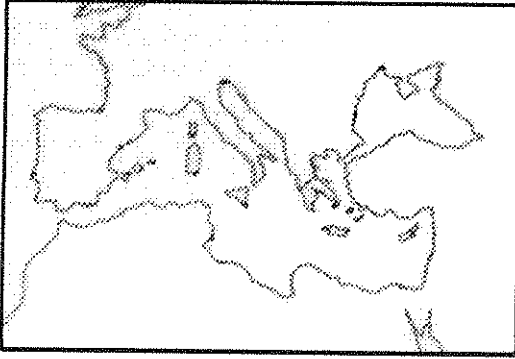
أ - 92      ب - 93

ج - 94      د - 95

8- أحد مراكز الحضارة العربية الاسلامية إلى أوروبا

يمثله على الخريطة المقابلة الحرف :

( أ - ب - ج - د )

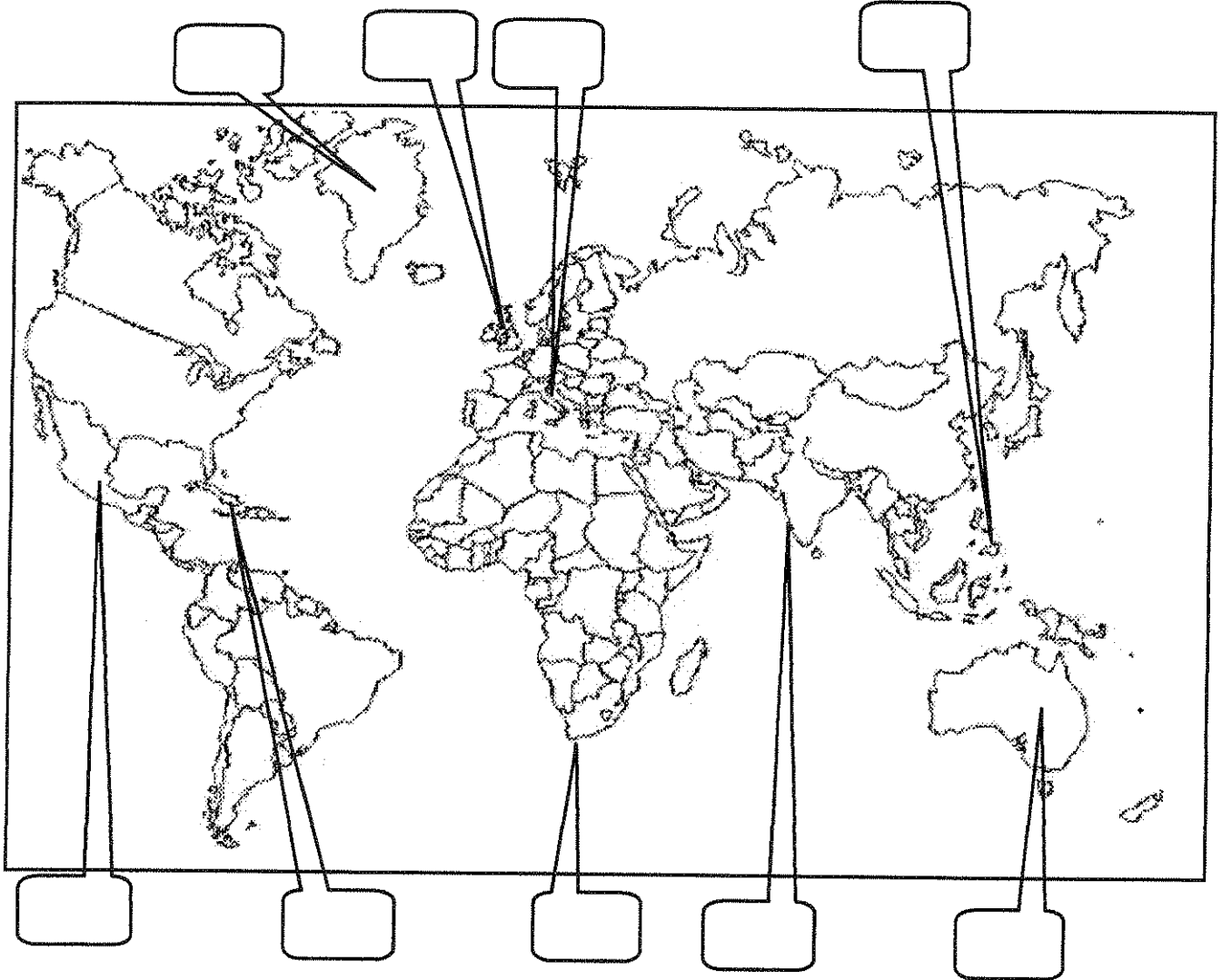


ب - اكتب المفهوم الدالة عليه التعريفات التالية :-

- 1- ( ) أسلوب استعماري قائم على التفرقة بين الناس بسبب اللون او الجنس او الدين حيث مارست فيه ألوان من القهر والاستعباد .
- 2- ( ) نظام استعماري يفرض على المستعمرة ألا تتاجر مع أي دولة إلا البلد المستعمر له .
- 3- ( ) حركة قامت بها دول أوروبا في القرنين الخامس عشر والسادس عشر الميلاديين ساعدت على تطور خريطة العالم .
- 4- ( ) نظرية تقول إن الملوك يمثلون الله على الارض وانهم يستمدون سلطتهم منه وليس من الشعوب التي يجب عليها الخضوع التام للملوك .
- 5- ( ) تغيير شامل في أدوات الانتاج ووسائله وحجمه وعلاقاته ومستواه ، وتبدل كامل في أساليب التمويل والتسويق والتوزيع .

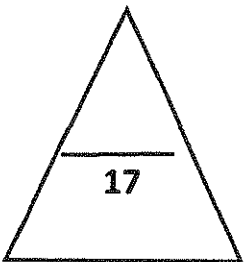
تابع السؤال الأول ( اجباري ) :-

ج - لاحظ خريطة العالم جيدا ثم نفذ المطلوب منك :-



• ضع رقم كل عبارة مما يلي في المربع المناسب لها على خريطة العالم الصماء :-

- 1- جزيرة اكتشفها الملاح مارتن فروبيشر .
- 2- أولى دول أوروبا في مجال الثورة الصناعية .
- 3- منطقة أطلق عليها اسم رأس العواصف .
- 4- موطن حضارة الماياس .
- 5- منطقة اكتشفها الملاح جيمس كوك .
- 6- منطقة يعتبر كولمبس أول من وصل لها .
- 7- موطن نيقولا ماكيافيللي .
- 8- عاصمة البرتغال في ممتلكاتهم الشرقية .



السؤال الثاني : ( اختياري ) ويتكون من ( أ - ب - ج - د )

أ - علل ما يلي :-

1- نجاح الفرنسيون في السيطرة على الهند .

- .....
- .....

2- التسابق الاستعماري حول المستعمرات .

- .....
- .....

ب - ماذا يحدث لو لم :

1- تظهر النهضة الأوروبية في إيطاليا .

- .....
- .....

ج - فرق حسب الجدول التالي :-

نظرية كوبرنيكوس في مجال الفلك	نظرية بطليموس في مجال الفلك
• .....	• .....
• .....	• .....

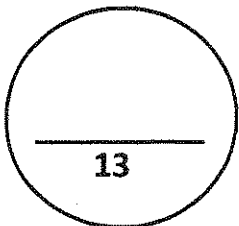
د - دلل على صدق العبارات التالية :-

1- " العلاقات التي تمت بين أوروبا والقارات الأخرى كانت ذات نتائج عظيمة في الإقتصاد العالمي " .

- .....
- .....

2- " بذل المفكرون الأوروبيون ما بين عامي 1300- 1500م جهدا كبيرا لحياء الدراسات اليونانية القديمة " .

- .....
- .....





السؤال الثالث : ( اختياري ) يتكون من ( أ - ب - ج - د )

أ - قارن حسب الجدول التالي :-

الوصاية	الانتداب	اوجه المقارنة
• ----- ----- ----- ----- -----	• ----- ----- ----- ----- -----	التعريف
• -----	• -----	مثال

ب - دال على صدق العبارات التالية :-

1- لهنري الملاح دور هام في حركة الكشوف الجغرافية .

- -----
- -----
- -----
- -----

2- للاستعمار آثار ايجابية .

- -----
- -----

3- لعبت التغيرات التي صاحبت عصر النهضة دورا كبيرا في تفجير الطاقات الفنية لدى الفنانين .

- -----
- -----
- -----

تابع السؤال الثالث :

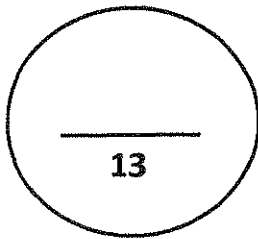
ج - " يعتبر مايكل فاراداي من أشهر العلماء الذين برزوا بعد قيام الثورة الصناعية "

1- اكتب الانجاز الذي قدمه .

2- ما النتيجة المترتبة على انجازه .

د- فند العبارة التالية :-

لم يهتم المكتشفون الاوروبيون بنشر المسيحية في المناطق المكتشفة .



السؤال الرابع : ( اختياري ) يتكون من ( أ - ب - ج )

أ - اكتب فقرة مترابطة من اربعة اسطر مستعينا بالكلمات الارشادية التالية :-

1- ( جاك كارتيهه - الملك فرانسيس الأول - سانت مالو - نهر سانت لورنس )

ب - لخص ما يلي :

1- مراحل نمو المدن الاوروبية .

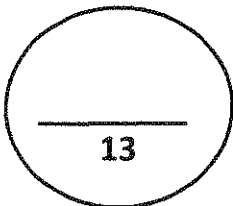
2- الجهود الاستكشافية لماجلان .

ج - نفذ المطلوب منك بين الاقواس :-

( النتائج الاقتصادية )

1- الثورة الصناعية .

2- قيام النظام الاستعماري الاوروبي . ( العوامل السكانية )



السؤال الخامس : ( اختياري ) يتكون من ( أ - ب - ج - د )

أ - عدد النتائج المترتبة عن كل مما يلي :-

1- حركة الاصلاح الديني في أوروبا .

- ..... •
- ..... •
- ..... •
- ..... •

2- رحلة فاسكو دي جاما .

- ..... •
- ..... •

ب - فرق حسب الجدول التالي :-

اسباب انهيار الامبراطورية الاسبانية	اسباب انهيار الامبراطورية البرتغالية
..... •	..... •
..... •	..... •
..... •	..... •

ج - ماذا يحدث لو لم :

تمول الملكة ايزابيلا مشروع كريستوفر كولومبس .

- .....
- .....

د - نفذ المطلوب منك بين الاقواس :-

1- الثورة الصناعية ( عوامل قيامها )

- ..... •
- ..... •

2- احتكار البرتغال تجارة الشرق ( العوامل )

- ..... •
- ..... •

3- الكشوف الجغرافية ( الدافع الاقتصادي )

- ..... •
- ..... •
- ..... •

انتهت الأسئلة...،،،،

## الاختبار المؤجل

دولة الكويت

وزارة التربية

امتحان الفترة الدراسية الثانية للصف الثاني عشر للنظام الموحد ٢٠٠٨ / ٢٠٠٩ م  
المجال الدراسي : تاريخ العالم الحديث والمعاصر - القسم الأدبي - الزمن : ساعتان وربع

السؤال الأول :- ( اجباري ) يتكون من ( أ ، ب ، ج ، د ، هـ )

( أ ) أكمل العبارات التالية بما يناسبها :-

- [.....]  
[.....]  
[.....]  
[.....]  
[.....]

- 1 :- عالم الفلك البولندي الذي أتى بنظرية توضح إن الشمس هي محور الكون يسمى
- 2 :- المخترع الألماني الذي اخترع أحرف الطباعة المعدنية يسمى
- 3 :- الطبقة التي تحالفت مع ملوك أوروبا في أواخر العصور الوسطى لتحطيم النظام الإقطاعي تسمى
- 4 :- العام الذي بدأت فيه الاكتشافات في المنطقة القطبية الشمالية هو
- 5 :- الدولة العربية التي استعمرتها فرنسا في عام 1830م تسمى

( ب ) اختر البديل المناسب من بين البدائل التي تلي كل عبارة :-

- 1 :- الشاعر الذي ألف الكوميديا الإلهية متأثراً بقصة المعراج ورسالة الغفران للشاعر العربي أبي العلاء المعري يسمى  
( أ ) أرازموس  
( ب ) بترارك  
( ج ) بوكاشيو  
( د ) دانتي

- 2 :- العام الذي سقطت فيه روما عاصمة الإمبراطورية الرومانية على يد القبائل الجرمانية هو  
( أ ) 476 م  
( ب ) 1453 م  
( ج ) 746 م  
( د ) 1534 م

- 3 :- الملاح الذي يعتبر أول من استخدم رأس الرجاء الصالح للوصول للهند يسمى  
( أ ) بارثلميو ديكار  
( ب ) اميريكو فسبوتشي  
( ج ) فاسكودي جاما  
( د ) هنري الملاح

- 4 - الرحلة المبينة على الخريطة المقابلة قام بها الملاح  
( أ ) هنري هدمسون  
( ب ) مارتن فروبشير  
( ج ) جون ديفيز  
( د ) جيمس كوك

- 5 :- الدولة الأوروبية الاستعمارية التي اكتشفت كندا وأسست مدينة كويبك تسمى  
( أ ) إنجلترا  
( ب ) اسبانيا  
( ج ) البرتغال  
( د ) فرنسا



( الصفحة الثانية )

تابع / تاريخ العالم الحديث والمعاصر - القسم الأدبي - للصف الثاني عشر ٢٠٠٨ / ٢٠٠٩ م

تابع السؤال الأول

( ج ) - اكتب المدلول التاريخي المناسب لكل عبارة فيما يلي :

- 1 [.....] عملية تغيير شامل في أدوات الإنتاج ووسائله وحجمه وتبدل في أساليب التمويل والتسويق
- 2 [.....] تحالفات تمت بين المدن الصغيرة في أوروبا لمنحها الاستقلال والقوة السياسية
- 3 [.....] هجرة مجموعة من السكان إلى دولة ضعيفة وتملك الأرض وطرد السكان الأصليين
- 4 [.....] السفن العملاقة التي تميزت بكبر حمولتها واستعمالها لعدد أكبر من الأشرعة

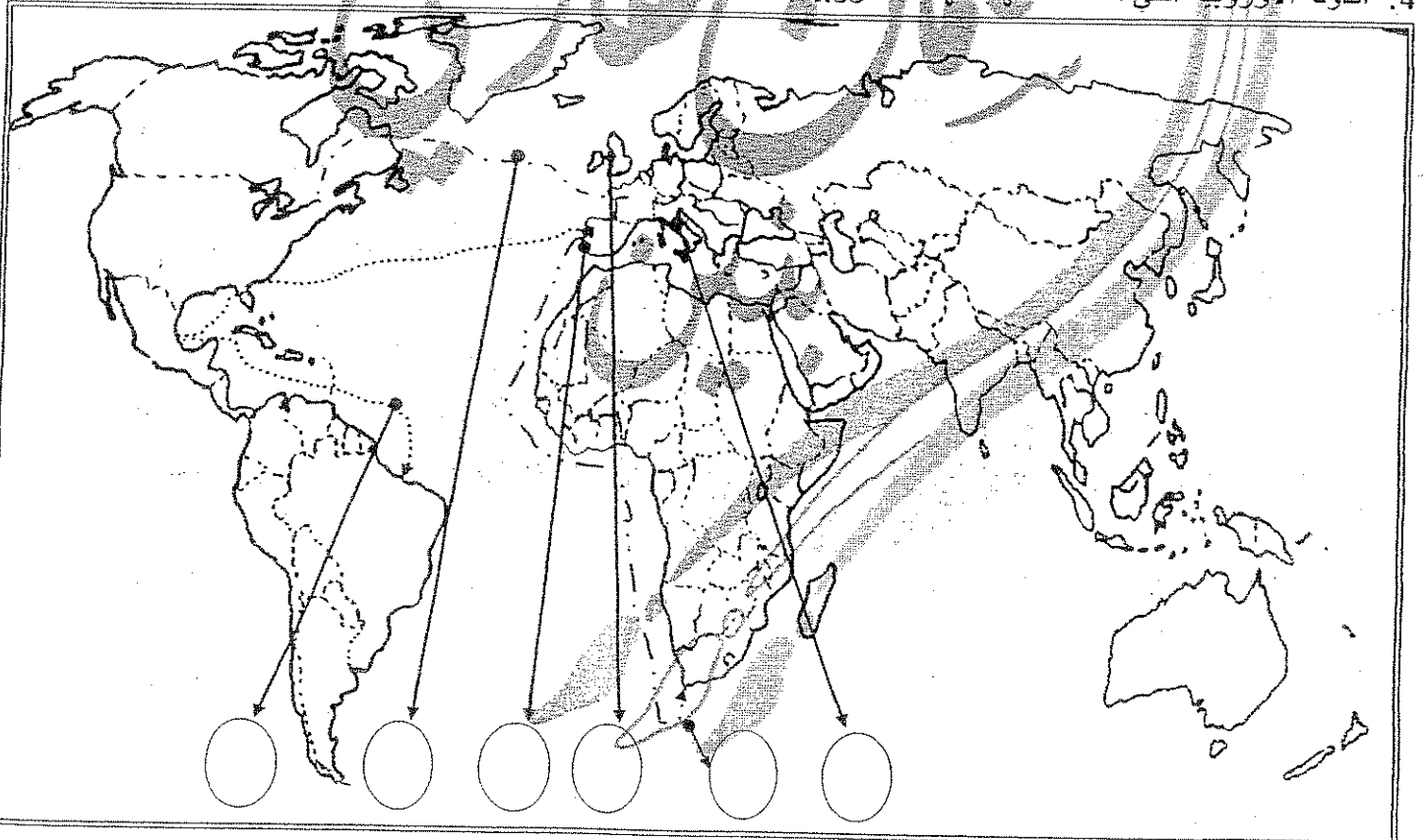
( د ) - صفف الأسماء التالية كل حسب المجال الذي برع فيه :

( هنري بيسمر ، توماس اديسون ، جون كى ، جورج ستيفنسن )

مجال الكهرباء	مجال النقل	مجال التعدين	صناعة المنسوجات

( هـ ) على خريطة العالم الموضحة أمامك ضع الرقم المناسب داخل الدائرة

1. الدولة الأوروبية التي انطلقت منها الثورة الصناعية
2. رحلة الملاح امريكو فسبوتشى
3. رحلة الملاح بارثلميودياز
4. الدولة الأوروبية التي انطلقت منها النهضة الأوروبية



اجب عن ثلاثة أسئلة من الأسئلة التالية

السؤال الثاني :- ( اختياري ) يتكون من ( أ ، ب ، ج ، د )

( أ ) غلط لما يلي :-

كانت إيطاليا أسبق الأقاليم الأوربية إلى النهضة

(ب) - اكتب عن : جهود المفكرين الأوربيين في إحياء الدراسات القديمة

(ج) أقرأ الفقرة التالية ثم اجب عن الأسئلة التي تليها

عاش في مدينة فلورنسا باطاليا وتولى العديد من المناصب السياسية لها وأصبح بمثابة سفير لحكوماتها في العديد من الدول الأوربية وعندما أقرت حكومة فلورنسا حرص على التفرغ لكتابة آرائه السياسية وكتب ذلك بكتاب عام 1513م شرح فيه أصول الحكم )

1- ما الشخصية التي ينطبق عليها هذا الوصف

2- ما أهم مؤلفاته

3- ما الآراء التي نادى بها ؟

(د) عرف لكل ما يلي

النهضة :-

التفويض الإلهي :-

التمييز العنصري :-

الكثوف الجفرافية :-

( الصفحة الرابعة )

تابع / تاريخ العالم الحديث والمعاصر - القسم الأدبي - للصف الثاني عشر ٢٠٠٨ / ٢٠٠٩ م

السؤال الثالث :- ( اختياري ) يتكون من ( أ ، ب ، ج ، د )

(أ) علل لما يلي :-

قيام حركة الإصلاح الديني

(ب) عدد النتائج التي ترتبت على الثورة الصناعية طبقاً للجدول

النتائج السياسية

النتائج الاقتصادية

مارتن فرويشير

جون كايوت

وجه المقارنة

الاكتشافات

الآثار الإيجابية ( للاستعمار الأوربي ) على المستعمرات

الآثار السلبية ( للاستعمار الأوربي ) على المستعمرات

وجه المقارنة

الآثار

(د) دلل على صحة العبارات التالية :-

يعتبر هنري الملاح صاحب الفضل الأول في الكشف البرتغالية



( الصفحة الخامسة )

تابع / تاريخ العالم الحديث والمعاصر - القسم الأدبي - للصف الثاني عشر ٢٠٠٨ / ٢٠٠٩ م

السؤال الرابع :- يتكون من ( أ ، ب ، ج ، د ، هـ )

( أ ) علل لما يلي :-

قيام حركة الكشوف الجغرافية

( ب ) فرق طبقا للجدول التالي

الانتداب	الوصايه

( ج ) دلل على صحة العبارات التالية :-

مرئو المدن الأوربية بعدة مراحل

( د ) برهن كيف أدت حركة الكشوف الجغرافية إلى تقدم العلوم التالية ؟

علم الجغرافيا :-

علم التاريخ :-

( هـ ) ما النتائج التي ترتبت على كل من :

1- سيادة نظام الإقطاع في أوروبا في العصور الوسطى

2- رحلة فاسكودي جاما

السؤال الخامس :- ( أ ، ب ، ج ، د )

(أ) اقرأ الفقرة التالية ثم أجب عن الأسئلة التي تليها

( ايطالي من مدينة جنوه ولد عام 1451م وعمل لحساب الملكية الإسبانية واهتم بالشئون البحرية منذ عام 1480م وفصد اسبانيا عام 1484م في عهد الملك فرديناند والملكة إيزابيلا )

1) ما الشخصية التي ينطبق عليها هذا الوصف

2) كم عدد الرحلات التي قام بها

3) ما النتائج التي تبرزت على رحلاته ؟

(ب) فرق طبقا للجدول التالي

عوامل انحصار الإمبراطورية الإسبانية

عوامل انحصار الإمبراطورية البرتغالية

(ج) علل قيام الثورة الصناعية في إنجلترا

(د) عدد أهم مطالب مارتن ليوثر لإصلاح أحوال الكنيسة الكاثوليكية

**نموذج الإجابة**

**السؤال الأول : يتكون من ( أ - ب - ج - د )**

**( أ ) اختر الإكمال المناسب من بين البدائل التي تلي كل عبارة بوضع خط تحتها : درجة لكل نقطة**

١- الترتيب الصحيح لرحلات الكشوف الجغرافية يمثله في الجدول التالي الحرف :- ص ( ٢٧ - ٣١ - ٣٧ - ٤٠ )

م	( أ )	( ب )	( ج )	( د )
١	الأسبانية	البرتغالية	الفرنسية	الإنجليزية
٢	البرتغالية	الأسبانية	الإنجليزية	الفرنسية
٣	الفرنسية	الإنجليزية	الأسبانية	البرتغالية
٤	الإنجليزية	الفرنسية	البرتغالية	الأسبانية


٢- عدد الحجج التي أطلقها مارتن لوثر ضد أوضاع الكنيسة بلغت :- ص ٢٠

( أ ) حجة ٦٥ ( ب ) حجة ٧٥ ( ج ) حجة ٨٥ ( د ) حجة ٩٥

٣- الدافع الاقتصادي لقيام دول أوروبا بحركة الكشوف الجغرافية هو الرغبة في :-  
( أ ) نشر المسيحية .  
( ب ) السيطرة ونشر مبادئها .

( ج ) زيادة المعلومات الجغرافية .  
( د ) تخطي الوساطة التجارية الإسلامية .

٤- الفترة الزمنية للعصور الوسطى يمثلها على الخط الزمني الحرف :- ص ١١



٥- الأرقام الدالة على أسماء ملوك ساهموا في حركة الكشوف الجغرافية البرتغال يمثلها في الجدول المقابل الحرف :-

م	الملك
١	جون الأول
٢	فرانسيس الأول
٣	جون الثاني
٤	مانويل الأول
٥	هنري السابع

ص ٢٧ ، ص ٢٨

أ- ( ٤ ، ٢ ، ١ )

ب- ( ٤ ، ٣ ، ١ )

ج- ( ٥ ، ٣ ، ٢ )

د- ( ٥ ، ٤ ، ٢ )

( ب ) أمامك في الجدول التالي مجموعة من الأحداث التاريخية ، أذكر اسم صاحب الإنجاز :

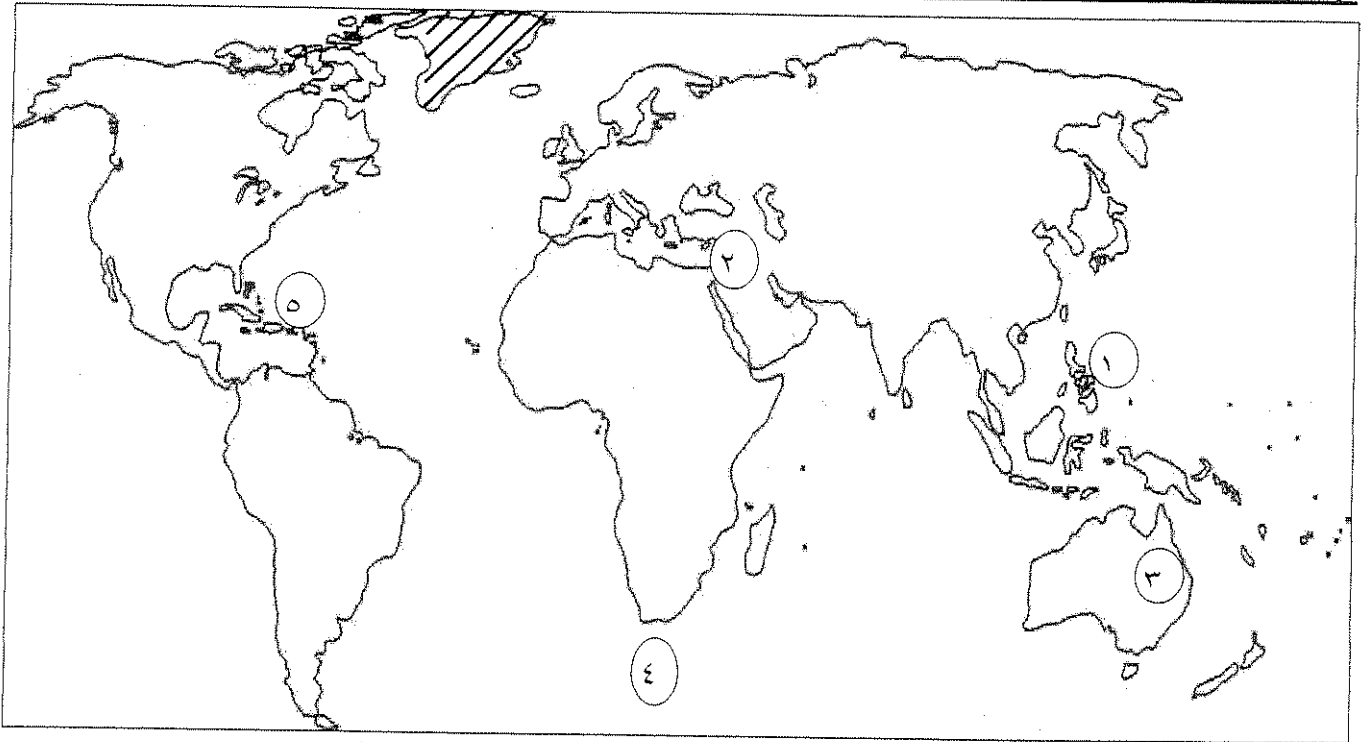
صاحب الإنجاز	الحدث التاريخي
حنا جوتنبرج	١- عالم ألماني اخترع أحرف الطباعة المعدنية . ص ١٥
دانتي	٢- شاعر إيطالي امتاز بالقدرة الفائقة على الوصف ومن أعماله الكوميديا الإلهية . ص ١٧
ليوناردو دافنشي	٣- رائد الحركة الفنية في مجال التصوير ومن أعماله لوحة الموناليزا . ص ١٩
الملكة إيزابيلا	٤- ملكة أسبانية مولت رحلة كريستوفر كولومبس إلى الهند . ص ٣١

( ج ) أمامك مجموعة من المناطق التي اكتشفها الأوروبيون ، صنفها حسب الجدول : نصف درجة لكل نقطة

( جزر الأنتيل - جزيرة نيوفونلند - جزر ماديرا - كندا - مضيق هدرسن )

جون كابوت	جاك كارتية	كريستوفر كولومبس	الأمير هنري الملاح
جزيرة نيوفونلند / ص ٣٧	كندا / ص ٤٠	جزر الأنتيل / ص ٣٢	جزر ماديرا / ص ٢٧


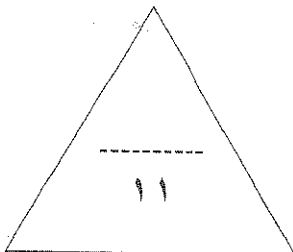
( د ) لاحظ خريطة العالم جيدا ثم استعن بها في الإجابة : نصف درجة لكل نقطة



- مضيق رأس الرجاء الصالح يمثلته الرقم ( ٤ ) ص ٢٨

- جزر الفلبين يمثلها الرقم ( ١ ) ص ٣٥

- منطقة وصل إليها الرحالة جيمس كوك يمثلها الرقم ( ٣ ) ص ٣٩

- ظل بالشكل  جزيرة جرينلاند . ص ٣٧

## السؤال الثاني : ويتكون من ( أ - ب )

### ( أ ) ما تفسيرك لما يلي :

١- تعتبر البرتغال أول الدول الأوروبية في مجال حركة الكشوف الجغرافية :- ص ٢٧ درجة / يكتفى بنقطتين  
\* توفر الأدوات اللازمة من علم وخبرة وسفن متطورة .  
\* استقرار الوضع السياسي في بلادهم .

٢- قيام حركة الإصلاح الديني :- ص ٢٠ درجتان / أربع نقاط

- \* جهود الحركة الإنسانية في التنبيه لأهمية إصلاح الكنيسة .
- \* الرغبة في تحرير حركة التقدم العلمي من قيود الكنيسة .
- \* اهتمام أوروبا بجوانب الحياة الدنيوية .
- \* ظهور كثير من المصلحين الذين نادوا بتخليص الكنيسة من مفسدها .

٣- سبقت إيطاليا الدول الأوروبية في حركة النهضة :- ص ١٢ درجتان / أربع نقاط

- \* لعبت دور الوسيط التجاري بين موانئ البحر المتوسط .
- \* وجود مركز البابوية فيها .
- \* حلقة اتصال بين الشرق والغرب .
- \* ماضي الإمبراطورية الرومانية العريقة .

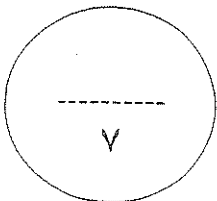
### ( ب ) دلل على صحة العبارات التالية :

١- تحقق للمدن الأوروبية النمو والازدهار في عصر النهضة :- ص ١٦ درجة / يكتفى بنقطتين

- \* تحالف المدن الصغيرة في شكل كومونات مما منحها الاستقلال والقوة السياسية .
- \* ظهور الطبقة الوسطى ( البرجوازية ) التي تحالفت مع الملوك لتحطيم النظام الإقطاعي مما أحدث تغييرا في ملامح المدن الأوروبية سياسيا واقتصاديا واجتماعيا .
- \* قيام ثورة ثقافية من خلال إنشاء المدارس في المدن بعيدا عن سيطرة الأديرة .

٢- واجه الرحالة كريستوفر كولومبس صعوبات في تمويل مشروع رحلاته :- ص ٣١ درجة / يكتفى بنقطتين

- \* عرض مشروعه على ملك البرتغال فرفضه بناء على توصية مستشاريه الذين رأوا أنه لا ضرورة للبحث عن طرق جديدة .
- \* قدم مشروعه إلى الملك فرديناند والملكة إيزابيلا ولكنها رفضت بدعوى أنها مشغولة بالحرب مع المسلمين في الأندلس .
- \* انتظر حتى انتهت الحرب وعاد ليجد طلب تمويل الملكة إيزابيلا لمشروعه وبالفعل وافقت له ومولته في عام ١٤٩٢ م .



السؤال الثالث : ويتكون من ( أ - ب - ج )

( أ ) ما النتائج التي تترتبت على ما يلي :

٢٩ ص درجة / يكتفى بنقطتين

١- رحلة فاسكو دي جاما :-

- \* حقق أمل البرتغال في كشف طريق مباشر في الوصول إلى الهند خارج ديار المسلمين وكانت أكبر ضربة اقتصادية وجهت للعالم الإسلامي .
- \* أصبحت البرتغال في مركز متقدم في منطقة المحيط الهندي التجارية .

٣٤ ص درجة / يكتفى بنقطتين

٢- رحلة أمريكو فسبوتشي :-

- \* اكتشاف ( ساحل المكسيك ) . \* جزر ( الساحل الشرقي للولايات المتحدة ) . \* ساحل أمريكا الجنوبية .
- \* وصل إلى البرازيل \* وأكد فيما بعد أنه وصل إلى عالم جديد عام ١٥٠٧م سمي ( أمريكا ) نسبة إلى أمريكو فسبوتشي.

( ب ) اكتب فيما يلي :

٢١ ص درجتان / يكتفى بنقطتين

١- الآراء السياسية للمفكر الإيطالي نيقولا ماكيافيللي :-

- \* تأييد نظام الحكم المطلق القائم على نظرية ( التفويض الإلهي ) التي تقول أن الملوك يمثلون الله على الأرض ، وأنهم يستمدون سلطتهم منه وليس من الشعوب التي يجب عليها الخضوع التام .
- \* إقرار مبدأ ( أن الغاية تبرر الوسيلة ) بمعنى أن من حق الحاكم اتخاذ كل وسيلة تحقق استقرار حكمه مهما كانت متعارضة مع الدين أو الأخلاق، وأن يعتمد على الحزم ليكون مرهوبا ، وأن يقيم المشروعات المفيدة للشعب ليكون محبوبا .

٢٦ ص درجة / يكتفى بنقطتين

٢- ساهمت الكشوف الجغرافية في تطور علوم الملاحة :-

- \* تقدم علم الفلك . \* استخدام البوصلة والإسطرلاب .
- \* التوصل إلى بناء سفن عملاقة سميت ( الكرافيل ) .



( ج ) لاحظ الصورة أمامك ثم أجب :-

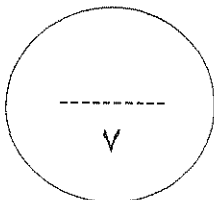
١- ما اسم صاحب الصورة ؟ ( مارتن لوثر ) ص ٢٠ نصف درجة

٢- اذكر ثلاث من الحجج التي قدمها ضد أوضاع الكنسية :- ص ٢٠ درجة ونصف

\* معارضة فكرة صكوك الغفران .

\* رفض احتكار البابا لتفسير الكتاب المقدس . \* عارض الحجج إلى روما .

\* المطالبة بالسماح بزواج رجال الدين . \* طلب إنقاص عدد الأديرة .



## السؤال الرابع : و يتكون من ( أ - ب )

### ( أ ) أقرأ الفقرة التالية ثم أجب عما يليها من أسئلة :

( مثلت حركة الكشوف الجغرافية التي قامت بها الدول الأوروبية اعتبارا من نهاية القرن الخامس عشر الميلادي حدثا بارزا في تاريخ العالم . فقد رفعت الدول المكتشفة العديد من الشعارات لتغطية هدفها الأساسي وهو الوصول إلى الهند . فبدأت دولة البرتغال تلك الحملات مستعينة باختراعهم لسفن الكرافيل وتلتها بقية الدول في محاولات من جهة الشرق وجهة الغرب ، عابرين في طريقهم البحار والقارات حتى حققوا أهدافهم واكتشفوا مناطق جديدة ساعدت على تطور خريطة العالم . )

١- ضع عنوانا مناسباً للفقرة السابقة :- ( أي إجابة مناسبة ) ص ٢٥ درجة

\* ( حركة الكشوف الجغرافية ) - ( رحلات الكشوف الجغرافية ) .

٢- عرف ما تحته خط :- الكرافيل : ص ٢٦ درجة

\* سفن عملاقة ضخمة تميزت بكبر حمولتها واستعمالها لعدد أكبر من الأشرعة وازدياد القدرة على المغامرة وسط المحيطات .

٣- ما دور الأمير هنري الملاح في مجال حركة الكشوف الجغرافية ؟ ص ٢٧ درجتان/ أربع نقاط

\* أنشأ مرصدا بحريا في الطرف الجنوبي لشاطئ البرتغال .

\* جلب علماء الرياضيات ورسامي الخرائط والفلكيين من إيطاليا وصقلية .

\* أنشأ مدرسة بحرية اهتمت بتطوير الأدوات التي استخدمت في عملية الكشوف الجغرافية كالاهتمام برسم الخرائط .

\* استعان بالمسلمين الذين كانت لهم دراية في المجال البحري .

٤- لاحظ الخريطة أمامك ثم أجب : ص ٢٧ درجة

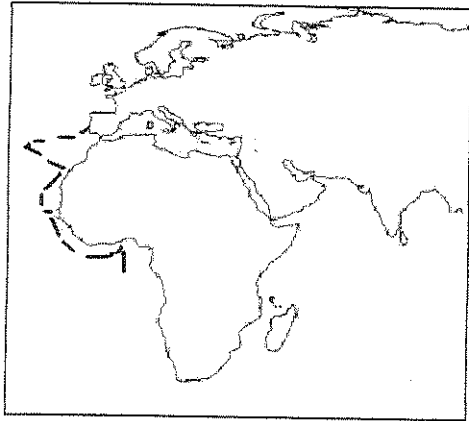
اذكر أسماء المناطق التي وصلت إليها بعثة الأمير هنري الملاح :-

\* الرأس الأخضر وساحل غانا .

\* اكتشاف جزر ( ماديرا ) وجزر ( أزور ) .

\* وصل بحارته إلى ( رأس بوجادور ) . يكتفى بنقطتين

\* ( ساحل جامبيا والسنغال ) .



( ب ) عرف كل مما يلي :

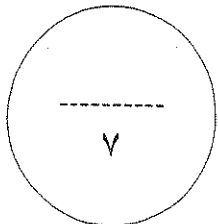
١- البرجوازية :- ص ١٦ درجة

\* طبقة ظهرت في عصر النهضة تحالفت مع الملوك لتحطيم النظام الإقطاعي .

٢- الإنسانيين :- ص ١٧ درجة

\* أدباء عبروا من خلال كتاباتهم الأدبية عن صورة الإنسان الذي يتصف بالإبداع

والثقة بالنفس والمحب للحياة بجميع جوانبها .



اختبار الفترة الأولىالصف الثاني عشر أدبي العام الدراسي 2014 / 2015السؤال الاول : يتكون من ( أ - ب - ج - د ) لكل سؤال 5أ) اكتب المدلول التاريخي المناسب لكل عبارة مما يأتي :

- 1- ( النظام الاقطاعي ) نظام ساد في العصور الوسطى في اوروبا وادى الى تقسيم المجتمع الاوروبي الى مجتمع طبقي ص 11
- 2- ( مضيق ماجلان ) ممر مائي يقع عند الطرف الجنوبي لامريكا الجنوبية ويفصل القاره عن جزيرة ارض النار ص 35
- 3- ( الكرافيل ) سفن عملاقة تتميز بكبر حمولتها واستعمالها لعدد كبير من الاشرعة وقدرة على المغامرة ص 26

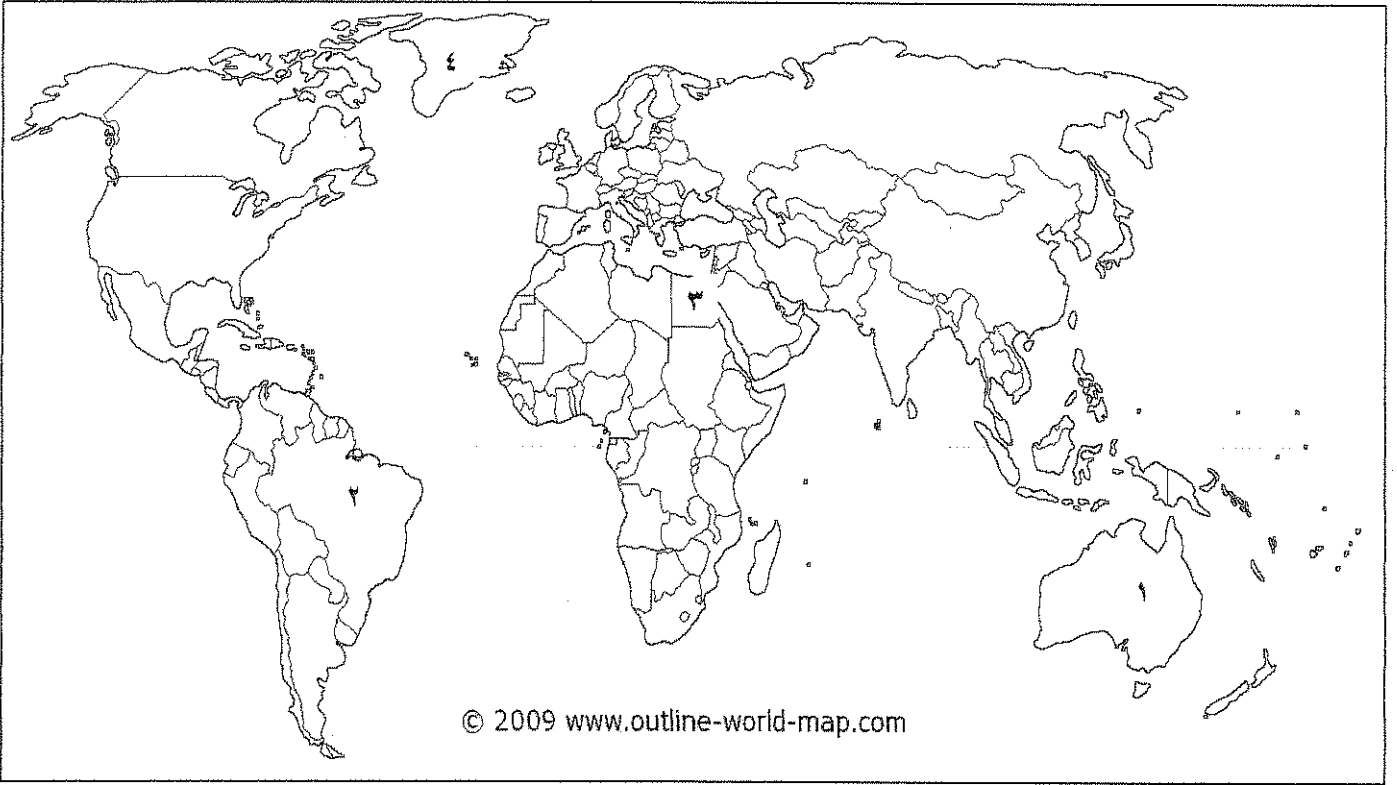
ب) - أكمل العبارات التالية بما يناسبها :

- 1- الطبقة التي تحالف مع الملوك لتحطيم النظام الاقطاعي في اوروبا واخر العصور الوسطى اسمها البرجوازية ص 16
- 2- البحار الايطالي الذي اكتشف جزر الانتيل الكبرى والصغرى واطلق عليها سان سلفادور اسمه كريستوفر كولومبس ص 32
- 3- الكنيسة الالمانية التي علق عليها مارتن لوثر حججه عام 1517 م تسمى وتنبرج ص 20

ج) اختر البديل المناسب من بين البدائل التي تلي كل عبارة1- اول من استخدم طريق رأس الرجاء الصالح للوصول الى الهند ص 28أ - جون ديفيز      ب - بارثلميو دياز      ج - فاسكو دي جاما      د - ماجلان2- فتحت القسطنطينية عاصمة الامبراطورية البيزنطية على العثمانيون عام 12أ - 1476 م      ب - 1453م      ج - 1615      د - 16203- الميناء الذي خرج منه البحار جون كابوت برحلته عام 1496م اسمه ص 37أ - بريستول      ب - سان لوكار      ج - لشبونة      د - سبتة



د- اكتب مدلولات ارقام الخريطة في مكان الاجابة المخصص :-



١- الدولة التي اكتشفها المكتشف الايطالى امريكو فسبوتشى تحمل الرقم ( ٢ ) ص ٣٤

٢- احد مراكز الحضارة العربية الاسلامية التي ساهمت في قيام النهضة الاوربية يحمل الرقم ( ٣ ) ص ١٤

السؤال الثاني: يتكون من ( أ - ب - ج )

أ) ددل على صحة العبارات التالية :

1. الدافع الاقصادى كان من اهم دوافع قيام حركة الكشوف الجغرافيه ص 25

درجة ونصف يكتفى بنقطتين

(1) - حاجة الأوروبيون الى مزيد من الذهب والفضة

(2) - البحث عن التوابل ومحاولة تخطى الوساطة التجارية الإسلامية

(3) - الحروب التي عانت منها أوربا فى القرنين 15 و 16 مما ادى الى حدوث أزمة اقتصادية

(4) - الرغبة فى العثور على اراضى جديدة لإيواء من ضاقت بهم بلادهم

درجة ونصف يكتفى بنقطتين

2 - بذل المفكرون الأوروبيون جهودا كبيرة فى احياء الدراسات اليونانية القديمة ص 15

(1) - تبادل العلماء الزيارات العلمية (2) - تنافس الأمراء والأثرياء فى إنشاء المكتبات

(3) - ظهور الأكاديميات العلمية (4) - اختراع احرف الطباعة

ب) عرف ما يأتى

درجة

1- الكشوف الجغرافيه ص 25

حركة قام بها الأوروبيون فى القرنين 15 و 16 للتعرف على مناطق جديدة لم تكن معروفة لهم من قبل

درجة

2- الكومونات

تحالف المدن الصغيرة فى اواخر العصور الوسطى مما منحها الاستقلال والقوه السياسية ص 16

ج) اقرأ الفقرة التالية ثم اجب عن الاسئلة التى تليها 31

" عرض كريستوفر كولومبس مشروعه على ملكة اسبانيا فرفضته فى البداية ثم عادت ووافقت عليه ومولته عام 1492م

" فى ضوء هذه العبارة اجب عن الاسئلة الاتيه

1- ما اسم ملكة اسبانيا المقصودة بالعبارة

درجة

الملكة ايزابيلا

بم تفسر رفض الملكة مشروع كولومبس فى البداية

درجة

\*- لانها كانت مشغولة بالحرب مع المسلمين فى الاندلس

السؤال الثالث: يتكون من ( أ - ب - ج )

( أ ) - أكتب فيما يلي

درجة لكل نقطة نص

( 1 ) - أهم الآراء التي تضمنها كتاب الامير لمكياقللي ص 21

تأييد نظام الحكم المطلق القائم على نظرية التفويض الالهي

اقرار مبدأ ( ان الغاية تبرر الوسيلة )

درجة لكل نقطة نص يكتفى بنقطتين

2 - عوامل قيام النهضة الاوروبية ص 14-15-16

\* - نمو المدن وازدهارها

\* - احياء الدراسات القديمة

\* - الحضارة العربية الاسلامية

درجة لكل نقطة نص

3- نمو الروح القومية واثرها في قيام حركة الكشوف الجغرافيه ص 26

الرغبة في السيطرة على بقاع جديدة ترى في شعوبها الضعف والتخلف

رغبتها في التوسع لتكوين امبراطوريات تنشر فيها مبادئها ونفوذها

( ب ) - ما النتائج التي ترتبت على كل مما يأتي

( 1 ) - رحلات جيمس كوك الثلاث التي انجزها خلال القرن الثامن عشر ص 39

درجة لكل نقطة نص يكتفى بنقطتين

( 1 ) - وصل الى نيوزيلندا والساحل الشرقي لقارة استراليا

( 2 ) - اتجه الى اقصى الجنوب مخترقا مياه القطب الجنوبي المتجمدة

( 3 ) - ابحر ناحية الساحل الشمالي الغربي لامريكا الشماليه حتى وصل جزر هاواي

( 4 ) - ابحر بمحاذاة ساحل كندا الغربي حتى وصل الى المحيط المتجمد الشمالي

درجة لكل نقطة نص

( 2 ) - اختراع حنا جوتنبرج لأحرف الطباعة المعدنية ص 15

( 2 ) - نشر جهود العلماء في مختلف المجالات

( 1 ) - سهولة طباعة الكتب وتداولها

ج - اكتب فقرة مترابطة مستعينا بالكلمات التالية : ص 40

( جاك كارتيه - الملك فرانسيس الأول - سانت مالو - نهر سانت لورنس )

قام جاك كارتيه بأربع رحلات في عهد الملك فرانسيس الأول حيث اتجه غربا نحو العالم الجديد فقد أبحر كارتيه من ميناء

سانت مالو عبر المحيط الاطلسي نحو أمريكا الشماليه فاكتشف كندا كما اكتشف نهر سانت لورنس وجزيرة اورليانز

ووصل الى ما وراء نهر سانت لورنس وهي منطقة تسمى حاليا مونتريال وأسس مدينة كويبيك وكانت مبادرة لإنشاء

امبراطورية فرنسية في أمريكا

درجتان

السؤال الرابع: يتكون من ( أ - ب - ج )

( أ ) - بم تفسر

درجة لكل نقطة نصف يكتفى بنقطتين

1- قيام حركة الإصلاح الديني في أوروبا على يد مارتن لوثر ص 20

( 1 ) - اهتمام أوروبا بالحياة الدنيوية ( 2 ) - الرغبة في تحرير التقدم العلمي من قيود الكنيسة

( 3 ) - ظهور كثير من المصلحين الذين نادوا بتخليص الكنيسة من مفسدها

( 4 ) - جهود الحركة الإنسانية في التنبيه لأهمية إصلاح الكنيسة

درجة لكل نقطة نص

2- اسبقية البرتغال في مجال حركة الكشوف الجغرافية ص 27

( 1 ) - توفر الأدوات اللازمة ( 2 ) - استقرار الوضع في بلادهم

درجة

3- للحضارة العربية الإسلامية دور عظيم في قيام النهضة الأوروبية

ساهمت الحضارة العربية الإسلامية بدور عظيم في قيام النهضة الأوروبية حيث أمدت أوروبا بأعظم الانجازات العلمية والفنية والأدبية من خلال عدة مراكز حضارية

ب - فند العبارات الآتية

درجة واحدة يكتفى بنقطتين

1- لم يطرأ أي تغيير على الحركة الفنية في عصر النهضة ص 16

\* حرص الفنانون على محاكاة الفنون القديمة في الروح والتعبير مع التجديد والابتكار والإبداع

\* - أصبح الإنسان المحور الرئيسي الذي تدور حوله الأعمال الفنية

\* - وجد الفنانون التشجيع و الدعم الفني والمعنوي لإنتاج أعمالهم الفنية.

\* - حولوا المدن الأوروبية إلى متاحف فنية زاخرة بثنى أنواع الانتاج الفني

درجة واحدة يكتفى بنقطتين

1- لم تبدى الحركة الأدبية في عصر النهضة اهتماماً بالإنسان ص 17

\* - انطلقت النهضة الأدبية من خلال الاهتمام بدراسة الإنسان باعتباره محور الحياة .

\* - - سعت لتخليصه من القيود التي كبلت فكره وحطت من مكانته خلال العصور الوسطى

\* - وظهر مجموعة من الأدباء ( الإنسانيين ) عبروا عن صورة الإنسان الذي يتصف بالإبداع والثقة بالنفس والمحبة للحياة

( ج ) - فرق بين كل من :

أهم المناطق التي اكتشفها مارتن فروبشير ص 37

أهم المناطق التي اكتشفها هنري هدسون ص 38

جزيرة شتلند

اكتشف خليج هدسون - خليج جيمس

جزيرة جرينلاند

نهر هدسون - مدينة نيويورك

درجة يكتفى بنقطتين

مضيق هدسون

درجة يكتفى بنقطتين



وزارة التربية  
منطقة الجبراء التعليمية  
التوجيه الفني للاجتماعيات

امتحان الفترة الدراسية الاولى  
الصف الثاني عشر الادبي  
تاريخ العالم الحديث والمعاصر

الفصل الدراسي :- الاول

العام الدراسي :- ٢٠١٤/٢٠١٥م

عدد الصفحات :- ( ٥ )

### نموذج الاجابه

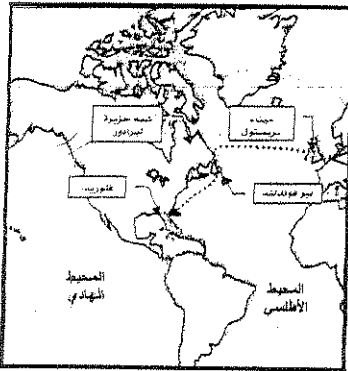
اجب عن جميع الاسئلة التالية

السؤال الأول يتكون من ( أ ، ب ، ج ، د ، هـ )

( ٤ × نصف = ٢ )

[[ أ ]] أكمل العبارات التالية بما يناسبها :

- ١- العام الميلادي الذي سقطت فيه القسطنطينية على يد العثمانيين هو  
٢-٢- القبائل التي اسقطت مدينة روما عام ٤٧٦ م تسمى  
٣- الشاعر العربي الذي تأثر به دانتي يسمى  
٤- المكتشف الذي قام بالرحلة التي تمثلها الخريطة التي أمامك يسمى
- ص ١٢ ( ١٤٥٣ م )  
ص ١١ ( الجرمانية )  
ص ١٧ ( أبو العلاء المعري )  
ص ٣٧ ( جون كابوت )



( ٣ × ١ = ٣ )

[[ ب ]] أكتب المفهوم الدال عليه التعريفات التالية

- ١- ( الموناليزا الجيوكنده ) لوحة رسمها ليوناردو دافنشي وموجوده حاليا في متحف اللوفر بباريس ص ١٩  
٢- ( الكومونات ) تحالفات تمت بين المدن الصغيرة في اوريا لمنحها الاستقلال والقوة السياسية ص ١٦  
٣- ( وتبرج ) كنيسة علق مارتن لوثر على بابها احتجاجه ص ٢٠

( ٤ × نصف = ٢ )

[[ ج ]] اختر من المجموعة ( أ ) ما يناسبها من المجموعة ( ب ) بوضع الرقم المناسب :

الرقم	المجموعة (أ)	الرقم	المجموعة (ب)
١-	من رواد الحركة الفنية في مجال النحت	٣	جاك كارتية ص (٤٠)
٢-	من رواد النهضة الادبية شاعر ايطالي	٤	فيليو برونيلسكي ص (١٨)
٣-	المستكشف الفرنسي الذي أسس مدينة كويبيك	٢	بوكاشيو ص (١٧)
٤-	من رواد الحركة الفنية في مجال العمارة		رفائيل
		١	مايكل انجلو ص (١٨)

## نموذج الاجابه

تابع / امتحان تاريخ العالم الحديث و المعاصر الفترة الدراسية الاولى العام الدراسي :- ٢٠١٤/٢٠١٥ م

[[ د ]] اختر البديل المناسب من بين البدائل التي تلي كل عبارة فيما يلي : (٤ X نصف = ٢)

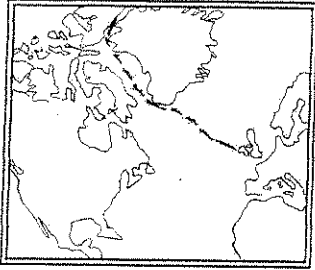
ص ٢٧

١:- مدينة مغربية بدأ الأمير هنري الملاح رحلته اليها تسمى ( الرأس الأخضر - طنجة - لشبونة - سبتة )

ص ٣٥

٢:- الجزيرة التي يفصل مضيق ماجلان بينها وبين امريكا الجنوبية تسمى ( نيوفوندلاند - ارض النار - شتلند - سان سلفادور )

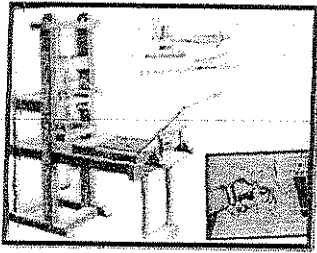
ص ٣٨



٣:- الرحلة المبينة على الخريطة المقابلة قام بها الملاح : ( جاك كارتية - جيمس كوك - جون ديفيز - مارتن فروبشير )

ص ١٥:

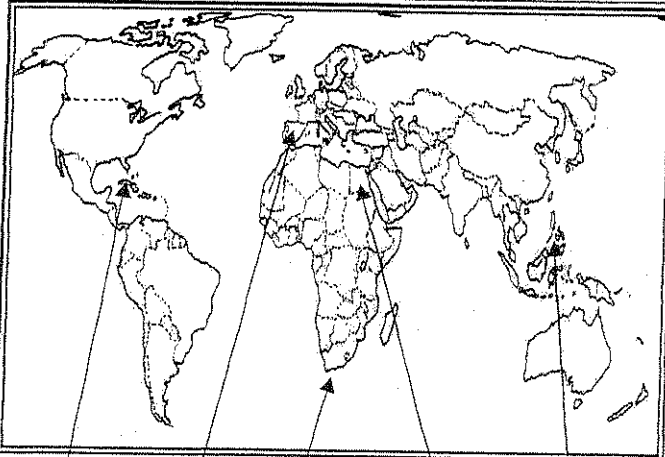
٤:- صاحب الفضل في الاتجاز الذي تمثله الصورة المقابلة



( رفايل - دونالدلو - ليوناردو دافنشي - حنا جوتنبرج )

(٤ X ٥ = ٢)

[[ هـ ]] ضع رقم كل عبارة مما يلي في المربع المناسب لها على خريطة العالم



١:- منطقة اطلق عليها اسم رأس العواصف ص ٢٨

٢:- منطقة يعتبر كولمبس اول من وصل اليها ص ٣٢

٣:- جزر قتل فيها الملاح ماجلان في صراعه مع السكان

الاصليين ص ٣٥

٤:- دولة يرجع اليها الفضل في اكتشاف

جزر الهند الغربية ص ٣١

## نموذج الاجابه

تابع / امتحان تاريخ العالم الحديث و المعاصر الفترة الدراسية الاولى العام الدراسي :- ٢٠١٤/٢٠١٥ م

السؤال الثاني ويتكون من ( أ ، ب ، ج )

[[ أ ]] علل لما يأتي :-

( نقطتان درجة ) ص ١٢

١- اسبقية إيطاليا الى النهضة الأوروبية

- لعبت دور الوسيط التجاري بين موانئ البحر المتوسط مما جعلها تحقق مكاسب اقتصادية
- وجود مركز البابوية مما شجع الادباء والفنانين لتحقيق اهداف الكنيسة
- حلقة اتصال بين الشرق والغرب فاستفادت من الحضارات المجاورة
- ماضي الامبروطورية الرومانية العريقة والرغبة في استعادة امجادها القديمة

( نقطتان درجة ) ص ٢٠

٢- قيام حركة الإصلاح الديني في أوروبا

- جهود الإنسانيين في التنبيه لأهمية إصلاح الكنيسة
- الرغبة في تحرير التقدم العلمي من قيود الكنيسة
- اهتمام أوروبا بجوانب الحياة الدنيوية
- ظهور كثير من المصلحين نادوا بتخليص الكنيسة من مفسادها

[[ ب ]] اقرأ الفقرة التالية ثم اجب عن الاسئلة التي تليها

( بدأت العصور الوسطى منذ سقوط روما ، حيث عانت أوروبا خلال هذه الفترة من هيمنة الكنيسة الكاثوليكية روحياً وثقافياً على أوروبا ، إلا أنه ونتيجة لتوافر مجموعة من العوامل كانتقال الحضارة العربية الإسلامية وقيام المفكرون الأوروبيون باحياء الدراسات اليونانية القديمة فقد شهدت أوروبا عصر النهضة والذي أدى لزيادة المعارف الجغرافية وتقدم الملاحة ، و نمو الروح القومية مما مهد لقيام حركة الكشوف الجغرافية )

( درجة ) ص ٢٥

١- عرف ما تحته خط

- جهود قام بها الأوروبيين بهدف التعرف على أراضي جديدة خلال القرنين الخامس عشر والسادس عشر الميلادي لم تكن معروفة لديهم من قبل وساعدت على تطور خريطة العالم

٢- استخلص من الفقرة ما يلي

( نقطتان درجة ) ص ١٤ ، ١٥

أ- عاملين من عوامل قيام النهضة الأوروبية

- انتقال الحضارة العربية الإسلامية
- قيام المفكرون الأوروبيون باحياء الدراسات اليونانية القديمة

( نقطتان درجة ) ص ٢٥

ب- سببين دفعوا أوروبا للقيام بحركة الكشوف الجغرافية

- زياده المعارف الجغرافية وتقدم الملاحة
- نمو الروح القومية

درجتان ص ٣١

[[ ج ]] فرق بين كلا مما يلي :

سبب رفض ملكة أسبانيا لمشروع كولومبس	سبب رفض ملك البرتغال لمشروع كولومبس
رفضت بدعوى أنها مشغولة بالحرب مع المسلمين في الأندلس	بناء على توصية مستشاريه الذين رأوا أنه لا ضرورة للبحث عن طريق جديد

## نموذج الإجابة

تابع / امتحان تاريخ العالم الحديث و المعاصر الفترة الدراسية الاولى العام الدراسي :- ٢٠١٤/٢٠١٥م

السؤال الثالث و يتكون من ( أ ، ب ، ج )

[[ أ ]] مادور كلا من

( نقطتان درجة ) ص ٢٧

١:- هنري الملاح في حركة الكشوف الجغرافية

- إنشاء مدرسة للبحرية
- إنشاء مرصدا بحريا
- تطوير الأدوات المستخدمة في الكشوف الجغرافية .
- جلب علماء الرياضيات والفلك ورسم الخرائط .
- الأهتمام برسم الخرائط .
- الاستعانة بالمسلمين في المجال البحري .
- ارسال رحلات إلى الساحل الغربي لأفريقيا وصلت الى الرأس الاخضر وتوقفت عند ساحل غانا و
- تمكن البرتغاليون بعهدده اكتشاف جزر ماديرا وأزور وعبر بحارته رأس بوجادور وساحل جامبيا والسنغال

( نقطتان درجة ) ص ١٥

٢:- المفكرين الاوربيين في احياء الدراسات اليونانية القديمة

- تبادل علماء القسطنطينية وايطاليا الزيارات العلمية بحثا عن العلوم والفنون الاغريقية والايطالية
- تنافس الامراء والاثرياء في انشاء المكتبات مما ادى الى ازدهار مكتبات البندقية و فلورنسا والفاتيكان
- ظهور الاكاديميات العلمية في ايطاليا مما ساعد على اثراء الحركة العلمية
- جهود اسرة ال مديتشي في فلورنسا ، و ال سوفرزا في ميلانو في رعاية الحركة الادبية والفنية
- اختراع احرف الطباعة المعدنية على يد الالمانى (حنا جوتنبرج) ادى الى سهولة طباعة الكتب وتداولها

( نقطتان درجة ) ص ٢٠

[[ ب ]] ما الآثار المترتبة على كل مما يلي :

١:- قيام حركة الاصلاح الدينى في اوروبا

- قيام صراع كبير بين اتباع مارتن لوثر والكنيسة
- قيام ثورات وحروب
- نهبت الى اهمية تحرير الكنيسة من مفسدها والتخلص من هيمنتها المطلقة على حياة الناس في اوروبا

( نقطتان درجة ) ص ٣٥

٢:- رحلة ماجلان

- طاف حول الشاطئ الشرقى لقارة امريكا الجنوبية
- اكتشاف مضيق ماجلان
- عبر مسطح مائى واطلق عليه المحيط الهادي
- وصل إلى جزر الفلبين
- اكتشف جزيرة ساما

( درجة ) ص ١٢

[[ ج ]] عرف المفاهيم والمصطلحات التالية

١:- عصر النهضة

- الفترة من القرن الثالث عشر الميلادي الى السادس عشر الميلادي وهي مرحلة انتقال من العصور الوسطى الى العصور الحديثة

( درجة ) ص ٢٦

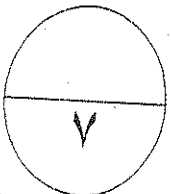
٢:- الكرافيل

- سفن تميزت بكبر حمولتها واستعمالها لعدد اكبر من الأشرعة وازدياد القدرة على المغامرة وسط المحيطات .

( درجة ) ص ٢١

٣:- التفويض الإلهي

- نظرية تقول أن الملوك يمثلون الله على الأرض وانهم يستمدون سلطتهم منه





## نموذج الاجابه

تابع / امتحان تاريخ العالم الحديث و المعاصر الفترة الدراسية الاولى العام الدراسي :- ٢٠١٤/٢٠١٥ م

### السؤال الرابع ويتكون من ( أ ، ب ، ج )

[[ أ ]] فند العبارات التالية

١-: كان المجتمع الأوربي في مرحلة العصور الوسطى مجتمعا متساويا في الحقوق والواجبات ص ١١ (نقطتان درجة)

- انقسم المجتمع الاوربي الى مجتمع طبقي بسبب ظهور النظام الاقطاعي
- طبقة قمة المجتمع وتضم رجال الدين والنبلاء والإقطاعيين والفرسان ولها جميع الحقوق (تولي المناصب الهامة ، الإعفاء من الضرائب .)
- طبقة عبيد الارض التي حرمت من الحقوق وتحمل الأعباء والواجبات وتدفع الضرائب .

٢-: يدعي البعض انه لم يكن للحضارة العربية الإسلامية أي دور في قيام النهضة الأوروبية" ص ١٤ (نقطتان درجة)

- ساهمت الحضارة العربية الإسلامية بدور عظيم في قيام النهضة الأوروبية حيث أمدت أوروبا بأعظم الإنجازات العلمية والفنية والأدبية
- وقد انعكس ذلك بصورة كبيرة على كافة مظاهر النهضة الأوروبية من خلال مراكز الحضارة العربية الإسلامية صقلية والأندلس والشام ومصر

[[ ب ]] فرق طبقا للجدول التالي :-

الرحالة	مارتن فروبشير نقطتان درجة ص ٣٧	فاسكو دي جاما نقطتان درجة ص ٢٨
الاكتشافات	<ul style="list-style-type: none"><li>وصل إلى جزيرة شتلند</li><li>وصل إلى جزيرة جرينلند</li><li>اكتشف مضيق هدرسن</li></ul>	<ul style="list-style-type: none"><li>وصل إلى كلكتا على الساحل الغربي للهند المسمى بساحل ملبار .</li><li>أول من استخدم رأس الرجاء الصالح.</li><li>موزمبيق، ممبسا، ماليندي</li></ul>

[[ ج ]] :- أقرأ الفقرة التالية ثم اجب عن الاسئلة التي تليها

(( لم تكن الحياة السياسية بمعزل عن التطورات الادبية والفنية والدينية خلال عصر النهضة حيث انتشرت كثير من الآراء السياسية على ايدي بعض اعلام النهضة الأوروبية ساهمت في رسم ملامح الحياة السياسية لعصر النهضة ومن اكثر هؤلاء شهرة نيقولا ماكيافيلي ))

١-: اذكر اسم الكتاب الذي الفه نيقولا ماكيافيلي ونشر فيه آرائه السياسية ؟ ص ٢١ ( درجة )

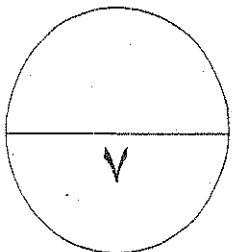
• كتاب الأمير

٢-: عدد الآراء التي نادي بها ؟ ص ٢١ (نقطتان درجة)

- تأييد نظام الحكم المطلق القائم على نظرية التفويض الإلهي .
- أقرار مبدأ (الغاية تبرر الوسيلة) بمعنى ان من حق الحاكم اتخاذ كل وسيلة تحقق استقرار حكمه

٣-: مارأيك بمبدأ (الغاية تبرر الوسيلة) ص ٢١ ( درجة )

• أي اجابة يراها المصحح





السؤال الثاني :- يتكون من ( أ - ب )

( أ ) دال على صحة العبارات التالية : ( ٢ = ٢ × ١ )

١- حققت الكشوف الجغرافية في عهد الملك جون الثاني نصراً عظيماً . ص ٢٨  
الدليل : الوصول إلى الساحل الجنوبي لقارة أفريقيا عام ١٤٨٨م وتسميته رأس الرجاء الصالح .

٢- مبادرة فرنسا في إنشاء إمبراطورية فرنسية في أمريكا الشمالية . ص ٤٠  
الدليل : - الوصول إلى ( ما وراء نهر سانت لورانس ) مونتريال .  
- تأسيس مدينة كويبيك .

( ب ) علل لما يلي : ( ٥ = ٥ × ١ )

١- تفجر الطاقات الفنية لدى الفنانين في عصر النهضة الأوروبية . ص ١٨  
- حرص الفنانون على محاكاة الفنون القديمة في الروح والتعبير مع التجديد والابتكار والإبداع .  
- أصبح الإنسان المحور الرئيسي الذي تدور حوله الأعمال الفنية لتعبر عن قدراته وتقدمه في صورة جميلة مشرقة .  
- التشجيع والدعم الفني والمعنوي للفنانين .

٢- نمو المدن في عصر النهضة الأوروبية . ص ١٦  
- تحالف المدن الصغيرة في شكل كومونات مما منحها الاستقلال والقوة السياسية .  
- ظهور الطبقة الوسطى ( البرجوازية ) التي تحالفت مع الملوك لتحطيم النظام الإقطاعي .  
- قيام الثورة الثقافية من خلال إنشاء المدارس في المدن بعيداً عن سيطرة الأديرة .

٣- قيام حركة الإصلاح الديني . ص ٢٠  
- جهود الحركة الإنسانية في التنبيه لأهمية الإصلاح الديني .  
- الرغبة في تحرير حركة التقدم العلمي من قيود الكنيسة .  
- اهتمام أوروبا بجوانب الحياة الدنيوية .  
- ظهور كثير من المصلحين الذين نادوا بتخليص الكنيسة من مفاسدها .

٤- تسمية الحكومة الإسبانية الفلبين بهذا الاسم . ص ٣٦  
- تكريماً لفيليب الثاني ابن شارل الخامس الذي اعتلى العرش .

٥- أسبقية البرتغال في حركة الكشوف الجغرافية . ص ٢٧  
- توفر الأدوات اللازمة من علم وخبرة وسفن متطورة .  
- استقرار الوضع في بلادهم .

**السؤال الثالث :- يتكون من ( أ - ب - ج )**

**( أ ) دون رأيك بمقولة نيقولا ماركيافيللي السياسية " الغاية تبرر الوسيلة " . ص ٢١ ( درجتين )**

كل ما هو ضد آراء المفكر السياسي ماركيافيللي ليس من حق الملك استخدام أي وسيلة سلبية لتحقيق استقرار حكمه حيث يتحقق ذلك من خلال تأييده للحكم الديمقراطي ( المشاركة الشعبية ) بأساليب راقية عادلة دون تسلط أو ما يتعارض مع الدين والأخلاق فالعدل والمصلحة العامة هما السبيل لحب الشعب للملك وليس القسوة والحزم .  
( أو ما يراه المعلم مناسب للموضوع ومنطقي )

**( ب ) نفذ المطلوب بين الأقواس : ( ٥ × ٦ = ٣ )**

**( الحجج )**

ص ٢٠

١- المصلح الديني مارتن لوثر .

- معارضة فكرة صكوك الغفران / رفض احتكار البابا لتفسير الكتاب المقدس / طلب إنقاص عدد الأديرة /  
عارض الحجج إلى روما المطالبة بالسماح بزواج رجال الدين .

**( دوره في حركة الكشوف الجغرافية )**

ص ٢٧

٢- الأمير هنري بن حنا .

- أنشأ مدرسة بحرية التي اهتمت بتطوير الأدوات التي استخدمت في عملية الكشوف الجغرافية كالاتمام برسم الخرائط .  
- أنشأ مرصداً بحرياً / جلب علماء الرياضيات ورسامي الخرائط والفلكيين من إيطاليا وصقلية .  
- استعان بالمسلمين الذين كانت لديهم دراية في المجال البحري .  
- حاول الوصول إلى الحبشة والهند فأرسل البعث نحو الجنوب في المحيط الأطلسي بمحاذاة الساحل الغربي لقارة أفريقيا فوصل إلى الرأس الأخضر وتوقف عند ساحا غانا .  
- تمكن البرتغاليون في عهده من اكتشاف جزر ماديرا وجزر أزور وعبر بحارته إلى رأس بوجادور حتى وصلت رحلاتهم إلى ساحل جامبيا والسنغال .

**( نتائج الرحلة )**

ص ٢٩

٣- فاسكو دي جاما .

- حقق أمل البرتغال في كشف طريق مباشر للوصول إلى الهند خارج ديار المسلمين حيث كانت أكبر ضربة اقتصادية وجهت للعالم الإسلامي .

- أصبحت البرتغال في مركز متقدم في منطقة المحيط الهندي التجارية .

**( ١ × ٢ = ٢ )**

**( ج ) فرق بين المصطلحين التاليين :**

العصور الوسطى ص ١١	النهضة الأوروبية ص ١٢
الفترة التي امتدت من سقوط روما عام ٤٧٦م إلى سقوط القسطنطينية عام ١٤٥٣م وتميزت بهيمنة الكنيسة الكاثوليكية روحياً وثقافياً وسيطرة النظام الإقطاعي على المجتمع الأوروبي ( طبقي ) بالإضافة إلى الصراع الدائم بين البابوية والإمبراطورية وعاش الناس في جهل وتخلف وحرمووا من حرية التفكير والحث العلمي .	الفترة التي امتدت من القرن الثالث عشر إلى السادس عشر الميلادي فهي مرحلة انتقال من العصور الوسطى إلى العصور الحديثة هدفها إعادة اكتشاف الذات والأمجاد اليونانية والرومانية القديمة في كافة مجالات العلوم والآداب والفنون .

السؤال الرابع :- يتكون من ( أ - ب - ج )

( ا ) فرق بين نتائج الرحلات التالية : ( الاكتفاء بمنطقتين ) ( ٥,٥ × ٤ = ٢ )

رحلات الملاحون	النتائج
١- أمريكو فسويو بيشي ص ٣٤	اكتشف ساحل المكسيك - جزر الساحل الشرقي للولايات المتحدة - ساحل أمريكا الجنوبية - وصل إلى البرازيل - أكد فيما بعد أنه وصل إلى عالم جديد سمي أمريكا نسبة له .
٢- جون ديفيز ص ٣٨	اتجه إلى جرينلاند - وصل إلى مضيق جبلبرت - أبحر إلى شمال غرب إلى مضيق ديفز - وصل إلى دائرة عرض ٧٢ شمالاً .

( ب ) عرف ما يلي :- ( ١ × ٢ = ٢ )

- ١- الحركة الإنسانية : حركة أدبية انطلقت في عصر النهضة للاهتمام بدراسة الإنسان باعتباره محور الحياة ولتخليصه من القيود التي كبلت فكره وحطت من مكانته خلال العصور الوسطى . ص ١٧
- ٢- المجاعة النقدية : الحاجة إلى الذهب والفضة والذي دفع الأوروبيون للخروج من قارتهم بحثاً عن مناجمها . ص ٢٥

( ج ) أكمل الناقص في الجدول التالي :- ( ١ × ٣ = ٣ )

ارتباطات	السبب	النتيجة	الدليل
الوساطة التجارية الإسلامية قبل الكشوف الجغرافية ص ٢٥	- إشراف المسلمين على أهم المسطحات البحرية . - البراعة البحرية والتجارية للمسلمين .	سيطرت المسلمين على أهم الطرق التجارية البحرية	- الإشراف على الطريق البري في قارة آسيا . - الإشراف على الطرق المؤدية للهند والتي تربط المحيط الهندي بذياعي الخليج العربي وبحر الأحمر
إصرار كريستوفر كولومبس على تنفيذ مشروعه ص ٣١	رغبته في الوصول إلى الهند	قام بأربع رحلات إلى الغرب حيث اكتشف جزر الهند الغربية وبعض أجزاء من أمريكا الوسطى	١- عرض مشروعه على ملك البرتغال فرفضه على توصية مستشاريه . ٢- توجه لملك وملكة إسبانيا لكنها رفضت لانشغالها بالحرب مع المسلمين . ٣- جدد طلبه لتمويل مشروعه بعد أن انتهت الحرب مع المسلمين وفعلاً وافقت ومولته عام ١٤٩٢ م .
براعة جيمس كوك البحرية ص ٣٩	تطوعه في خدمة الأميرالية الإنجليزية	تم اختياره بواسطة الجمعية الملكية عام ١٧٦٨ م	أنجز ثلاث رحلات استكشافية خلال القرن الثامن عشر الميلادي

انتهت الأسئلة

المجال :- تاريخ العالم الحديث والمعاصر الصف :- الثاني عشر الادبي عدد الصفحات :- ( ٤ )	امتحان الفترة الدراسية الاولى الفصل الدراسي :- الاول العام الدراسي :- ٢٠١٣/٢٠١٢م	وزارة التربية منطقة العاصمة التعليمية التوجيه الفني للاجتماعيات
---	--	---

السؤال الأول: ويتكون من (أ - ب - ج) مؤدع لوصار

[[ أ ]] أخت البديل الصحيح من بين البدائل التي تلي العبارات فيما يأتي: ( ٤ × ١ = ٤ )

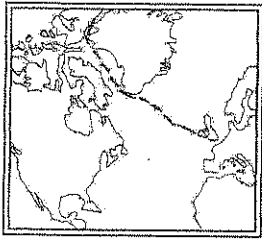
١:- الملاح الانجليزي الذي تمكن من الوصول إلى جزر هاواي ووصل الى المحيط المتجمد الشمالي اسمه: ص ٣٩  
( جيمس كوك - جون كابون - فروبشير - ديفيز )

م	الشخصيات
١	دوناتلو
٢	روبرت بيرى
٣	تشارلز ويكلز
٤	مايكل انجلو

٢:- اسماء رواد الحركة الفنية في النهضة الاوروبية في الجدول المقابل يمثلهم الارقام ص ١٨

( ٢،١ - ٤،٢ - ٣،٢ - ٤،١ )

ص ٢٠



٣:- عدد الحجج التي علقها مارتن لوثر على باب كنيسة وتبرج

( ٩٣ - ٩٤ - ٩٥ - ٩٦ )

٤:- الرحلة المبينة على الخريطة المقابلة قام بها الملاح:

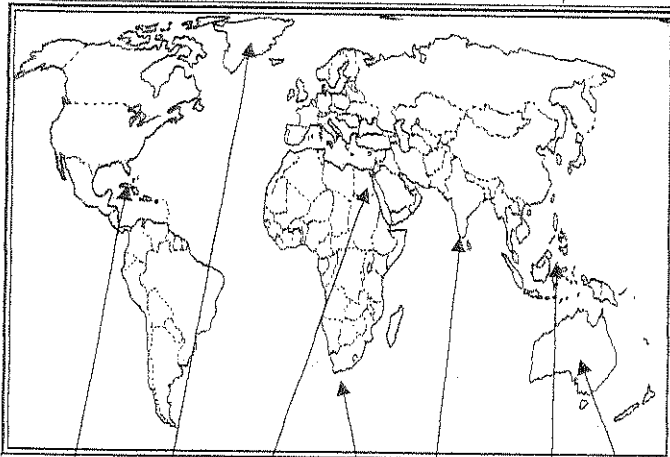
( هنري هدمسون - جيمس كوك - مارتن فروبشير - جون ديفيز )

( ٤ × ١ = ٤ )

[[ ب ]] أكمل العبارات التالية بما يناسبها :-

- ١:- السفن العملاقة التي ظهرت مع حركة الكشوف الجغرافية تميزت بكونها تحملتها وعدد الأشرعة تسمى الكرافيل ص ٢٦
- ٢:- احد اعظم شعراء ايطاليا ومن اهم اعماله رواية الحياة الجديدة اسمه دانتي ص ١٧
- ٣:- المكتشف الذي سمي العالم الجديد "امريكا" نسبة اليه اسمه امريكو فسبوتشي ص ٣٤
- ٤:- العام الميلادي الذي سقطت فيه مدينة القسطنطينية على يد الأتراك العثمانيين هو ١٤٥٣ ص ١٢

[[ ج ]] - ضع رقم كل عبارة مما يلي في المربع المناسب لها على خريطة العالم



١:- جزيرة اكتشفها الملاح مارتن فروبشير ص ٣٧

٢:- احد مراكز الحضارة العربية الاسلامية الى اوروبا ص ١٤

٣:- منطقة اطلق عليها اسم راس العواصف ص ٢٨

٤:- منطقة قتل فيها الملاح ماجلان ص ٣٥

٥:- كلكتا وصل اليها فاسكو دي جاما ص ٢٨

٦:- منطقة يعتبر كولمبس اول من وصل اليها ص ٣٢



[[ أ ]] - لاحظ الصورة التي أمامك وهي لرحالة مشهور ، ثم أجب عن الأسئلة ( ٣ درجات ) ص ٢٨

درجة ١- اسم الرحالة هو  
• فاسكو دي جاما

درجة ٢- المنطقة التي وصل إليها  
• الهند ( كلكتا )

درجة ٣- النتائج المترتبة على الرحلة

- حقق امل البرتغال في كشف طريق مباشر للوصول الى الهند خارج ديار المسلمين وكانت ضربة اقتصادية وجهت للعالم الاسلامي
- أصبحت البرتغال في مركز متقدم في منطقة المحيط الهندي التجارية

( نقطتان درجة ) ص ١٦

[[ ب ]] علل لما يأتي

نمو المدن الأوروبية في عصر النهضة

- تحالف المدن الصغيرة في شكل كومونات مما منحها الاستقلال والقوة السياسية
- ظهور الطبقة الوسطى " البرجوازية " وتحالفها مع الملوك لتحطيم النظام الاقطاعي
- قيام ثورة ثقافية من خلال انشاء المدارس في المدن بعيدا عن سيطرة الاديرة

[[ ج ]] ما دور كلا من

( نقطتان درجة ) ص ١٥

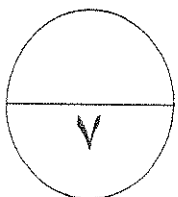
١) المفكرين الاوروبيين في احياء الدراسات اليونانية القديمة

- تبادل علماء القسطنطينية وايطاليا الزيارات العلمية بحثا عن العلوم والفنون الاغريقية والاطالية
- تنافس الامراء والاثرياء في انشاء المكتبات مما ادى الى ازدهار مكتبات البندقية و فلورنسا والفاتيكان
- ظهور الاكاديميات العلمية في ايطاليا مما ساعد على اثراء الحركة العلمية
- جهود اسرة ال مديتشي في فلورنسا ، و ال سوفرزا في ميلانو في رعاية الحركة الادبية والفنية
- اختراع احرف الطباعة المعدنية على يد الالماني (حنا جوتنبرج) ادى الى سهولة طباعة الكتب وتداولها

( نقطتان درجة ) ص ٢٧

٢) هنري الملاح في حركة الكشوف الجغرافية

- إنشاء مدرسة للبحرية
- إنشاء مرصدا بحريا
- تطوير الأدوات المستخدمة في الكشوف الجغرافية .
- جلب علماء الرياضيات والفلك ورسم الخرائط .
- الأهتمام برسم الخرائط .
- الاستعانة بالمسلمين في المجال البحري .
- ارسال رحلات إلى الساحل الغربي لأفريقيا .



السؤال الثالث : ويتكون من ( أ - ب - ج )

موضوع لربما

[[ أ ]]: - عرف المفاهيم والمصطلحات التالية

١- التفويض الإلهي

- ص ٢١ (درجة)
- نظرية تقول أن الملوك يمثلون الله على الأرض ومن الله يستمد الملك السلطة وليس من الشعب الذي يجب عليه الخضوع التام للملك ، النظرية تؤيد الحقوق المطلقة للملوك في الحكم .

٢- الكشوف الجغرافية :

- ص ٢٥ (درجة)
- الجهود التي قام بها الأوربيين بهدف التعرف على أراضي جديدة خلال القرنين الخامس والسادس عشر الميلادي

٣- الكومنونات

- ص ١٦ (درجة)
- تحالفات تمت بين المدن الصغيرة في اوربا لمنحها الاستقلال والقوة السياسية

[[ ب ]]: قارن بين اكتشافات كل من وكما في الجدول

جون كابوت ( نقطتان درجة ) ص ٣٧	مارتن فروبشير ( نقطتان درجة ) ص ٣٧
- اكتشاف جزر نيوفولاند - اكتشاف شبه جزيرة لابرادور - وصل إلى فلوريدا	- وصل إلى جزيرة شتلند - وصل إلى جزيرة جرينلند - اكتشاف مضيق هُدسن

[[ ج ]]: اقرأ الفقرة التالية ثم استخراج منها ما هو مطلوب في الاسئلة التي تليها

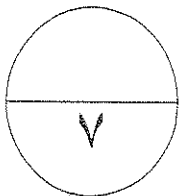
بدأت العصور الوسطى منذ سقوط روما ، حيث عانت اوربا خلال هذه الفترة من هيمنة الكنيسة الكاثوليكية روحيا وثقافيا على اوربا ، الا انه ونتيجة لتوافر مجموعة من العوامل كانتقال الحضارة العربية الاسلامية وقيام المفكرون الاوربيون باحياء الدراسات اليونانية القديمة فقد شهدت اوربا ملامح التغير في مختلف نواحي الحياة وظهر ما يسمى بعصر النهضة والذي ادى لزيادة المعارف الجغرافية وتقدم الملاحة ، و نمو الروح القومية الى قيام حركة الكشوف الجغرافية والتي كان لها اثارا سلبية على العالم العربي بظهور حركة الاستعمار الاوروبي حيث فقدت المستعمرات القدرة على التحكم في مقدراتها الاقتصادية ، وتحطيم الانشطة التجارية والصناعية بها . ومع ظهور المد الاستعماري و تدفق الثروات والمواد الخام من المستعمرات الى اوربا كانت الحاجة ملحة لعملية تغير شامل في ادوات الانتاج و حجمه و وسائله متمثلا بالثورة الصناعية

١- عاملين من عوامل قيام النهضة الأوروبية

- ص ١٤ ، ١٥ (درجة)
- انتقال الحضارة العربية الاسلامية
  - قيام المفكرون الاوروبيون باحياء الدراسات اليونانية القديمة

٢- سببين دفعا اوربا للقيام بحركة الكشوف الجغرافية

- ص ٢٥ (درجة)
- زياده المعارف الجغرافية
  - تقدم الملاحة
  - نمو الروح القومية





السؤال الرابع : ويتكون من ( أ - ب - ج )

موضوع برصاصي

٢ درجات

[[ أ ]]: - ما الآثار المترتبة على كل مما يلي :

١- سيادة نظام الإقطاع في أوروبا في العصور الوسطى .

- تقسم المجتمع الأوربي إلى مجتمع طبقي على قمته رجال الكنيسة والإقطاعيين والنبلاء والفرسان وأسفله العبيد
- وجود صراع دائم بين البابوية والامبراطورية مما أوجد جهل وتخلف وحرمان الناس من حرية التفكير والبحث العلمي

( نقطتان درجة ) ص ١٥

٢- اختراع الطباعة .

- سهولة طباعة الكتب وتداولها
- نشر جهود العلماء في مختلف المجالات

( نقطتان درجة ) ص ٢٠

٣- قيام حركة الإصلاح الديني في أوروبا

- قيام صراع كبير بين أتباعه والكنيسة
- قيام ثورات وحروب
- نبهت إلى أهمية تحرير الكنيسة من مفاستها والتخلص من هيمنتها المطلقة على حياة الناس في أوروبا

[[ ب ]]: - أقرأ الفقرة التالية ثم اجب عن الأسئلة التي تليها

( عاش في مدينة فلورنسا بإيطاليا وتولى العديد من المناصب السياسية بها وأصبح بمثابة سفير لحكوماتها من الدول الأوروبية وعندما انفارت حكومة فلورنسا حرص على التفرق لكتابه آرائه السياسية وكتب ذلك بكتاب عام ١٥١٢م شرح فيه أصول الحكم )

( نصف درجة )

١- ما الشخصية التي ينطبق عليها هذا الوصف ؟

- نيقولا ماكيافيللي

( نصف درجة )

٢- ما أهم مؤلفاته ؟

- كتاب الأمير

( درجة )

٣- ما الآراء التي نادي بها ؟

- تأييد نظام الحكم المطلق القائم على نظرية التفويض الإلهي .
- إقرار مبدأ (الغاية تبرر الوسيلة ) . بمعنى ان من حق الحاكم اتخاذ كل وسيلة تحقق استقرار حكمه

[[ ج ]]: - ماذا يحدث لو لم

( نقطتان درجة ) ص ١٢

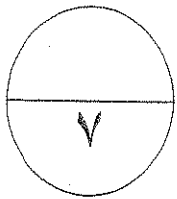
تظهر النهضة الأوروبية في إيطاليا .

- لظلت أوروبا تعاني من الجهل والظلم
- تظل أوروبا تعاني من هيمنة الكنيسة الكاثوليكية
- أي اجابة يراها المصحح مناسبة

( نقطتان درجة ) ص ٣١

تمول الملكة ايزابيلا مشروع كريستوفر كولومبس

- لم يرق برحلاته الكشافية الاربع
- لم يكتشف جزر الهند الغربية
- لم يكتشف اجزاء من امريكا الوسطى ( الانتيل الكبرى و الصغرى ) / كوبا / هايتي / جزر الدومينيكا / سانت كروز / بورتوريكو / جاميكا .
- لم يصل إلى جزيرة ترينداد
- أي اجابة يراها المصحح مناسبة



امتحان الفترة الدراسية الأولى (المؤجل) ٢٠١٠/٢٠١١م  
عدد الأوراق (٥)  
زمن الاجابه : ساعة

وزارة التربية  
التوجيه الفني للاجتماعيات  
منطقة الفر وانية التعليمية

السؤال الأول : يتكون من ( أ - ب - ج - د )

(أ) - أكمل الفراغات التالية بكلمات مناسبة : (لكل درجة)

- ١- الحضارة التي أمدت أوروبا بأعظم الانجازات العلمية وكانت عاملا في قيام النهضة تسمى الحضارة الإسلامية  
ص ١٤
- ٢- أطلق علي العالم الجديد الذي وصل إليه اميركوفسويتشي اسم أمريكا  
ص ٣٤
- ٣- الملاح الذي يعتبر أول من استخدم رأس الرجاء الصالح للوصول للهند يسمى فاسكودي جاما  
ص ٢٨

(ب) اكتب المصطلح المناسب أمام كل عبارة من العبارات التالية : (لكل درجة)

- ١- ( عصر النهضة ) هي مرحلة انتقال من العصور الوسطي إلي العصور الحديثة وتمتد من القرن الثالث عشر  
ص ١٢  
إلي القرن السادس عشر لميلادي .
- ٢- ( الإنسانيين ) هم الذين عبروا في كتاباتهم الأدبية عن صورة الإنسان الذي يتصف بالإبداع والثقة بالنفس  
ص ١٧
- ٣- ( الكشوف الجغرافية ) الجهود التي قام بها الأوروبيون بهدف التعرف علي أراضي جديدة خلال القرن الخامس  
ص ٢٥  
عشر والسادس عشر الميلادي .

(ج) اختر الاجابه الصحيحة من بين البدائل التي تلي كل عبارة (لكل نصف درجة)



١- الشكل المقابل يمثل احد رواد الحركة الدينية في أوروبا اسمه ... ص ٢٠

- أ - مايكل انجلو  
ب - مارتن لوثر  
ج - رفائيل  
د - دوناتالو

ص ٣٨

- ٢- الملاح الذي وصل الي خط عرض ٧٢ شمالا اسمه  
أ - بارثلميو دياز  
ب - كريستوفر كولمبس  
ج- جون ديفيز  
د- ماجلان

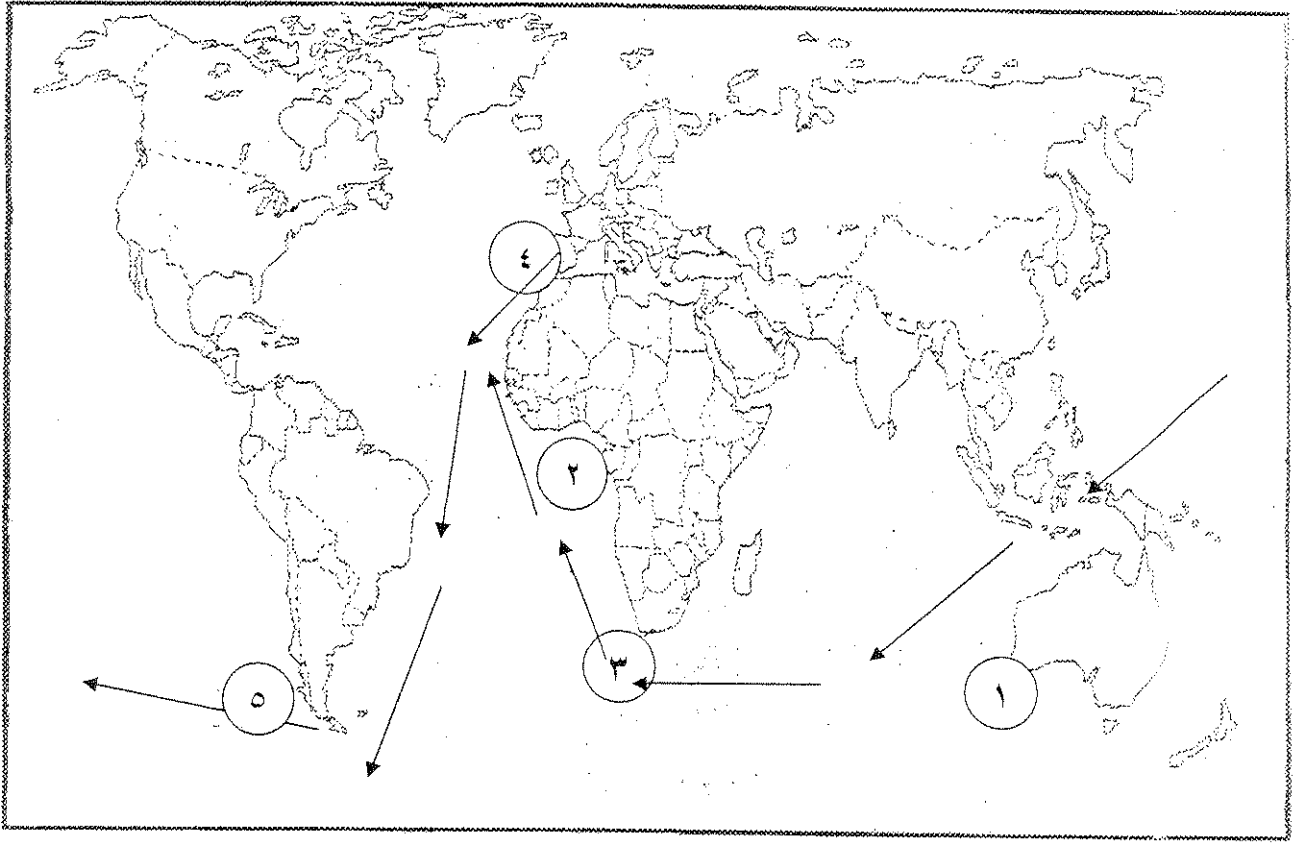
ص ١٥

- ٣- الالمانى الذي اخترع احرف الطباعة المعدنية اسمه  
أ - حناجوتير ج  
ب- ليوناردو دافنشى  
ج- رفائيل  
د - دوناتالو

ص ٣٧

- ٤- الرحالة الذى اكتشف جزيرة نيوفونلاند  
أ - ماجلان  
ب - كريستوفر كولمبس  
ج- بارثلميو دياز  
د- جون كابوت

(د) انسب الأرقام على الخريطة أمام العبارة المناسبة لها : (لكل نصف درجه)



ص ٢٩

\* رأس الرجاء الصالح يمثلته الرقم ٣

ص ١٤

\* احد مراكز انتقال الحضارة العربية الإسلامية إلى أوروبا يمثلته الرقم ٤

ص ٣٩

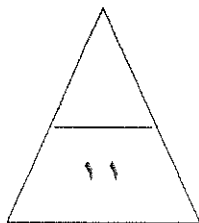
\* القارة التي اكتشفها جيمس كوك يمثلها الرقم ١

ص ٢٧

\* المنطقة التي وصل لها الأمير هنري يمثلها الرقم ٢

ص ٣٥ (درجه)

\* ارسم علي الخريطة المرفقة رحلة الملاح ماجلان باستخدام الرمز



## السؤال الثاني : يتكون من ( أ - ب - ج - د )

( درجتان ) ص ١٢

- ١ - علل كانت إيطاليا اسبق الأقاليم الأوروبية في النهضة .
- ١- وجود مركز البابوية
- ٢- لعبت دور الوسيط التجاري بين مواني البحر المتوسط
- ٣- ماضي الإمبراطورية الرومانية العريقة
- ٤ - حلقة اتصال بين الشرق والغرب

( درجتان ) ص ٢١

ب- اقرأ الفقرة التالية ثم اجب عن الأسئلة التي تليها  
( عاش في مدينة فلورنسا بايطاليا وتولي العديد من المناصب السياسية بها وصبح بمثابة سفير لحكومتها في العديد من الدول الأوروبية وعندما انهرت حكومة فلورنسا حرص علي التفرغ لكتابة أرائه السياسية وكتب ذلك بكتاب عام ١٥١٣م شرح فيه أصول الحكم )

١- ما الشخصية التي ينطبق عليها هذا الوصف

ماكيافيللي

٢- ما أهم مؤلفاته

كتاب الأمير

٣- ما لراء التي نادي بها

\* أيد نظام الحكم المطلق للملوك والقائم علي نظرية التفويض الإلهي

\* أقر مبدأ الغاية تبرر الوسيلة في الأمور السياسية مما أعطي الحاكم السلطة المطلقة لاتخاذ كل وسيلة لاستقرار حكمه وهذه الأفكار ساهمت في نمو سلطة الملوك .

( درجتان ) ص ٣٢

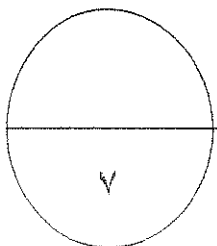
- ج- ما النتائج التي ترتبت علي رحلات كريستوفر كولمبس
- \* اكتشف جزر الانتيل الكبرى والصغرى وأطلق عليها اسم سان سلفادور
  - \* وصل إلي كوبا ثم أبحر إلي جزيرة اسمها الآن هايتي
  - \* اكتشف جزر الدومينيكا وسانت كروزا وبورتوريكو واكتشف الساحل الشمالي لجاميكا
  - \* وصل إلي جزيرة ترينداد ثم اتجه الي ساحل فنيزويلا في أمريكا الجنوبية
  - \* وصل إلي ساحل أمريكا الوسطي

( درجه ) ص ٢٦

د- اشرح العلاقة التاريخية بين

الدافع الديني وقيام حركة الكشوف الجغرافية

دفعت رغبة الدول الأوروبية في نشر المسيحية في المناطق المكتشفة كذلك محاولة تطويق العالم الإسلامي وتقوية الممالك المسيحية كل هذا دفع الدول الأوروبية إلي القيام بحركة الكشوف الجغرافية



السؤال الثالث: يتكون من ( أ - ب - ج - د )

أ - اكتب جهود المفكرون الأوروبيون في إحياء الدراسات القديمة . (درجتان) ص ١٥

- \* تبادل علماء القسطنطينية وإيطاليا الزيارات العلمية بحثًا عن العلوم والفنون الإغريقية والإيطالية
- \* تنافس الأمراء والأثرياء في إنشاء المكتبات مما أدى إلي ازدهار مكتبات البندقية وفلورنسا إلي جانب مكتبة الفاتيكان
- \* ظهور الأكاديميات العلمية في إيطاليا مما ساعد علي إثراء الحركة العلمية
- \* جهود أسرة المد تشي في فلورنسا وأسرة سوفرازا في ميلانو في رعاية الحركة العلمية والأدبية والفنية
- \* اختراع أحرف الطباعة المعدنية علي يد الألماني \* (حناجوتنبرج) أدى إلي سهولة طباعة الكتب وتداولها مما ساهم في نشر جهود العلماء في مختلف المجالات

ب- ماذا تتوقع أن يحدث لو (

- ١- لو يتم اتصال علماء أوروبا بعلماء المسلمين . (درجه) ص ١٤  
كان من الممكن أن تظل أوروبا تعيش في العصور الوسطى ولم تنتقل مؤلفات المسلمين إلي أوروبا والتي كان لها دورا كبير في النهضة الأوروبية (أي اجابه يراها المصحح)
- ٢- لو تحدث حركة الإصلاح الديني في أوروبا . (درجه) ص ٢٠  
لظلت أوروبا تعيش في عصورها الوسطى المظلمة وظلت الكنيسة تسيطر علي عقول الناس من التخلف والركود والعبودية ولم تتحرر الكنيسة من مفاسدها وظلت صكوك الغفران سائدة حتي الآن (أي اجابه يراها المصحح)

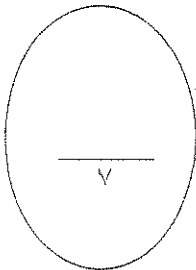
ج- برهن علي صحة العبارة التالية :

يعتبر ليوناردافنشي عبقرى عصر النهضة (درجتان) ص ١٩

- \* نبغ بصورة كبيرة في الرسم والنحت والمعمار والرياضيات والهندسة بالإضافة إلي اهتمامه بالأدب والموسيقى والشعر وعلم التشريح
- \* لوحاته الرائعة التي عكست قدرته علي تصوير انفعالات النفس البشرية واهم أعماله لوحة (العشاء الأخير) الموجودة في إيطاليا ولوحة (الموناليزا ) او (الجوكنده) الموجودة في متحف اللوفر في باريس

د- فسر العبارة التالية :

- ١- عدم رؤية جيمس كوك لقارة انتاركتيكا ( القارة القطبية الجنوبية) (درجه) ص ٣٩  
\* لوجود الثلج الذي كان عقبه في طريقه



## السؤال الرابع : يتكون من ( أ - ب - ج - د )

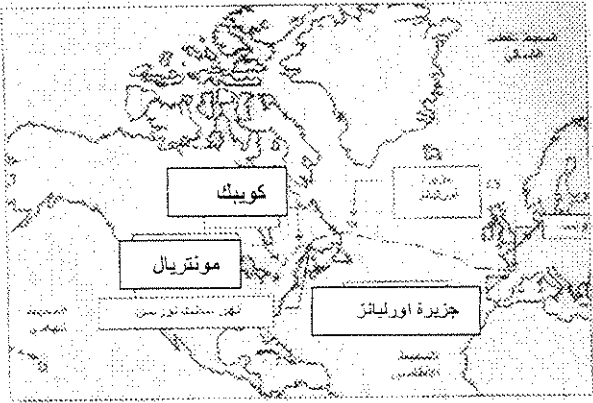
أ - فرق حسب الجدول

(درجتان)

حجج مارتن لوثر ضد أوضاع الكنيسة ص ٢٠	٢٠ ص أسباب قيام حركة الإصلاح الديني
١- معارضة فكرة صكوك الغفران ٢- رفض احتكار البابا لتفسير الكتاب المقدس ٣- حطّ بإنقاص عدد الأديرة ٤- عارض الحج إلى روما ٥- المطالبة بالسماح بزواج رجال الدين	١- جهود الحركة الإنسانية في التنبيه لأهمية إصلاح الكنيسة ٢- الرغبة في تحرير حركة التقدم العلمي من قيود الكنيسة ٣- اهتمام أوروبا بجوانب الحياة الدنيوية ٤- ظهور كثير من المصلحين الذين نادوا بتخليص الكنيسة من مفاستها

(درجه) ص ٤٠

ب- لاحظ الخريطة التي إمامك ثم اجب عما هو مطلوب



١ - اسم المكتشف الذي قام بالرحلة

جاك كارتييه

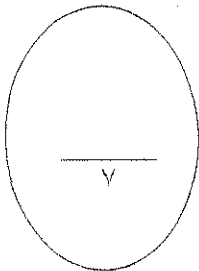
(درجتان) ص ١٦

ج - دال على صحة العبارة التالية :

- هناك من يعتبر إن النهضة الأوروبية هي وليدة نمو المدن
- \* تحالف المدن الصغيرة لمنحها الاستقلال والقوة السياسية
- \* ظهور الطبقة الوسطى (البورجوازية) والتي تحالفت مع الملوك لضرب النظام الإقطاعي
- \* قيام ثورة ثقافية من خلال إنشاء المدارس بعيدا عن الأديرة

(درجتان) ص ٢٧

- د- اكتب الدور التاريخي للأمير هنري ابن ملك البرتغال في حركة الكشوف الجغرافية
- \* أنشأ مدرسة بحرية والتي اهتمت بتطوير الأدوات والتي استخدمت في الكشوف الجغرافية
- \* اهتم بتطوير الأدوات التي استخدمت في الكشوف الجغرافية (مثل الخرائط)
- \* أنشأ مرصد بحريا في الطرف الجنوبي لساحل البرتغال
- \* استقدم علماء الرياضيات ورسمي الخرائط والفلكيين من إيطاليا وصقلية
- \* الاستعانة بالعلماء المسلمين ومؤلفاتهم الجغرافية والفلكية
- \* حاول الوصول إلى الحبشة والهند



السؤال الأول ( إخباري ) ويتكون من ( أ - ب - ج - د )

( أ ) اكتب المصطلح المناسب أمام كل جملة من الحمل التالية: ( ثلاث درجات )

١- ( الكشوف الجغرافية ) حركة كشفية قامت بها أوروبا خلال القرنين الخامس

عشر والسادس عشر الميلاديين تعرفوا بها علي أراضي جديدة.

٢- ( الحركة الإنسانية ) مجموعة من الأدباء الذين عبروا في كتابتهم الأدبية عن

صورة الإنسان.

٣- ( النهضة ) تلك الحركة التي انطلقت من إيطاليا ثم انتقلت إلي كافة أنحاء أوروبا

بهدف إعادة اكتشاف الذات وإعادة إحياء الأمجاد.

( ب ) اختر الإجابات المناسبة من البدائل التالية: ( ثلاث درجات )

- المكتشف الذي تمكن من الوصول إلي رأس الرجاء الصالح هو .....

أ- ماجلان                      ب- بار تليمو دياز

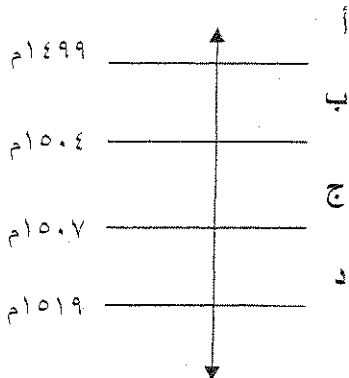
ج - أمريكو فسبوتشي              د- كريستوفر كولمبس

٢- بدأت الكشوف الجغرافية الأسبانية في عهد .....

أ- الملك مانويل الأول              ب- الملك جون الثاني

ج - الملكة إيزابلا                      د- الملك جون الأول

٣- الحرف الذي يمثل تاريخ رحلة أمريكو فسبوتشي هو: .....



أ-

ب-

ج-

د-

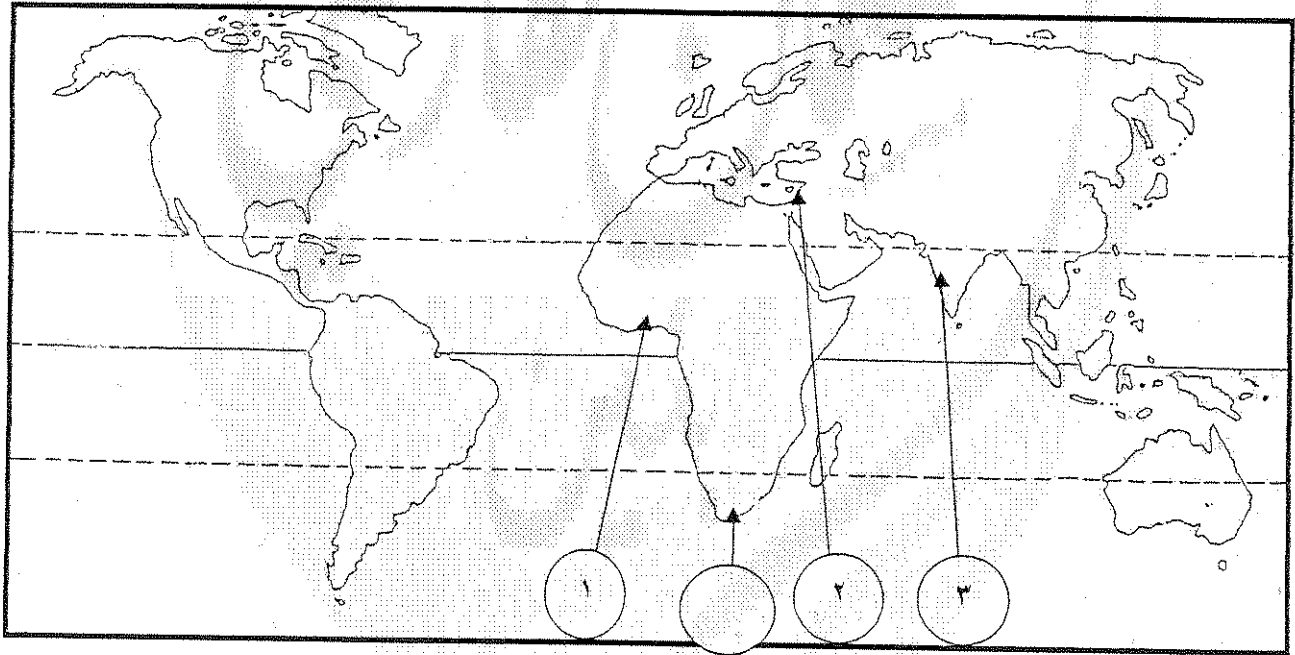
(ج) اختر من القائمة (ب) ما يناسب القائمة (أ) وذلك بكتابة الرقم المناسب أمامها.

(درجتان)

القائمة (أ)		القائمة (ب)
١. دانتي	٢	الموناليزا
٢. ليوناردو دافنشي	١	الكوميديا الإلهية
٣. حنا جوتنبرج	٤	الإصلاح الديني
٤. مارتن لوثر	٣	اختراع أحرف الطباعة المعدنية
		كتاب الامير

(د) انظر الخريطة التي أمامك جيدا ثم حدد عليها ما هو مطلوب من العبارات التي

تليها: (ثلاث درجات)



١- المنطقة التي وصل إليها هنري الملاح في رحلاته الكشفية.

٢- أحد مراكز انتقال الحضارة الإسلامية إلى أوروبا قبيل عصر النهضة.

٣- المنطقة التي وصل إليها فاسكو دي جاما في رحلاته الكشفية.



السؤال الثاني يتكون من ( أ - ب - ج )

( درجتان )

( أ ) علل لكل مما يأتي:

- ١- قيام حركة الإصلاح الديني في ألمانيا.
- جهود الحركة الإنسانية في التنبه لأهمية إصلاح الكنيسة.
- الرغبة في تحرير حركة التقدم العلمي من قيود الكنيسة.
- اهتمام أوروبا بجوانب الحياة الدنيوية.
- ظهور كثير من المصلحين الذين نادوا بتخليص الكنيسة من مفاسدها.

( أربع درجات )

( ب ) ما النتائج التي تترتت علي كل مما يلي:

- ١- قيام النهضة الأوروبية في إيطاليا.
- الاستفادة من الحضارات المجاورة.
- تشجيع الأدباء والفنانين لتحقيق أهداف الكنيسة.
- الرغبة في استعادة أمجاد روما العظيمة.
- تحقيق المكاسب الاقتصادية.

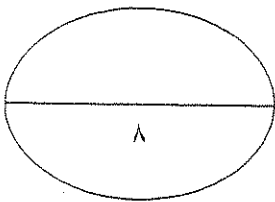
٢- حركة الإصلاح الديني.

- قيام صراع بين أتباع المذهب الجديد والكنيسة، وما صاحب ذلك من ثورات وحروب.
- تنبعت الكنيسة إلي أهمية تحريرها من المفسد والتخلص من هيمنتها المطلقة علي حياة الناس في أوروبا.

( درجتان )

ج - عرف المفاهيم التالية:

- ١- نظرية التفويض الإلهي:- أن الملوك يمثلون الله علي الأرض، وأنهم يستمدون سلطاتهم منه وليس من الشعوب التي يجب عليها الخضوع التام للملوك.
- ٢- الطبقة البورجوازية:- هي الطبقة التي تحالفت مع الملوك من أجل التخلص من النظام الإقطاعي، مما أحدث تغييرا كبيرا في ملامح المدن الأوروبية سياسيا واقتصاديا.



السؤال الثالث ( يتكون من أ - ب ج )

أ- ما النتائج التي ترتبت علي كل مما يلي :- ( لكل نقطة درجتان )

- ١- رحلة فاسكو دي جاما:
  - حقق أمل البرتغال في كشف طريق مباشر للوصول إلي الهند خارج ديار المسلمين.
  - أصبحت البرتغال في مركز متقدم في منطقة المحيط الهندي التجارية.
- ٢- رحلة هنري هدسون سنة ١٦١٠م.
  - اكتشاف خليج هدسون وخليج جيمس ، واكتشاف ميناء يقع علي الساحل الأطلسي.
  - الوصول إلي ميناء يقع عند مصب نهر كبير سمي فيما بعد باسم نهر هدسون.
  - الوصول إلي موقع مدينة نيويورك الحالي.

( ب ) دلل علي صحة العبارات التالية: ( درجتان )

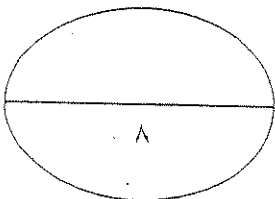
- ١ - بذل المفكرون الأوروبيون جهدا كبيرا في إحياء الدراسات اليونانية القديمة.
  - تبادل علماء القسطنطينية وإيطاليا للزيارات العلمية.
  - تنافس الأمراء والأثرياء في إنشاء المكتبات.
  - ظهور الأكاديميات العلمية في إيطاليا.
  - جهود أسرة مديتشي في فلورنسا وأسرة سوفرزا في ميلانو.
  - اختراع أحرف الطباعة المعدنية علي يد حنا جوتنبرج.

( ج ) علل لما يأتي يكتفي بنقطة واحدة: ( درجتان )

- ١- سبق البرتغال بقية الدول الأوروبية إلي حركة الكشوف الجغرافية.
  - توافر الأدوات اللازمة من علم وخبرة وسفن متطورة.
  - استقرار الوضع في بلادهم لذلك توجهوا لاكتشاف طريق جديد خارج نطاق البحر المتوسط.
- ٢- تسمية الفلبين بهذا الاسم.

- نسبة إلي الأمير فيليب الثاني ابن شارل الخامس ابن ملك أسبانيا والذي اعتلي

العرش.



السؤال الرابع ( إحصائي ) يتكون من ( أ - ب - ج )

( أ ) علل لما يأتي يكتفي بنقطة واحدة:- ( لكل نقطة درجة واحدة )

- ١- تعتبر رحلة ماجلان ذات أهمية علمية كبيرة .
- قدمت البرهان العملي علي نظرية كروية الأرض والتي كانت محل شك حتى ذلك الحين.
- ٢- العوامل التي جعلت إيطاليا في مقدمة حركة النهضة الأوروبية.
- موقعها الجغرافي علي البحر المتوسط.
- قامت بدور كبير منذ الحروب الصليبية في نقل التجارة الشرقية إلي موانئ البحر

المتوسط العربية.

- كانت مهد الحضارة الرومانية القديمة التي سيطرت علي العالم.

- وجود البابوية .

( أربع درجات )

( ب ) أكتب عما يلي :-

١- الآراء السياسية لصاحب الصورة الموجودة أمامك.

تمثل الصورة نيقولا ماكيافيلي صاحب النظريات السياسية الهامة خلال عصر النهضة والذي وضع كتاب الأمير الذي شرح فيه أصول الحكم وفن السياسة.

من آرائه:

١- تأييد الحكم المطلق القائم علي نظرية التفويض الإلهي.

٢- إقرار مبدأ أن الغاية تبرر الوسيلة.

٢- المطالب التي تقدم بها مارتن لوتر في نوفمبر ١٥١٧م.


١- معارضة فكرة صكوك الغفران.

٢- إنقاص عدد الأديرة.

٣- رفض احتكار البابا لتفسير الكتاب المقدس.

٤- عدم الحج إلي روما.

٥- المطالبة بالسماح بزواج رجال الدين.



- (ج) اذكر المراحل التي مرت بها عملية نمو المدن الأوربية. (درجتان)
- تحالف المدن الصغيرة في شكل كومونات مما منحها الاستقلال.
  - ظهور الطبقة الوسطى التي تحالفت مع الملوك لتحطيم النظام الإقطاعي.
  - قيام ثورة ثقافية من خلال إنشاء المدارس في المدن بعيدا عن سيطرة الأديرة.

**انتهت الأسئلة مع أجمل الأمنيات بالتوفيق,,,,,**

الزمن : ساعتان وربع

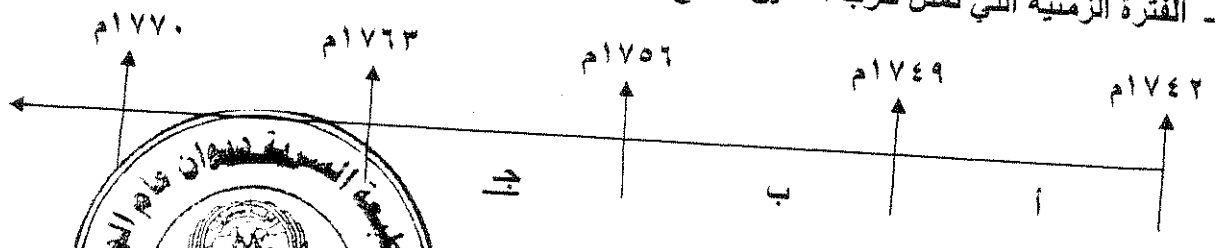
امتحان نهاية الفترة الدراسية الثانية  
للسنة الثانية عشر / أدبي للعام ٢٠١٤ / ٢٠١٥ م  
في مادة تاريخ العالم الحديث والمعاصر

اجب عن اربعة أسئلة مما يلي على أن يكون السؤال الأول من بينها اجباريا :-

السؤال الأول ( اجباري ) يتكون من ( أ - ب - ج - د ) لكل نقطة نصف درجة

أ - اختر البديل الصحيح من بين البدائل التي تلي كل عبارة مما يلي وضع خطا تحته :

١- الفترة الزمنية التي تمثل حرب السنين السبع يمثلها على المخطط الزمني الحرف : ص ٥٥



٢- الجزر التي اكتشفها البرتغاليون في عهد هنري الملاح : ص

- أ- كوبا  
ب- هايتي  
ج- ترينداد  
د- آزور

٣- رواد الحركة الفنية الذين برعوا في مجال النحت يمثلهم في الجدول المقابل الأرقام :

ص ١٨

- أ- ( ٣ ، ١ )  
ب- ( ٤ ، ٢ )  
ج- ( ٥ ، ٣ )  
د- ( ٥ ، ٢ )

٤- العالم الذي اخترع القاطرة البخارية : ص ٦٥

- أ- نيقولوس أوتو  
ب- ديمتر وينز  
ج- جورج ستيفنسن  
د- روبرت فولتن

٥- الرحالة البرتغالي الذي اكتشف رأس الرجاء الصالح : ص ٢٨

- أ- بارثلميو دياز  
ب- فاسكو دي جاما  
ج- ماجلان  
د- كريستوفر كولمبس

٦- الدولة العربية التي احتلتها فرنسا عام ١٨٣٠ م : ص ٥١

- أ- تونس  
ب- سوريا  
ج- الجزائر  
د- موريتانيا

لكل نقطة درجة واحدة

٧- أكتب المفرد الدالة عليه التوريقات التالية :-

- ١- ( البرجوازية / الوسطى ) طبقة اجتماعية تحالفت مع الملوك في أواخر العصور الوسطى لتحطيم نظام الإقطاع . ص ٦٦  
٢- ( الكرافيل ) سفن عساقفة تموزت بنجر حمولتها الإمداد فارتها على المغامرة وسط المحيطات . ص ٦٦

تابع إجابة السؤال الأول ( الإجمالي ) :

- ٣- ( الثورة الصناعية ) عملية تغيير شامل في أدوات الإنتاج ووسائله وحجمه وعلاقاته ومستواه . ص ٦١
- ٤- ( الكشوف الجغرافية ) حركة قام بها الأوروبيون خلال القرنين ١٥ - ١٦م ساعدت على تطور خريطة العالم .  
تابع السؤال الأول :-  
ص ٢٥

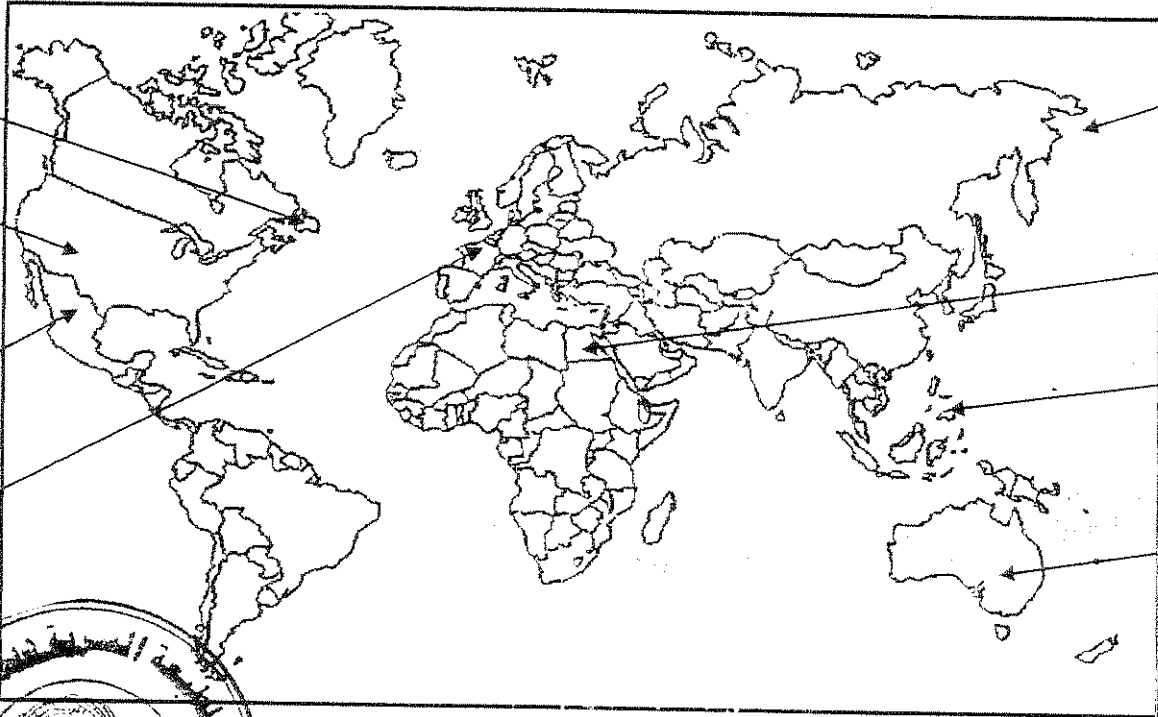
لكل نقطة نصف درجة

ج - أكمل الجمل التالية بما يناسبها :-

- ١- البحار البرتغالي الذي احتل جزيرة سوفطرة عام ١٥٠٦م يسمى الفونسو دي البوكيرك . ص ٥٣
- ٢- المجال الذي برع فيه العالم هنري بسمر يسمى التعدين . ص ٦٤
- ٣- الحضارة التي ظهرت في بيرو تسمى الآنكا . ص ٥٤
- ٤- ملكة بريطانيا التي تم في عهدها تأسيس مستعمرة فرجينيا عام ١٦٠٧م تسمى اليزابيث . ص ٥٦
- ٥- الكتاب الذي نشر فيه ماكيافيللي آرائه السياسية يسمى الأمير . ص ٢١
- ٦- الملك الفرنسي الذي شجع قيام شركة الهند الشرقية الفرنسية عام ١٦٦٤م يسمى لويس الرابع عشر . ص ٥٥

لكل نقطة نصف درجة

د- لاحظ خريطة العالم التي أمامك جيدا ثم نفذ المطلوب :



ضع رقم كل عبارة مما يلي في الدوائر على الخريطة:

- ١- جزر قتل فيها ماجلان في صراع مع السكان . ص ٣٥
- ٢- أحد مراكز انتقال الحضارة العربية الإسلامية إلى أوروبا . ص ١٤
- ٣- منطقة ظهرت فيها حضارة الأزتك . ص ٥٤
- ٤- جزيرة أكتشفها الملاح جيمس كوك . ص ٣٩
- ٥- دولة يرجع إليها الفضل في اكتشاف كندا . ص ٤٠
- ٦- جزيرة أكتشفها الملاح جون كابوت . ص ٣٧



السؤال الثاني ( اختياري ) يتكون من ( أ - ب - ج ) :-

أ - علل لكل مما يلي :-

ص ١٢

١- إيطاليا في مقدمة حركة النهضة الأوروبية .  $2 = 1 \times 2$

- لعبت دور الوسيط التجاري بين موانئ البحر المتوسط .
- وجود مركز البابوية فيها .
- حلقة اتصال بين الشرق والغرب .
- ماضي الامبراطورية الرومانية العريقة .

ص ٥٤

$2 = 1 \times 2$

٢- انهيار الامبراطورية الأسبانية .

- استبداد الاسبان والمعاملة السيئة للشعوب الأصلية .
- استغلال المستعمرات لمصلحة أسبانيا والملك .
- تدفق الثروات على الأسبان حرض قراصنة الإنجليز والهولنديين والفرنسيين بتشجيع من حكوماتهم على السطو على السفن الأسبانية .
- تحطم الأسطول الأسباني ( الأرمادا ) على يد الإنجليز مما أدى إلى ضعف القوة البحرية الأسبانية .

ص ٤٦

ب - فرق حسب الجدول :- درجة لكل جانب

نظرية بطليموس في مجال الفلك	نظرية كوبرنيكوس في مجال الفلك
<ul style="list-style-type: none"><li>• أن الأرض هي محور الكون وأن الشمس والقمر والكواكب الأخرى تدور حول الأرض .</li></ul>	<ul style="list-style-type: none"><li>• أن الشمس هي محور الكون وأن الكواكب الأخرى بما فيها الأرض تسير في مدارات حول الشمس .</li></ul>

ج - دال على صحة العبارة التالية :-

ص ٦٩

$3 = 1 \times 3$

١- أن الثورة الصناعية أحدثت تغييرا سياسيا في قارة أوروبا .

- سيطرة الطبقة الرأسمالية على مقاليد السلطة السياسية في أوروبا .
- التسابق الاستعماري حول المستعمرات لجلب المواد الخام منها وجعلها أسواقا للإنتاج الصناعي .
- ظهور الأحزاب السياسية المدافعة عن حقوق العمال .



السؤال الثالث ( اختياري ) يتكون من ( أ - ب - ج ) :-

أ - اكتب فقرة مترابطة من ثلاثة أسطر مستعينا بالكلمات التالية :- ص ٥٠

(( الإستعمار الأوروبي - الحضارة الأوروبية - الإرساليات التبشيرية - المستشرقون )) درجتان

تعددت عوامل قيام الإستعمار الأوروبي حيث ادعت الدول الأوروبية ان من واجبها نقل الحضارة الأوروبية للشعوب المتخلفة لترفع من مستواها الاجتماعي والفكري والاقتصادي فقامت بنشر الدين المسيحي عن طريق الإرساليات التبشيرية وقام المستشرقون بتثويبه صورة الاسلام الحقيقية . أي اجابة يراها المصحح مناسبة

ب - فرّق حسب الجدول التالي :- درجة لكل جانب

عوامل انهيار الإمبراطورية الهولندية ص ٥٥	عوامل انهيار الإمبراطورية البرتغالية في الشرق ص ٥٣
<ul style="list-style-type: none"> <li>• الهولنديون امة صغيرة غير قادرة على حماية الإمبراطورية التي تم تأسيسها بشكل كبير تجاوز حدود امكاناتهم .</li> <li>• كان اعتمادهم الاول على التجارة مما أدى لاهمال قطاعي الزراعة والصناعة .</li> <li>• سياستهم الاستبدادية في المستعمرات .</li> <li>• منافسة الدول الأوروبية الجديدة لها مثل انجلترا وفرنسا .</li> </ul>	<ul style="list-style-type: none"> <li>• سوء ادارة المستعمرات وانتشار الرشوة .</li> <li>• قسوة البرتغاليين في معاملة السكان الاصليين واجبارهم على اعتناق المسيحية .</li> <li>• السلطة كانت في يد نائب الملك في جوا وهو المسؤول امام الملك دون رقابة ولقصر مدة حكمه كان يقوم بابتزاز الاموال وعدم الاعتناء بالمستعمرة .</li> <li>• منافسة الهولنديين والانجليز للبرتغاليين في مجال الاستعمار .</li> <li>• فقدت البرتغال استقلالها كدولة وضمت للتاج الاسباني في عهد الملك فيليب الثاني عام ١٥٨٠م ولمدة ٦٠ عاما .</li> </ul>
نتائج رحلة كولومبس الثانية ص ٣٤	نتائج رحلة كولومبس الأولى ص ٣٢
<ul style="list-style-type: none"> <li>• اكتشف جزر الدومينكا وسانت كروز وبورتوريكو</li> <li>• أبحر الى الساحل الجنوبي لكوبا واكتشف الساحل الشمالي لجاميكا .</li> </ul>	<ul style="list-style-type: none"> <li>• اكتشف جزر الانتيل الكبرى والصغرى واطلق عليها اسم سان سلفادور .</li> <li>• وصل الى كوبا وابحر الى جزيرة هايتي .</li> </ul>

ج - ماذا يحدث لو لم :-

١- يخترع حنا جوتنبرج أحرف الطباعة المعدنية . يكتفى بنقطتين لكل نقطة درجة المجموع درجتان ص ١٥

• قلة انتشار الكتب

• صعوبة تداول الكتب

• صعوبة طباعة الكتب

• ضعف انتشار جهود العلماء في مختلف المجالات . أي اجابة يراها المصحح مناسبة .

١=1x1 ص ٦٧

٢- يخترع توماس أديسون المصباح .

• لعاشق الناس في ظلام داسر فترة أطول من الزمن مضمون على الأساليب القديمة وهي الشموع

• مصابيح الزيت .

• أي اجابة يراها المصحح مناسبة . ( ٤ )



السؤال الرابع ( اختياري ) يتكون من ( أ - ب - ج ) :-

أ - أكتب النتائج المترتبة على كل مما يلي :-

- ١- رحلة فاسكو دي جاما .  $2=1 \times 2$  ص ٢٩
- حقق أمل البرتغال في كشف طريق مباشر في الوصول إلى الهند خارج ديار المسلمين وكانت أكبر ضربة اقتصادية وجهت للعالم الإسلامي .
  - أصبحت البرتغال في مركز متقدم في منطقة المحيط الهندي التجارية .
- ٢- حركة الإصلاح الديني في أوروبا .  $2=1 \times 2$  ص ٢٠
- قيام صراع كبير بين أتباعه والكنيسة وما صاحب ذلك من ثورات وحروب .
  - نبهت إلى أهمية تحرير الكنيسة من مفسدها والتخلص من هيمنتها المطلقة على حياة الناس في أوروبا .

٣ درجات

ب - دال على صدق العبارة التالية :-

" إن العلاقات التي تمت بين قارة أوروبا والقارات الأخرى كانت ذات نتائج عظيمة في الإقتصاد العالمي " ص ٤٥

- تحول طرق التجارة العالمية بين أوروبا وآسيا فقد ضعفت مكانة البحر المتوسط تجاريا .
- تدفقت الثروات من البضائع ومن المعادن الثمينة ( الذهب والفضة ) على أوروبا مما أدى إلى ارتفاع كبير في أسعار المواد الغذائية فتضررت الفئات العامة والفلاحون بشكل كبير طيلة القرن السادس عشر الميلادي بفعل عدم التوازن ما بين العرض والطلب واعتنى كبار التجار وازدادت أهمية البنوك ونمت طبقة البرجوازية التجارية .
- نتيجة لتوفير البضائع والمال وازدياد النشاط التجاري الإقتصادي قامت صناعات جديدة مما أدى إلى زيادة رؤوس الأموال ومن هنا ظهرت الحاجة إلى الحصول على مستعمرات لتصريف مصنوعات الدولة والحصول على المعادن والمواد الأولية اللازمة للصناعة .
- ظهور البورصات المالية على نطاق عالمي وازدياد نشاط دور المصارف .

ج - ما أوجه الاختلاف بين الإقتصاد الأوروبي قبل ... وبعد الثورة الصناعية .  $2=1 \times 2$  ص ٦١ + ص ٦٩

- الإقتصاد الأوروبي قبل الثورة الصناعية : كانت الزراعة قبل الثورة الصناعية هي المحور الأساسي للدخل القومي في أوروبا معتمدين بالدرجة الأولى على طاقتهم العضلية كما كانت الحركة التجارية محدودة ومفككة تفتقر إلى وسائل المواصلات الحديثة .
- الإقتصاد الأوروبي بعد الثورة الصناعية : أصبحت الصناعة بعد الثورة الصناعية هي المحور الأساسي للإقتصاد الأوروبي وقد أقيمت المصانع الكبيرة التي تعتمد على الآلة وظهور البنوك والوكالات التجارية ومراكز التسويق كما ظهرت المدن الصناعية وساد النظام الرأسمالي وارتفاع الدخل القومي واتساع النشاط التجاري العالمي .



السؤال الخامس ( اختياري ) يتكون من ( أ - ب - ج ) :-

أ - أقرأ الفقرة التالية ثم نفذ المطلوب :-

" اتبعت الدول الإستعمارية أساليب شتى ومتنوعة خلال سيطرتها على الشعوب الأخرى ، حيث هدف الإستعمار لإقامة المحطات التجارية والقواعد العسكرية . وكان لكل أسلوب خصائص خاصة به ، ومع تعدد تلك الخصائص تعددت أشكال الإستعمار . "

- ١- عرف الإستعمار . درجة ص ٤٩
- الإستعمار هو أن تسيطر دولة ما بالاتفاقيات السياسية أو القوة العسكرية أو الاقتصادية على دولة أو عدة دول وتستغل مواردها وثرواتها لصالحها
  - سيطرة دولة قوية على أخرى ضعيفة بهدف استغلال مواردها

٢- عدد أشكال الإستعمار . اربع نقاط بدرجتان ص ٥١

- الغزو العسكري وهو الاحتلال بالقوة .
- الاستيطان وهو تملك سكان دول قوية لاراضي شعب ضعيف بالقوة .
- المعاهدات والاتفاقيات الخاصة .
- التفويض من المنظمات الدولية (الانتداب - الوصاية ) .
- التمييز العنصري وهو أسلوب استعماري قائم على التفرقة بين الناس بسبب اللون أو الجنس أو الدين .

ب - فند العبارة التالية :-

١- أهملت النهضة الأوروبية دراسة الإنسان . درجتان ص ١٧

- اهتمت أوروبا في عصر النهضة بدراسة الانسان كمحور للحياة وظهر ذلك من خلال تعبير ادباء النهضة وشعرائها (دانتي -بترارك - بكاشيو- ارازموس) واصبح الانسان المحور الرئيسي الذي تدور حولة الاعمال الفنية لتعبر عن قدراته وتقدمه في صورة جميلة مشرقة محبا للحياة قادرا على العطاء والانتاج في شتى مجالات الحياة لتخليصه من القيود التي كبلت فكره وحطت من مكانته خلال العصور الوسطى

ج - علل نكل مما يلي :-

١- قيام حركة الإصلاح الديني في أوروبا . ٢=١×٢ ص ٢٠

- جهود الحركة الانسانية في التشبيه لأهمية اصلاح الكنيسة .
- الرغبة في تحرير حركة التقدم العلمي من قيود الكنيسة .
- اهتمام أوروبا بجوانب الحياة الدنيوية .
- ظهور كثير من المصلحين الذين نادوا بتخليص الكنيسة من مفاستها .



تابع اجابة السؤال الخامس :-

ص ٦٢

٢=١×٢

٢- انجلترا هي القاعدة التي انطلقت منها الثورة الصناعية .

- الاستقرار الداخلي : أدى نجاح الثورة المجيدة التي قامت في انجلترا ١٦٨٩م الى وجود الدستور الانجليزي ونظام الحكم البرلماني الذي اعتبر نموذجا تسعى اليه الدول الاوروبية مما جعل بريطانيا تشهد استقرارا سياسيا مهد لنجاح الازدهار الاقتصادي .
- وفرة رأس المال : كان للكشوف الجغرافية دور بارز في جعل انجلترا مركزا ماليا كبيرا حيث أصبحت المصارف الانجليزية في لندن تتحكم في تجارة العالم وبالتالي أصبحت تمتلك ثروات مالية كبيرة مما سهل لها تمويل عمليات الصناعات بأشكالها المختلفة .
- سهولة الحصول على المواد الخام : أدى اتساع المستعمرات البريطانية الى سهولة حصول انجلترا على المواد الخام اللازمة للصناعة .
- وجود القوى المحركة : توفرت لانجلترا مصادر القوى المحركة التي تمثلت في المساقط المائية والفحم الأيدي العاملة الرخيصة : ساهمت في تشغيل المصانع بتكلفة بسيطة مما ساعد على استخدام رأس المال في تغطية النفقات الأخرى للصناعة .
- تشجيع العلماء والمخترعين : حرصت الحكومة الانجليزية وأصحاب رؤوس الأموال على دعم جهود العلماء والمخترعين وتوفير الامكانيات اللازمة لهم لاتمام اختراعاتهم وابتكاراتهم .
- وجود أسطول تجاري كبير : سهل لانجلترا عملية نقل المواد الخام الى مصانعها واعادة تصديرها في شكل صناعات الى اسواق العالم .



انتهت الأسئلة ...،،،،

تمنياتنا لكم بالنجاح والتوفيق ...،،،،

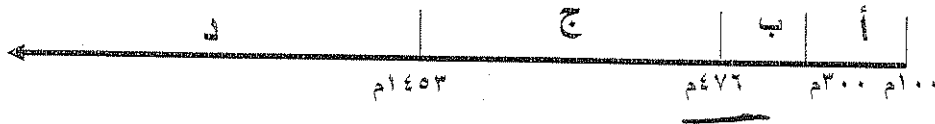
(الاسئلة في ٧ صفحات)

امتحان نهاية الفترة الدراسية الثانية  
للمصف الثاني عشر / أدبي للعام ٢٠١٣ / ٢٠١٤ م  
المجال الدراسي : تاريخ العالم الحديث والمعاصر

السؤال الأول اجباري و يتكون من ( أ- ب - ج- د ) :-

أ- اختر البديل الصحيح من بين البدائل التي تلي كل عبارة مما يلي :-

١ - الفترة الزمنية للعصور الوسطى يمثلها علي المخطط الزمني الحرف:



٢- نتيجة سياسية ترتبت على الثورة الصناعية:-

ب- زيادة الانتاج

أ- ظهور الصراع الطبقي

د- سيطرة الطبقة الرأسمالية

ج- ظهور المراكز الصناعية

٣- الاحرف الدالة على مركزين من مراكز انتقال الحضارة الاسلامية الى اوروبا في الخريطة التي أمامك :-

(ب ، ج)

(أ، ب)

(أ، د)

(ج ، د)

٤- العالم الألماني الذي اخترع أحرف الطباعة المعدنية:-

أ- ديملر وبنز

ب- حناجوتنبرج

ج- توماس نيوكمان

د- هنري بسمارك

٥- الملاح الذي تمكن من الوصول الى القطب الشمالي :

أ- جون كابوت

ب- مارتن فروبشير

ج- روبرت بيرري

د- الكسندر ماكينزي

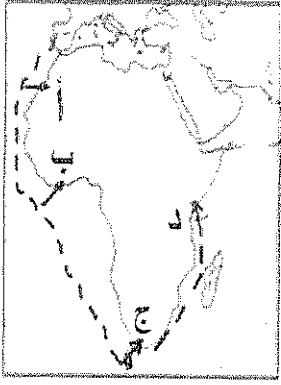
٦- العالم الذي أسهم في احداث تغيير في مجال النقل وبداية سير السكك الحديدية :-

أ- جورج ستيفنسن

ب- جيمس وات

ج- جون كي

د- ريتشارد اركرايت



٧- المنطقة التي وصل إليها الأمير هنري الملاح يمثلها على الخريطة الحرف :-

( أ - ب - ج - د )

٨- أول شعب أوروبي قام بتأسيس امبراطورية استعمارية فيما وراء البحار:-

أ- الأسبان

ب- البرتغال

ج- الإنجليز

د- الفرنسيين

ب - انسب العبارات التالية حسب مايناسبها في الجدول المرفق بوضع الرقم المناسب :-

- ١- تحالف المدن الصغيره مما منحها القوة والاستقلال.
- ٢- لوحة فنية رسمها ليوناردو دافنشي.
- ٣- مدينة أسسها الملاح جاك كارتييه في كندا .
- ٤- اسطول اسباني تحطم على يد الانجليز سنة ١٥٨٨م.
- ٥- سفن عملاقة تميزت بكبر حمولتها واستعمالها لعدد كبير من الاشرعة .
- ٦- الساحل الجنوبي لقارة افريقيا .

الأرمادا	رأس العواصف	كويك	كومونات	الجيوكندا	الكرافيل
٤	٦	٣	١	٢	٥

ج- أكمل الفراغ في العبارات التالية :-

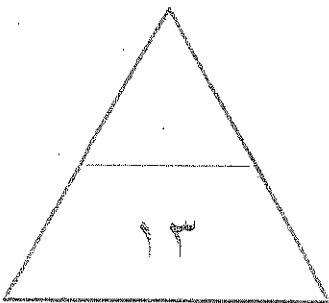
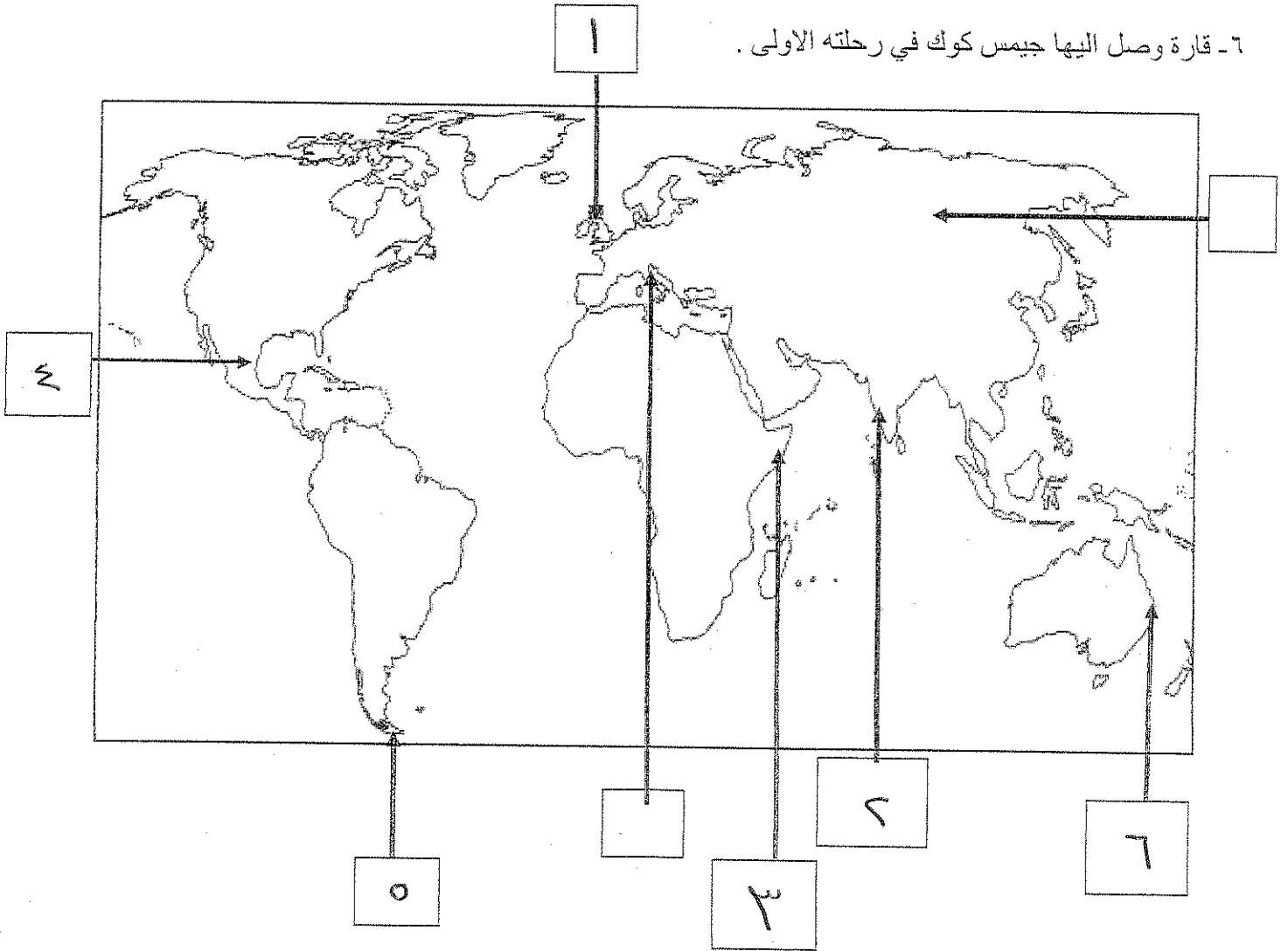
- ١- شاعر عربي تأثر به دانتي بتأليف رواية الكوميديا الإلهية اسمه أبي العلاء المبري
- ٢- اسلوب استعماري قائم على التفرقة بين الناس بسبب الدين أو الجنس أو اللون يسمى التمييز العنصري
- ٣- العام الذي احتلت فيه فرنسا الجزائر ----- ١٨٣٠ م
- ٤- الملكة التي قدمت الدعم والتمويل لمشروع كريستوفر كولمبس اسمها إيزابلا
- ٥- العالم الذي اخترع المصباح الكهربائي اسمه توماس ادسون
- ٦- عملية تغيير شامل في أدوات الإنتاج الصناعي ووسائله وحجمه ومستواه تسمى الثورة الصناعية

تابع / امتحان الفترة الدراسية الثانية للصف الثاني عشر الأدبي لمادة تاريخ العالم الحديث والمعاصر ٢٠١٣-٢٠١٤م

(٨ × نصف = ٤ درجات)

د- أكتب رقم العبارة في المربع المناسب لها على الخريطة :

- ١- مركز انطلاق الثورة الصناعية .
- ٢ - منطقة تنافست عليها الدول الاستعمارية وتعتبر مصدرا للتوابل والمنتجات الشرقية .
- ٣- دولة احتلتها ايطاليا بنظام الوصاية .
- ٤ - منطقة وصل اليها الملاح امريكو فسيوتشي .
- ٥ - مضيق وصل اليه الملاح ماجلان .
- ٦- قارة وصل اليها جيمس كوك في رحلته الاولى .



تابع / امتحان الفترة الدراسية الثانية للصف الثاني عشر الأدبي لمادة تاريخ العالم الحديث والمعاصر ٢٠١٣-٢٠١٤م

الأسئلة الاختيارية ( أجب عن ثلاثة أسئلة كاملة من كل مما يلي ):-

السؤال الثاني :- يتكون من ( أ - ب - ج )

( أ ) ما تفسيرك لما يلي :-

١- سبق إيطاليا للأقاليم الأوروبية في حركة النهضة .

\* وجود مركز البابوية

\* حلقة اتصال بين الشرق والغرب

\* ما من الإمبراطورية الرومانية العريقة

٢- قيام حركة الإصلاح الديني في أوروبا.

\* جهود حركة الإنسانيّة

\* السعي في تحرير حركة التقدم العلم من عبور الكنيسة

\* اهتمام أوروبا بحواضن الحياة الرينوية

ظهور الكثير من المهنيين

( ب - ) برهن على أن :-

١- للثورة الصناعية نتائج اجتماعية .

\* زيادة الكائن في أوروبا وارتفاع مستوى المعيشة

\* ظهور الصراع الطبقي

\* انتشار الأراء الاشتراكية المفاداة للاسماوية

٢- إنهار الإمبراطورية الأسبانية على الرغم من نشاطهم الاستعماري الواسع .

\* استبدال الأسيان والمعاملة السيئة للشعوب الأصلية

\* استغلال المقومات لصالح إسبانيا والملاحة

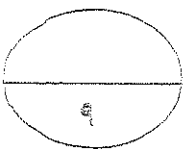
\* تحطم الاستعمار الإسباني في أمريكا

( ج ) عرف كل مما يلي :-

١- ( استيطان ) هجرة مجموعة من سكان دولة أجنبية حوتة إلى دولة ضعيفة

٢- ( الإنسانيين ) الذين عبروا عن كتاباتهم الأدبية عن صورة الإنسان الذي يتصرف بالإبدا

٣- ( تجارة الرق ) عملية بيع وشراء العبيد



السؤال الثالث :- يتكون من (أ- ب- ج)

أ- اكتب النتائج التي ترتبت على اختراع كل مما يلي :-

- ١- المكوك الطائر ..... و زيادة السرعة
- ٢- الدينامو ..... استخدام الطاقة الكهربائية لتوليد الطاقة الكهربائية

ب دال على صحة العبارات التالية :-

١- كان لظهور النظام الإقطاعي أثر واضح على المجتمع الأوروبي في العصور الوسطى.

٢- تقسيم المجتمع الأوروبي إلى مجتمع طبقة كان على قبة رجال الكنيسة والارستقراطيين والنبلاء والفرسان وفي أسفله كانت طبقة عبيد الارض

٢- للكشوف الجغرافية نتائج اقتصادية .

\* تحول طرق التجارة العالمية بين أوروبا وآسيا

\* تدفقت الثروات من البضائع ومن المهارات الثمينة على أوروبا

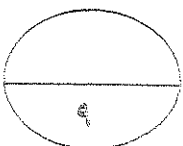
\* ازدياد النشاط التجاري والرقم مادي

\* ظهور البورصات العالمية على شكلها الحالي

ج- ما أوجه الاختلاف بين كل من :-

النظرية الفلكية لنيكولاس كوبرنيكس	النظرية الفلكية لبطليموس
أَنَّ الشَّمْسَ هي محور الكون وأنَّ الكواكب الأخرى تدور حول الشمس	أَنَّ الأَرْضَ هي محور الكون وأنَّ الشمس والكواكب الأخرى تدور حول الأرض

الوصاية	الانتداب
ظهر بعد الحرب العالمية الثانية ١٩٤٥م حيث وضعت الدول التي كانت تحت النفوذ الألماني والإيطالي والياباني تحت وصاية دولة من اختيار الأمم المتحدة	ظهر بعد الحرب العالمية الأولى عام ١٩١٩م حيث انتدبت الدول المنتصرة لإدارة شؤون الأقطار التي حكمتها الدولة الهيمنية أو ألمانيا





السؤال الرابع:- يتكون من ( أ- ب- ج )

(أ) ما الدور الذي قامت به الشخصيات التالية:-

١- مارتن لوثر في حركة الاصلاح الديني .

- \* تعامل بتعلق حموس وتسعين حجة ضد اوضاع الكنيسة من أبرزها
- \* معارضة فكرة ملكة العذارى
- \* عارضا الحجم الى روما - المالب بالاسماح بزواج رجال الدين
- \* للملب انتقامه من الادبيره - رفضه احتكار البابا للتفسير الكتاب المقدس

٢- الأمير هنري ابن ملك البرتغال في قيام حركة الكشوف الجغرافية .

- \* انشاء مدرسة بحرية
- \* انشاء مرصد بحرياً
- \* جلب علماء الرياضيات و ساس الخرائط والفلكيين من ايطاليا وصقلية
- \* استعان بالملكين الذين كانت لهم دراية من البحال البحري

ب) فند بالأدلة التاريخية مايلي:

١- لم تمتلك إنجلترا أي من المقومات لقيام الثورة الصناعية .

- \* كانت لدى إنجلترا العديد من المقومات التي ساعدت على قيام الثورة الصناعية من
- \* الاستقرار الداخلي / وفرة رأس المال / سهولة الحصول على المواد الخام
- \* وجود القوى المحركة / الأيدي العاملة الوفيرة
- \* تشجيع العلماء والمخترعين / وجود أسطول تجاري كبير

٢- يختلف الدافع الديني للدول الأوروبية في الكشوف الجغرافية عنه في الحركة الاستعمارية .

يتفق الدافع الديني في كليهما فالهدف هو نشر الدين المسيحي وتكوينه

صورة الاسلام

(ج) ما أوجه الشبه بين كل من عوامل انهيار الامبراطورية الهولندية والإمبراطورية البرتغالية.

- \* سياسة الاستبداد والفتوة في معاملة السكان الأصليين
- \* منافسة هولندا و انجلترا للبرتغال و منافسة انجلترا وفرنسا لهولندا



السؤال الخامس :- يتكون من (أ-ب-ج -)

(أ) نفذ المطلوب بين القوسين :-

( العامل الاستراتيجي )

١- الاستعمار الاوروبي .

- \* استغلال المواقع الاستراتيجية
- \* حماية خطوط المواصلات البحرية
- \* توفير خدمات للسفن التجارية

٢- النهضة الاوروبية ( جهود المفكرين في احياء الدراسات اليونانية القديمة )

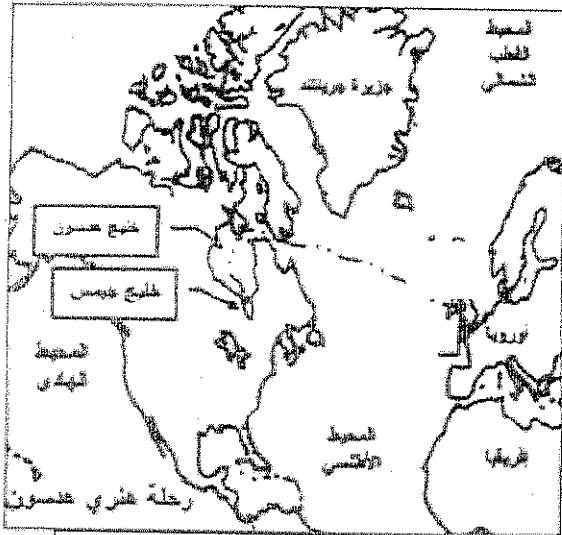
\* تبادل علماء الفقه المسيحية واطالبا الدراسات العلمية

\* تناقض الاصرار على الاشرار من ابناء المكتبات

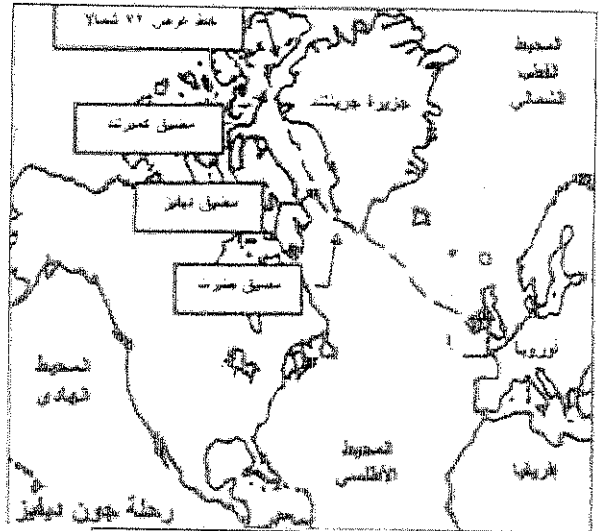
\* ظهور الأتراك كإحدى القوى العظمى من ايطاليا

\* اختراع أحرف الطباعة المعدنية

ب- لاحظ خرائط الكشوف الجغرافية التالية واستخرج منها :-



الرحلة الكشفية (٢)



الرحلة الكشفية (١)

البلد ١

- ١- الدولة التي سيرت الرحلتين رقم ١ ورقم ٢
- ٢- أقصى نقطة وصل إليها الملاح جون ديفنز شمالاً دائرة عرض ٧٠ شمالاً
- ٣- النتائج التي ترتبت على الرحلة الكشفية رقم (٢) \* الأسمان فليج هرسون \* الأسمان فليج جيمس \* نهر هرسون ومدينة نيويورك

(ج) ما انجازات الشخصيات التالية :-

١- فاسكودي جاما من رحلته الكشفية

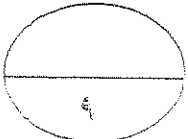
\* أول من استخدم رأس البهارا المصالح في الوصول للهند

\* حقق أمل البرتغاليين في كشف طريق ميا شرق الهند خارج ديار المكين

٢- الاخوان رايت في مجال الطيران

\* تطويع عالم الطيران

انتهت الأسئلة ،،



## الإجابة النموذجية

وزارة التربية

اختبار الفترة الدراسية الثانية

الزمن : ساعتان وربع

التوجيه الفني العام للاجتماعيات

لمادة تاريخ العالم الحديث والمعاصر

عدد الأوراق : ( 11 )

للعام الدراسي 2011 / 2012م

البيان

اجب على اربعة اسئلة فقط على ان يكون السؤال الأول من بينها اجباري:

السؤال الأول ( اجباري ) يتكون من أ - ب - ج :- كل نقطة درجة

أ - اختر الاجابة الصحيحة من بين البدائل التي تلي كل عبارة مما يلي :-

1- مخترع الاتجاز الذي تمثله الصورة المقابلة : ص 68

ب - جراهام بل

ا - وليم ماركوني

د - صمويل موريس

ج - مايكل فاراداي

2- الملاح الذي قام بالرحلة التي تمثلها الخريطة المقابلة : ص 38

ب - جون كابوت

أ - جون ديفيز

د - مارتن فروبيشر

ج - هنري هدسون

3- الترتيب الزمني الصحيح لاستعمار الوطن العربي :

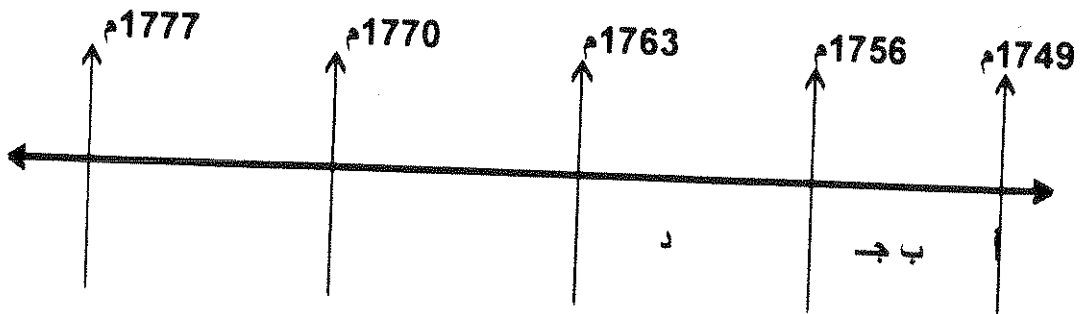
أ - الجزائر - مصر - سوقطرة - هرمز ص 51 و 53

ب- سوقطرة - هرمز - الجزائر - مصر

ج - الجزائر - سوقطرة - هرمز - مصر

د - سوقطرة - الجزائر - هرمز - مصر

4- الفترة الزمنية التي تمثل حرب السنين السبع يمثلها على المخطط الزمني الحرف: ب ص 77



تابع اختبار الفترة الدراسية الثانية - تاريخ العالم الحديث والمعاصر - 2012 / 2011

تابع السؤال الأول ( اجباري ) :-

م	الشخصيات
1-	دوناتلو
2-	روبرت بيرى
3-	فيلبو برونيلسكى
4-	تشارلز ويكلز

5- الأسماء التي تنتمي إلى عصر النهضة الأوروبية في الجدول المقابل : ص 18

أ - ( 2 ، 1 )      ب - ( 4 ، 2 )

ج - ( 3 ، 2 )      د - ( 3 ، 1 )

6- أول شعب أوروبي أسس امبراطورية استعمارية فيما وراء البحار : ص 53

أ - الهولنديون      ب - الفرنسيون

د - الانجليز

ج - البرتغاليون

1517م :

7- عدد الحجج التي علقها مارتن لوثر على باب كنيسة وتبرج عام

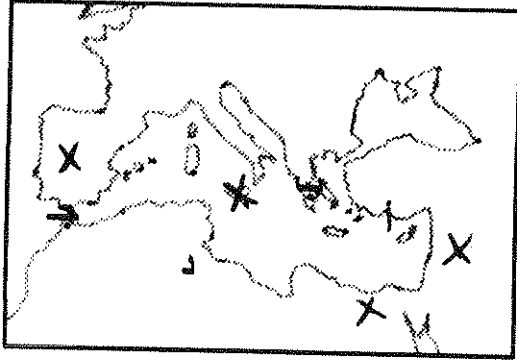
ص 20

ب - 93

أ - 92

د - 95

ج - 94



8- أحد مراكز الحضارة العربية الاسلامية إلى أوروبا

يمثله على الخريطة المقابلة الحرف : ص 14

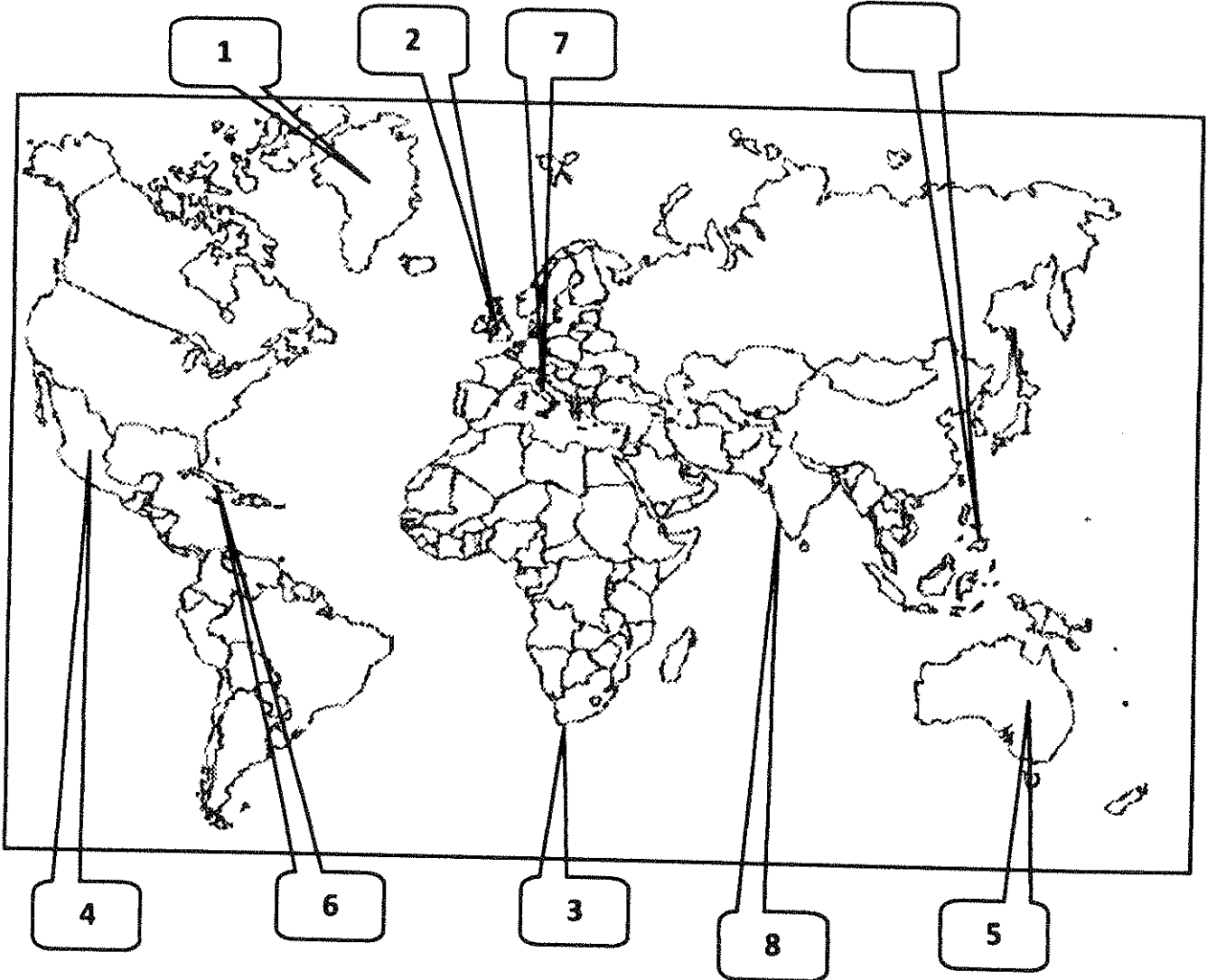
تحدد على الخريطة بالرمز ( X ) مركز الحضارة

ب - اكتب المفهوم الدالة عليه التعريفات التالية :- كل مفهوم درجة

- 1- ( التمييز العنصري ) اسلوب استعماري قائم على التفرقة بين الناس بسبب اللون او الجنس او الدين حيث مارست فيه ألوان من القهر والاستعباد . ص 51
- 2- ( الميثاق الاستعماري ) نظام استعماري يفرض على المستعمرة الا تتاجر مع أي دولة إلا البلد المستعمر له . ص 56
- 3- ( الكشوف الجغرافية ) حركة قامت بها دول أوروبا في القرنين الخامس عشر والسادس عشر الميلاديين ساعدت على تطور خريطة العالم . ص 25
- 4- ( التفويض الالهي ) نظرية تقول أن الملوك يمثلون الله على الارض وانهم يستمدون سلطتهم منه وليس من الشعوب التي يجب عليها الخضوع التام للملوك . ص 21
- 5- ( الثورة الصناعية ) تغيير شامل في أدوات الانتاج ووسائله وحجمه وعلاقاته ومستواه وتبدل كامل في أساليب التمويل والتسويق والتوزيع . ص 61

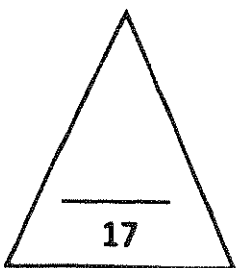
تابع السؤال الأول ( اجباري ) :-

جـ- لاحظ خريطة العالم جيدا ثم نفذ المطلوب منك :- نصف درجة لكل اجابة



• ضع رقم كل عبارة مما يلي في المربع المناسب لها على خريطة العالم الصماء :-

- 1- جزيرة اكتشافها الملاح مارتن فروبيشر . ص 37
- 2- أولى دول أوروبا في مجال الثورة الصناعية . ص 62
- 3- منطقة أطلق عليها اسم رأس العواصف . ص 28
- 4- موطن حضارة الماباس . ص 54
- 5- منطقة اكتشافها الملاح جيمس كوك . ص 39
- 6- منطقة يعتبر كولمبس أول من وصل لها . ص 32
- 7- موطن نيقولا ماكيافيللي . ص 21
- 8- عاصمة البرتغال في ممتلكاتهم الشرقية . ص 53



تابع اختبار الفترة الدراسية الثانية - تاريخ العالم الحديث والمعاصر - 2011م / 2012م

السؤال الثاني : ( اختياري ) ويتكون من ( أ - ب - ج - د )

٢ - علل ما يلي :-

1- نجاح الفرنسيون في السيطرة على الهند . ص 55 2×1 = درجتان

- اضحلال النفوذ الهولندي .
- انقسام الهند السياسي .

2- التسابق الاستعماري حول المستعمرات . ص 69 2×1 = درجتان

- لجلب المواد الخام منها .
- جعلها أسواقا للإنتاج الصناعي .

ب - ماذا يحدث لو لم :

1- تظهر النهضة الأوروبية في إيطاليا . ص 12 2×1 = درجتان يكتفى بنقطتين

- لظلت أوروبا تعاني من الجهل والظلم .
- تظل أوروبا تعاني من هيمنة الكنيسة الكاثوليكية .
- أي اجابة يراها المصحح مناسبة .

ج - فرق حسب الجدول التالي :- ص 46 ثلاث درجات

نظرية كوبرنيكوس في مجال الفلك	نظرية بطليموس في مجال الفلك
<ul style="list-style-type: none"><li>• ان الشمس هي محور الكون وان الكواكب الاخرى بما فيها الارض تسير في مدارات حول الشمس</li></ul> ( درجة ونصف )	<ul style="list-style-type: none"><li>• ان الارض هي محور الكون وان الشمس والقمر والكواكب الاخرى تدور حول الارض</li></ul> ( درجة ونصف )

تابع السؤال الثاني :-

د – دلل على صدق العبارات التالية :-

- 1- " إن العلاقات التي تمت بين أوروبا والقارات الأخرى كانت ذات نتائج عظيمة في الإقتصاد العالمي " .
- الاكتفاء بنقطتين ص 45درجتان
- تحول طرق التجارة العالمية بين أوروبا و آسيا فقد ضعفت مكانة البحر المتوسط تجاريا .
  - تدفقت الثروات من البضائع ومن المعادن الثمينة ( الذهب والفضة ) على أوروبا مما أدى إلى ارتفاع كبير في أسعار المواد الغذائية فتضررت الفئات العامة والفلاحون بشكل كبير طيلة القرن السادس عشر الميلادي بفعل عدم التوازن ما بين العرض والطلب واغتنى كبار التجار وازدادت أهمية البنوك ونمت طبقة البرجوازية التجارية .
  - نتيجة لتوفير البضائع والمال وازدياد النشاط التجاري الاقتصادي قامت صناعات جديدة مما أدى إلى زيادة رؤوس الاموال ومن هنا ظهرت الحاجة إلى الحصول على المستعمرات لتصريف مصنوعات الدولة والحصول على المعادن والمواد الأولية اللازمة للصناعة .
  - ظهور البورصات المالية على نطاق عالمي وازدياد نشاط دور المصارف .
- 2- " بذل المفكرون الأوروبيون ما بين عامي (1300-1500م ) جهدا كبيرا لحياء الدراسات اليونانية القديمة " . ص 15 درجتان
- الاكتفاء بنقطتين .
- تبادل علماء القسطنطينية واطاليا الزيارات العلمية بحثا عن العلوم والفنون الاغريقية والاطالية .
  - تنافس الامراء والاثرياء في انشاء المكتبات مما أدى الى ازدهار مكتبات البندقية وفلورنسا إلى جانب مكتبة الفاتيكان .
  - ظهور الأكاديميات العلمية في إيطاليا مما ساعد على إثراء الحركة العلمية .
  - جهود أسرة آل مديتشي في فلورنسا وأسرة سوفرزا في ميلانو في رعاية الحركة العلمية والأدبية والفنية .
  - اختراع أحرف الطباعة المعدنية على يد الألماني جوتا جوتنبرج أدى إلى سهولة طباعة الكتب وتداولها مما ساهم في نشر جهود العلماء وفي مختلف المجالات .

السؤال الثالث : ( اختياري ) يتكون من ( أ - ب - ج - د )

أ - قارن حسب الجدول التالي :- ص 51

الوصاية	الانتداب	اوجه المقارنة
ظهر في أعقاب الحرب العالمية الثانية عام 1945م فقد وضعت المناطق التي كانت تحت النفوذ الألماني والايطالي والياباني تحت وصاية دولة من اختيار الأمم المتحدة .	ظهر إثر انتهاء الحرب العالمية الأولى عام 1919م حيث انتدبت الدول المنتصرة لادارة شؤون الأقطار التي تحكمها الدولة العثمانية أو ألمانيا لهزيمتهما في الحرب بحجة الأخذ بيدها نحو التطور والاستقلال .	التعريف نصف درجة لكل تعريف
الصومال تحت الوصاية الايطالية اقليم ناميبيا تحت وصاية اتحاد جنوب أفريقيا	سوريا / لبنان تحت الانتداب الفرنسي فلسطين / الأردن تحت الانتداب البريطاني	مثال نصف درجة لكل مثال

ب - دلل على صدق العبارات التالية :-

- 1- لعب هنري الملاح دورا هاما في حركة الكشوف الجغرافية . ص 27 4 درجات يكتفى بأربع نقاط
  - كان مولعا بالملاحة وانشأ مدرسة بحرية اهتمت بتطوير الادوات التي استخدمت في عملية الكشوف الجغرافية كالاتمام برسم الخرائط .
  - انشأ مرصدا بحريا في الطرف الجنوبي لشاطئ البرتغال .
  - جلب علماء الرياضيات ورسامي الخرائط والفلكيين من ايطاليا وصقلية .
  - استعان بالمسلمين الذين كانت لهم دراية في المجال البحري .
  - بدأ رحلته الى سبته عام 1415م .
  - حاول الوصول الى الحبشة والهند .
- 2- للاستعمار اثار ايجابية . ص 57  $2 \times 1 = 2$  درجة يكتفى بنقطتين
  - حقق المستعمرون شيئا من التنمية الاقتصادية للمستعمرات فادخلوا اليها طرق الزراعة والصناعة والعلوم الطبية الغربية .
  - ادخلت النظام الديمقراطي في الحكم .
  - ما يراه المصحح مناسباً .
- 3- لعبت التغيرات التي صاحبت عصر النهضة دورا كبيرا في تفجير الطاقات الفنية لدى الفنانين . ص 18 3 درجات لكل نقطة درجة
  - حرص الفنانون على محاكاة الفنون القديمة في الروح والتعبير مع التجديد والابتكار والابداع .
  - اصبح الانسان المحور الرئيسي الذي تدور حوله الاعمال الفنية لتعبر عن قدراته وتقدمه في صورة جميلة مشرقة محبا للحياة قادرا على العطاء والانتاج في شتى مجالات الحياة .
  - وجد الفنانون التشجيع والدعم الفني والمعنوي فانتجوا اعظم أعمالهم الفنية التي حولت المدن الاوروبية الى مناطق فنية زاخرة بثتى انواع الانتاج الفني في مجالات العمارة والنحت والتصوير .



تابع اختبار الفترة الدراسية الثانية – تاريخ العالم الحديث والمعاصر – 2011 / 2012م

تابع السؤال الثالث :-

ج - " يعتبر مايكل فاراداي من أشهر العلماء الذين برزوا بعد قيام الثورة الصناعية "

1- اكتب الانجاز الذي قدمه . ص 67

الدينمو درجة

2- ما النتيجة المترتبة على انجازه .

استخدام الطاقة الميكانيكية لتوليد طاقة كهربائية . درجة

د – فند العبارة التالية :

لم يهتم المكتشفون الأوروبيون بنشر المسيحية في المناطق المكتشفة . ص 45 درجة

بل على العكس من ذلك حاولت الدول المكتشفة نشر دينها في البلاد التي اكتشفتها اذ عمل الأسبان والبرتغاليون بعد أن تم الكشف الجغرافي على التبشير بالمسيحية على المذهب الكاثوليكي بين سكان المناطق المكتشفة .

السؤال الرابع : ( اختياري ) يتكون من ( أ - ب - ج )

أ - اكتب فقرة مترابطة من اربعة اسطر مستعينا بالكلمات الارشادية التالية :- ص 78 ثلاث درجات

1- ( جاك كارتييه - الملك فرانسيس الأول - سانت مالو - نهر سانت لورنس )

قام جاك كارتييه بأربع رحلات في عهد الملك فرانسيس الأول حيث اتجه غربا نحو العالم الجديد عام 1534م ، أبحر كارتييه من ميناء سانت مالو عبر المحيط الأطلسي نحو أمريكا الشمالية فاكشف كندا ، ويعتبر من طليعة الفرنسيين الذين اكتشفوا هذا الأقليم واكتشف نهر سانت لورنس وجزيرة أورليانز ووصل إلى ما وراء نهر سانت لورنس وهي منطقة تسمى حاليا مونتريال وأسس مدينة كويبك على نهر سانت لورنس وكانت مبادرة لانشاء امبراطورية فرنسية في أمريكا والعمل على زيادة نموها .

أي فقرة مترابطة يراها المصحح مناسبة .

ب - لخص ما يلي :

1- مراحل نمو المدن الأوروبية . ص  $3 \times 161 = 3$  درجات درجة لكل نقطة

- تحالف المدن الصغيرة في شكل كومونات مما منحها الاستقلال والقوة السياسية
- ظهور الطبقة الوسطى ( البرجوازية ) التي تحالفت مع الملوك لتحطيم النظام الاقطاعي مما احدث تغييرا كبيرا في ملامح المدن الأوروبية سياسيا واقتصاديا واجتماعيا
- قيام ثورة ثقافية من خلال انشاء المدارس في المدن بعيدا عن سيطرة الاديرة

2- الجهود الاستكشافية لماجلان. ص  $3 \times 351 = 3$  ثلاث درجات درجة لكل نقطة

- خرج ماجلان من اشبيلية من ميناء سان لوكار ثم اتجه جنوبا فسار حتى وصل ساحل البرازيل وسان جوليان
- طاف حول الشاطئ الشرقي لقارة أمريكا الجنوبية ثم اكتشف ممرا مانيا عميقا عند الطرف الجنوبي لأمريكا الجنوبية اطلق عليه مضيق ماجلان فعبر المضيق الى المحيط الهادي حتى وصل جزر الفلبين
- اكتشف جزيرة ساما فاعتقد انه وصل الى جزر التوابل وقد قتل ماجلان في نزاع مع سكان احدى جزر الفلبين

ج - نفذ المطلوب منك بين الأقواس :-

1- الثورة الصناعية . ص 69 درجتان الاكتفاء بأربع نقاط ( النتائج الاقتصادية )

- قيام المصانع الكبيرة التي تعتمد على الصناعة الآلية مما أدى إلى زيادة الانتاج
- انتعاش النشاط الاقتصادي من خلال حركة البنوك والوكالات التجارية ومراكز التوزيع والتسويق
- اتساع النشاط التجاري العالمي
- ارتفاع الدخل القومي نتيجة لزيادة عائدات التجارة
- ظهور المدن الصناعية واتساع حركة العمران في أوروبا
- سيادة النظام الاقتصادي الرأسمالي

تابع السؤال الرابع :

- 2- قيام النظام الاستعماري الاوروبي . ص 50درجتان الاكتفاء بأربع نقاط( العوامل السكانية )
- الثورة الصناعية ساعدت على الزيادة السكانية لدول أوروبا .
  - تحسن الخدمات الطبية ساعد على الزيادة السكانية الطبيعية في أوروبا .
  - زيادة عدد السكان في أوروبا أدى إلى اتباع سياسة التهجير لأعداد كثيرة من سكان أوروبا إلى الأقاليم المستعمرة .
  - العمل على تجنيد سكان المستعمرات لصالح القوة العسكرية للدول الاستعمارية .

تابع اختبار الفترة الدراسية الثانية – تاريخ العالم الحديث والمعاصر – 2011 / 2012م

السؤال الخامس ( اختياري ) يتكون من أ – ب – ج – د :-

أ – عدد النتائج المترتبة على كل من :-

- 1- حركة الاصلاح الديني في أوروبا . ص 20 درجتان الاكتفاء بنقطتين
  - قيام صراع كبير بين اتباعه والكنيسة
  - قيام ثورات وحروب
  - نبهت الى اهمية تحرير الكنيسة من مفاستها والتخلص من هيمنتها المطلقة على حياة الناس في اوربا
- 2- رحلة فاسكو دي جاما . ص 29درجتان الاكتفاء بنقطتين
  - حقق امل البرتغال في كشف طريق مباشر في الوصول الى الهند خارج ديار المسلمين وكانت اكبر ضربة اقتصادية وجهت للعالم الاسلامي
  - اصبحت البرتغال في مركز متقدم في منطقة المحيط الهندي التجارية

ب - فرق حسب الجدول التالي :- ص 53 و ص 54 درجتان

اسباب انهيار الامبراطورية الاسبانية	اسباب انهيار الامبراطورية البرتغالية
<ul style="list-style-type: none"> <li>• استبداد الاسبان والمعاملة السيئة للشعوب الاصلية</li> <li>• استغلال المستعمرات لمصلحة اسبانيا والملك</li> <li>• تدفق الثروات على الاسبان حرض قراصنة الانجليزي والهولنديين والفرنسيين بتشجيع من حكوماتهم على السطو على السفن الاسبانية</li> <li>• تحطم الاسطول الاسباني ( الارمادا ) على يد الانجليز عام 1588 مما ادى الى ضعف القوة البحرية الاسبانية</li> </ul> <p>( يكتفى بنقطتين )</p>	<ul style="list-style-type: none"> <li>• سوء ادارة المستعمرات وانتشار الرشوة</li> <li>• قسوة البرتغاليين في معاملة السكان الاصليين واجبارهم على اعتناق المسيحية</li> <li>• السلطة كانت في يد نائب الملك في جوا وهو المسؤول امام الملك دون رقابة ولقصر مدة حكمه كان يقوم باحتزاز الاموال وعدم الاعتناء بالمستعمرة</li> <li>• منافسة الهولنديين والانجليز للبرتغاليين في مجال الاستعمار</li> <li>• فقدت البرتغال استقلالها كدولة وضمت للنتاج الاسباني في عهد الملك فيليب الثاني عام 1580م ولمدة 60 عاما ( يكتفى بنقطتين )</li> </ul>

ج - ماذا يحدث لو لم :

تمول الملكة ايزابيلا مشروع كريستوفر كولومبس . ص 31 درجة ( يكتفى بنقطتين )

- لم يرق برحلاته الكشفية الرابع .
- لم يكتشف جزر الهند الغربية .
- لم يكتشف اجزاء من امريكا الوسطى ( الانتيل الكبرى والصغرى ) / كوبا / هايتي / جزر الدومينيكا / سانت كروز / بورتوريكو / جاميكا .
- لم يصل الى جزيرة ترينداد .
- اي اجابة يراها المصحح مناسبة

- 1- الثورة الصناعية ص 62 درجتان الاكتفاء بأربع نقاط ( عوامل قيامها )
- الاستقرار السياسي ادى نجاح الثورة المجيدة التي قامت في انجلترا عام 1689م الى وجود الدستور الانجليزي ونظام الحكم البرلماني الذي اعتبر نموذجا تسعى اليه الدول الاوروبية مما جعل بريطانيا تشهد استقرارا سياسيا مهد لنجاح الازدهار الاقتصادي
  - وفرة رأس المال كان للكشوف الجغرافية دور بارز في جعل انجلترا مركزا ماليا كبيرا حيث اصبحت المصارف الانجليزية في لندن تتحكم في تجارة العالم وبالتالي اصبحت تمتلك ثروات مالية كبيرة مما سهل لها تمويل عمليات الصناعات باشكالها المختلفة
  - سهولة الحصول على المواد الخام ادى اتساع المستعمرات البريطانية الى سهولة حصول انجلترا على المواد الخام اللازمة للصناعة
  - وجود القوى المحركة توفرت لانجلترا مصادر القوى المحركة التي تمثلت في المساقط المائية والفحم الايدي العاملة الرخيصة ساهمت في تشغيل المصانع بتكلفة بسيطة مما ساعد على استخدام رأس المال في تغطية النفقات الاخرى للصناعة
  - تشجيع العلماء والمخترعين حرصت الحكومة الانجليزية واصحاب رؤوس الاموال على دعم جهود العلماء والمخترعين وتوفير الامكانيات اللازمة لهم لاتمام اختراعاتهم وابتكاراتهم
  - وجود اسطول تجاري كبير سهل لانجلترا عملية نقل المواد الخام الى مصانعها واعادة تصديرها في شكل صناعات الى اسواق العالم .

2- احتكار البرتغال تجارة الشرق الاكتفاء بنقطتين ص 53 درجة ( العوامل )

- انشغال الدولة العثمانية بحربها مع الصفويين .
- عدم توحيد القوى الاسلامية الكبرى ( الدولة العثمانية – الصفوية – المملوكية ) .
- تفكك بلاد الهند .
- استخدم البرتغاليون قوة السلاح والبارود والاساطيل الضخمة حيث لم تكن متوفرة لدى شعوب الشرق .

3- الكشوف الجغرافية ص 25 ثلاث درجات الاكتفاء بست نقاط ( الدافع الاقتصادي )

- البحث عن التوابل .
- محاولة تخطي الوساطة التجارية الاسلامية .
- السيطرة على طرق التجارة .
- الوصول إلى منابع التجارة الآسيوية والأفريقية .
- دفعت حاجة الأوروبيين إلى المزيد من الذهب والفضة ( مجاعة نقدية ) إلى خروج الأوروبيين للبحث عن مناجم الذهب والفضة .
- الحروب التي عانت منها أوروبا في آخر القرن الخامس عشر وترتب عليها حدوث أزمة اقتصادية في أوروبا
- العثور على أراضي جديدة للسيطرة عليها لايواء من ضاقت بهم أوطانهم بسبب زيادة عدد السكان .

العام الدراسي :- 2008/2009م

اختبار الفترة الثانية الفصل الدراسي الأول

وزارة التربية

زمن الاختبار :- ( ساعتان )

للمصف الثاني عشر

التوجيه الفني العام للاجتماعيات

عدد الأوراق :- ( 6 )

( تاريخ العالم الحديث والمعاصر )

( كل نقطة بدرجة واحدة )

السؤال الأول :- ( اجباري ) يتكون من ( أ ، ب ، ج ، د )

( أ ) أكمل العبارات التالية بما يناسبها :-

- 1 :- عالم الفلك البولندي الذي أتى بنظرية توضح إن الشمس هي محور الكون يسمى [ نيكولاس كوبرنيكوس ] ص 46
- 2 :- المخترع الألماني الذي اخترع أحرف الطباعة المعدنية يسمى [ حنا جوتنبرج ] ص 15
- 3 :- الطبقة التي تحالفت مع ملوك أوروبا في أواخر العصور الوسطى لتحطيم النظام الإقطاعي تسمى [ الوسطى (البرجوازية) ] ص 16
- 4 :- العام الذي بدأت فيه الاكتشافات في المنطقة القطبية الشمالية هو [ 1771 م ] ص 42
- 5 :- الدولة العربية التي استعمرتها فرنسا في عام 1830م تسمى [ الجزائر ] ص 51

( كل نقطة بدرجة واحدة )

( ب ) اختر البديل المناسب من بين البدائل التي تلي كل عبارة -

- 1 :- الشاعر الذي ألف الكوميديا الإلهية متأثرا بقصة المعراج ورسالة الغفران للشاعر العربي أبي العلاء المعري يسمى ص 17
- ( أ ) أرازموس
- ( ج ) بوكاشيو

( د ) دانتي

( ب ) بترارك

- 2 :- العام الذي سقطت فيه روما عاصمة الإمبراطورية الرومانية على يد القبائل الجرمانية هو ص 11
- ( أ ) 476 م
- ( ج ) 746 م

( د ) 1534 م

( ب ) 1453 م

- 3 :- الملاح الذي يعتبر أول من استخدم رأس الرجاء الصالح للوصول للهند يسمى ص 28
- ( أ ) بارثلميو دياز
- ( ج ) فاسكودي جاما

( د ) هنري الملاح

( ب ) اميريكو فسبوتشي

- 4 - الرحلة المبينة على الخريطة المقابلة قام بها الملاح ص 38
- ( أ ) هنري هديسون
- ( ج ) جون جيفيز

( د ) جيمس كوك

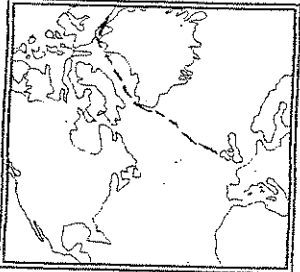
( ب ) مارتن فروبشير

- 5 :- الدولة الأوربية الاستعمارية التي اكتشفت كندا وأسست مدينة كوينبك تسمى ص 40
- ( أ ) إنجلترا
- ( ج ) البرتغال

( د ) فرنسا

( ب ) اسبانيا

( 1 )



## تابع السؤال الأول

( كل نقطة بدرجة واحدة )

( ج ) - أكتب الدلول التاريخي المناسب لكل عبارة فيما يلي :

- |      |  |                     |   |
|------|--|---------------------|---|
| 61 ص | عملية تغيير شامل في أدوات الإنتاج ووسائله وحجمه وتبدل في أساليب التمويل والتسويق | [ الثورة الصناعية ] | 1 |
| 16 ص | تحالفات تمت بين المدن الصغيرة في أوروبا لمنحها الاستقلال والقوة السياسية         | [ كمونات ]          | 2 |
| 51 ص | هجرة مجموعة من السكان إلى دولة ضعيفة وتملك الأرض وطرد السكان الأصليين            | [ الاستيطان ]       | 3 |
| 26 ص | السفن العملاقة التي تميزت بكبر حمولتها واستعمالها لعدد اكبر من الأشرعة تسمى      | [ الكرافيل ]        | 4 |

لكل عنصر درجة واحدة

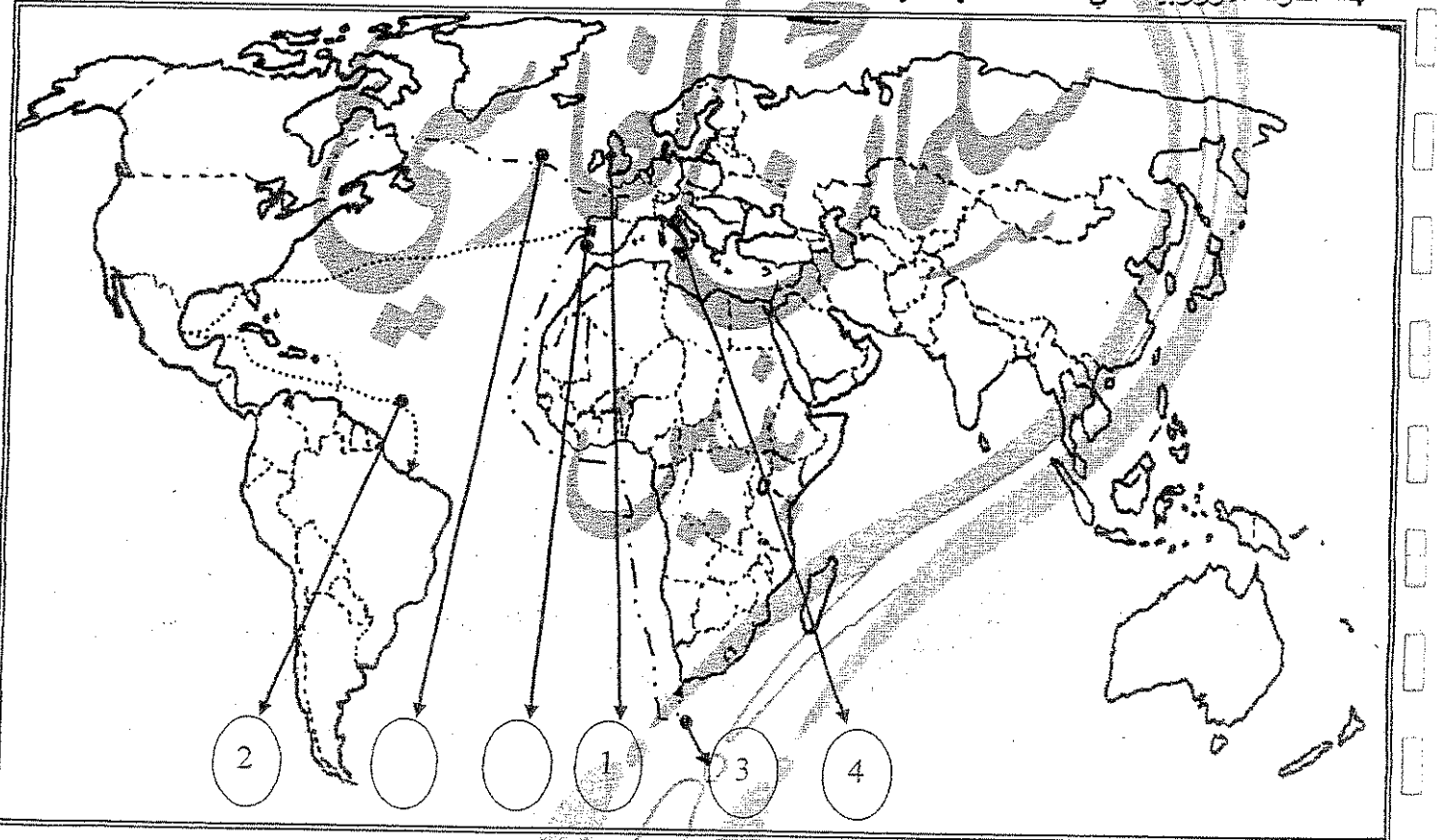
( د ) - - صنف الأسماء التالية كل حسب المجال الذي يرع فيه :

( هنري بيسمر ، توماس اديسون ، جون كي ، جورج ستيفنس )

مجال الكهرباء ص 67	مجال النقل ص 65	مجال التعدين ص 64	صناعة المنسوجات ص 63
توماس اديسون	جورج ستيفنس	هنري بيسمر	جون كي

( هـ ) على خريطة العالم الموضحة أمامك ضع الرقم المناسب داخل الدائرة الموضحة : ( لكل عنصر نصف درجة = 3 درجات )

- 1- الدولة الأوروبية التي انطلقت منها الثورة الصناعية
- 2- رحلة الملاح امريكو فسبوتشي
- 3- رحلة الملاح بارثلميودياز
- 4- الدولة الأوروبية التي انطلقت منها النهضة الأوروبية.



أجب عن ثلاثة أسئلة من الأسئلة التالية

السؤال الثاني :- يتكون من ( أ ، ب ، ج ، د )

( أ ) علل لما يلي :-

( 4 نقاط ب 4 درجات )

ص 12

كانت إيطاليا أسبق الأقاليم الأوروبية إلى النهضة

- لعبت دور الوسيط التجاري بين مواني البحر المتوسط
- وجود مركز البابوية فيها .
- حلقة اتصال بين الشرق والغرب .
- ماضي الإمبراطورية الرومانية العريقة

( 4 نقاط ب 4 درجات )

ص 15

( ب ) - اكتب عن : جهود المفكرين الأوربيين في إحياء الدراسات القديمة

- تبادل علماء القسطنطينية وإيطاليا الزيارات العلمية بحثاً عن العلوم والفنون الإغريقية والإيطالية
- تنافس الأمراء الأثرياء على إنشاء المكتبات مما أدى إلى ازدهار مكتبات البندقية وفلورنسا إلى جانب مكتبة الفاتيكان
- ظهور الأكاديميات العلمية في إيطاليا مما ساعد على إثراء الحركة العلمية
- جهود أسرة آل مديتشي في فلورنسا وأسرة سوفرزا في ميلانو ورعاية الحركة العلمية والأدبية والفنية
- اختراع أحرف الطباعة المعدنية

( 4 درجات )

ص 21

( ج ) أقرأ الفقرة التالية ثم اجب عن الأسئلة التي تليها

( عاش في مدينة فلورنسا بإيطاليا وتولى العديد من المناصب السياسية بها وأصبح بمثابة سفير لحكوماتها في العديد من الدول الأوروبية وعندما قامت حكومة فلورنسا حرص على التفرق لكتابه آرائه السياسية وكتب ذلك بكتاب عام 1513م شرح فيه أصول الحكم )

نيقولا ماكيافيلي  
كتاب الأمير

1- ما الشخصية التي ينطبق عليها هذا الوصف

2- ما أهم مؤلفاته

3- ما الآراء التي نادى بها ؟

- تأييد نظام الحكم المطلق القائم على نظرية التفويض الإلهي
- إقرار مبدأ (الغاية تبرر الوسيلة) . بمعنى إن من حق الحاكم اتخاذ كل وسيلة تحقق استقرار حكمه

( د ) عرف المفاهيم والمصطلحات التالية

ص 12

( درجة )

النهضة

هي الحركة التي انتقلت من إيطاليا إلى أنحاء أوروبا بهدف اكتشاف الذات وإعادة إحياء الأمجاد اليونانية والرومانية القديمة في كافة مجالات العلوم والآداب والفنون

( درجة )

ص 21

التفويض الإلهي

نظرية تقول أن الملوك يمثلون الله على الأرض ومن الله يستمد الملك السلطة وليس من الشعب الذي يجب عليه الخضوع التام للملك ، النظرية تؤيد الحقوق المطلقة للملوك في الحكم .

( درجة )

ص 51

التمييز العنصري

أحد أشكال الاستعمار، وهو أسلوب استعماري قائم على التفرقة العنصرية بين الناس بسبب اللون أو الجنس أو الدين حيث مورست فيه ألوان من القهر والاستعباد

( درجة )

ص 25

الكشوف الجغرافية :

الجهود التي قام بها الأوربيين بهدف التعرف على أراضي جديدة خلال القرنين الخامس والسادس عشر الميلادي



السؤال الثالث :- يتكون من ( أ ، ب ، ج ، د )

ص 20 ( 4 نقاط ب 4 درجات )

( أ ) علل لما يلي :-

قيام حركة الإصلاح الديني

- جهود الحركة الإنسانية في التنبيه لأهمية إصلاح الكنيسة .
- الرغبة في تحرير حركة التقدم العلمي من قيود الكنيسة .
- اهتمام أوروبا بجوانب الحياة الدنيوية .
- ظهور كثير من المصلحين الذين نادوا بتخليص الكنيسة من مفسدها .

ص 69 ( 4 نقاط ب 4 درجات )

( ب ) ما النتائج التي ترتبت على نجاح الثورة الصناعية في المجالات التالية

النتائج الاقتصادية ( يكتفى نقطتان )	النتائج السياسية ( يكتفى نقطتان )
<ul style="list-style-type: none"> <li>• قيام المصانع الكبيرة التي تعتمد على الصناعة الآلية مما أدى إلى زيادة الإنتاج</li> <li>• انتعاش النشاط الاقتصادي من خلال حركة البنوك والوكالات التجارية ومراكز التوزيع والتسويق</li> <li>• اتساع النشاط التجاري العالمي</li> <li>• ارتفاع الدخل القومي نتيجة لزيادة عائدات التجارة</li> <li>• ظهور المدن الصناعية واتساع حركة العمران في أوروبا</li> <li>• سيادة النظام الاقتصادي الرأسمالي</li> </ul>	<ul style="list-style-type: none"> <li>• سيادة الطبقة الرأسمالية على مقاليد السلطة السياسية في أوروبا</li> <li>• التسابق الاستعماري حول المستعمرات لجلب المواد الخام منها وجعلها أسواقاً للإنتاج الصناعي</li> <li>• ظهور الأحزاب السياسية المدافعة عن حقوق العمال</li> </ul>

( 4 درجات )

ج/ قارن طبقاً للجدول التالي :-

وجه المقارنة	جون كابوت ص 37 نقطتان درجة	مارتن فروبشير ص 37 نقطتان درجة
الاكتشافات	<ul style="list-style-type: none"> <li>- اكتشف جزر نيوفولاند</li> <li>- اكتشف شبه جزيرة لايرادور</li> <li>- وصل إلى فلوريدا</li> </ul>	<ul style="list-style-type: none"> <li>- وصل إلى جزيرة شتاند</li> <li>- وصل إلى جزيرة جرينلاند</li> <li>- اكتشف مضيق هلسين</li> </ul>
وجه المقارنة	الآثار السلبية ( للاستعمار الأوربي ) على المستعمرات	الآثار الإيجابية ( للاستعمار الأوربي ) على المستعمرات
الآثار	<ul style="list-style-type: none"> <li>1- استغلال المستعمرات والاستفادة منها اقتصادياً</li> <li>2- تعطيل الهياكل الاقتصادية التقليدية وتغييرها</li> <li>3- إلزام المستعمرات بإنتاج المواد الخام وشرع معظم السلع المصنعة</li> <li>4- تحطيم الأنشطة التجارية والصناعية في المستعمرات</li> </ul>	<ul style="list-style-type: none"> <li>1- تحقيق شينا من التنمية الاقتصادية للمستعمرات</li> <li>2- ادخلوا طرق الزراعة والصناعة والعلوم الطبية الغربية</li> <li>3- إدخال النظام الديمقراطي في الحكم</li> <li>4- ربط المستعمرات بالنظام الاقتصادي الدولي</li> </ul>

( د ) دال على صحة العبارات التالية :-

ص 27 ( 4 نقاط ب 4 درجات )

يعتبر هنري الملاح صاحب الفضل الأول في الكشوف البرتغالية

- أنشأ مدرسة بحرية والتي اهتمت بتطوير الأدوات والتي استخدمت في الكشوف الجغرافية
- اهتم بتطوير الأدوات التي استخدمت في الكشوف الجغرافية ( مثل الخرائط ) .
- أنشأ مرصداً بحرياً في الطرف الجنوبي لساحل البرتغال .
- استفاد علماء الرياضيات ورسمي الخرائط والفلكيين من إيطاليا وصقلية ،
- الاستعانة بالعلماء المسلمين ومؤلفاتهم الجغرافية والفلكية
- حاول الوصول إلى الحبشة والهند .

السؤال الرابع :- يتكون من ( أ ، ب ، ج ، د ، هـ )

ص 25 ، 26 ( 4 نقاط ب 4 درجات )

( أ ) علل لما يلي :-

قيام حركة الكشوف الجغرافية

- الدافع الاقتصادي والبحث عن الذهب والفضة والسيطرة على تجارة المسلمين .
- الدافع الديني ونشر المسيحية في المناطق المكتشفة .
- نمو الروح القومية والتوسع في تكوين إمبراطوريات
- زيادة المعارف الجغرافية وتقدم الملاحة .

ص 51 ( درجتان )

( ب ) فرق طبقا للجدول التالي

الانتداب	الوصاية
نظام استعماري ظهر عقب الحرب العالمية الأولى . حيث انتدبت الدول المنتصرة لإدارة شؤون الأقطار التي تحكمها الدولة العثمانية أو ألمانيا لهزيمتهما بالحرب بحجة الأخذ بيدها نحو التطور والاستقلال مثال وضع سوريا ولبنان ( فرنسا ) فلسطين والأردن ( إنجلترا ) .	نظام استعماري ظهر بعد الحرب العالمية الثانية فقد وضعت المناطق التي كانت تحت النفوذ الألماني والإيطالي والياباني تحت وصاية دولة من اختيار الأمم المتحدة مثال [ الصومال تحت الوصاية الإيطالية إقليم ناميبيا تحت وصاية اتحاد جنوب إفريقيا ]

( ج ) دلي على صحة العبارات التالية :-

ص 16 ( يكتفى بنقطتان درجتان )

مرئمو المدن الأوربية بعدة مراحل

- 1- تحالف المدن الصغيرة لمنحها الاستقلال والقوة السياسية
  - 2- ظهور الطبقة الوسطى ( البرجوازية ) والتي تحالفت مع الملوك لضرب النظام الإقطاعي
  - 3- قيام ثورة ثقافية من خلال إنشاء المدارس بعيدا عن الأديرة
- (د) برهن كيف أدت حركة الكشوف الجغرافية إلى تقدم العلوم التالية :-

ص 46

( يكتفى بنقطتان درجتان )

علم الجغرافيا

- 1- تصحيح المعلومات الجغرافية .
- 2- حدوث انقلاب جذري في المبادئ الأساسية التي يقوم عليها علم الجغرافيا .
- 3- القضاء على الأفكار السائدة عن الأرض وحجمها وقاراتها ومحيطاتها .

( يكتفى بنقطتان درجتان )

علم التاريخ

- 1- اتسع مجال البحوث التاريخية وشملت شعوب وحضارات جديدة .
- 2- التعرف على حضارات جديدة .
- 3- لم تعد الحضارة الإغريقية هي مركز البشرية كما يدعي الأوربيين .

(هـ) ما النتائج التي ترتبت على كل من

(درجتان)

ص 11

1- سيادة نظام الإقطاع في أوروبا في العصور الوسطى

- قسم المجتمع الأوربي إلى مجتمع طبقي على قمته رجال الكنيسة والإقطاعيين والنبلاء والفرسان وأسفله العبيد
- وجود صراع دائم بين البابوية والإمبراطورية مما أوجد جهل وتخلف وحرمان الناس من حرية التفكير والبحث العلمي

(درجتان)

29

2- رحلة فاسكو دي جاما

- حقق أمل البرتغاليين في كشف طريق للوصول إلى الهند خارج ديار المسلمين وهي أكبر ضربة اقتصادية للعالم الإسلامي
- أصبحت البرتغال في مركز متقدم بمنطقة المحيط الهندي التجارية

السؤال الخامس :-

(4 نقاط ب 4 درجات)

ص 32

(أ) اقرأ الفقرة الآتية ثم أجب عن الأسئلة التالية

( ايطالي من مدينة جنوه ولد عام 1451م وعمل لحساب الملكية الإسبانية واهتم بالشئون البحرية منذ عام 1480م وقصد اسبانيا عام 1484م في عهد الملك فرديناند والملكة إيزابيلا )

1) ما الشخصية التي ينطبق عليها هذا الوصف ( كريستوفر كولومبس )

2) كم عدد الرحلات التي قام بها ( أربع رحلات )

3) ما النتائج التي ترتبت على رحلاته ؟

- اكتشف جزر الانتيل ووصل إلى كوبا وأبحر إلى هايتي
- اكتشف جزر الدومينكا وسانت كروز وبورتوريكو واكتشف الساحل الشمالي لجاميكا
- وصل إلى جزيرة ترينداد واتجه إلى ساحل فينزويلا
- وصل إلى ساحل أمريكا الوسطى

(4 نقاط ب 4 درجات)

(ب) فرق طبقا للجدول التالي

عوامل انهيار الإمبراطورية الإسبانية (نقطتان) ص 54	عوامل انهيار الإمبراطورية البرتغالية (نقطتان) ص 53
<ul style="list-style-type: none"> <li>• استبداد الأسبان والمعاملة السيئة للشعوب الأصلية</li> <li>• استغلال المستعمرات لمصلحة اسبانيا والملك</li> <li>• تدفق الثروات على الأسبان حرض قراصنة الانجليز والهولنديين والفرنسيين بتشجيع من حكوماتها على السطو على السفن الإسبانية</li> <li>• تحطم الأسطول الاسباني (الارمادا) على يد الانجليز عام 1588م مما أدى إلى الضعف القوة بحرية الإسبانية</li> </ul>	<ul style="list-style-type: none"> <li>• سوء إدارة المستعمرات وانتشار الرشوة</li> <li>• قسوة البرتغاليين في معاملة السكان الأصليين وإجبارهم على اعتناق المسيحية</li> <li>• السلطة كانت في يد نائب الملك في (جوا) وهو الممسول أمام الملك دون رقابة ولقصر مدة حكمه كان يقوم بإبتراز الأموال وعدم الاعتناء بالمستعمرة</li> <li>• منافسة الهولنديين والانجليز للبرتغاليين في مجال الاستعمار</li> <li>• فقدت البرتغال استقلالها كدولة وضمت للتاج الاسباني في عهد الملك فيليب الثاني عام 1580م ولمدة 60 عاما</li> </ul>

ص 62 (4 نقاط ب 4 درجات)

(ج) مثل قيام الثورة الصناعية في إنجلترا

- الاستقرار الداخلي بفضل وجود الدستور الانجليزي ونظام الحكم البرلماني
- وفرة رأس المال بعد اكتشاف الجغرافية أصبحت إنجلترا مركزا كبيرا مما سهل تمويل صناعة
- سهولة الحصول على المواد الخام بسبب اتساع المستعمرات البريطانية
- وجود القوى المحركة المتمثلة في المساقط المائية والفحم
- الأيدي العاملة الرخيصة التي ساهمت في تشغيل المصانع في تكلفة بسيطة
- تشجيع العلماء والمخترعين حيث وفرت الحكومة الإنجليزية وأصحاب رؤوس الأموال الإمكانيات لهم
- وجود أسطول تجاري كبير مما سهل عملية نقل المواد الخام وإعادة تصديرها في شكل صناعات إلى أسواق العالم

ص 20 (4 نقاط ب 4 درجات)

(د) عدد أهم مطالب مارتن لوثر لإصلاح أحوال الكنيسة الكاثوليكية :

- معارضة فكرة صكوك الغفران.
- رفض احتكار البابا لتفسير الكتاب المقدس
- إنقاص عدد الأديرة
- عدم الحج إلى روما
- السماح بزواج رجال الدين

تمنياتنا للجميع بالتوفيق