



أجب عن جميع الأسئلة التالية :

السؤال الأول (موضوعي) يتكون من أ - ب - ج :-

أ - أكمل العبارات التالية بما يناسبها :-

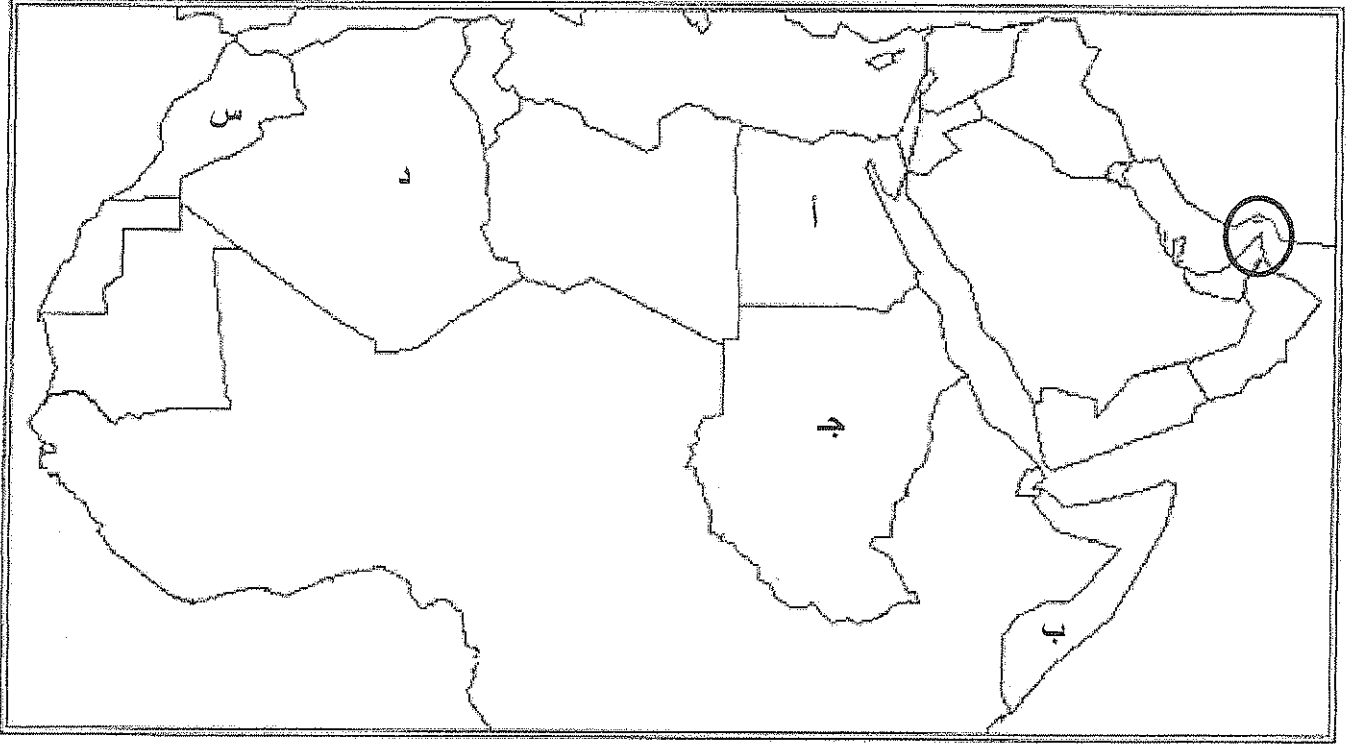
- ١- أعلى قمة جبلية في شبه الجزيرة العربية تسمى
- ٢- أقصى نقطة يمتد إليها الوطن العربي غربا تسمى
- ٣- أولى الدول العربية إنتاجا للصبغ العربي تسمى
- ٤- أكثر الحبوب إنتشارا في الوطن العربي تسمى

ب - أكتب المفهوم الدالة عليه التعريفات التالية :-

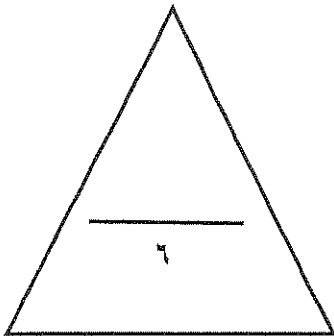
- ١- (إتفاقية إقتصادية عالمية تهدف إلى تحرير التجارة العالمية .)
- ٢- (عدد الأفراد القادرين على العمل ذكورا وإناثا .)
- ٣- (الهيئة العامة لسطح الأرض الناتجة عن دور عمليات النحت والحركات الباطنية في المنطقة .)
- ٤- (حركة السكان عدديا نحو الزيادة أو النقصان .)

تابع السؤال الأول :

ج- لاحظ خريطة الوطن العربي التي أمامك ثم نفذ المطلوب :



- ١- الدولة العربية التي يمر بها خط الإستواء يمثلها على الخريطة الحرف
- ٢- الدولة العربية التي يقع بها منخفض القطارة يمثلها على الخريطة الحرف
- ٣- الدولة العربية التي يقع بها نهر ملوية يمثلها على الخريطة الحرف
- ٤- المنطقة المظلمة على الخريطة برمز الدائرة تمثل مضيق يسمى



السؤال الثاني (مقالى) يتكون من (أ - ب) :

أ - عّل لكل مما يلي :-

١- تتلقى جبال لبنان أمطارا أكثر من جبال أطلس .

..... *

٢- تدنى حجم قوة العمل الوطنية في معظم الأقطار العربية .

..... *

..... *

ب - عدد ما يلي :-

١- الهجرات السكانية الداخلية التي شهدها الوطن العربي عبر عصوره التاريخية المتعاقبة .

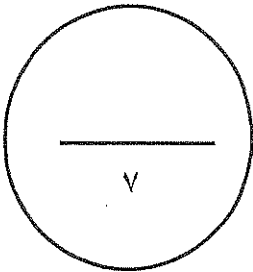
..... *

..... *

..... *

٢- وسائل الري الإقتصادية المستخدمة في الوطن العربي .

..... *



تابع امتحان الفترة الدراسية الأولى - الوطن العربي - للصف العاشر العام الدراسي ٢٠١٤ / ٢٠١٥ م

السؤال الثالث (مقالتي) يتكون من (أ - ب) :-

أ - فرق حسب الجدول التالي :-

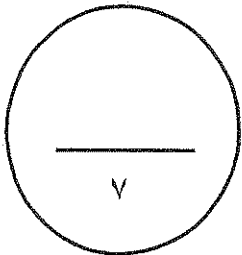
مميزات إقليم المناخ المداري (درجة الحرارة - الأمطار)	مميزات إقليم المناخ الصحراوي (درجة الحرارة - الأمطار)
..... • • • •

ب - لاحظ الجدول التالي والذي يمثل إنتاج بعض الدول العربية للكروم لعام ١٩٩٦م ثم نفذ المطلوب منك :-

الدولة العربية	إنتاج الكروم
سوريا	٤٥١
مصر	٧٤٠
العراق	٣٠٠
لبنان	٣٥٠

١- استخراج حقيقة من الجدول .

٢- حول الأرقام الواردة في الجدول إلى رسم بياني (أعمدة بيانية) .



انتهت الأسئلة

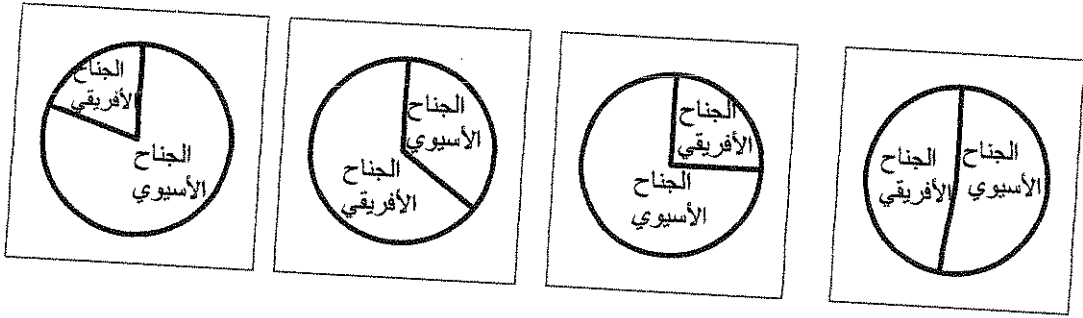
عدد الأوراق : (4)
الزمن : ساعه دراسية

وزارة التربية
الادارة العامة لمنطقة العاصمة التعليمية
التوجيه الفني للاجتماعيات

امتحان نهاية الفترة الدراسية الأولى
المجال الدراسي : الوطن العربي - الصف العاشر
للعام الدراسي : 2014 - 2015 م

السؤال الأول ويتكون من (أ ، ب ، ج) :

(أ) اختر البديل المناسب من بين البدائل التي تلي كل عبارة مما يلي وضع تحته خطأ:
1- التوزيع النسبي للسكان بين جناحي الوطن العربي عام (2003م) تمثله الدائرة البيانية التي تحمل الحرف



د

ج


ب

أ

2- تقع معظم اجزاء هضبة الشطوط في دولة عربية هي :
أ- ليبيا ب- الجزائر ج- تونس د- المغرب

3- الإقليم المناخي الذي يمتد بين دائرتي عرض 18- 30 شمالا هو إقليم المناخ :
أ- الصحراوي ب- المداري ج- البحر المتوسط د- شبه الاستوائي

4- الشكل أدناه يمثل أحد أنواع الانكسارات يعرف باسم :-



د- انكسار مدرج

ج- انكسار زاحف

ب- هورست

أ- انكسار بسيط

السؤال الثاني :- يتكون من (أ ، ب ، ج)

أ- أقرأ الفقرة التالية جيدا ثم اجب عما يليها من اسئلة :-

يشغل الوطن العربي مساحة واسعة في كل من قارتي آسيا وأفريقيا ، ويلاحظ على امتداده انه متصل اذ يمكن الاتصال بينهما عبر شبه جزيرة سيناء ، ويتمتع الوطن العربي بموقع استراتيجي متميز في العالم.

1- عرف ما تحته خط

2- بم تطل الأهمية الاستراتيجية للوطن العربي ؟

.....

.....

(ب) قارن بين " اقليم مناخ البحر المتوسط وأقليم المناخ المداري " كما هو موضح بالجدول :

أوجه المقارنة	أقليم مناخ البحر المتوسط	اقليم المناخ المداري
الموقع الفلكي
المميزات المناخية

ج) عرف ما يلي :

1-العمليات الداخلية :

.....

2-الكثافة السكانية:

.....

3- الموارد الطبيعية :

.....

تابع - امتحان الفترة الدراسية الأولى - لمادة الوطن العربي - الصف العاشر - العام الدراسي 2014 - 2015 م


السؤال الثالث :- يتكون من (أ ، ب ، ج ، د)

أ- لاحظ الجدول التالي جيدا ثم أجب عن الأسئلة التي تليه :-

الدولة	إنتاج القطن
سوريا	760
السودان	325
المغرب	49
مصر	900

1-رتب تنازليا الدول المنتجة للقطن الواردة في الجدول السابق.

--	--	--	--



2-حول كمية إنتاج القطن في الدول السابقة إلى رسم بياني .

ب- بم تفسر : تدني حجم قوة العمل الوطنية في الأقطار العربية ؟

.....
.....

ج- دلل على صحة العبارة التالية :-

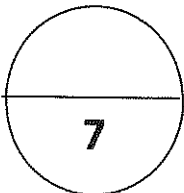
شهد الوطن العربي هجرات سكانية داخلية اثرت في تركيبته العرقية .

.....
.....

د- ما الفرق بين كل من :

النمو السكاني الطبيعي	النمو السكاني غير الطبيعي

تمنياتنا لكم بالتوفيق



السؤال الأول: ويتكون من (أ- ب- ج) .

أ- اختر البديل المناسب من بين البدائل التي تلى كل عبارة وضع تحته خطأ :

1- التفكيك والتفتت لأسطح الصخور نتيجة التغيرات في درجات الحرارة اليومية والفصلية تسمى :

أ- التعرية ب- التجوية ج- الانهيارات الأرضية د- العمليات الخارجية.

2- تعتمد الدول العربية على مياه الأنهار في ري المساحات الزراعية بنسبة :

أ- 18% ب- 28% ج- 38% د- 48%

3- درجة تركيز السكان في وحدة مساحية معينة في زمن معين تسمى :

أ- النمو السكاني ب- كثافة السكان ج- الكثافة السكانية المطلقة د- معدل النمو الطبيعي.

4- شهدت الهوامش الجنوبية للوطن العربي تأثيرات وهجرات سلالة تسمى:

أ- القوقازية ب- المغولية ج- الزنجية د- السامية.

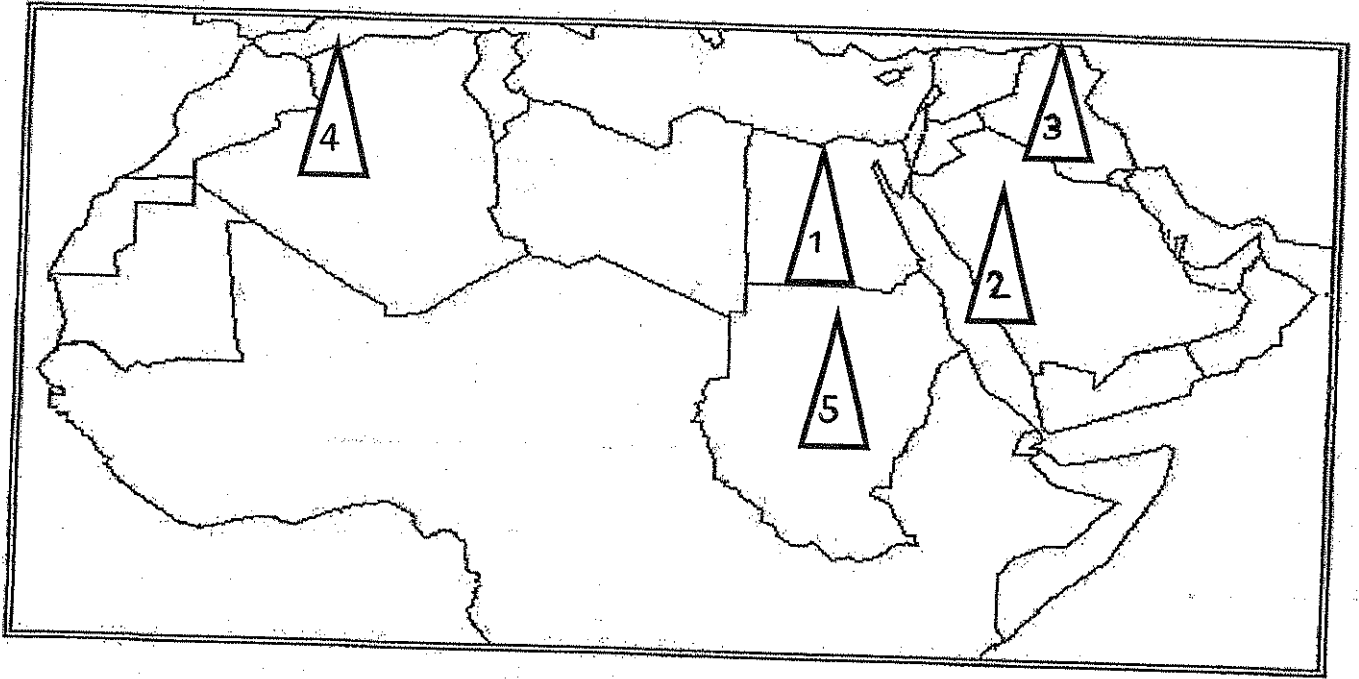
ب - أكمل العبارات التالية بما يناسبها:-

1- أقصى منطقة في الوطن العربي من الناحية الشرقية تقع في سلطنة عمان وتعرف بإسم

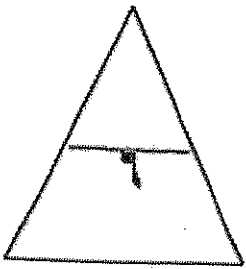
2- أعلى قمة جبلية في الوطن العربي تسمى

3- حركة السكان عددياً نحو الزيادة أو النقصان تسمى

4- تبلغ نسبة القوى العاملة في الوطن العربي %.....



- * الجناح العربي الذي يمثل موطن الفرع السامي من السلالة القوقازية يحمل على الخريطة الرقم ()
- * الدولة العربية الأكثر إنتاجاً للثروة السمكية تحمل على الخريطة الرقم ()
- * الدولة العربية الأكثر إنتاجاً للذرة الشامية تحمل على الخريطة الرقم ()
- * الدولة العربية الأكثر إنتاجاً للصبغ العربي تحمل على الخريطة الرقم ()



السؤال الثاني : ويتكون من (أ - ب - ج)

أ - أجب عن الأسئلة التالية:

1- الفرق بين كلاً من :

سهول فيضية	سهول ساحلية
.....
.....

2- ماذا يحدث لو :

أقام الإنسان الرعي الجائر وإزالة الغابات بغرض المشاريع في المناطق الجبلية عند أشجار البلوط .

.....

ب - اكتب فيما يلي :

1- العوامل المؤثرة في حجم قوة العمل.

.....*

.....*

2- الظروف الطبيعية والبشرية المؤثرة على التوزيع الجغرافي.

.....*

.....*

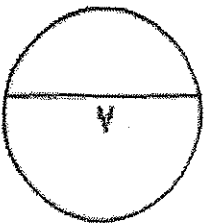
ج- علل لكل مما يلي:

1- النباتات الدائمة تتحمل الجفاف وارتفاع درجة الحرارة.

.....*

2- جبال لبنان أكثر أمطاراً من جبال أطلس.

.....*



أ - لاحظ الجدول التالي ثم أجب عن الأسئلة التالية :

القطر	الكثافة	القطر	الكثافة	القطر	الكثافة	القطر	الكثافة
الأردن	٦١	جيبوتي	٢٢	عمان	٨	مصر	٩٩٩
الإمارات	٤٨	السعودية	٩٩٩	فلسطين	غير متوفرة	المغرب	٤٢
البحرين	٩٧٥	السودان	١٣	قطر	٩٩٩	موريتانيا	٣
تونس	٦٤	سوريا	٩٩٩	الكويت	١٤٢	اليمن	٣٦
الجزائر	٩٩٩	الصومال	١٦	لبنان	٣٦٨		
جزر القمر	غير متوفرة	العراق	٥٩	ليبيا	٤		

1- أكتب فكرة رئيسية يشير إليها الجدول السابق .

2 - رتب تنازلياً الأربعة دول عربية الأولى في الكثافة السكانية.

ب- دلل على صحة العبارات التالية :

1- تتنوع الثروة الحيوانية في الوطن العربي .

2- للوطن العربي أهمية روحية كبيرة .

3- طمع الدول الكبرى منذ القدم في السيطرة على الوطن العربي .

ج - عرف المفاهيم التالية:

1- النباتات الحولية :

2- صفر النمو السكاني :

انتهت الأسئلة نتمنى لكم النجاح والتوفيق ،،،

الزمن : ساعة واحدة

امتحان الفترة الدراسية الأولى

وزارة التربية

الصف : العاشر

للعام الدراسي ٢٠١٤ / ٢٠١٥ م

منطقة القروانية التعليمية

عدد الأوراق : (٤)

مقرر / الوطن العربي

التوجيه الفني للاجتماعيات

السؤال الأول : ويتكون من (أ - ب - ج) :

(أ) اختر البديل المناسب من بين البدائل التي تلي كل عبارة وضع نخته خطأ :

(١) الاقليم المناخي الذي يمتد بين دائرتي عرض ٨° - ١٨° شمالا وأمطاره صيفية يطلق عليه اسم الاقليم:

(الصحراوي - المداري - البحر المتوسط - شبه الاستوائي) .

(٢) تقع السهول الفيضية لنهر الشليف في دولة عربية اسمها :

(المغرب - تونس - الجزائر - موريتانيا) .

(٣) أعلى قمة جبلية في الوطن العربي اسمها :

(طوبقال - الأحجار - النبي شعيب - الجبل الأخضر) .

(٤) تغطي الصحاري مساحات واسعة من الوطن العربي تصل من إجمالي مساحته إلى حوالي :

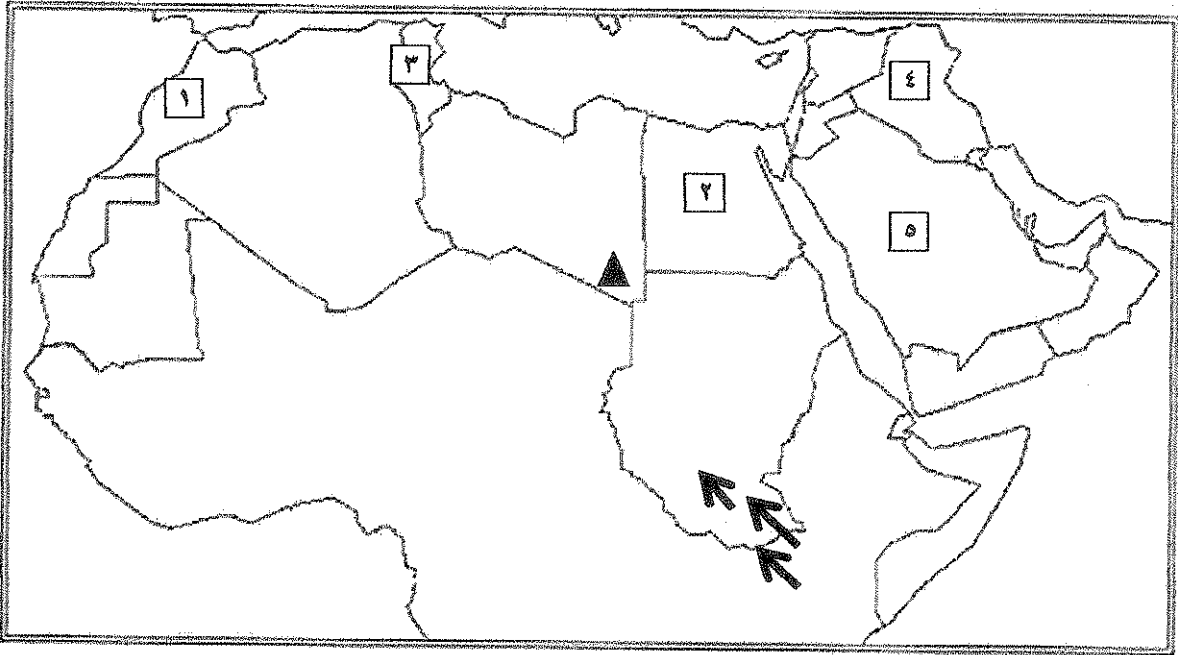
(٦٠ % - ٧٠ % - ٨٠ % - ٩٠ %) .

(ب) اختر من المفاهيم في القائمة (ب) ما يناسب العبارات في القائمة (أ) بوضع الرقم المناسب :

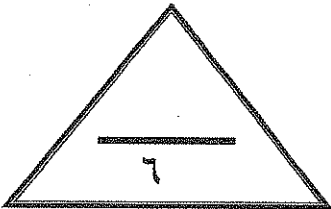
القائمة (أ)	الرقم المناسب	القائمة (ب)
(١) تساوي معدلات المواليد مع معدلات الوفيات.	النمو السكاني
(٢) حركة السكان عدديا نحو الزيادة أو النقصان.	معدل النمو السكاني الطبيعي
(٣) الفرق بين معدل المواليد ومعدل الوفيات.	معدل النمو السكاني غير الطبيعي
	صفر النمو السكاني

تابع السؤال الأول :

(ج) أمامك خريطة للوطن العربي لاحظها بدقة ثم أجب عما يليها من أسئلة :



- (١) أولى الدول العربية في انتاج الأسماك يمثلها على الخريطة الرقم (.....) .
- (٢) يقع نهر مجردة في دولة عربية تحمل على الخريطة الرقم (.....) .
- (٣) أولى الدول العربية انتاجا للقطن عام ١٩٩٦ م يمثلها على الخريطة الرقم (.....) .
- (٤) الرمز ▲ يمثل على الخريطة جبال بركانية يطلق عليها اسم (.....) .
- (٥) الأسهم على الخريطة تشير إلى هجرات خارجية شهدها الوطن العربي اسمها (.....) .



الدرجة : فقط لاغير

السؤال الثاني : ويتكون من (أ - ب) :

(أ) فرق بين المفاهيم التالية :

الموارد الطبيعية	الموارد الاقتصادية
.....
العمليات الداخلية	العمليات الخارجية
.....

(ب) اقرأ الفقرة التالية واستعن بها للإجابة على الأسئلة التي تليها :

• تبلغ نسبة قوة العمل في وطننا العربي حوالي ٣٧٪ من مجموع السكان عام (٢٠٠٢م) وهي نسبة منخفضة إذا ما قورنت بنسبة القوى العاملة على مستوى العالم .

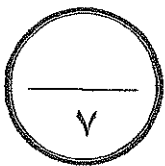
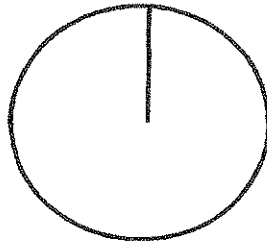
(١) عرف ما تحته خط :

.....

(٢) علل : تدني حجم قوة العمل الوطنية في بعض الأقطار العربية .

.....
.....

(٣) استعن بالشكل الدائري لتظليل نسبة قوة العمل في الوطن العربي الواردة في الفقرة السابقة :



الدرجة : فقط لاغير

السؤال الثالث : ويتكون من (أ - ب) :

(أ) استعن بالصور أمامك للإجابة على الأسئلة التالية :



١- ما الطرق التي يلجأ لها كل من النبات رقم (١) والنبات رقم (٢) لتحمل الجفاف والحرارة في المناطق الحارة؟


- النبات رقم (١) :

.....

-النبات رقم (٢) :

.....

.....



٢- كيف تؤثر المرتفعات الساحلية في تكون الصحاري في الوطن العربي؟

.....

.....

.....

(ب) علل لما يلي :

١- تعتبر قناة السويس من أهم الممرات المائية .

.....

٢- تعتبر دراسة السكان من الدراسات الجغرافية المهمة .

.....

٣- تمثل مجموعة الحبوب الغذائية أهمية استراتيجية في الوطن العربي .

.....

٤- تدرج حشائش السافانا في القصر كلما اتجهنا نحو الشمال .

.....



انتهت الأسئلة
مع تمنياتنا لكم بالنجاح والتوفيق

الدرجة : فقط لاغير

وزارة التربية

اختبار الفترة الدراسية الأولى

الزمن : ساعة واحدة

منطقة الفروانية التعليمية

للعام الدراسي ٢٠١٣م / ٢٠١٤م

الصف : العاشر

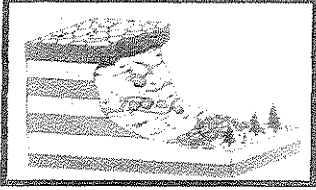
التوجيه الفني للاجتماعيات

مقرر / الوطن العربي


عدد الصفحات : ٤ صفحات

السؤال الأول : ويتكون من (أ - ب - ج) :

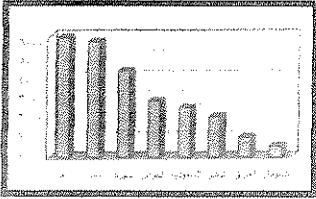
(أ) استعن بالصور التي أمامك لإكمال العبارات التالية بإجابة مناسبة :



(١) الشكل المقابل يمثل أحد العليات الخارجية لتشكل سطح الأرض والتي تعرف
باسم



(٢) الشكل المقابل يمثل أحد أنواع الإنكسارات الأرضية والذي يعرف
باسم



(٣) الشكل المقابل يمثل رسم بياني لإنتاج بعض الدول العربية عام ١٩٦٦م
لنوع من الحبوب الغذائية يعرف باسم

(ب) اختر البديل المناسب من بين البدائل التي تلي كل عبارة وضع تحتها خطاً :

(١) أعلى قمة جبلية في الوطن العربي اسمها :-

(طوبقال - الأحجار - النبي شعيب - الجبل الأخضر) .

(٢) المنطقة التي تضم ٣٧% من سكان الوطن العربي وتعتبر أكثر المناطق العربية سكاناً هي منطقة :-

(المغرب العرب - الهلال الخصيب - شبه الجزيرة العربية - حوض النيل والقرن الأفريقي) .

(٣) يطلق على الإقليم المناخي الذي يمتد بين دائرتي عرض ١٨° - ٣٠° شمالاً اسم الإقليم :-

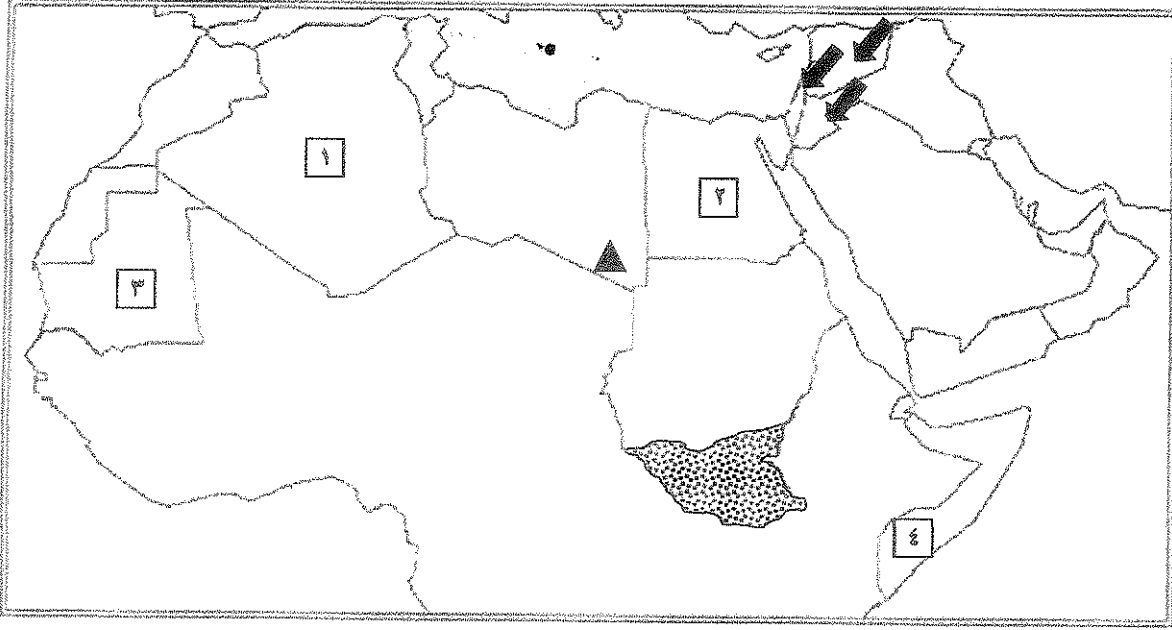
(الصحراوي - الاستوائي - المداري - البحر المتوسط) .

(٤) تقع السهول الفيضية لنهر مجردة في دولة عربية اسمها :-

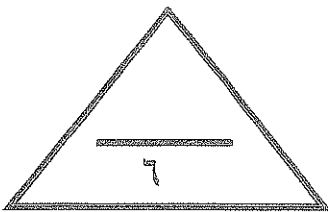
(الجزائر - المغرب - موريتانيا - تونس) .

تابع السؤال الأول :

(ج) أمامك خريطة للوطن العربي لاحظها بدقة ثم أجب عما يليها من أسئلة :



- (١) الدولة العربية التي يمر بها خط جرينتش يمثلها على الخريطة الرقم (.....) .
- (٢) الرمز ▲ على الخريطة يمثل جبال بركانية اسمها (.....) .
- (٣) أولى الدول العربية انتاجا للقطن عام ١٩٩٦م يمثلها على الخريطة الرقم (.....) .
- (٤) تشير الأسهم في الخريطة إلى هجرات خارجية شهدتها الوطن العربي تعرف باسم (.....)
- (٥) الإقليم المناخي المظلل على الخريطة يطلق عليه اسم (.....)



الدرجة : نقط لاغير

السؤال الثاني : ويتكون من (أ - ب) :

(أ) اقرأ الفقرة التالية ثم أجب عما يليها من أسئلة :

أهم عناصر المناخ التي تؤثر في تنوع الغطاء النباتي في إقليم المناخ الصحراوي ارتفاع درجة الحرارة ونسبة التبخر وكذلك ندرة المياه مما يؤدي إلى قلة الغطاء النباتي الذي ينقسم إلى نوعين نباتات دائمة ونباتات حولية .

(١) عرف ما تحته خط .

(٢) أعط مثلاً واحداً لكل من النباتات الحولية والدائمة.

النباتات الدائمة :

النباتات الحولية :

(٣) عدد الطرق التي تلجأ إليها النباتات الصحراوية لتحمل الجفاف والحرارة .

(ب) فرق بين المفاهيم التالية:

الموارد الطبيعية	الموارد الاقتصادية
.....
معدل النمو السكاني الطبيعي	معدل النمو السكاني غير الطبيعي
.....



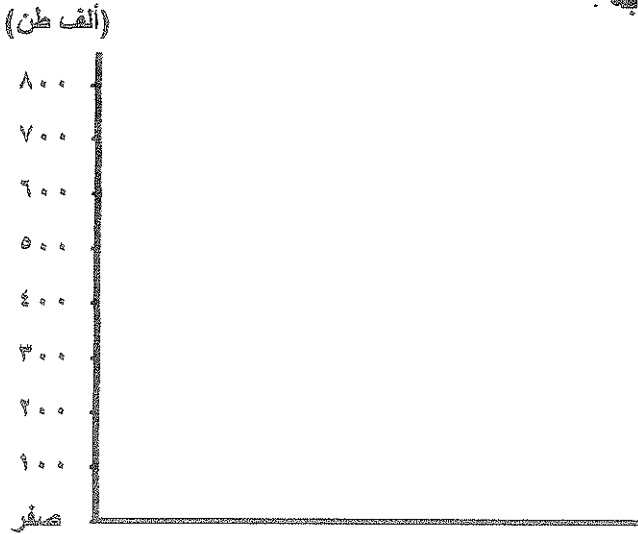
الدرجة : فقط لأفبير

السؤال الثالث ويتكون من (أ - ب) :

(أ) لاحظ الجدول التالي جيداً ثم استعن به في الإجابة :

الدولة	إنتاج الأسماك
مصر	٧٨٨
المغرب	١٠٠٧
اليمن	١٦٥
عمان	١٢٤
موريتانيا	٦٤٢

جدول إنتاج الأسماك في بعض أقطار الوطن العربي لعام ٢٠٠٣م (بالآلاف طن)



(١) استخراج من الجدول الدولة الأولى في إنتاج الأسماك .

(٢) رتب الدول العربية المنتجة للأسماك في الجدول السابق ترتيباً تنازلياً .

.....
-------	-------	-------	-------	-------

(٣) حول الإنتاج السمكي في الدول التالية (مصر - عمان - موريتانيا) إلى أعمدة بيانية مستعينا بالمخطط البياني أعلاه .

(ب) علل ما يلي :

(١) يتمتع الوطن العربي بموقع استراتيجي متميز .

*

*

(٢) تدني حجم قوة العمل الوطنية في معظم الأنظار العربية .

*

*

انتهت الأسئلة
مع تمنياتنا لكم بالنجاح والتوفيق



الدرجة : فقط لاغير



وزارة التربية

الإدارة العامة لمنطقة الجهاد التعليمية

التوجيه الفني للاجتماعيات

اختبار الفترة الدراسية الأولى

للسف العاشر

٢٠١٣ / ٢٠١٤م

المادة : الوطن العربي

الزمن : ساعة كاملة

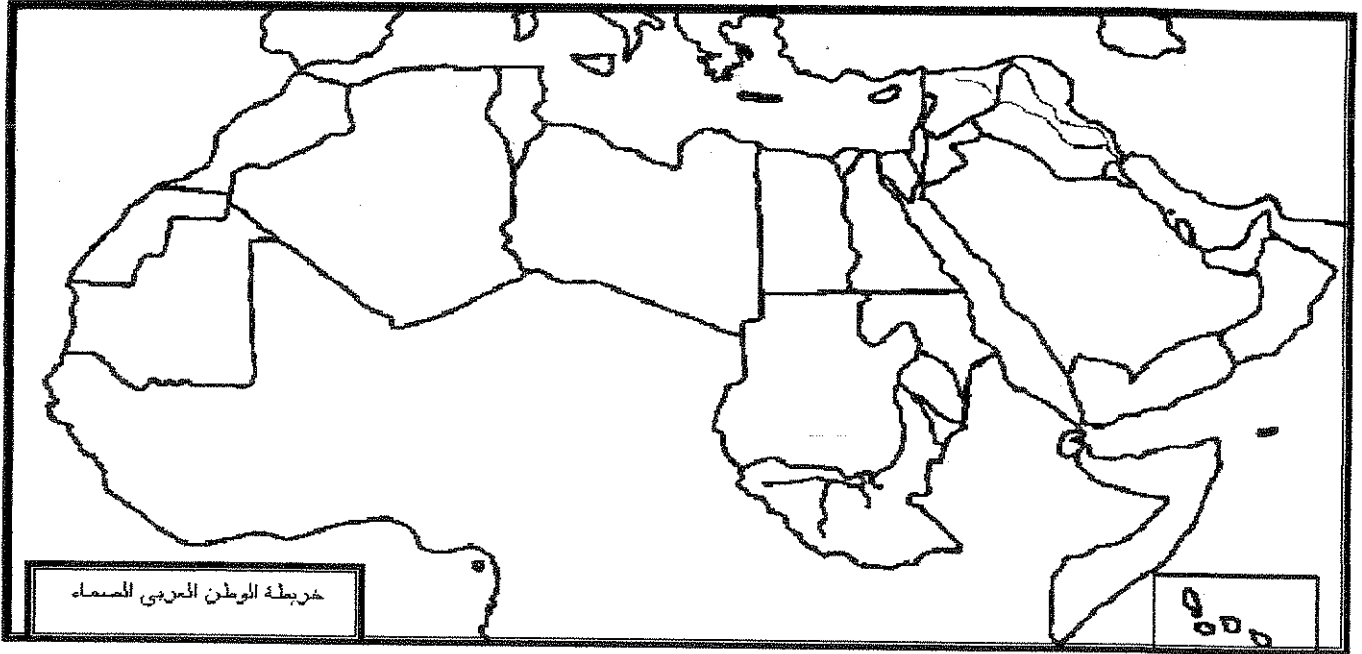
عدد الأوراق : (٥)

أجب عن جميع الأسئلة التالية:-

أولاً:- الأسئلة الموضوعية:-

السؤال الأول:- ويتكون من أ ، ب ، ج ، د

أ- لاحظ خريطة الوطن العربي ثم نفذ المطلوب منك :-



حدد بالرسم ما يلي :

- ١- خط جرينتش بالرمز _____
- ٢- مضيق هرمز بالرمز ○
- ٣- هضبة الشطوط بالرمز //////////////
- ٤- أولى دول الوطن العربي انتاجا للزيتون بالرمز ###

تابع اختبار الوطن العربي - الفترة الدراسية الأولى - ٢٠١٣ / ٢٠١٤م للصف العاشر

ب - أكمل العبارات التالية بما يناسبها :-

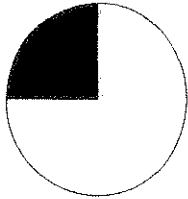
- ١- المسطح المائي الذي يفصل بين جناحي الوطن العربي الآسيوي والأفريقي يسمى
- ٢- أقصى امتداد يصل له الوطن العربي غربا يسمى
- ٣- أكثر الحبوب انتشارا وانتاجا في الوطن العربي تسمى
- ٤- أعلى قمة جبلية في الوطن العربي تسمى

ج - اختر البديل الصحيح من بين البدائل التي تلي كل عبارة مما يلي :

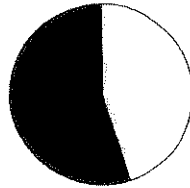
١- المضيق الذي يفصل بين البحر المتوسط والمحيط الأطلسي :

(باب المنذب - هرمز - جبل طارق - قناة السويس)

٢- نسبة السكان في الجناح الآسيوي من الوطن العربي عام (٢٠٠٣م) يمثلها الجزء المظلل في الدائرة البيانية التي تحمل الحرف:



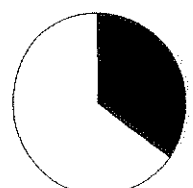
د



ج



ب



أ

٣- أولى الدول العربية انتاجا للأسماك :

(سلطنة عمان - مصر - اليمن - المغرب)

٤- يمثل الشكل الذي أمامك أحد التضاريس المرتبطة بالعمليات الخارجية تسمى:

(النحت - الانهيارات الأرضية - التجوية - الرياح)

د - أكتب المفهوم الدالة عليه التعريفات التالية :-

١- (عدد الأفراد القادرين على العمل .)

٢- (تساوي معدلات المواليد مع معدلات الوفيات .)

(٢)



تابع اختبار الوطن العربي - الفترة الدراسية الأولى - ٢٠١٣ / ٢٠١٤ م للصف العاشر

ثانيا : الأسئلة المقالية :-

السؤال الثاني يتكون من أ - ب - ج :-

أ- علل ما يلي :

١- تدني حجم قوة العمل الوطنية في معظم الدول العربية .

.....
.....

٢- تعتبر قناة السويس من أهم الممرات المائية .

.....
.....

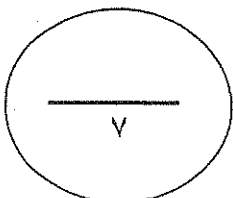
ب - قارن حسب الجدول التالي :

المعيار	اقليم المناخ الصحراوي	اقليم المناخ المداري
المميزات المناخية	•	•
	•	•
	•	•
	•	•

ج - عدد ما يلي :

١- المناطق الرئيسية التي يتركز فيها سكان الوطن العربي .

.....
.....
.....
.....



تابع اختبار الوطن العربي - الفترة الدراسية الأولى - ٢٠١٣ / ٢٠١٤ م للصف العاشر

السؤال الثالث يتكون من أ ب :-

أ- لاحظ الجدول التالي ثم نفذ المطلوب منك :-

يمثل الجدول بعض الأقطار العربية المنتجة لأشجار الفاكهة (الموالح) عام (١٩٩٦)

الدولة	كمية الإنتاج (الوحدة ألف طن متري)
المغرب	٢٠
تونس	١٥
السودان	٥٨
سوريا	٥٤
الأردن	٤٤

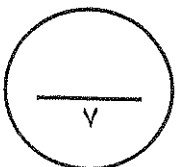
١- استخراج حقيقة من الجدول.

٢- حول الجدول التالي إلى أعمدة بيانية مرتبة ترتيباً تنازلياً.

ب - عدد ما يلي :-

١- العوامل المؤثرة في مناخ الوطن العربي .

٢- المقومات البشرية للإنتاج في الوطن العربي .



تابع اختبار الوطن العربي - الفترة الدراسية الأولى - ٢٠١٣ / ٢٠١٤ م للصف العاشر

السؤال الرابع يتكون من أ ب :-

أ - عل ما يلي :-

١- تتلقى جبال لبنان أمطارا أكثر من جبال أطلس الساحلية .

.....

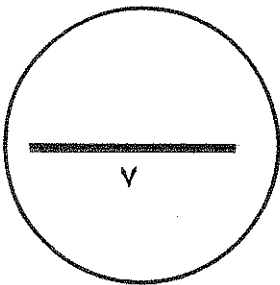
٢- للوطن العربي موقع استراتيجي متميز في العالم .

.....
.....
.....

ب - عدد ما يلي :

١- العوامل التي تؤثر في حجم قوة العمل .

.....
.....
.....



تمنياتنا لكم بالنجاح والتوفيق،،،،

وزارة التربية
منطقة الفروانية التعليمية
التوجيه الفني للاجتماعيات

اختبار الفترة الدراسية الأولى
للعام الدراسي ٢٠١٢ / ٢٠١٣ م
مقرر / الوطن العربي

الزمن : ساعة واحدة
الصف : العاشر
عدد أوراق الاسئلة : ٥ صفحات

السؤال الأول : ويتكون من (أ - ب - ج) :

(أ) اختر الاجابة الصحيحة من بين البدائل التي تلي كل عبارة وضع تحتها خطاً :

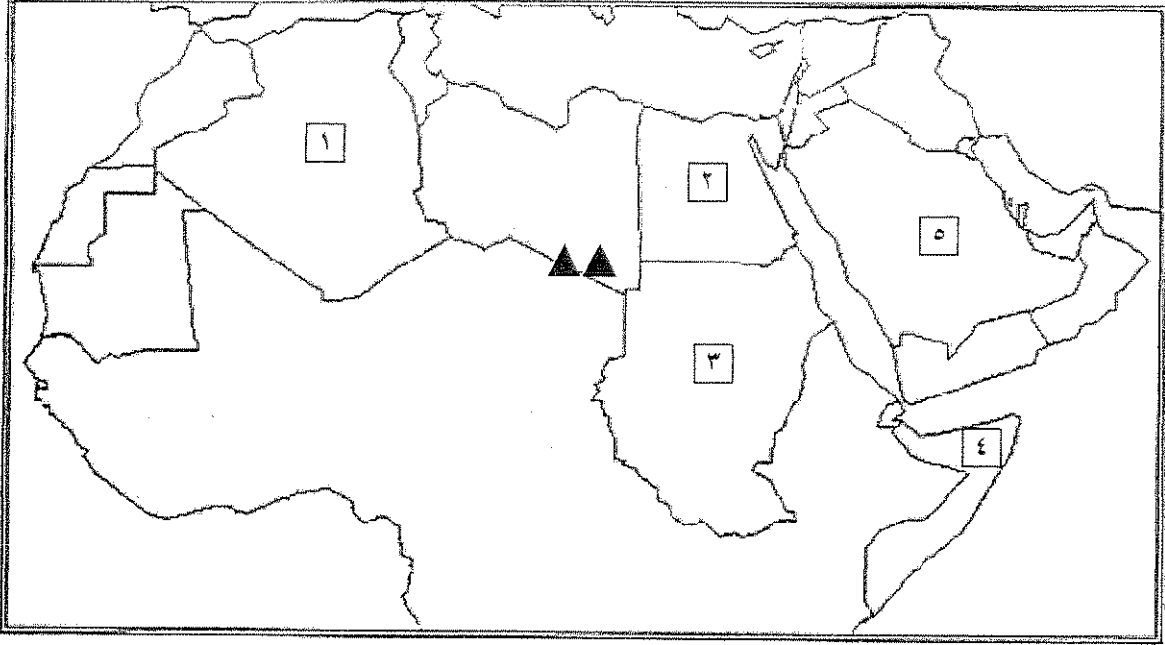
- (١) الاقليم المناخي الذي يمتد بين دائرتي عرض ١٨ - ٣٠ شمالاً ويغطي مساحات واسعة من الوطن العربي يطلق عليه اسم الاقليم :
(الصحراوي - المداري - البحر المتوسط - شبه الاستوائي) .
- (٢) تقع السهول الفيضية لنهر الشليف في دولة عربية اسمها :
(المغرب - تونس - الجزائر - موريتانيا) .
- (٣) أولى دول الوطن العربي في الكثافة السكانية المطلقة عام ٢٠٠٣ م هي :
(لبنان - قطر - الكويت - البحرين) .
- (٤) أحد العمليات التالية لا يعتبر من العمليات الخارجية التي تؤثر في سطح الأرض :
(الانهيارات الأرضية - التجوية - الالتواءات والانكسارات - الرياح) .

(ب) اختر من المفاهيم في القائمة (ب) ما يناسب العبارات في القائمة (أ) بوضع الرقم المناسب :

القائمة (أ)	الرقم المناسب	القائمة (ب)
(١) تساوي معدلات المواليد مع معدلات الوفيات.		النمو السكاني
(٢) حركة السكان عددياً نحو الزيادة أو النقصان.		النمو السكاني الطبيعي
(٣) الفرق بين معدل المواليد ومعدل الوفيات.		النمو السكاني غير الطبيعي
		صفر النمو السكاني

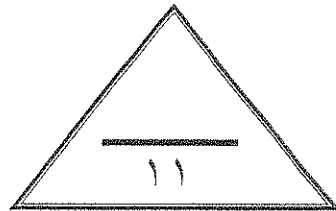
تابع السؤال الأول :

(ج) أمامك خريطة للوطن العربي لاحظها بدقة ثم أجب عما يليها من أسئلة :



- (١) الدولة العربية التي يمر بها خط الاستواء يمثلها على الخريطة الرقم (.....) .
- (٢) الرمز ▲▲ على الخريطة يمثل جبال بركانية اسمها (.....) .
- (٣) أولى دول العالم إنتاجاً للصبغ العربي يمثلها على الخريطة الرقم (.....) .
- (٤) أولى الدول العربية إنتاجاً للقطن عام ١٩٩٦م يمثلها على الخريطة الرقم (.....) .

الدرجة : فقط لاغير



السؤال الثاني : ويتكون من (أ - ب) :

(أ) اقرأ الفقرة التالية ثم أجب عما يليها من أسئلة :

أهم عناصر المناخ التي تؤثر في تنوع الغطاء النباتي في اقليم المناخ الصحراوي ارتفاع درجة الحرارة ونسبة التبخر وكذلك ندرة المياه مما يؤدي إلى قلة الغطاء النباتي الذي ينقسم إلى نوعين نباتات دائمة و نباتات حولية.

(١) عرف ما تحته خط .

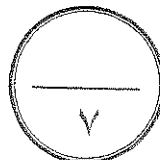
(٢) أعط مثلاً واحداً لكل نوع .

(٣) بم تفسر : تنوع الغطاء النباتي في الوطن العربي .

(ب) فرق بين المصطلحات الجغرافية التالية :

الموارد الطبيعية	الموارد الاقتصادية
.....
الجبال الانكسارية	الجبال الاتوائية
.....

الدرجة : فقط لاغير



السؤال الثالث : ويتكون من (أ - ب) :

(أ) قارن بين : الهجرات الداخلية والهجرات الخارجية التي أثرت في التركيبة العرقية لسكان الوطن العربي وفق الجدول التالي :

الهجرات الخارجية	الهجرات الداخلية	وجه المقارنة
.....	التعريف
.....	مثال عليها

(ب) دلي على صحة العبارات التالية :

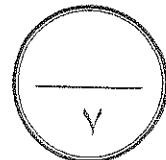
(١) يعتمد الانتاج في أي قطر من الأقطار العربية على مجموعة من المقومات البشرية .

..... •
..... •
..... •
..... •
..... •

(٢) للوطن العربي موقع استراتيجي متميز في العالم .

..... •
..... •
..... •
..... •

الدرجة : فقط لاغير



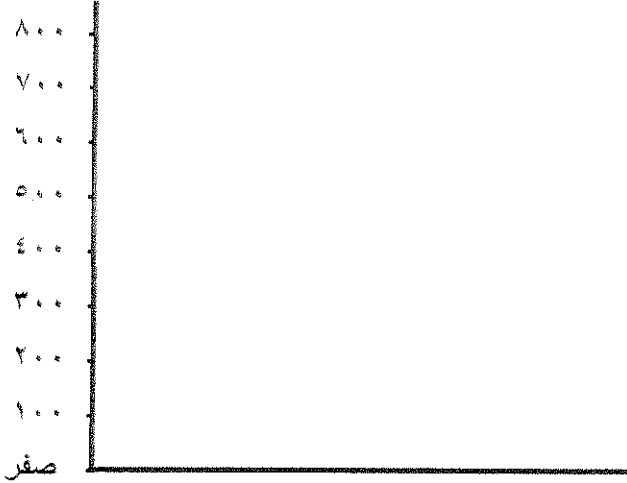
السؤال الرابع : ويتكون من (أ - ب) :

(أ) لاحظ الجدول التالي جيدا ثم استعن به في الإجابة :

الدولة	انتاج الأسماك
مصر	٧٨٨
المغرب	١٠٠٧
عمان	١٢٤
اليمن	١٦٥
موريتانيا	٦٤٢

جدول انتاج الأسماك في بعض أقطار الوطن العربي لعام ٢٠٠٣ م (بالآلف طن)

(الف طن)



(١) استخراج من الجدول ما يلي :

- * أكثر الدول العربية إنتاجاً للأسماك اسمها
- * بم تغل : تصدرها للإنتاج العربي من الأسماك .

.....

.....

.....

.....

(٢) حول الإنتاج السمكي في الدول التالية (مصر - عمان - اليمن - موريتانيا) إلى أعمدة بيانية مستعينا بالمخطط البياني أعلاه .

(ب) حدد عاملين من العوامل المؤثرة في كل من :

(١) حجم قوة العمل في دول الوطن العربي .

.....

.....

.....

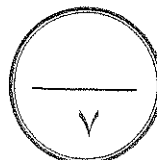
(٢) مناخ الوطن العربي .

.....

.....

.....

الدرجة : فقط لاغير



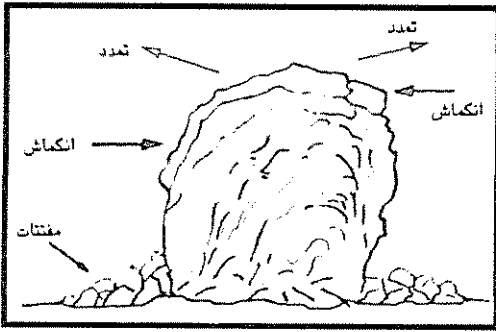
انتهت الأسئلة

وزارة التربية	اختبار الفترة الدراسية الأولى	الزمن : ساعة واحدة
منطقة الفروانية التعليمية	للعام الدراسي ٢٠١٢ / ٢٠١٣ م	الصف : العاشر
التوجيه الفني للاجتماعيات	مقرر / الوطن العربي	عدد أوراق الاسئلة : ٥ صفحات

السؤال الأول : ويتكون من (أ - ب - ج) :

(أ) أكمل العبارات التالية بما يناسبها :

- (١) المحاصيل الزراعية التي تزرع من أجل التصدير بالدرجة الأولى ومن أجل استخدامها كمواد خام زراعية تسمى
- (٢) تصنف جبال تبستي حسب التكوين لنوع من الجبال يسمى
- (٣) شهدت الهوامش الجنوبية للوطن العربي هجرات سكانية خارجية لسلالة تسمى



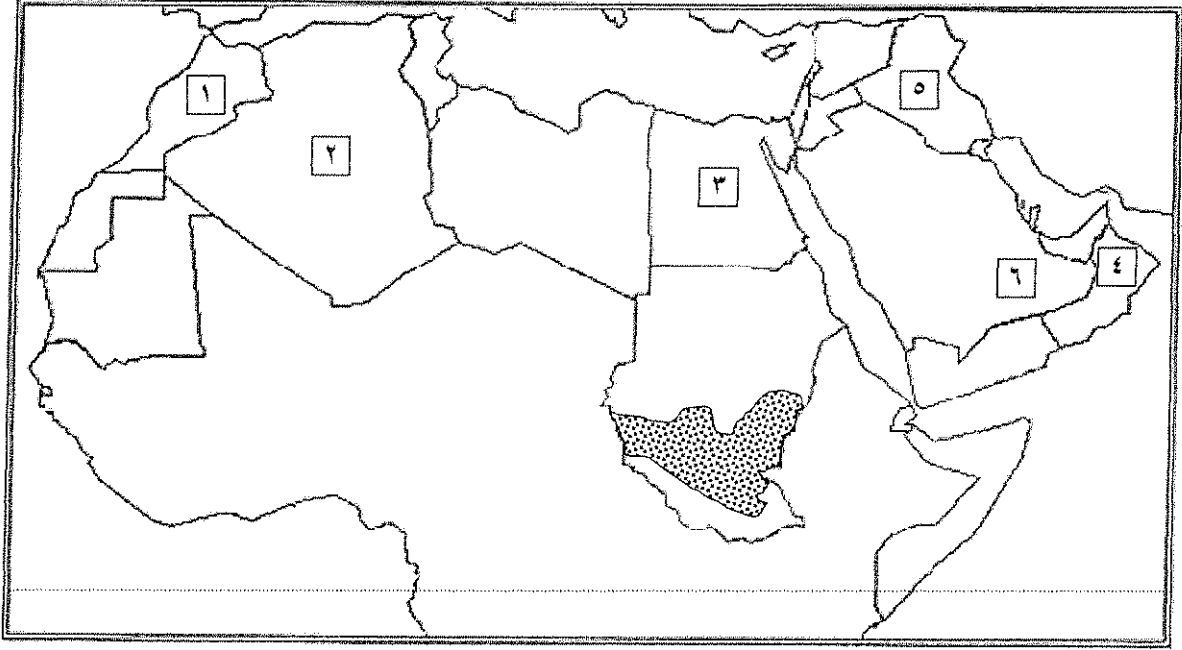
(٤) الشكل المقابل يمثل أحد العمليات الخارجية المؤثرة في تشكيل سطح الأرض وتسمى

(ب) اختر الاجابة الصحيحة من بين البدائل التي تلي كل عبارة وضع تحتها خطأ :

- (١) يخترق وادي الرمة أحد الهضاب التالية : (حضرموت - نجد - الشطوط - الصحراء الكبرى) .
- (٢) المنطقة التي تضم ٣٧% من سكان الوطن العربي وتعتبر أكثر المناطق العربية سكاناً هي منطقة : (المغرب العربي - الهلال الخصيب - شبه الجزيرة العربية - حوض النيل والقرن الأفريقي) .
- (٣) يطلق على الاقليم المناخي الذي يمتد بين دائرتي عرض ٨ - ١٨ شمالاً وأمطاره صيفية اسم الإقليم : (الصحراوي - الاستوائي - المداري - البحر المتوسط) .
- (٤) تقع السهول الفيضية لنهر مجردة في دولة عربية اسمها : (الجزائر - المغرب - موريتانيا - تونس) .

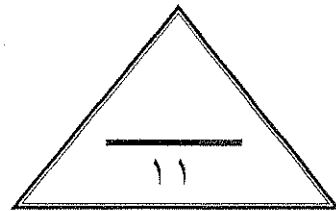
تابع السؤال الأول :

(ج) أمامك خريطة للوطن العربي لاحظها بدقة ثم أجب عما يليها من أسئلة :



- (١) رأس الحد يمثلته على الخريطة الرقم (.....) .
- (٢) الدولة العربية التي يمر بها خط جرينتش يمثلها على الخريطة الرقم (.....) .
- (٣) الدولة العربية الأولى في إنتاج الأسماك عام ٢٠٠٣م يمثلها على الخريطة الرقم (.....) .
- (٤) أكبر الدول العربية في عدد السكان عام ٢٠٠٣م يمثلها على الخريطة الرقم (.....) .
- (٥) صحراء الربع الخالي يمثلها على الخريطة الرقم (.....) .
- (٦) نطاق الحشائش المظلل على الخريطة يطلق عليه اسم

الدرجة : فقط لاغير



السؤال الثاني : ويتكون من (أ - ب) :

(أ) اقرأ العبارة التالية ثم أجب عما يليها من أسئلة :

يشغل الوطن العربي مساحة واسعة في كل من قارتي آسيا وأفريقيا ، فهو يمتد لمسافة حوالي ٧٥٠٠ كم من أقصى الشرق عند خط طول ٦٠ شرقاً إلى أقصى نقطة غرباً عند خط طول ١٧ غرباً ، ويتمتع الوطن العربي بموقع استراتيجي متميز عالمياً .

(١) عرف ما تحته خط .

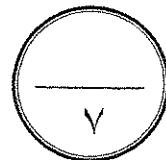
(٢) حدد عدد خطوط الطول التي يمتد خلالها الوطن العربي .

(٣) بم تعطل مايلي : يتمتع الوطن العربي بموقع استراتيجي متميز .

(ب) فرق بين المصطلحات الجغرافية التالية :

معدل النمو السكاني فير الطبيعي	معدل النمو السكاني الطبيعي
.....
.....
.....
.....
النباتات الحولية	النباتات الدائمة
.....
.....
.....
.....

الدرجة : فقط لاغير



السؤال الثالث : ويتكون من (أ - ب) :

(أ) قارن بين : إقليم المناخ الصحراوي وإقليم مناخ البحر المتوسط وفق الجدول التالي :

وجه المقارنة	المناخ الصحراوي	مناخ البحر المتوسط
الموقع بالنسبة لدوائر العرض
المميزات المناخية********

(ب) علل لما يلي :

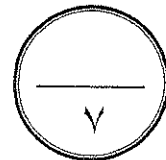
(١) تدني حجم قوة العمل الوطنية في معظم الأقطار العربية .

-
-
-
-
-

(٢) للتضاريس تأثير هام في مناخ الوطن العربي .

-
-
-
-
-

الدرجة : فقط لاغير

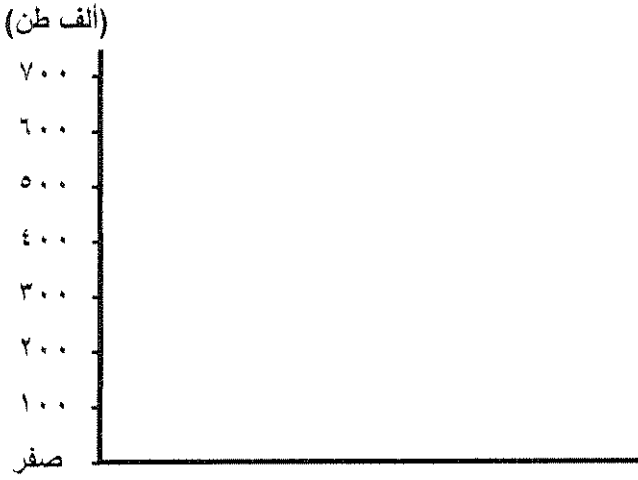


السؤال الرابع : ويتكون من (أ - ب) :

(أ) لاحظ الجدول التالي جيدا ثم استعن به في الإجابة :

الدولة	التمور	الزيتون
السعودية	٥٩٧	-
الإمارات	٢٤٠	-
مصر	٦٨٠	٢١٠
الجزائر	٣١٦	٣١٣

جدول إنتاج التمور والزيتون في بعض أقطار الوطن العربي لعام ١٩٩٦م (الوحدة = ألف طن متري)



(١) حول إنتاج التمور في الجدول السابق إلى أعمدة بيانية مستعينا بالمخطط أعلاه .

(٢) رتب الدول العربية المنتجة للتمور في الجدول السابق ترتيبا تنازليا .

--	--	--	--

(٣) بم تفسر : اختفاء زراعة الزيتون في دول مجلس التعاون الخليجي .

.....

.....

.....

(ب) عرف ما يلي :

(١) الموارد الطبيعية :

.....

.....

.....

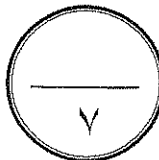
(٢) قوة العمل :

.....

.....

.....

الدرجة : فقط لاغير



انتهت الأسئلة



امتحان الفترة الدراسية الأولى - للصف العاشر

للعام الدراسي : ٢٠١٢ / ٢٠١٣ م - مقرر (الوطن العربي)

جميع الأسئلة التالية إجبارية بجميع فرعياتها

السؤال الأول (الموضوعي) : ويتكون من (أ ، ب ، ج) :

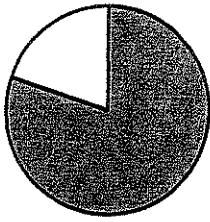
(أ) أكمل العبارات الآتية بما يناسبها :

- ١- المحصول الغذائي الأكثر إنتاجا وانتشارا في الوطن العربي محصول يسمى.....
- ٢- أعلى قمة جبلية في الوطن العربي هي قمة جبل يسمى
- ٣- ينتمي غالبية سكان الوطن العربي إلى إحدى فروع السلالة المعروفة بإسم
- ٤- العمليات الطبيعية التي مصدرها باطن الأرض يطلق عليها

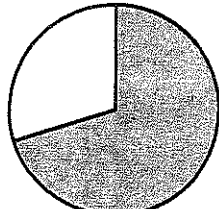
(ب) اختر البديل المناسب من بين البدائل التي تلي كل عبارة ثم ضع خطأ تحته :

- ١- النسبة المئوية لمساحة إقليم المناخ الصحراوي من إجمالي مساحة الوطن العربي يمثلها الجزء المظلل للدائرة

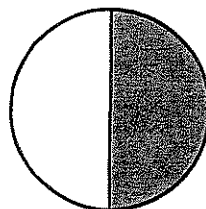
البيانية التي تحمل الحرف :




(د)



(ج)




(ب)



(أ)

- ٢- الشكل المقابل يمثل أحد أنواع الانكسارات الأرضية يسمى :



- (أ) إنكسار بسيط . (ب) إنكسار زاحف .
(ج) إنكسار مدرج . (د) إنكسار أخدودي .

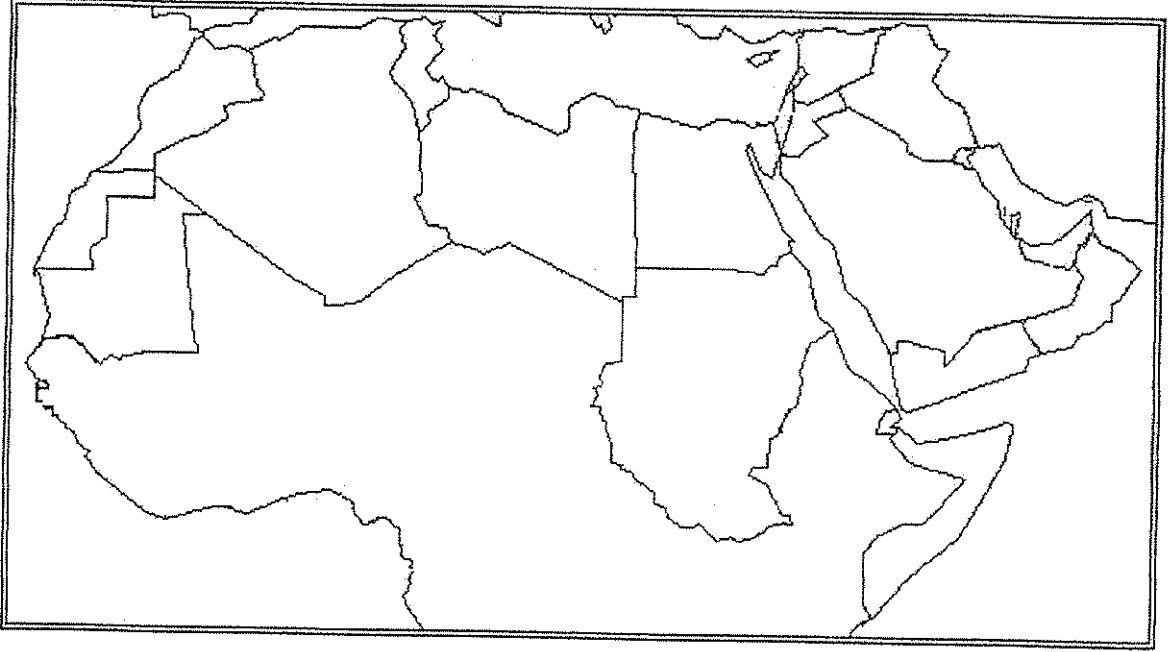
- ٣- الدولة العربية التي تقع بين دائرتي عرض ١١°-١٣° جنوب خط الاستواء بالمحيط الهندي تسمى :

- (أ) جيبوتي . (ب) جزر القمر . (ج) الصومال . (د) اليمن .

- ٤- جبال عمان كانت جزءا من جبال تسمى :

- (أ) طوروس . (ب) أطلس . (ج) زاغروس . (د) تبستي .

(ج) لاحظ خريطة الوطن العربي الصماء التالية جيداً ثم نفذ ما يلي :



١- حدد بالرمز (●) موقع هضبة نجد .

٢- ضلل بالرمز (☾) منطقة الهلال الخصيب .

٣- حدد بالرمز (#) أولى الدولة العربية في إنتاج الأسماك (٢٠٠٣ م).

٤- ظلل بالرمز (///) المنطقة التي تمثل نطاق حشائش السافانا .

٦ درجات

السؤال الثاني (المفالي): ويتكون من (أ ، ب ، ج)

(أ) عرف ما يأتي:

١- الكثافة السكانية المطلقة (الحسابية):

٢- الموارد الطبيعية:

(ب) اقرأ الفقرة الآتية ثم نفذ المطلوب:

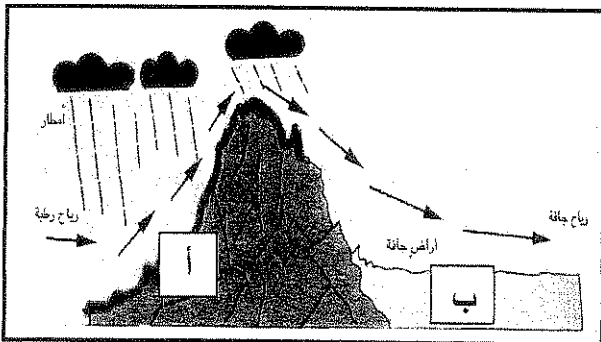
((احتلت مصر مراكز متقدمة بين الأقطار العربية في إنتاج العديد من المحاصيل الزراعية حسب إحصاء (١٩٩٦م) ، فمن مجموعة الحبوب الغذائية كان نسبة إنتاجها من الذرة الشامية حوالي ٨٠% من نسبة الإنتاج العربي، ومن مجموعة المحاصيل النقدية كان نسبة إنتاجها من القطن حوالي ٤٣% ، ومن مجموعة أشجار الفاكهة بلغ نسبة إنتاجها من الموالح حوالي ٥٠% .))

حوّل المعلومات التي تحتها خط إلى أعمدة بيانية .
مع مراعاة تسجيل البيانات كاملة.

(ج) استعن بالرسم الذي أمامك ثم فسر ما يلي :

١- غزارة الأمطار في المنطقة (أ) .

٢- وجود أراضي جافة (صحاري) في المنطقة (ب) .



٥ درجات

السؤال الثالث (المقالي) : ويتكون من (أ ، ب)

(أ) استعن بالفقرة التالية في الإجابة عما يليها :

بلغت نسبة القوى العاملة في الوطن العربي عام ٢٠٠٢م حوالي ٣٧,٢ % من مجموع السكان وهي نسبة منخفضة إذا ما قورنت بالنسبة العالمية ٤٢ % ولاشك أن حجم قوة العمل يتأثر بعوامل عديدة.


١- عرف ما تحته خط .

- قوة العمل :

*

٢- حدد النسبة المئوية للقوى العاملة في الوطن العربي من مجموع السكان (٢٠٠٢م)

في الدائرة البيانية المقابلة .



٣- بم تفسر : تدني حجم قوة العمل الوطنية في معظم الأقطار العربية .

*

*

(ب) قارن بين (إقليم المناخ الصحراوي وإقليم المناخ المداري في الوطن العربي) كما هو موضح بالجدول:

إقليم المناخ الصحراوي	إقليم المناخ المداري	أوجه المقارنة
*	*	الموقع الفلكي
*	*	المميزات المناخية

انتهت الاسئلة ،، تمنياتنا للجميع بالتوفيق

٥ درجات

العام الدراسي: ٢٠١٤/٢٠١٥م
الزمن: ساعتان وربع
عدد الأوراق: (٦)

امتحان نهاية الفترة الدراسية الثانية

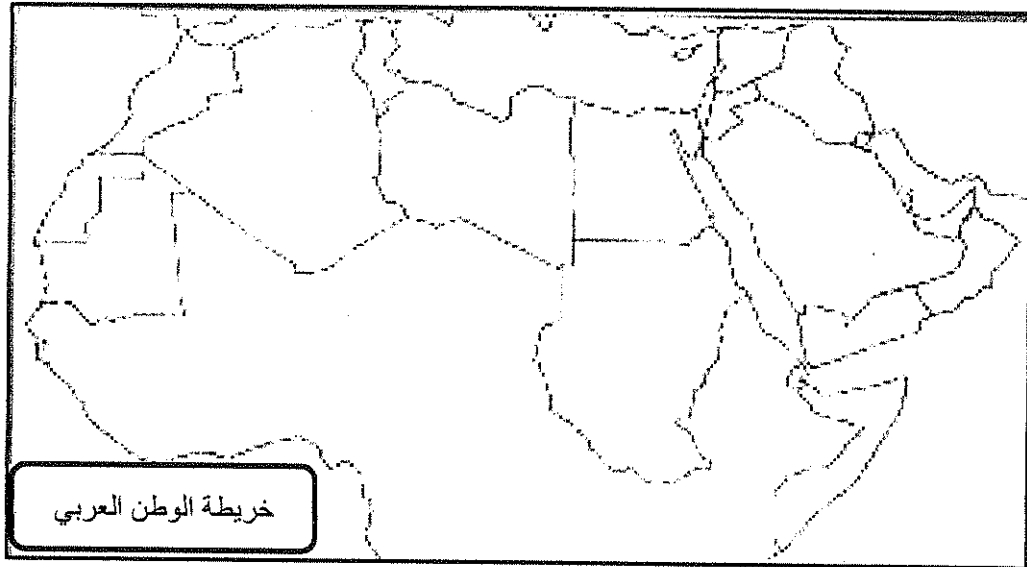
للمنصف العاشر

المادة الاجتماعية (الوطن العربي)

دولة الكويت
وزارة التربية
التوجيه الفني العام للاجتماعيات

أجب عن أربعة أسئلة فقط مما يلي على أن يكون السؤال الأول من بينها إجباري

السؤال الأول (إجباري): يتكون من (أ، ب، ج، د، هـ)
١- بعد دراسة خريطة الوطن العربي الصماء نفذ ما يلي:



١- عين ما يلي باستخدام الرموز:

* مضيق جبل طارق الرمز ○

* الهجرة الكردية الرمز ⇓

* أول الدول العربية في إنتاج الحديد الرمز △

٢- ارسم خط جرينتش

ب- أكمل العبارات التالية بما يناسبها:

- ١- أكثر الحبوب الغذائية انتشاراً وإنتاجاً في الوطن العربي عام ١٩٩٦م يسمى-----
- ٢- أعلى قمة جبلية انكسارية في اليمن جنوب شبه الجزيرة العربية تسمى-----
- ٣- الحضارة القديمة التي اشتهرت بشريعة حمورابي تسمى-----
- ٤- عصر الدولة القديمة في مصر يعرف باسم-----

ج- اختر من الشخصيات في المجموعة (ب) ما يناسب الأعمال في المجموعة (أ) بوضع الرقم في المكان المناسب:

المجموعة (أ)	الرقم	المجموعة (ب)
١- ألف أول المعاجم العربية (محيط المحيط)		عبد العزيز الثعالبي
٢- أصدر جريدة سبيل الرشاد عام ١٣١٣-١٣١٥هـ		السيد عمر مكرم السيد
٣- أصدر بياناً بالثورة العربية عام ١٩١٦م.		بطرس البستاني
		الشريف حسين

تابع السؤال الأول : (إجباري)

د- صنف الدول العربية حسب الجدول التالي:

(العراق - الجزائر - ليبيا)

الاستعمار الإيطالي	الاستعمار الفرنسي	الاستعمار البريطاني

هـ- اختر الإكمال المناسب للعبارة التالية من بين الخبرات التي تلي كل منها وذلك بوضع خط تحتها :

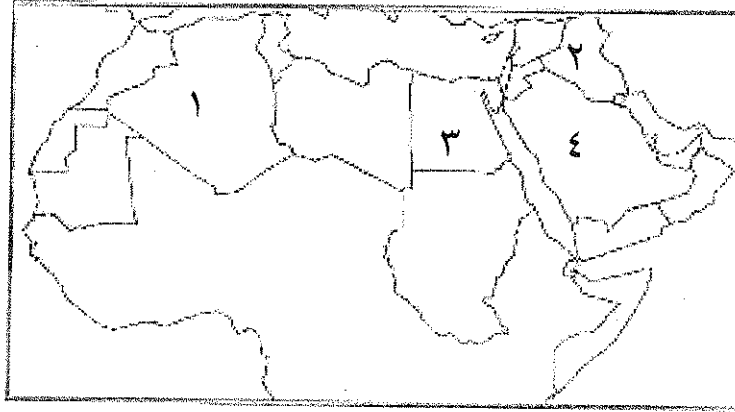
١- الرقم الذي يمثل أولى الدول العربية في إنتاج النفط عام ٢٠٠٣ م :

أ- الرقم (١)

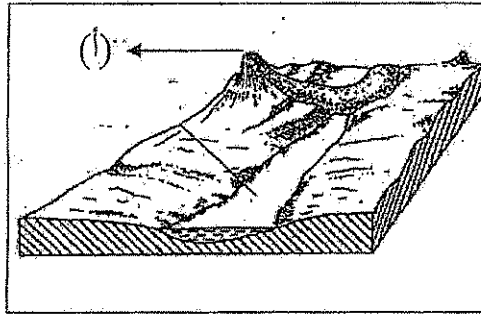
ب- الرقم (٢)

ج- الرقم (٣)

د- الرقم (٤)



٢- الرمز (أ) على الرسم التالي يمثل أحد أجزاء البركان :ص ٢٨



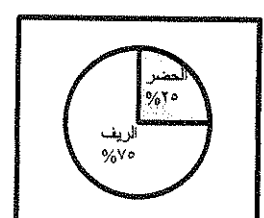
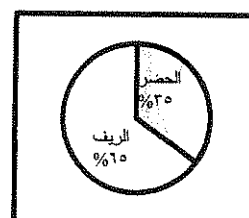

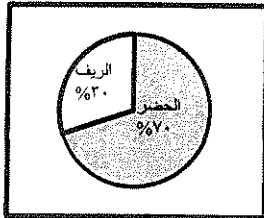
أ- لافا

ب- الفوهة

ج- قصبة

د- المخروط

٣- الدائرة البيانية التي تمثل نسبة التوزيع النسبي للسكان في الوطن العربي من الحضر والريف: ص ٥١



د

ج

ب

أ

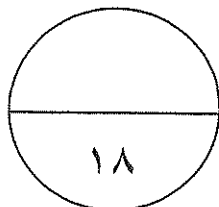
٤- القائد المسلم الذي فتح مصر:

د- أسامة بن زيد

ج- عمرو بن العاص

ب- خالد بن الوليد

أ- سعد بن أبي وقاص



درجة السؤال الأول

السؤال الثاني: (اختياري) يتكون من (أ، ب، ج، د):

أ- اكتب فيما يلي مما درست:

١- الأهمية الإستراتيجية لموقع الوطن العربي.

أ-

ب-

ج-

٢- مكونات الجهاز الإداري في الدولة العثمانية:

.....

.....

ب- فرق بين كل من صادرات وواردات الوطن العربي:

الواردات	الصادرات
.....
.....

ج- اقرأ ما يلي ثم نفذ المطلوب:

* تونس دولة عربية مساحتها ١٥٦,٠٠٠ كم^٢، وعدد سكانها عام ٢٠٠٣ بلغ ٩,٨٩١,٠٠٠

١- احسب الكثافة السكانية المطلقة (الحسابية) لتونس؟

القانون:

الكثافة السكانية المطلقة (الحسابية) لتونس =

.....

د- اذكر ما يلي:-

١- الحضارات القديمة في الوطن العربي.

.....

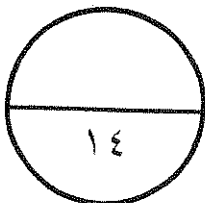
.....

.....

٢- المقومات البشرية للإنتاج في الوطن العربي.

.....

.....



درجة السؤال الثاني -

السؤال الثالث: (اختياري) ويتكون من (أ، ب، ج)

أ- قارن بين: كل من حيث أوجه الشبه وأوجه الاختلاف :-

نباتات دائمة	النباتات الحولية	أوجه المقارنة
		الشبه
		الاختلاف

ب- أدرس الجدول التالي بالنسبة للقوى العاملة في بعض الدول العربية سنة ٢٠٠٢ م، ثم أجب عن ما يلي:

الرقم	الدولة	نسبة القوى العاملة كنسبة مئوية من مجموع السكان
١	مصر	٣٩,٣ %
٢	المغرب	٤١,٧ %
٣	الكويت	٥٦,٤ %
٤	قطر	٥٦,٨ %
٥	العراق	٢٧,٣ %
٦	الإمارات	٤٢,٦ %

١- حول الرقم ٢، ٣، ٥ إلى أعمدة بيانية:

٢- اخرج حقيقة من الجدول:

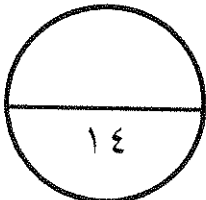
٣- عرف قوة العمل:

ج- علل لما يلي:

١- تعتبر الصناعة من الأنشطة الاقتصادية المهمة في الوطن العربي.

٢- وقوف قريش موقف عدائي من النبي صلى الله عليه وسلم.

٣- ازدهار اليقظة العربي في دول الوطن العربي في نهاية القرن التاسع عشر.



درجة السؤال الثالث

السؤال الرابع: (اختياري) ويتكون من (أ، ب، ج):

أ-اقرأ الفقرة التالية ثم اجب عما يليها من أسئلة:

عقب وفاة الرسول صلى الله عليه وسلم واجتمع المسلمون في سقيفة بني ساعدة لاختيار خليفة للمسلمين يخلف الرسول صلى الله عليه وسلم لإعادة القبائل العربية إلى الإسلام التي خرجت عنه ، ونشر الدين الإسلامي خارج شبه الجزيرة العربية .

١- ما النتائج المترتبة على اختيار خليفة للمسلمين .

٢- علل قيام حركة الفتوحات الإسلامية.

ب- عرف ما يلي:

١- التجارة البينية:

٢- صفر النمو السكاني:

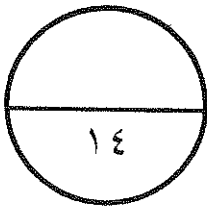
٣- الصابنة:

ج- علل لما يلي:

١- يعتبر الغاز الطبيعي من مصادر الطاقة المهمة.

٢- تعرض دول الوطن العربي للاستعمار الأوروبي.

٣- يتأثر مناخ الوطن العربي بتوزيع اليابس والماء.



درجة السؤال الرابع :

١٤

السؤال الخامس: (اختياري) ويتكون من (أ، ب، ج، د):

أ - عدد ما يلي :-

١- معابر انتقال الحضارة العربية الإسلامية إلى أوروبا.

٢- أعمال الرسول (صلى الله عليه وسلم) في المدينة.

ب- ارسم تأثير العمليات الداخلية (الالتواءات) على تشكيل الثنيات المحدبة والمقعرة:

ج- اقرأ الفقرة التالية ثم نفذ المطلوب:

يستخدم الفوسفات في صناعة الأسمدة الفوسفاتية وصناعة المبيدات الحشرية ويمتلك الوطن العربي أكثر من نصف الاحتياطي العالمي، ويقدر إنتاجه بنحو ٢٧% من مجموع الإنتاج العالمي، ويتركز في ستة أقطار عربية هي الأردن ٦,٨ مليون طن، ، وسوريا ٢ مليون طن، ومصر ١,٣ مليون طن وتونس ٦,٢ مليون طن والجزائر ١,٢ مليون طن والمغرب التي تنتج حوالي ٢١,٣ مليون طن .

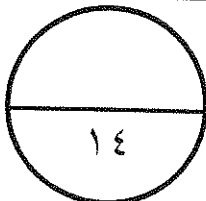
١- رتب أعلي ٣ دول الواردة في الفقرة ترتيباً تنازلياً :

--	--	--

٢- حول نسبة إنتاج الوطن العربي من الفوسفات من مجموع الإنتاج العالمي إلى دائرة بيانية.

د- أكمل الجدول التالي بما هو مطلوب منك:

المطلوب	حزب اللامركزية الإدارية العثمانية	الجمعية العربية الفتاة
مقر التأسيس	-----	-----
الأهداف	-----	-----



درجة السؤال الخامس
انتهت الأسئلة

الزمن : ساعتان وربع

امتحان الوطن العربي للصف العاشر


وزارة التربية

التوجيه الفني العام للاجتماعيات الفترة الدراسية الثانية للعام الدراسي ٢٠١٢-٢٠١٣ عدد الوراق: (٦)


أجب عن أربع أسئلة فقط على أن يكون السؤال الأول منها إجباريا :-

أولا : السؤال الأول : ((إجباري)) ويتكون من (أ ، ب ، ج ، د) :

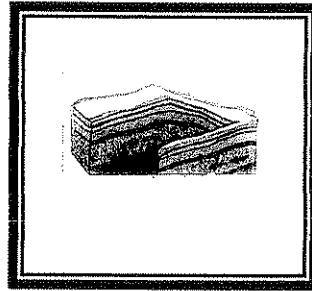
١. اختر البديل المناسب من بين البدائل التي تلي كل عبارة مما يلي وضع تحته خط :-
١. الانكسار الأخدودي يمثل الشكل الذي يحمل الحرف :



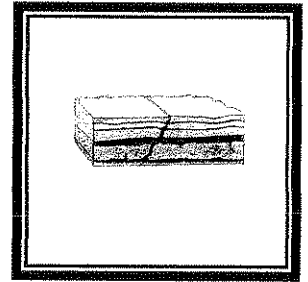
د



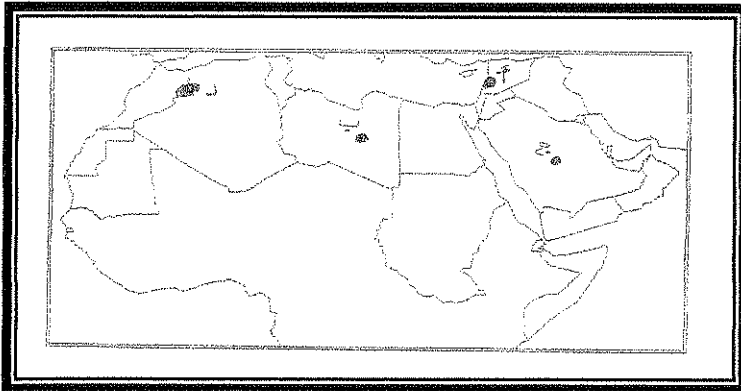
ج



ب



أ



٢. أكثر المناطق أمطارا يمثلها على الخريطة المقابلة، المنطقة التي تحمل الحرف :
(أ ، ب ، ج ، د)

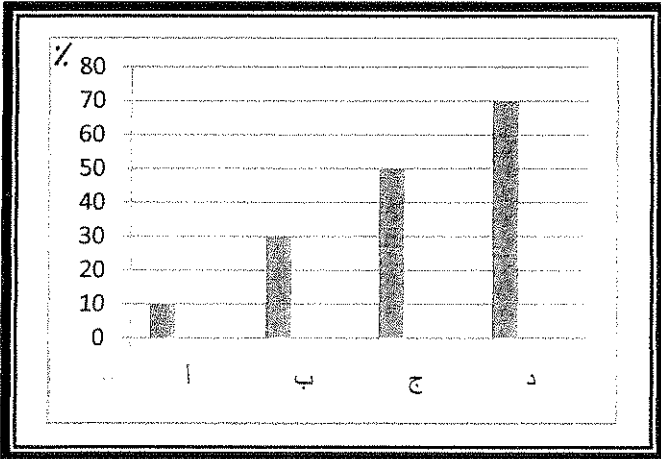
٣. نسبة احتياطي الوطن العربي من الغاز الطبيعي لعام ٢٠٠٢م يمثلها في الشكل المقابل ، العمود الذي يحمل الحرف :

أ.

ب.

ج.

د.



٤. إمارة الغساسنة والتي تمثل إحدى الكيانات السياسية التي ظهرت في منطقة تسمى :
أ. بادية الشام ب. أطراف العراق ج. هضبة نجد د. اليمن

ب. أكمل العبارات التالية بما يناسبها :

١. المسطح المائي الذي تقع فيه جزر القمر يسمى
٢. الحضارة القديمة التي اشتهرت بشريعة حمورابي تسمى
٣. استمر الوجود الإسلامي في بلاد الأندلس حتى سقوط مملكة تسمى
٤. أول صحيفة عربية ظهرت في القاهرة عام ١٨٢٨م وساعدت على ازدهار اليقظة العربية تسمى

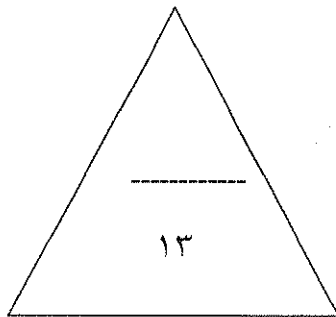
ج. أكتب المفهوم أو المصطلح الدال عليه العبارات التالية أمام كل عبارة مما يلي :

- ١- (.....) نبات طبيعي يظهر وينتشر أثناء أو مباشرة بعد سقوط المطر .
- ٢- (.....) رأس الدولة العثمانية والمشرف على أجهزتها وتطبيق أحكام الشريعة الإسلامية وحمايتها .
- ٣- (.....) المحاصيل التي تزرع من أجل التصدير أو من أجل استخدامها كمواد خام زراعية .

د. صنف الدول العربية التالية حسب الجدول التالي :-

العراق ، الجزائر ، ليبيا ، مصر

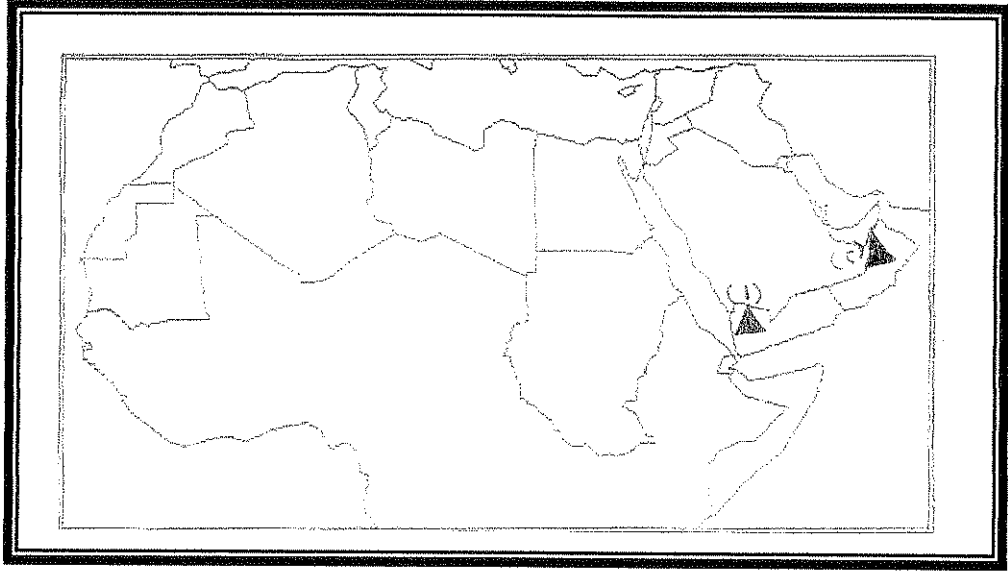
الاستعمار الأسباني	الاستعمار الإيطالي	الاستعمار الفرنسي	الاستعمار البريطاني



درجة السؤال الأول

ثانيا : اختر ثلاث أسئلة كاملة فقط

السؤال الثاني : (اختياري) ويتكون من (أ ، ب ، ج) :-
أ. لاحظ خريطة الوطن العربي التالية ثم أجب عن الأسئلة التي تليها :



- قارن بين كل من جبل رقم (١) وجبل رقم (٢) من حيث أسباب التكوين في الجدول التالي :

جبل رقم (٢)	جبل رقم (١)	مجال المقارنة
		أسباب التكوين

- حدد هضبة نجد بالرمز ■ .

★ حدد الدولة العربية التي وقعت تحت الاستعمار الفرنسي بعد هزيمتها في معركة ميسلون عام ١٩٢٠ بالرمز ★

ب. فرق بين كل مما يأتي :

مورد طبيعي	مورد اقتصادي

ج. أكتب نقطتين عن كل مما يلي :-

١. أهم الانجازات التي حققها الكنعانيون في تاريخ بلاد الشام .

.....*

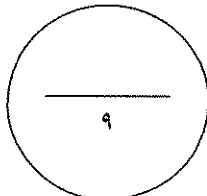
.....*

٢. دور السلطان سليم الأول في سقوط الدولة المملوكية .

.....*

.....*

درجة السؤال الثاني




السؤال الثالث : (اختياري) ويتكون من (أ ، ب ، ج) :

أ. اقرأ الفقرة التالية ثم أجب عما يليها:-
" تعتبر التجارة سواء كانت تجارة داخلية أو خارجية من الأنشطة الاقتصادية المهمة في الوطن العربي واحتلت التجارة البيئية حيزا محدودا في حجم وقيمة التجارة الخارجية العربية . وتسعى الدول العربية لدعم السوق العربية المشتركة بينها حيث أنها تعتمد على ٤٢% من وارداتها على دول الاتحاد الأوروبي " .

١. عرف ما تحته خط في العبارة السابقة :

٢. عدد اثنين فقط من إجراءات تحقيق إنشاء السوق العربية المشتركة.

٣. استعن بالشكل الدائري التالي لتظليل النسبة الواردة بالفقرة السابقة :



ب. علل لما يأتي :

١. تندي حجم قوة العمل الوطنية في الوطن العربي .

٢. حرص بريطانيا على احتلال مدينة عدن عام ١٨٣٩ م .

٣. تمثل مجموعة الحبوب الغذائية أهمية إستراتيجية في الوطن العربي .

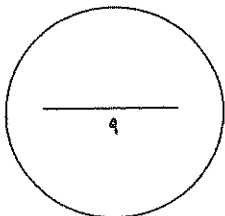
ج. فسر المفاهيم والمصطلحات التالية :-

١. وطن عربي

٢. كثافة سكانية

٣. تجوية

درجة السؤال الثالث



السؤال الرابع : (اختياري) ويتكون من (أ ، ب ، ج)
 أ. أقرأ الجدول التالي ثم أجب عما يليه من أسئلة :-

الدولة	إنتاج الموالح لعام ١٩٩٦ (ألف طن متري)	الإنتاج اليومي للنفط عام ٢٠٠٣ (ألف برميل /يوميا)
الأردن	٤٤	غير معروف
لبنان	١٠٠	غير معروف
مصر	٣٣٠	غير معروف
الإمارات	غير معروف	٢٢٢٥.٥
الكويت	غير معروف	٢١٠٦.٧
(س)	غير معروف	٨٤١٠.٠

١. اكتب اسم الدولة المشار إليها بالحرف (س) في إنتاج النفط عام ٢٠٠٣ م .

٢. حول معلومات الدول الثلاث المنتجة للموالح إلى رسم بياني على شكل أعمدة بيانية في المساحة المقابلة .

ب. دال على صحة العبارات التالية:

١. نجاح حركة الفتوحات الإسلامية في نشر الإسلام يعود لعدة عوامل .

.....
 *

٢. تتعدد معابر انتقال الحضارة العربية الإسلامية إلى أوروبا .

.....
 *

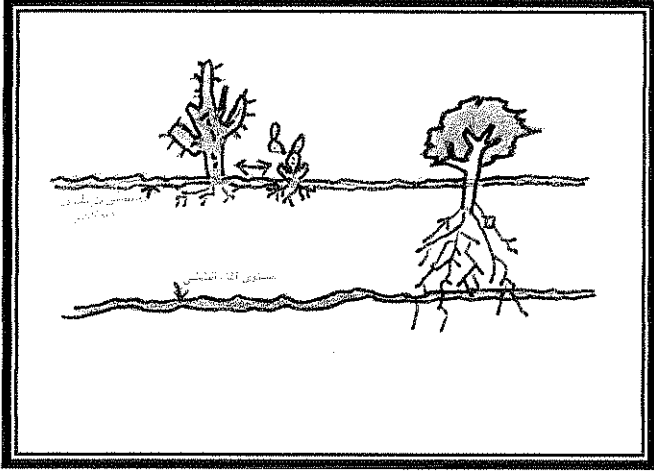
ج. قارن بين كل مما يلي حسب معايير الجدول التالي :

المعيار	إقليم مناخ البحر المتوسط	إقليم المناخ المداري الرطب
الموقع الفلكي		
الخصائص المناخية (درجة الحرارة والأمطار)		
الخصائص النباتية (مثال لكل منهما)		

درجة السؤال الرابع

السؤال الخامس (اختياري) ويتكون من : (أ ، ب ، ج ، د) :

أ. أجب عن الأسئلة التالية حسب ما هو مطلوب منك :



١. لاحظ الشكل المقابل ثم أثبت صحة العبارة التالية :
((للنباتات الصحراوية طرقا مختلفة للتعايل على قسوة المناخ الصحراوي))

.....
.....
.....
.....
.....
.....

٢. عدد أعمال الرسول " صلى الله عليه وسلم " في المدينة .

.....
.....

ب. بم تفسر كل مما يلي :-

١. اعتبار الصناعة من الأنشطة الاقتصادية المهمة في الوطن العربي .

.....
.....

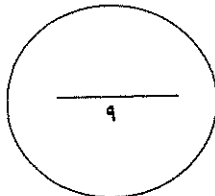
٢. فشل الحملة الفرنسية عام ١٧٩٨م على مصر والتي قادها نابليون بونابرت .

.....
.....

ج. قارن بين كل مما يلي حسب ما هو مطلوب منك بالجدول التالي :

الجمعية العربية الفتاة	حزب اللامركزية الإدارية العثماني	المعيار
		مقر التأسيس (المدينة)
		الأهداف

درجة السؤال الخامس



انتهت الأسئلة

المجال الدراسي : الوطن العربي
الزمن : ساعتان وربع
عدد الأوراق (٦)

وزارة التربية
التوجيه الفني العام للاجتماعيات

امتحان نهاية الفترة الدراسية الثانية للصف العاشر
العام الدراسي ٢٠١٣ / ٢٠١٤

أجب عن أربعة أسئلة فقط على أن يكون السؤال الأول منها " إجباريا "

السؤال الأول :- موضوعي ويتكون من (أ - ب - ج - د) :-

أ - صف الجبال التالية حسب ما يناسبها في الجدول :

(- جبال البحر الأحمر - جبال تبستي - الجبل الأخضر)

جبال التوائية	جبال انكسارية	جبال بركانية

ب أكمل العبارات التالية بما يناسبها :

١- يمتد الوطن العربي بين خطي طول ١٧ غرباً الى خط طول شرقاً .

٢- درجة تركز السكان في وحدة مساحية معينة في زمن معين يسمى

٣- قامت على ضفاف نهري دجلة والفرات عدة حضارات قديمة تنتمي إلى حضارة تسمى

٤- السلطان العثماني الذي انتصر في معركة مرج دابق في عام ١٥١٧م يسمى





٥- المعاهدة التي أصبحت ليبيا بمقتضاها خاضعة لسيطرة ايطاليا عام ١٩١٢م تسمى

(ج) اختر البديل المناسب من بين البدائل التي تلي كل عبارة مما يلي :

١. أولى دول الوطن العربي إنتاجا للفوسفات تسمى :

أ- الأردن	ب- تونس	ج- المغرب	د- سوريا
-----------	---------	-----------	----------

٢. التوزيع النسبي للسكان في الجناح الآسيوي بالنسبة لدول الوطن العربي يمثلها الجزء المظلل في الدائرة التي تحمل الحرف :

أ	ب	ج	د
			

٣- محصول زراعي ينتمي الى مجموعة المحاصيل النقدية يمثله :

أ- القطن	ب- الشعير	ج- الذرة	د- الزيتون
----------	-----------	----------	------------

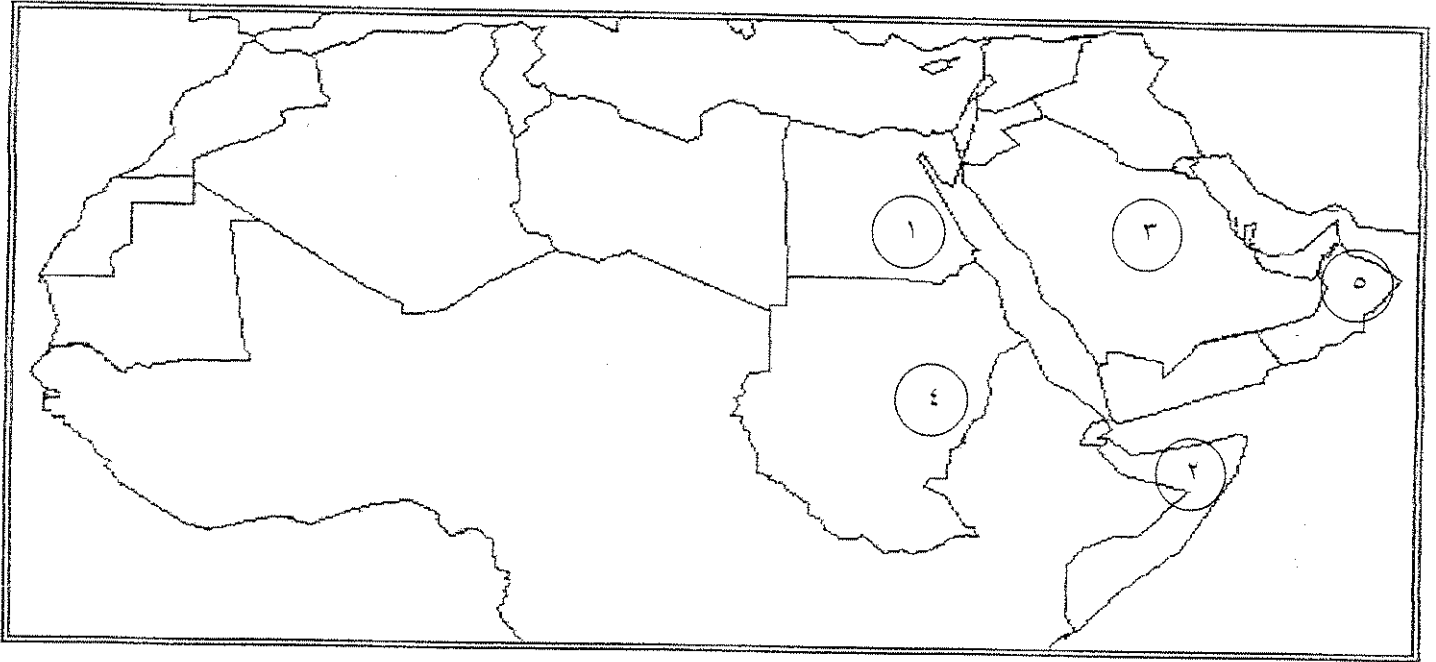
٤- استقرت إمارة الغساسنة قبل الاسلام في منطقة تسمى :

أ- أطراف العراق	ب- بادية الشام	ج- بلاد اليمن	د- هضبة نجد
-----------------	----------------	---------------	-------------

٥- مؤلف كتاب " الجبر والمقابلة " عالم مسلم يسمى : ص ٩٩

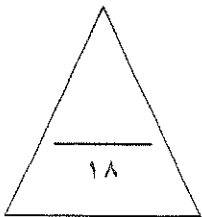
أ- الرازي	ب- ابن رشد	ج- ابن سينا	د- الخوارزمي
-----------	------------	-------------	--------------

(د) لاحظ خريطة الوطن العربي التي أمامك ثم اكتب مدلولات الأرقام عليها :



- * أكبر دولة عربية مساحة في الجناح الافريقي يمثله الرقم
- * يقع سهل الباطنة في الدولة التي تحمل الرقم
- * عقد مؤتمر القمة العربية عام ١٩٩٦ م في الدولة التي تحمل الرقم
- * أولى دول الوطن العربي إنتاجا للنفط لعام ٢٠٠٣ م تحمل الرقم
- * الدولة العربية التي وقعت تحت استعمار ثلاثي (بريطاني - فرنسي - ايطالي) يمثله الرقم

مجموع درجات السؤال الأول



السؤال الثاني :- (اختياري) يتكون من (أ - ب - ج)

أ- علل لما يأتي :-

١- سعي بريطانيا في السيطرة على العراق .

-----*

٢- تعتبر الصناعة من الأنشطة الاقتصادية المهمة في الوطن العربي .

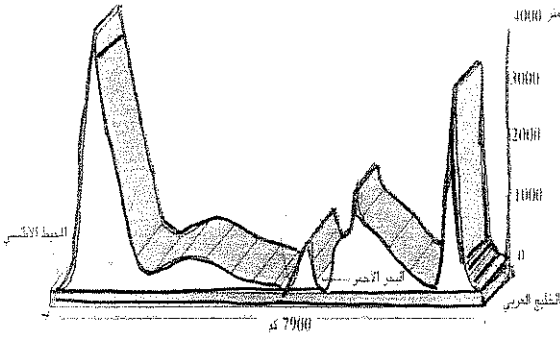
-----*

ب- اقرأ العبارة التالية مع ملاحظته الرسم المقابل ثم أجب عن الأسئلة التي تليه :

" تشكلت تضاريس الوطن العربي في مظاهر تضاريسية عديدة ناتجة عن عمليات داخلية وعمليات خارجية . "

لاحظ الشكل المقابل ثم أجب :

١- اكتب اسم إثنين فقط من الأشكال التضاريسية للوطن العربي على الرسم المقابل.



٢- فرق بين المفهومين التاليين :-

العمليات الخارجية	العمليات الداخلية

ج - أكتب نقطتين في كل مما يلي :

١- أهم الإجراءات والآليات لإنشاء السوق العربية المشتركة

-----*

٢- الأساليب التي اتخذتها قريش لمقاومة انتشار الدعوة الإسلامية .

-----*

٣- الجمعيات التي شكلها الزعماء العرب في الفترة ما بين ١٩٠٨ م - ١٩١٣ م ولعبت دوراً بارزاً في إنكفاء الروح العربية .

-----*

مجموع درجات السؤال الثاني

السؤال الثالث :- (اختياري) يتكون من (أ - ب - ج)

أ - ((لعب المناخ في الوطن العربي دوراً كبيراً في تنوع النباتات الطبيعية))

على ضوء العبارة السابقة .. أجب عما يلي:-

١- علل : قدرة النباتات الدائمة على تحمل الجفاف وارتفاع درجة الحرارة .

----- *

----- *

٢- أكتب اثنين فقط من أنواع نباتات إقليم الغابات المدارية .

----- *

----- *

ب- عرف المفاهيم والمصطلحات التالية :

١- تجوية .

٢- الموارد الطبيعية .

٣- التجارة البينية .

٤- الكثافة السكانية .

ج - ما النتائج المترتبة على كل من :-

١- حركة ترجمة التراث الإسلامي إلى اللغات الأوربية .

----- *

----- *

٢- المواقع الإستراتيجي المتميز للوطن العربي .

----- *

----- *

٣- تطوير وتنمية الطاقة البديلة المتوفرة في الوطن العربي .

----- *

----- *

مجموع درجات السؤال الثالث

السؤال الرابع :- (اختياري) يتكون من (أ - ب - ج)

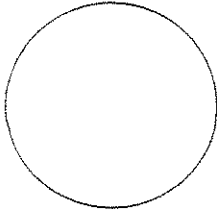
أ- اقرأ الجدول التالي ثم أجب عن ما هو مطلوب .

جدول يمثل الكثافة السكانية المطلقة في بعض الدول العربية لعام ٢٠٠٣ م (نسمة / كيلو متر مربع)

الدولة العربية	الإمارات	تونس	الكويت	المغرب	البحرين	موريتانيا
الكثافة السكانية المطلقة	٤٨	٦٤	١٤٣	٤٢	٩٧٥	٣

١- رتب دول الوطن العربي ترتيباً تصاعدياً من حيث الكثافة السكانية المطلقة عام ٢٠٠٣ م من الجدول السابق .

--	--	--	--	--	--	--



٢- عزيزي المتعلم إذا عرفت أن نسبة السكان الحضر في المملكة العربية السعودية تمثل ٨٧ % ، ظلل النسبة الواردة في الدائرة التالية .

ب - أكتب نقطتين عن كل مما يأتي :

١- ما العوامل التي تؤثر على حجم قوة العمل في الوطن العربي .

.....*

.....*

٢- الأهمية الروحية للوطن العربي .

.....*

.....*

٣- عوامل ازدهار اليقظة العربية .

.....*

.....*

ج - ما دور كل من في ازدهار الحضارات العربية القديمة التالية:..

حمورابي في ازدهار حضارة بلاد الرافدين	الكنعانيون " الفينيقيون " في ازدهار حضارة بلاد الشام
.....**
.....**

مجموع درجات السؤال الرابع.....

السؤال الخامس :- (اختياري) يتكون من (أ - ب - ج)

أ- دلل على صدق العبارات التالية .

١- لأشجار الأرز والبلوط أهمية اقتصادية كبيرة .

.....

.....

٢- جبال لبنان أكثر مطراً من جبال أطلس .

.....

.....

٣- اهتمام دول الوطن العربي بتطور وسائل الري الحديثة .

.....

.....

ب- علل لما يأتي :

١- تدني حجم قوة العمل الوطنية في معظم الأقطار العربية .

..... *

..... *

٢- حرص أوروبا في السيطرة على معظم قارات العالم ونهب خيراتها .

..... *

..... *

ج- أكتب نقطتين في كل مما يأتي :-

١- أهم المناطق الصناعية في الوطن العربي .

..... *

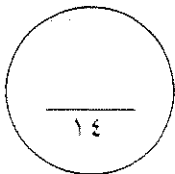
..... *

٢- دور اللغة العربية في ازدهار الحضارة العربية الإسلامية .

..... *

..... *

مجموع درجات السؤال الخامس.....



انتهت الأسئلة ،،
تمنياتنا لكم بالنجاح والتوفيق

هـ

الإجابة في (٥) صفحات

امتحان الفترة الدراسية الأولى

وزارة التربية



المجال الدراسي : الوطن العربي

للسف العاشر

الإدارة العامة لمنطقة الجهراء التعليمية

الزمن : ساعة

العام الدراسي ٢٠١٤ / ٢٠١٥ م

التوجيه الفني للاجتماعيات

أجب عن جميع الأسئلة التالية :

لكل نقطة نصف درجة

السؤال الأول (موضوعي) يتكون من أ - ب - ج :-

أ - أكمل العبارات التالية بما يناسبها :-

١- أعلى قمة جبلية في شبه الجزيرة العربية تسمى النبي شعيب ص ٢٨

٢- أقصى نقطة يمتد إليها الوطن العربي غربا تسمى الرأس الأبيض ص ١٥

٣- أولى الدول العربية إنتاجا للصبغ العربي تسمى السودان ص ٣٦

٤- أكثر الحبوب إنتشارا في الوطن العربي تسمى القمح ص ٦٠

ب - أكتب المفهوم الدالة عليه التعريفات التالية :-

١- (الجات) أتفاقية أقتصادية عالمية تهدف إلى تحرير التجارة العالمية . ص ٥٦

٢- (قوة العمل) عدد الأفراد القادرين على العمل ذكورا وإناثا . ص ٥٤

٣- (الطبوغرافية) الهيئة العامة لسطح الأرض الناتجة عن دور عمليات النحت والحركات الباطنية في

المنطقة . ص ٢٠

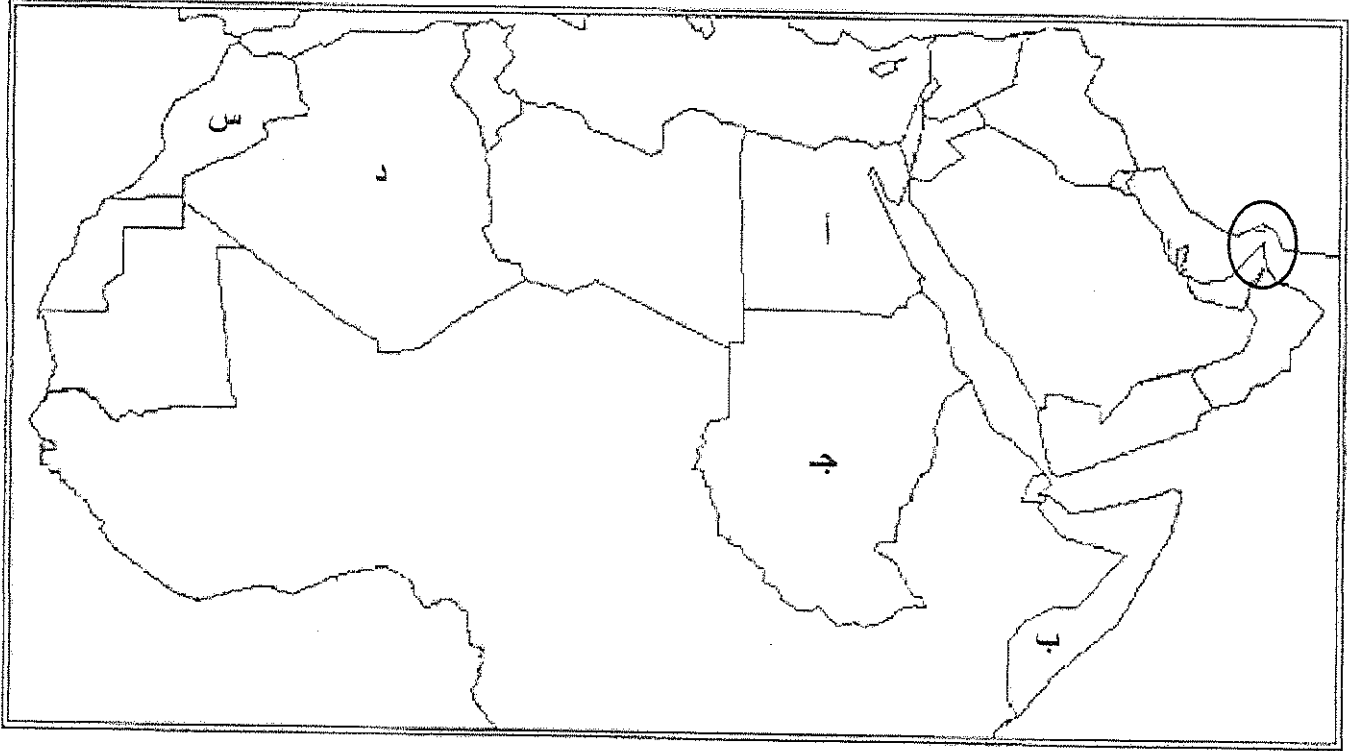
٤- (النمو السكاني) حركة السكان عدديا نحو الزيادة أو النقصان . ص ٤٦

٢٠١٤ / ٥ / ٢٠١٤

تابع امتحان الفترة الدراسية الأولى - الوطن العربي - للصف العاشر العام الدراسي ٢٠١٤ / ٥ / ٢٠١٤

تابع السؤال الأول :

جـ - لاحظ خريطة الوطن العربي التي أمامك ثم نفذ المطلوب :



- ١- الدولة العربية التي يمر بها خط الإستواء يمثلها على الخريطة الحرف (ب) ص ١٤
- ٢- الدولة العربية التي يقع بها منخفض القطارة يمثلها على الخريطة الحرف (أ) ص ٢٣
- ٣- الدولة العربية التي يقع بها نهر ملوية يمثلها على الخريطة الحرف (س) ص ٢٦
- ٤- المنطقة المظلمة على الخريطة برمز الدائرة تمثل مضيق يسمى هرمز ص ١٤

٢٠١٤ / ٢٠١٥

تابع امتحان الفترة الدراسية الأولى - الوطن العربي - للصف العاشر العام الدراسي ٢٠١٤ / ٢٠١٥

السؤال الثاني (مقالي) يتكون من (أ - ب) :

أ- علل لكل مما يلي :-

- ١- تتلقى جبال لبنان أمطارا أكثر من جبال أطلس . ص ٢٩ ١ درجة
 - لأن جبال لبنان تقع في مواجهة الرياح الممطرة بينما جبال أطلس تمتد موازية للرياح الممطرة .
- ٢- تدني حجم قوة العمل الوطنية في معظم الأقطار العربية . ص ٥٤ ٢ درجة يكتفى بنقطتين
 - ان نصف السكان تقريبا خارج فئات العمر لقوة العمل .
 - تمثل النساء حوالي ٥٠% من حجم السكان في فئة سن العمل ونسبة كبيرة منهم لا يعملن .

ب - عدد ما يلي :- يكتفى بثلاث نقاط

- ١- الهجرات السكانية الداخلية التي شهدها الوطن العربي عبر عصوره التاريخية المتعاقبة . ص ٤٥ ٣ درجة
 - هاجرت بعض الجماعات السكانية الحامية من الجناح الأفريقي الى القطاع الجنوبي من الجناح الاسيوي حيث تظهر المؤشرات الحامية الافريقية واضحة في كل من جنوب المملكة العربية السعودية وسلطنة عمان .
 - هاجرت بعض الجماعات السكانية السامية الى السودان مباشرة عبر البحر الاحمر او عن طريق وادي النيل من مصر التي وصلتها الهجرات السامية عن طريق شبه جزيرة سيناء حيث وفدت مجموعة من القبائل العربية الى المغرب العربي واستقرت فيه واختلطوا بجماعات البربر المتواجدة في هذه المنطقة .
 - وفدت مجموعة من القبائل العربية في القرن الحادي عشر الميلادي وهي القبائل الهلالية التي نزحت بأعداد كبيرة من المشرق الى المغرب العربي ومن هذه القبائل بنو هلال وبنو سليم وجهينة وبنو خزام .
- ٢- وسائل الري الاقتصادية المستخدمة في الوطن العربي . ص ٦٠ ١ درجة يكتفى بنقطة

• الري بالرش

• الري بالتنقيط

• الري بالغمر

٤٤

تابع امتحان الفترة الدراسية الأولى - الوطن العربي - للصف العاشر العام الدراسي ٢٠١٤ / ٢٠١٥ م

السؤال الثالث (مقالى) يتكون من (أ - ب) :-

أ - فرق حسب الجدول التالي :-

مميزات إقليم المناخ المداري ص ٣٢ ٢ درجة (درجة الحرارة - الأمطار)	مميزات إقليم المناخ الصحراوي ص ٣١ ٢ درجة (درجة الحرارة - الأمطار)
• يتميز بارتفاع درجة الحرارة باستمرار عن ٢٠ درجة • أمطاره صيفية تتراوح كميتها بين حوالي ٣٠٠ و ٥٠٠ ملم سنويا .	• يتميز بجفافه وندرة أمطاره . • ارتفاع المدى الحراري لبيومي والسنوي .

ب - لاحظ الجدول التالي والذي يمثل إنتاج بعض الدول العربية للكروم لعام ١٩٩٦ م ثم نفذ المطلوب منك :-

ص ٦٤

الدولة العربية	إنتاج الكروم
سوريا	٤٥١
مصر	٧٤٠
العراق	٣٠٠
لبنان	٣٥٠

١- استخراج حقيقة من الجدول .


• أي حقيقة مناسبة يكتبها المتعلم ١ درجة

1404

تابع امتحان الفترة الدراسية الأولى - الوطن العربي - للصف العاشر العام الدراسي ٢٠١٤ / ٢٠١٥ م

تابع السؤال الثالث يتكون من (أ - ب) :-

٢- حول الأرقام الواردة في الجدول إلى رسم بياني (أعمدة بيانية) . ٢ درجة



وزارة التربية
 منطقة الفروانية التعليمية
 التوجيه الفني للاجتماعيات
 امتحان الفترة الدراسية الأولى
 للعام الدراسي ٢٠١٤ / ٢٠١٥ م
 مقرر / الوطن العربي
 الزمن : ساعة واحدة
 الصف : العاشر
 عدد أوراق الاجابة : ٤ صفحات

السؤال الأول : ويتكون من (أ - ب - ج) : (نصف درجة لكل اجابة)

(أ) اختر البديل المناسب من بين البدائل التي تلي كل عبارة وضع تحته خطأ :

(١) الاقليم المناخي الذي يمتد بين دائرتي عرض ٨° - ١٨° شمالا وأمطاره صيفية يطلق عليه اسم الاقليم :

(الصحراوي - المداري - البحر المتوسط - شبه الاستوائي) . ص ٣٢

(٢) تقع السهول الفيضية لنهر الشليف في دولة عربية اسمها :

(المغرب - تونس - الجزائر - موريتانيا) . ص ٢٦

(٣) أعلى قمة جبلية في الوطن العربي اسمها :

(طوبقال - الأحجار - النبي شعيب - الجبل الأخضر) . ص ٢١

(٤) تغطي الصحاري مساحات واسعة من الوطن العربي تصل من اجمالي مساحته إلى حوالي :

(٦٠% - ٧٠% - ٨٠% - ٩٠%) . ص ٣١ + ص ٥٠

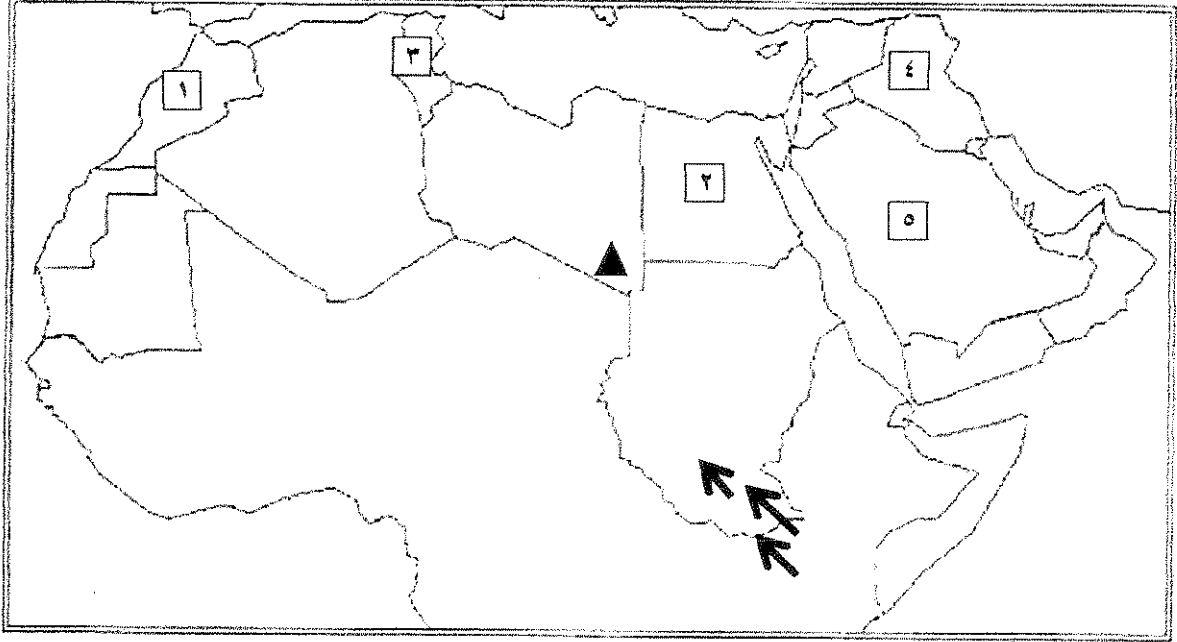
(ب) اختر من المفاهيم في القائمة (ب) ما يناسب العبارات في القائمة (أ) بوضع الرقم المناسب :

ص ٤٦-٤٧

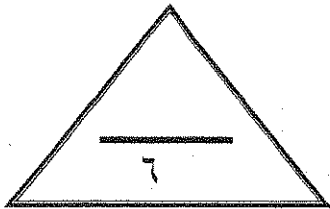
القائمة (أ)	الرقم المناسب	القائمة (ب)
(١) تساوي معدلات المواليد مع معدلات الوفيات.	٢	النمو السكاني
(٢) حركة السكان عدديا نحو الزيادة أو النقصان.	٣	معدل النمو السكاني الطبيعي
(٣) الفرق بين معدل المواليد ومعدل الوفيات.	-	معدل النمو السكاني غير الطبيعي
	١	صفر النمو السكاني

تابع السؤال الأول :

(ج) أمامك خريطة للوطن العربي لاحظها بدقة ثم أجب عما يليها من أسئلة :



- (١) أولى الدول العربية في انتاج الأسماك يمثلها على الخريطة الرقم (١) . ص ٦٧
- (٢) يقع نهر مجردة في دولة عربية تحمل على الخريطة الرقم (٣) ص ٢٦
- (٣) أولى الدول العربية انتاجا للقطن عام ١٩٩٦م يمثلها على الخريطة الرقم (٢) . ص ٦٣
- (٤) الرمز ▲ يمثل على الخريطة جبال بركانية يطلق عليها اسم (تبستي) . ص ٢٧
- (٥) الأسهم على الخريطة تشير إلى هجرات خارجية شهدها الوطن العربي اسمها (هجرات زنجية) ص ٤٤



الدرجة : فقط لاغير

السؤال الثاني : ويتكون من (أ - ب) :

(أ) فرق بين المفاهيم التالية : (٤ درجات .. لكل مفهوم درجة واحدة)

الموارد الطبيعية ص ٥٨	الموارد الاقتصادية ص ٥٩
هي كل عناصر أو مكونات البيئة الطبيعية من ماء وهواء وتربة وصخور ومعادن ومصادر الطاقة وأحياء فطرية نباتية وحيوانية .	هي الموارد الطبيعية المستقلة أو هي الموارد الطبيعية عندما نستغلها ونستفيد منها .
العمليات الداخلية ص ٢٠	العمليات الخارجية ص ٢١
هي العمليات الطبيعية التي مصدرها باطن الأرض وهي إما عمليات سريعة مثل الزلازل والبراكين أو بطيئة مثل الإلتواءات والإنكسارات .	هي الوسائل والطرق الطبيعية التي تعمل وتؤثر على سطح الأرض ولها علاقة مباشرة بنوع المناخ السائد

(ب) اقرأ الفقرة التالية واستعن بها للإجابة على الأسئلة التي تليها :

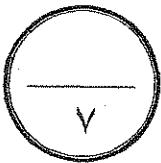
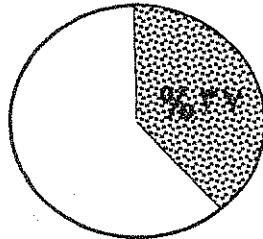
• تبلغ نسبة قوة العمل في وطننا العربي حوالي ٣٧٪ من مجموع السكان عام (٢٠٠٢م) وهي نسبة منخفضة إذا ما قورنت بنسبة القوى العاملة على مستوى العالم .

(١) عرف ما تحته خط : (نصف درجة) ص ٥٤
قوة العمل : عدد الأفراد القادرين على العمل ذكورا وإناثا .

(٢) علل : تدني حجم قوة العمل الوطنية في بعض الأقطار العربية . (درجتان)

• نصف السكان تقريبا خارج فئات العمر لقوة العمل إما لصغر السن أو لكبر السن .
• تمثل النساء حوالي ٥٠% من حجم السكان في فئة سن العمل ونسبة كبيرة منهن لا تعمل لأسباب كثيرة .

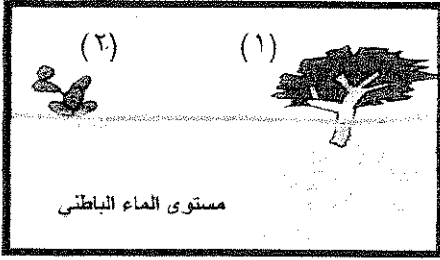
(٣) استعن بالشكل الدائري لتظليل نسبة قوة العمل في الوطن العربي الواردة في الفقرة السابقة : (نصف درجة)



الدرجة : فقط لاغير

السؤال الثالث : ويتكون من (أ - ب) :

(أ) استعن بالصور أمامك للإجابة على الأسئلة التالية : (٣ درجات)



- ١- ما الطرق التي يلجأ لها كل من النبات رقم (١) والنبات رقم (٢) لتحمل الجفاف والحرارة في المناطق الحارة ؟ ص ٣٤
- النبات رقم (١) : له جذوراً طويلة تساعده على الوصول إلى مستوى المياه الجوفية القريبة من سطح الأرض . (درجة)
- النبات رقم (٢) : له جذوراً سطحية تستفيد من المياه السطحية التي تكون أحياناً متوفرة ويكون له أوراق وسيقان سميكة تخزن المياه . (درجة)

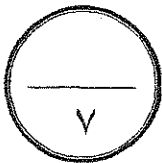


- ٢- كيف تؤثر المرتفعات الساحلية في تكون الصحاري في الوطن العربي . ص ٢٩
- تشكل المرتفعات حاجزاً أمام الرياح فتؤدي إلى سقوط الأمطار في الجزء المواجه للرياح وبالتالي فإن المناطق الداخلية والتي تقع في ظل الجبل يصلها جزء بسيط من هذه الأمطار مما يؤدي إلى تكون الصحاري . (درجة)

(ب) علل لما يلي :

- ١- تعتبر قناة السويس من أهم الممرات المائية . ص ١٧ (درجة ويكتفى بنقطة واحدة)
- لأنها تسهل الملاحة في العالم وتختصر الطرق التجارية .
 - توفر الوقت والوقود وتكاليف النقل البحري .
- ٢- تعتبر دراسة السكان من الدراسات الجغرافية المهمة . ص ٤٤ (درجة)
- لأنها تكشف لنا عن أصولهم العرقية ومعدلات نموهم، وتوزيعهم الجغرافي وكثافتهم وحجم قوة العمل.
- ٣- تمثل مجموعة الحبوب الغذائية أهمية استراتيجية في الوطن العربي . ص ٦٠ (درجة)
- لأنها توفر للسكان مصدر الغذاء الأساسي وتشغل أكبر مساحة من الأراضي المزروعة .
- ٤- تدرج حشائش السافانا في القصر كلما اتجهنا نحو الشمال . ص ٣٦ (درجة)
- * حسب كمية الأمطار الساقطة و طول فصل النمو.

انتهت الأسئلة
مع تمنياتنا لكم بالنجاح والتوفيق



الدرجة : فقط لاغير

نموذج الاجابة

عدد الأوراق : (4)
الزمن : ساعة دراسية

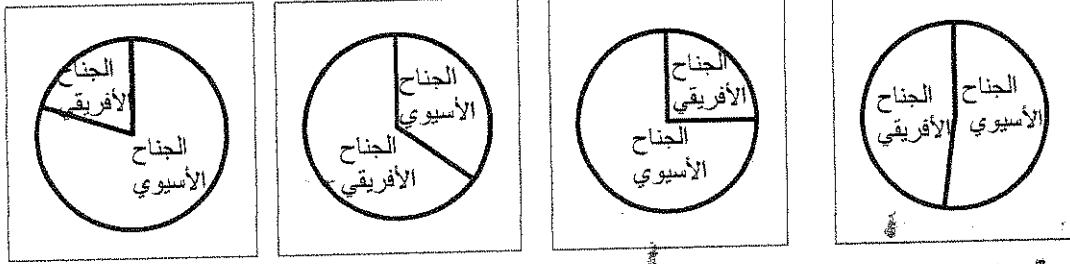
وزارة التربية
الادارة العامة لمنطقة العاصمة التعليمية
التوجيه الفني للاجتماعيات

امتحان نهاية الفترة الدراسية الاولى
المجال الدراسي : الوطن العربي - الصف العاشر
للعام الدراسي : 2014 - 2015 م

السؤال الأول ويتكون من (أ ، ب ، ج) : ($6 = 12 \times \frac{1}{2}$)

(أ) اختر البديل المناسب من بين البدائل التي تلي كل عبارة مما يلي وضع تحته خطاً:

1- التوزيع النسبي للسكان بين جناحي الوطن العربي عام (2003) تمثله الدائرة البيانية التي تحمل الحرف ص49.




أ - ليبيا
ب - الجزائر
ج - تونس
د - المغرب

2- تقع معظم اجزاء هضبة الشطوط في دولة عربية هي : ص26
أ - ليبيا
ب - الجزائر
ج - تونس
د - المغرب

3- الإقليم المناخي الذي يمتد بين دائرتي عرض 18- 30 شمالاً هو إقليم المناخ : ص31
أ - الصحراوي
ب - المداري
ج - البحر المتوسط
د - شبه الاستوائي

4- الشكل أدناه يمثل أحد أنواع الانكسارات يعرف باسم : ص19



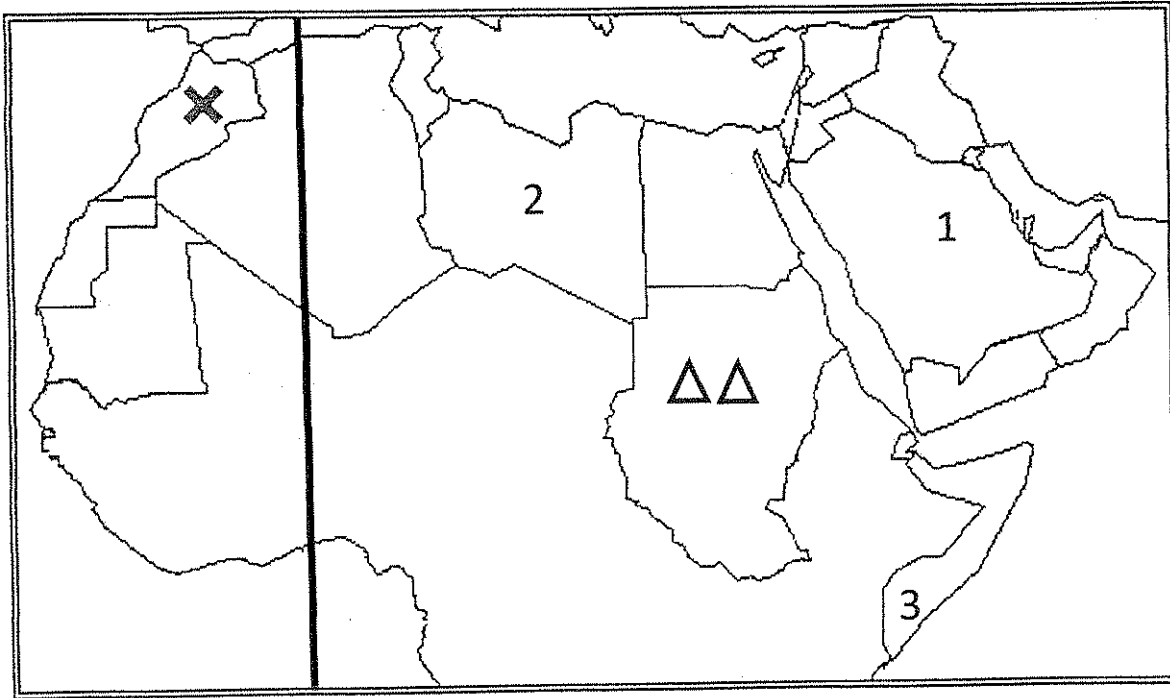
أ-انكسار بسيط
ب- هورست
ج- انكسار زاحف
د- انكسار مدرج

تابع - نموذج إجابة امتحان الفترة الدراسية الأولى - لمادة الوطن العربي - الصف العاشر - العام الدراسي 2014 - 2015 م

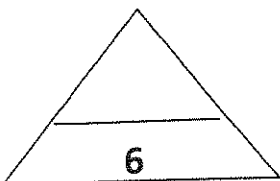
(ب) ظلل الحرف (أ) للعبارة الصحيحة والحرف (ب) للعبارة الخاطئة :

خاطئة	صحيحة	العبارة
(ب)	(أ)	1- تبلغ مساحة الوطن العربي حوالي 14,2 كم ² ص 16.
(ب)	(أ)	2- النباتات الحولية هي التي تتحمل الجفاف وارتفاع درجة الحرارة. ص 34
(ب)	(أ)	3- المحاصيل التي تزرع من أجل التصدير بالدرجة الأولى أو من أجل استخدامها كمواد خام هي مجموعة أشجار الفاكهة والخضروات. ص 62
(ب)	(أ)	4- النمو السكاني هو حركة السكان عددياً نحو الزيادة والنقصان . ص 46

(ج) لاحظ خريطة الوطن العربي التالية ثم نفذ المطلوب :



- 1- حدد أولى دول العالم إنتاجاً للصمغ العربي بوضع الرمز ΔΔ ص 36
- 2- حدد أكبر الدول العربية إنتاجاً للأسماك بوضع الرمز X ص 66
- 3- ارسم خط جرينتش على الخريطة التي أمامك ص 14
- 4- أكبر الدول العربية إنتاجاً لمحصول الموز يمثلها على الخريطة الرقم (3) ص 63



انتهى السؤال الأول

تابع - نموذج إجابة امتحان الفترة الدراسية الأولى - لمادة الوطن العربي - الصف العاشر - العام الدراسي 2014 - 2015 م

السؤال الثاني :- يتكون من (ا ، ب ، ج)

أ- أقرأ الفقرة التالية جيدا ثم اجب عما يليها من اسئلة :-

يشغل الوطن العربي مساحة واسعة في كل من قارتي آسيا وأفريقيا، ويلاحظ على امتداده انه متصل اذ يمكن الاتصال بينهما عبر شبه جزيرة سيناء، ويتمتع الوطن العربي بموقع استراتيجي متميز في العالم.

1- عرف ما تحته خط ؟ ص15

*اصطلاح يطلق على مجموعة الدول العربية التي يجمعها عدد من السمات المشتركة ومن اهمها اللغة العربية والدين الإسلامي ويضم 22 دولة (درجة)

2-بم تعلق الأهمية الاستراتيجية للوطن العربي؟ ص16
يكتفى بنقطتين (درجة) * يطل
على محيطين مهمين هما (المحيط الأطلسي ، والمحيط الهندي) ويشرف على 3 بحار الأحمر ،
المتوسط ، الخليج العربي) .
* يمثل همزة وصل بين الشرق والغرب .
* لاحتوائه على كميات كبيرة من البترول .

(ب) قارن بين " اقليم مناخ البحر المتوسط وأقليم المناخ المداري " كما هو موضح بالجدول :
ص30 (درجتان)

أوجه المقارنة	أقليم مناخ البحر المتوسط	اقليم المناخ المداري
الموقع الفلكي	يقع شمال درجة عرض 30 شمالا	يمتد بين دائرتي عرض 8-18 شمالا .
المميزات المناخية	دافئ وممطر شتاء وجاف حار صيفا	ترتفع درجة الحرارة باستمرار في الصيف وأمطاره صيفيه بين 300-500 ملم سنويا .

ج) عرف ما يلي : (3 درجات)

1-العمليات الداخلية : هي العمليات الطبيعية التي مصدرها باطن الأرض وهي إما سريعة (الزلازل- البراكين) أو بطيئة (الالتواءات والانكسارات) . ص20

2- الكثافة السكانية المطلقة: عدد السكان في قطر ما مقسوما على المساحة الكلية للقطر. ص 52

3- الموارد الطبيعية : كل عناصر او مكونات البيئة الطبيعية من ماء وهواء وتربة وصخور ومعادن ومصادر طاقة ، واحياء فطرية ونباتية وحيوانية سواء تعيش في (اليابس ، الماء) ص57

تابع - نموذج إجابة امتحان الفترة الدراسية الأولى - لمادة الوطن العربي - الصف العاشر - العام الدراسي ٢٠١٤ - ٢٠١٥ م

السؤال الثالث :- يتكون من (أ ، ب ، ج ، د)


أ- لاحظ الجدول التالي جيدا ثم أجب عن الأسئلة التي تليه :-

الدولة	إنتاج القطن
سوريا	٧٦٠
السودان	٣٢٥
المغرب	٤٩
مصر	٩٠٠

١-رتب تنازليا الدول المنتجة للقطن الواردة في الجدول السابق. ص ٦٣ (درجة)

مصر	سوريا	السودان	المغرب
-----	-------	---------	--------

٢-حول كمية إنتاج القطن في الدول السابقة إلى رسم بياني؟ ص ٦٣ (درجتان)



ب- بم تفسر : تدني حجم قوة العمل الوطنية في الأقطار العربية. ص ٥٤ (درجة)

* نصف السكان تقريبا خارج فئات العمر لقوة العمل
* تمثل النساء ٥٠% من حجم السكان في فئة سن العمل .

ج- دلل على صحة العبارة التالية :-

شهد الوطن العربي هجرات سكانية داخلية اثرت في تركيبته العرقية. ص ٤٥ (درجة)
الهجرات الحامية من الجناح الأفريقي الى الجناح الآسيوي . الهجرات السامية ، والقبائل الهلالية
من المشرق الى المغرب العربي .

د- ما الفرق بين كل من : ص ٤٦، ٤٧ (درجتان)

النمو السكاني الطبيعي	النمو السكاني غير الطبيعي
الفرق بين معدل المواليد ومعدل الوفيات .	الفرق بين اعداد الهجرات الوافدة والنازحة .

تمنياتنا لكم بالتوفيق

السؤال الأول: ويتكون من (أ - ب - ج) . لكل نقطة نصف درجة المجموع ست درجات

أ - اختر البديل المناسب من بين البدائل التي تلي كل عبارة وضع تحته خطأ :

1- التفكك والتفتت لأسطح الصخور نتيجة التغيرات في درجات الحرارة اليومية والفصلية تسمى : ص 22

أ- التعرية ب- التجوية ج- الانهيارات الأرضية د- العمليات الخارجية.

2- تعتمد الدول العربية على مياه الأنهار في ري المساحات الزراعية بنسبة : ص 60

أ- 18% ب- 28% ج- 38% د- 48%

3- درجة تركيز السكان في وحدة مساحية معينة في زمن معين تسمى : ص 52

أ- النمو السكاني ب- كثافة السكان ج- الكثافة السكانية المطلقة د- معدل النمو الطبيعي.

4- شهدت الهوامش الجنوبية للوطن العربي تأثيرات وهجرات سلالة تسمى: ص 45

أ- القوقازية ب- المغولية ج- الزنجية د- السامية.

ب - أكمل العبارات التالية بما يناسبها:-

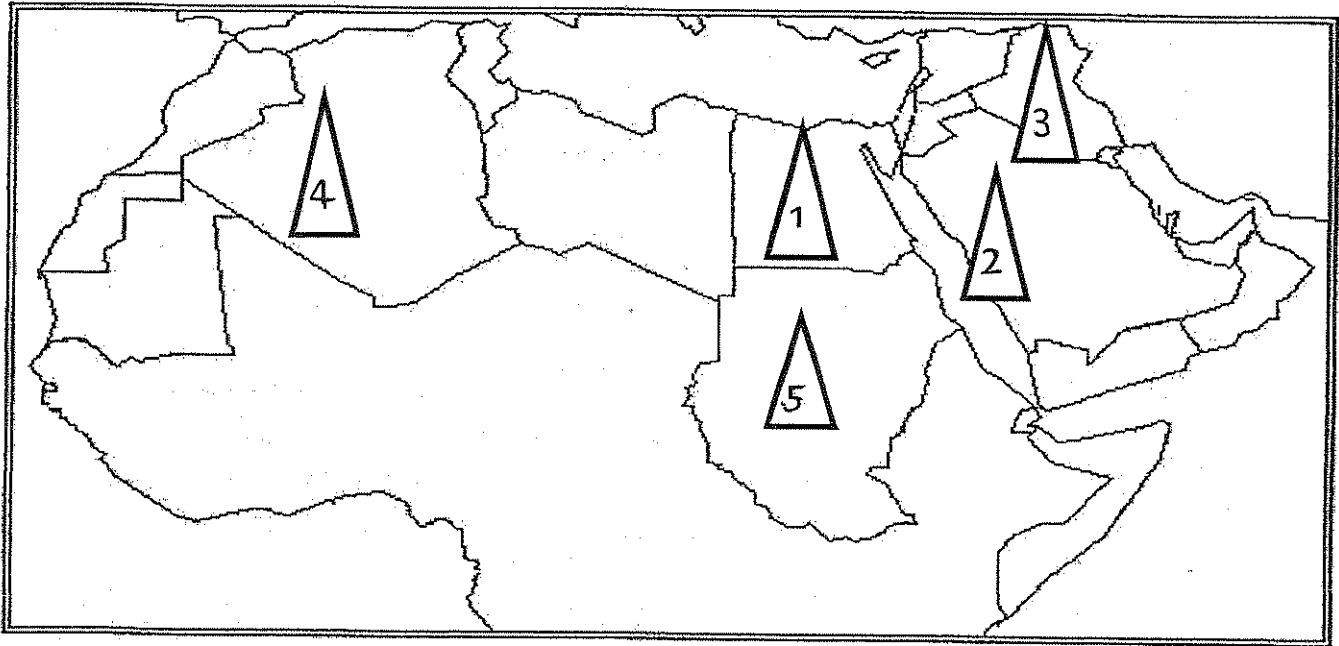
1- أقصى منطقة في الوطن العربي من الناحية الشرقية تقع في سلطنة عمان وتعرف بإسم رأس الحد
ص 15

2- أعلى قمة جبلية في الوطن العربي تسمى طوبقال ص 27

3- حركة السكان عددياً نحو الزيادة أو النقصان تسمى النمو السكاني ص 46

4- نسبة القوى العاملة في الوطن العربي 37.2% ص 54

ج - لاحظ خريطة الوطن العربي التي أمامك ثم أكتب مدلولات الأرقام على الخريطة :



* الجناح العربي الذي يمثل موطن الفرع السامي من السلالة القوقازية يحمل على الخريطة الرقم (2) ص 44

* الدولة العربية الأكثر إنتاجاً للثروة السمكية تحمل على الخريطة الرقم (4) ص 66

* الدولة العربية الأكثر إنتاجاً للذرة الشامية تحمل على الخريطة الرقم (1) ص 61

* الدولة العربية الأكثر إنتاجاً للصبغ العربي تحمل على الخريطة الرقم (5) ص 36

السؤال الثاني : ويتكون من (أ - ب - ج)

أ - أجب عن الأسئلة التالية:

1- الفرق بين كلاً من : ص 26

سهول فيضية درجة	سهول ساحلية درجة
هي السهول التي تشكلت بسبب ترسيبات الأنهار وتتميز باستوائها وخصوبتها	هي التي تمتد بموازاة سواحل البحار وبعضها يتميز باتساعها وانبساطها ولا يزيد ارتفاعها عن 200 متر فوق سطح الأرض

2- ماذا يحدث لو : درجة

1- أقام الإنسان الرعي الجائر وإزالة الغابات بغرض المشاريع في المناطق الجبلية عند أشجار البلوط .

ص 33

سوف تنقرض هذه الأشجار

ب - اكتب فيما يلي : درجتان لكل نقطة نصف درجة (يكتفى بنقطتين)

ص 54

1- العوامل المؤثرة في حجم قوة العمل.

- * طبيعة التركيب العمري للسكان (فئات العمر من 16 - 60 سنة).
- * مدى إقبال المرأة على العمل حيث أنها تمثل نصف عدد السكان.
- * مدى اعتماد القطر على العمالة الوافدة.

ص 50

2- الظروف الطبيعية والبشرية المؤثرة على التوزيع الجغرافي.
* درجة الحرارة المعتدلة. * غنى المنطقة بثرواتها الطبيعية. * توافر موارد المياه.

3- علل لكل مما يلي: يكتفى بنقطة واحدة

ص 34

درجة

1- النباتات الدائمة تتحمل الجفاف وارتفاع درجة الحرارة.

- لها جذور طويلة تساعد في الوصول إلى مستوى المياه الجوفية القريبة في سطح الأرض.
- لها جذور سطحية تستفيد من المياه السطحية التي تتوفر أحياناً.
- لها أوراق وسيقان سمكية تحتزن المياه وتعمل الأشواك التي تغطيها على حمايتها في حيوانات الرعي.

2- جبال لبنان أكثر أمطاراً من جبال أطلس. درجة ص 29

- تقع جبال لبنان في مواجهة الرياح الممطرة والتي تتلقى أمطاراً أكثر من جبال أطلس الساحلية والتي تمتد موازية للرياح الممطرة ويجعل المناطق الساحلية تتلقى أمطاراً أكثر في المناطق الداخلية.

أ - لاحظ الجدول التالي ثم أجب عن الأسئلة التالية :

القطر	الكثافة	القطر	الكثافة	القطر	الكثافة	القطر	الكثافة
الأردن	٦١	جيبوتي	٣٢	عمان	٨	مصر	٩٩٩
الإمارات	٤٨	السعودية	٩٩٩	فلسطين	غير متوفرة	المغرب	٤٢
البحرين	٩٧٥	السودان	١٣	قطر	٩٩٩	موريتانيا	٣
تونس	٦٤	سوريا	٩٩٩	الكويت	١٤٣	اليمن	٣٦
الجزائر	٩٩٩	الصومال	١٦	لبنان	٣٦٨		
جزر القمر	غير متوفرة	العراق	٥٩	ليبيا	٤		

1- أكتب فكرة رئيسية يشير إليها الجدول السابق. الكثافة السكانية في الوطن العربي. ص 47 درجة

2 - رتب تنازلياً لأربع دول عربية الأولى في الكثافة السكانية.

البحرين - لبنان - الكويت- تونس . درجة

ب- دلل على صحة العبارات التالية : يكتفى بنقطة واحدة لكل نقطة درجة واحدة

1- تتنوع الثروة الحيوانية في الوطن العربي . ص 65

- الثروة الحيوانية البرية مثل الأغنام والماشية والماعز والأبل . - حيوانات الركوب الخيل و الحمير

- الثروة الحيوانية الداجنة الدواجن والطيور
والقشريات والمحار

2- للوطن العربي أهمية روحية كبيرة . ص 18

- مقر للأماكن المقدسة (مكة / المدينة / القدس)
- مهد الديانات السماوية الثلاث .

3- طمع الدول الكبرى منذ القدم في السيطرة على الوطن العربي . ص 17

بسبب الموقع المتميز للوطن العربي الذي يقع بين قارات آسيا وأوروبا وأفريقيا كما أنه همزة وصل بين الشرق والغرب تقطعه الطرق التجارية البرية والبحرية والجوية .

ج - عرف المفاهيم التالية: (درجتان لكل مفهوم درجة واحدة)

1- النباتات الحولية : هي النباتات التي تظهر في أثناء أو مباشرة بعد سقوط المطر . ص 35

2- صفر النمو السكاني: تساوي معدلات المواليد مع الوفيات ص 50.



نموذج الاجابة

المادة : الوطن العربي

اختبار الفترة الدراسية الأولى

وزارة التربية

الزمن : ساعة كاملة

للمصف العاشر

الإدارة العامة لمنطقة الجهاد التعليمية

عدد الأوراق : (٦)

٢٠١٣ / ٢٠١٤م

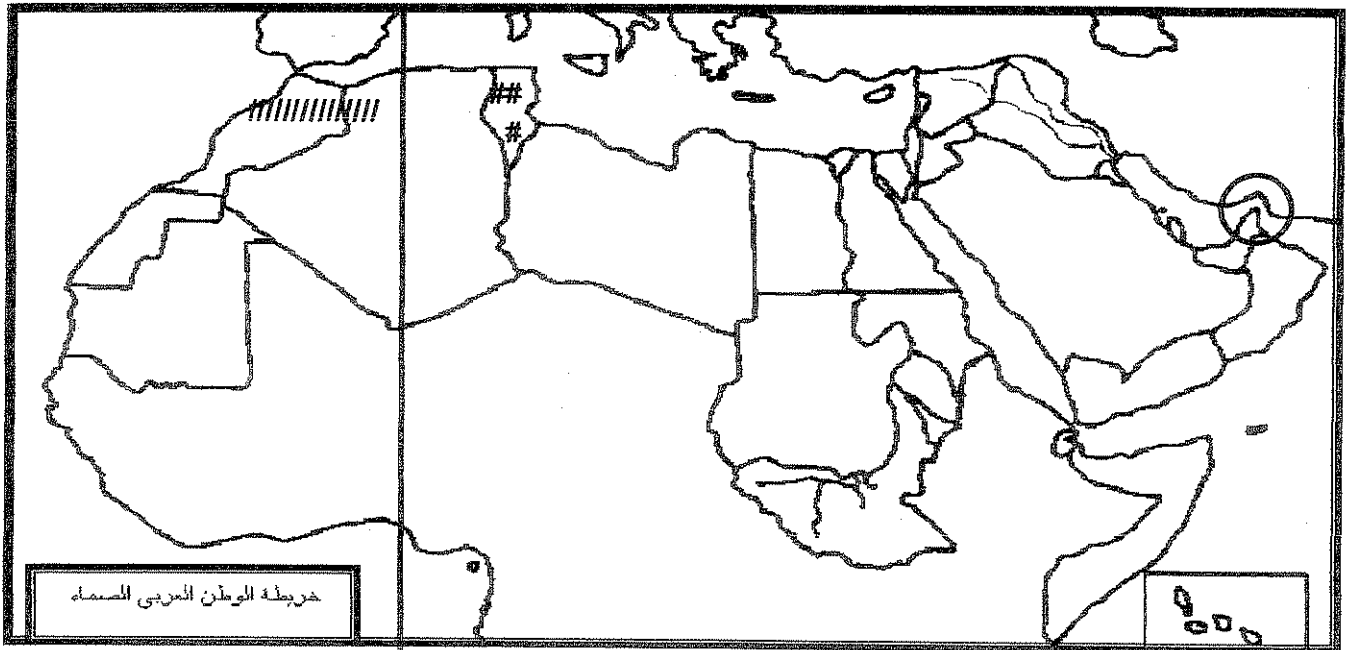
التوجيه الفني للاجتماعيات

أجب عن جميع الأسئلة التالية :-

أولاً :- الأسئلة الموضوعية :-

السؤال الأول :- ويتكون من أ ، ب ، ج ، د

أ- لاحظ خريطة الوطن العربي ثم نفذ المطلوب منك :- كل نقطة ¼ درجة المجموع درجة



حدد بالرسم ما يلي :

- ١- خط جرينتش بالرمز _____ ص ١٤
- ٢- مضيق هرمز بالرمز ○ ص ١٤
- ٣- هضبة الشطوط بالرمز /////////////// ص ٢٦
- ٤- أولى دول الوطن العربي انتاجا للزيتون بالرمز ### ص ٦٤

تابع اختبار الوطن العربي - الفترة الدراسية الأولى - ٢٠١٣ / ٢٠١٤ للصف العاشر

ب - أكمل العبارات التالية بما يناسبها :- كل نقطة ١ درجة

- ١- المسطح المائي الذي يفصل بين جناحي الوطن العربي الآسيوي والأفريقي يسمى البحر الأحمر ص ١٤
- ٢- أقصى امتداد يصل له الوطن العربي غربا تسمى الرأس الأبيض ص ١٥
- ٣- أكثر الحبوب انتشارا وانتاجا في الوطن العربي تسمى القمح ص ٦٠
- ٤- أعلى قمة جبلية في الوطن العربي تسمى طويقال ص ٢٧


ج - اختر البديل الصحيح من بين البدائل التي تلي كل عبارة مما يلي :

١- المضيق الذي يفصل بين البحر المتوسط والمحيط الأطلسي : كل نقطة ١ درجة

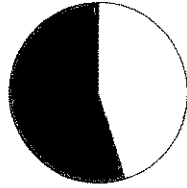
(باب المنذب - هرمز - جبل طارق - قناة السويس) ص ١٤

٢- نسبة السكان في الجناح الآسيوي من الوطن العربي عام (٢٠٠٣م) يمثلها الجزء المظلل في الدائرة البيانية

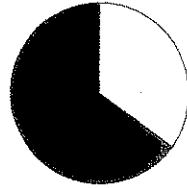
التي تحمل الحرف: ص ٤٩



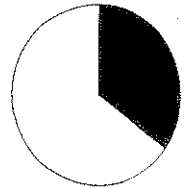
د



ج



ب



أ

٣- أولى الدول العربية انتاجا للأسماك : ص ٦٦

(سلطنة عمان - مصر - اليمن - المغرب)

٤- يمثل الشكل الذي أمامك أحد التضاريس المرتبطة بالعمليات الخارجية تسمى:

(النحت - الانهيارات الأرضية - التجوية - الرياح) ص ٢٢

د - أكتب المفهوم الدالة عليه التعريفات التالية : كل نقطة ١ درجة

١- (قوة العمل) عدد الأفراد القادرين على العمل . ص ٥٤

٢- (صفر النمو السكاني) تساوي معدلات المواليد مع معدلات الوفيات . ص ٥٠



تابع اختبار الوطن العربي - الفترة الدراسية الأولى - ٢٠١٣ / ٢٠١٤م للصف العاشر

ثانيا : الأسئلة المقالية :-

السؤال الثاني يتكون من أ - ب - ج :-

أ- علل ما يلي :

١- تدني حجم قوة العمل الوطنية في معظم الدول العربية . ص ٥٤ = ١×٢ = ٢ درجة

- ان نصف السكان تقريبا خارج فئات العمر لقوة العمل اما لصغر السن او لكبر السن .
- تمثل النساء حوالي ٥٠% من حجم السكان في فئة سن العمل ونسبة كبيرة منهن لا يعملن .

٢- تعتبر قناة السويس من أهم الممرات المائية . ص ١٧ يكتفى بنقطتين ١ درجة

- تسهل الملاحة في العالم .
- تختصر الطرق التجارية بحوالي ٤٠% مما يؤدي الى توفير الوقت والوقود ومن ثم تكاليف النقل البحري

ب - قارن حسب الجدول التالي : يكتفى بنقطتين لكل جانب درجة لكل جانب المجموع درجتان

المعيار	اقليم المناخ الصحراوي ص ٣١	اقليم المناخ المداري ص ٣٢
المميزات المناخية	<ul style="list-style-type: none">• يتميز بجفافه وندرة أمطاره .• تفوق معدلات التبخر مقدار التساقط• يتميز بارتفاع المدى الحراري اليومي والسنوي .• تصل درجة الحرارة في بعض المناطق صيفا ٥٠ واكثر ثم تنخفض لتصل الى الصفر في فصل الشتاء	<ul style="list-style-type: none">• ترتفع فيه درجة الحرارة باستمرار عن ٢٠ ويبلغ أقصاها في الصيف .• أمطاره صيفية تتراوح كميتها بين حوالي ٣٠٠ و ٥٠٠ ملليمتر سنويا .

ج - عدد ما يلي :

١- المناطق الرئيسية التي يتركز فيها سكان الوطن العربي . ص ٥٠ و ص ٥١ يكتفى بأربع نقاط ٢ درجة

- منطقة حوض النيل والقرن الأفريقي .
- منطقة المغرب العربي .
- منطقة الهلال الخصيب .
- منطقة شبه الجزيرة العربية .

تابع اختبار الوطن العربي - الفترة الدراسية الأولى - ٢٠١٣ / ٢٠١٤م للنصف العاشر

السؤال الثالث يتكون من أ ب :-

أ- لاحظ الجدول التالي ثم نفذ المطلوب منك :-


يمثل الجدول بعض الأقطار العربية المنتجة لأشجار الفاكهة (الموالح) عام (١٩٩٦)

الدولة	كمية الإنتاج (الوحدة ألف طن متري)
المغرب	٢٠
تونس	١٥
السودان	٥٨
سوريا	٥٤
الأردن	٤٤

١- استخرج حقيقة من الجدول.

أي حقيقة مناسبة يكتبها المتعلم صحيحة . ص ٦٤ درجة

٢- حول الجدول التالي إلى أعمدة بيانية مرتبة ترتيباً تنازلياً. ص ٦٤ درجتان



تابع اختبار الوطن العربي - الفترة الدراسية الأولى - ٢٠١٣ / ٢٠١٤ م للصف العاشر

تابع السؤال الثالث :-

ب - عدد ما يلي :-

١- العوامل المؤثرة في مناخ الوطن العربي . ص ٢٨ يكتفى بأربع نقاط درجتان

- الموقع الفلكي .
- توزيع اليابسة والماء .
- التضاريس (الارتفاع / اتجاه وموقع المرتفعات) .
- الغطاء النباتي .

٢- المقومات البشرية للإنتاج في الوطن العربي . ص ٥٨ يكتفى بنقطتين ٢ درجة

- السكان الذين يعتبرون الدعامة الأساسية للإنتاج والتنمية من حيث أعدادهم ومعدلات نموهم وقدراتهم العلمية والتقنية حيث يمثلون السكان قوة عاملة منتجة ومستهلكة في الوقت نفسه .
- توفر شبكة جيدة ومتكاملة من طرق النقل والمواصلات بما يخدم الإنتاج وتسويقه .
- توفر رأس المال الذي يسهم في تحريك الإنتاج وتنميته وتطويره وهو مقوم متوفر في معظم الاقطار العربية .
- السياسة الاقتصادية للحكومة حيث تلعب هذه السياسة دورا مهما في دعم الإنتاج وتثويحه وتطويره اذ تسعى معظم الحكومات العربية الى تبني سياسة اقتصادية متطورة لمواكبة المتغيرات العالمية .

تابع اختبار الوطن العربي - الفترة الدراسية الأولى - ٢٠١٣ / ٢٠١٤م للصف العاشر

السؤال الرابع يتكون من أ ب :-

أ - علل ما يلي :-

١- تتلقى جبال لبنان أمطارا أكثر من جبال أطلس الساحلية . ص ٢٩ ١ درجة

- لأن جبال لبنان تقع في مواجهة الرياح الممطرة أما جبال أطلس تكون موازية للرياح المطيرة .

٢- للوطن العربي موقع استراتيجي متميز في العالم . ص ١٦ و ص ١٧ $٣ \times ١ = ٣$ درجات

- يطل على محيطين مهمين هما المحيط الاطلسي والمحيط الهندي كما يشرف على ثلاث بحار مهمة تتصل بهذه المحيطات وهي البحر المتوسط والبحر الأحمر والخليج العربي وفي موقعه هذا يتحكم في مداخل البحار عن طريق المضائق .
- أدى الموقع المتميز للوطن العربي بين قارات اسيا واوروبا وأفريقيا الى اكسابه اهمية كبيرة منذ القدم فكان ولا يزال همزة وصل بين الشرق والغرب تقطعها الطرق التجارية البحرية والبرية والجوية مما أدى الى طمع الدول الكبرى منذ القدم في السيطرة على هذه المنطقة من اجل توسيع رقعتها والسيطرة على الطرق التجارية الموصلة الى مستعمراتها في الشرق .
- تعتبر منطقة الوطن العربي من اهم المناطق التي تحتوي على كميات كبيرة من البترول وهي مهمة من حيث الانتاج والاحتياط والتصدير .

ب - عدد ما يلي :

١- العوامل التي تؤثر في حجم قوة العمل . ص ٥٤ $٣ \times ١ = ٣$ درجات

- طبيعة التركيب العمري للسكان (فئات السن) خاصة من ١٥ - ٦٠ سنة وهي الفئة العمرية المتفوق عليها لتحديد حجم قوة العمل .
- مدى اقبال المرأة على العمل من منطلق انها تمثل نصف عدد السكان .
- مدى اعتماد القطر على العمالة الوافدة وهو عامل يتعاظم دوره بصفة خاصة في دول مجلس التعاون الخليجي وليبيا .

تمنياتنا لكم بالنجاح والتوفيق....،،،،



نموذج الإجابة

المادة : اجتماعيات
الزمن : حصة دراسية
عدد الأوراق : (٤)

امتحان الفترة الدراسية الأولى - للصف العاشر

للعام الدراسي : ٢٠١٢ / ٢٠١٣ م - مقرر (الوطن العربي)

جميع الأسئلة التالية اجبارية بجميع فرعياتها

السؤال الأول (الموضوعي) : ويتكون من (أ ، ب ، ج) :

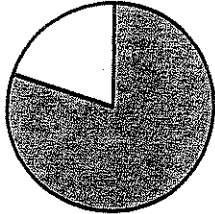
(أ) أكمل العبارات الآتية بما يناسبها : (٦ درجات - ١/٢ لكل نقطة)

- ١- المحصول الغذائي الأكثر انتاجا وانتشارا في الوطن العربي محصول يسمى القمح. ص ٦٠
- ٢- أعلى قمة جبلية في الوطن العربي هي قمة جبل يسمى طوبقال. ص ٢٧
- ٣- ينتمي غالبية سكان الوطن العربي إلى إحدى فروع السلالة المعروفة باسم القوقازية. ص ٤٥
- ٤- العمليات الطبيعية التي مصدرها باطن الأرض يطلق عليها العمليات الداخلية. ص ٢٠


(ب) اختر البديل المناسب من بين البدائل التي تلي كل عبارة ثم ضع خطا تحته :

- ١- النسبة المئوية لمساحة إقليم المناخ الصحراوي من إجمالي مساحة الوطن العربي يمثلها الجزء المظلل للدائرة

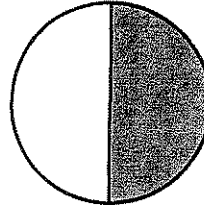
البيانية التي تحمل الحرف : ص ٣١



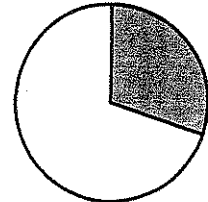
(د)



(ج)




(ب)



(أ)

- ٢- الشكل المقابل يمثل أحد أنواع الانكسارات الأرضية يسمى : ص ١٩



- (أ) إنكسار بسيط .
- (ب) إنكسار زاحف .
- (ج) إنكسار مدرج .
- (د) إنكسار أخدودي .

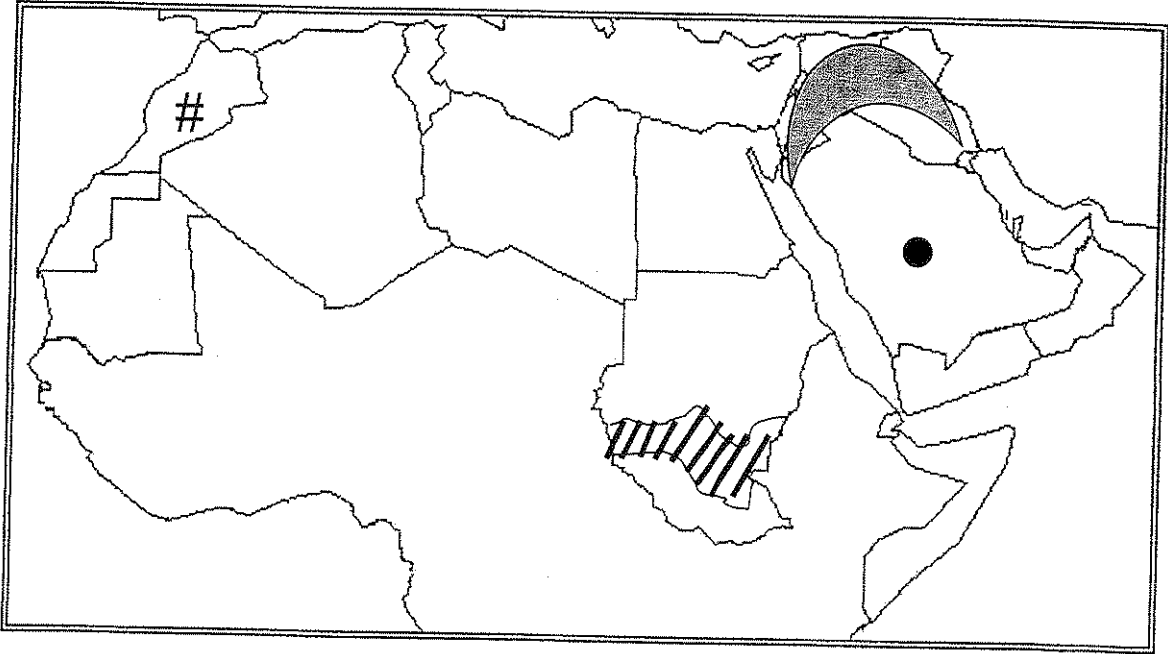
- ٣- الدولة العربية التي تقع بين دائرتي عرض ١١°-١٣° جنوب خط الاستواء بالمحيط الهندي تسمى : ص ١٥

- (أ) جيبوتي .
- (ب) جزر القمر .
- (ج) الصومال .
- (د) اليمن .

- ٤- جبال عمان كانت جزءا من جبال تسمى : ص ٢١

- (أ) طوروس .
- (ب) أطلس .
- (ج) زاجروس .
- (د) تبستي .

(ج) لاحظ خريطة الوطن العربي الصماء التالية جيداً ثم نفذ ما يلي :



١- حدد بالرمز (●) موقع هضبة نجد . ص ٢٥

٢- ضلل بالرمز (☾) منطقة الهلال الخصيب . ص ٥١

٣- حدد بالرمز (#) أولى الدولة العربية في إنتاج الأسماك (٢٠٠٣ م) . ص ٦٦

٤- ظلل بالرمز (////) المنطقة التي تمثل نطاق حشائش السافانا . ص ٣٢

السؤال الثاني (المقال): ويتكون من (أ ، ب ، ج)

(أ) عرف ما يأتي : (درجتان - درجة لكل بند)

١- الكثافة السكانية المطلقة (الحسابية):

قسمة عدد سكان الدولة في السنة على المساحة الكلية لها. أو
عدد السكان في الدولة
مساحة الكلية للدولة
ص ٥٢


٢- الموارد الطبيعية:

كل مكونات البيئة الطبيعية من ماء وهواء وتربة وصخور ومعادن ومصادر طاقة والكائنات الحية فوق اليابسة أو المسطحات المائية .
ص ٥٧

(ب) اقرأ الفقرة الآتية ثم نفذ المطلوب: (درجتان - ١/٢ درجة لكل عامود - ١/٢ للبيانات)

((احتلت مصر مراكز متقدمة بين الأقطار العربية في إنتاج العديد من المحاصيل الزراعية حسب احصاء (١٩٩٦م) ، فمن مجموعة الحبوب الغذائية كان نسبة انتاجها من الذرة الشامية حوالي ٨٠% من نسبة الانتاج العربي، ومن مجموعة المحاصيل النقدية كان نسبة انتاجها من القطن حوالي ٤٣% ، ومن مجموعة أشجار الفاكهة بلغ نسبة انتاجها من الموالح حوالي ٥٠% .))

نسبة الانتاج

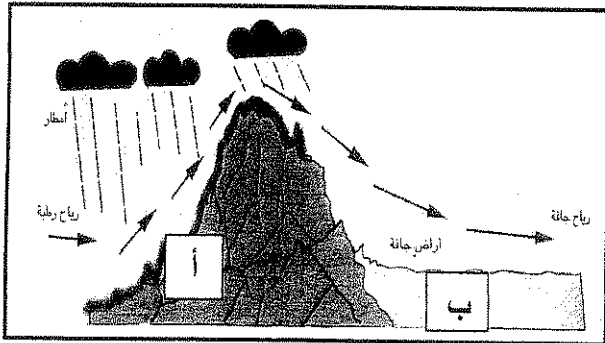


ومن مجموعة أشجار الفاكهة بلغ نسبة انتاجها من الموالح حوالي ٥٠% .))

حوّل المعلومات التي تحتها خط إلى أعمدة بيانية .

مع مراعاة تسجيل البيانات كاملة.

(ج) استعن بالرسم الذي أمامك ثم فسر ما يلي : ص ٢٩



- ١- غزارة الأمطار في المنطقة (أ) .
* لأنها تقع في مواجهة الرياح الممطرة .
- ٢- وجود أراضي جافة (صحاري) في المنطقة (ب) .
* لأنها تقع في منطقة ظل الجبال فلا تصلها كمية كافية من الأمطار.

(درجة - ١/٢ لكل نقطة)

السؤال الثالث (المقالي): ويتكون من (أ، ب)

(أ) استعن بالفقرة التالية في الإجابة عما يليها:

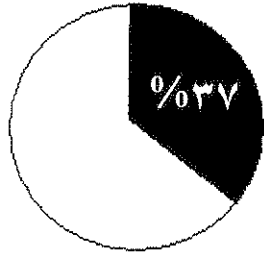
بلغت نسبة القوى العاملة في الوطن العربي عام ٢٠٠٢م حوالي ٣٧,٢% من مجموع السكان وهي نسبة منخفضة إذا ما قورنت بالنسبة العالمية ٤٢% ولاشك أن حجم قوة العمل يتأثر بعوامل عديدة.

١- عرف ما تحته خط . (١/٢ درجة)

* قوة العمل: عدد الأفراد القادرين علي العمل ذكورا وإناثا . ص ٥٤

٢- حدد النسبة المئوية للقوى العاملة في الوطن العربي من مجموع السكان (٢٠٠٢م)

(١/٢ درجة)



في الدائرة البيانية المقابلة .

٣- بم تفسر: تدنى حجم قوة العمل الوطنية في معظم الأقطار العربية . (درجة - ١/٢ لكل نقطة)

* نصف السكان تقريبا خارج فئات العمر لقوة العمل . ص ٥٤

* تمثل النساء حوالي ٥٠% من حجم السكان في فئة سن العمل .

(ب) قارن بين (إقليم المناخ الصحراوي وإقليم المناخ المداري في الوطن العربي) كما هو موضح بالجدول: (٣ درجات)

أوجه المقارنة	إقليم المناخ المداري ص ٣٢	إقليم المناخ الصحراوي ص ٣١
الموقع الفلكي	* بين دائرتي عرض ٨° - ١٨° شمالا (نصف درجة)	* بين دائرتي عرض ١٨° - ٣٠° شمالا (نصف درجة)
المميزات المناخية	ترتفع درجة الحرارة باستمرار عن ٢٠ درجة مئوية . * وأمطاره صيفية تتراوح كميتها بين ٣٠٠-٥٠٠ ملم سنويا . * تبلغ درجة الحرارة أقصاها في فصل الصيف . (درجة)	* ارتفاع المدى الحراري اليومي والسنوي . * تصل درجة الحرارة في بعض المناطق صيفا إلى ٥٠ درجة وتنخفض إلى صفر في الشتاء . * الأمطار شتوية ونادرة تتراوح بين ١٠-١٥٠ ملم سنويا . * يتميز بجفافه وندرة أمطاره . * تفوق معدلات التبخر مقدار التساقط . (درجة)

انتهت الاسئلة ... تمنياتنا للجميع بالتوفيق

وزارة التربية
منطقة الفروانية التعليمية
التوجيه الفني للاجتماعيات

اختبار الفترة الدراسية الأولى
للعام الدراسي ٢٠١٢م / ٢٠١٣م
مقرر / الوطن العربي

الزمن : ساعة واحدة
الصف : العاشر
عدد أوراق الاجابة : ٥ صفحات

السؤال الأول : ويتكون من (أ - ب - ج) : (درجة واحدة لكل اجابة)

(أ) اختر الاجابة الصحيحة من بين البدائل التي تلي كل عبارة وضع تحتها خطأ :

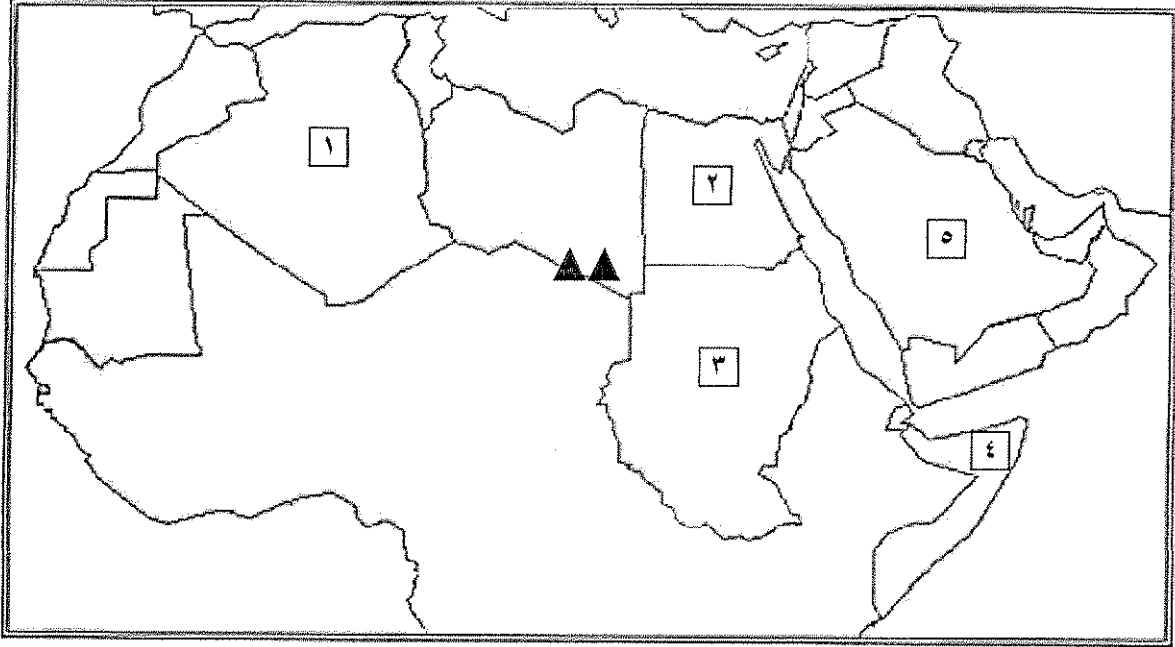
- (١) الاقليم المناخي الذي يمتد بين دائرتي عرض ١٨ - ٣٠ شمالا ويغطي مساحات واسعة من الوطن العربي يطلق عليه اسم الاقليم : (الصحراوي - المداري - البحر المتوسط - شبه الاستوائي) .
- (٢) تقع السهول الفيضية لنهر الشليف في دولة عربية اسمها : (المغرب - تونس - الجزائر - موريتانيا) .
- (٣) أولى دول الوطن العربي في الكثافة السكانية المطلقة عام ٢٠٠٣م هي : (لبنان - قطر - الكويت - البحرين) .
- (٤) أحد العمليات التالية لا يعتبر من العمليات الخارجية التي تؤثر في سطح الأرض : (الانهيارات الأرضية - التجوية - الالتواءات والانكسارات - الرياح) .

(ب) اختر من المفاهيم في القائمة (ب) ما يناسب العبارات في القائمة (أ) بوضع الرقم المناسب :

القائمة (أ)	الرقم المناسب	القائمة (ب)
(١) تساوي معدلات المواليد مع معدلات الوفيات.	٢	النمو السكاني
(٢) حركة السكان عدديا نحو الزيادة أو النقصان.	٣	النمو السكاني الطبيعي
(٣) الفرق بين معدل المواليد ومعدل الوفيات.	-	النمو السكاني غير الطبيعي
	١	صفر النمو السكاني

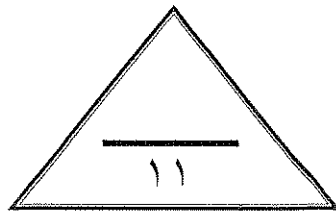
تابع السؤال الأول :

(ج) أمامك خريطة للوطن العربي لاحظها بدقة ثم أجب عما يليها من أسئلة :



- (١) الدولة العربية التي يمر بها خط الاستواء يمثلها على الخريطة الرقم (٤) .
- (٢) الرمز ▲▲ على الخريطة يمثل جبال بركانية اسمها (تبستي) .
- (٣) أولى دول العالم إنتاجاً للصمغ العربي يمثلها على الخريطة الرقم (٣) .
- (٤) أولى الدول العربية إنتاجاً للقطن عام ١٩٩٦م يمثلها على الخريطة الرقم (٢) .

الدرجة : فقط لاغير



السؤال الثاني : ويتكون من (أ - ب) :

(أ) اقرأ الفقرة التالية ثم أجب عما يليها من أسئلة :

أهم عناصر المناخ التي تؤثر في تنوع الغطاء النباتي في إقليم المناخ الصحراوي ارتفاع درجة الحرارة ونسبة التبخر وكذلك ندرة المياه مما يؤدي إلى قلة الغطاء النباتي الذي ينقسم إلى نوعين نباتات دائمة و نباتات حولية .

(١) عرف ما تحته خط . ص ٣٤ - ٣٥ (درجتان = درجة لكل نقطة)

* نباتات دائمة : هي النباتات التي تتحمل الجفاف وارتفاع درجة الحرارة عن طريق عدة وسائل .
* نباتات حولية : هي النباتات التي تظهر وتنتشر في أثناء أو مباشرة بعد فترة سقوط المطر لذلك فدورتها الحياتية قصيرة .

(٢) أعط مثلاً واحداً لكل نوع . ص ٣٥ (درجة واحدة)

النباتات الدائمة : شجرة النخيل - نباتات الصبار .
النباتات الحولية : نبات العرفج - التندة .

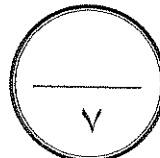
(٣) بم تفسر : تنوع الغطاء النباتي في الوطن العربي . (درجة)

* يتأثر الغطاء النباتي بتنوع المناخ السائد وخاصة درجة الحرارة وكمية الأمطار ، وخصائص التربة .
* اتساع مساحة الوطن العربي وامتداده بين حوالي ٣٩ دائرة عرض .

(ب) فرق بين المصطلحات الجغرافية التالية :

الموارد الطبيعية	الموارد الاقتصادية
هي كل عناصر أو مكونات البيئة الطبيعية من ماء وهواء وتربة وصخور ومعادن ومصادر الطاقة وأحياء فطرية نباتية وحيوانية . (درجة) ص ٥٧	هي الموارد الطبيعية المستغلة أو هي الموارد الطبيعية عندما نستغلها ونستفيد منها . (درجة) ص ٥٨
الجبال الالتوائية	الجبال الانكسارية
هي الجبال التي تكونت بسبب العمليات الداخلية وتقطعها وديان ضيقة المجرى وعميقة . (نصف درجة) ص ٢٧	هي الجبال التي تكونت نتيجة للانكسار الذي ارتبط بتكوين البحر الاحمر . (نصف درجة) ص ٢٧

الدرجة : فقط لاغير



السؤال الثالث : ويتكون من (أ - ب) :

(أ) قارن بين : الهجرات الداخلية والهجرات الخارجية التي أثرت في التركيبة العرقية لسكان الوطن العربي وفق الجدول التالي :

وجه المقارنة	الهجرات الداخلية (ص ٤٥)	الهجرات الخارجية (ص ٤٥)
التعريف	هي الهجرات السكانية التي شهدتها الوطن العربي عبر عصوره التاريخية بين الجناحين الآسيوي والأفريقي . (درجة)	هي الهجرات السكانية التي جاءت من الخارج خاصة في الهوامش الشمالية والجنوبية بحكم الموقع الجغرافي بين أصول عرقية مختلفة . (درجة)
مثال عليها	* الهجرات الحامية من الجناح الأفريقي الى القطاع الجنوبي من الجناح الآسيوي . * الهجرات السامية من الجناح الآسيوي الى الأفريقي عبر البحر الأحمر ووادي النيل . (نصف درجة)	* الهجرات الارمنية القادمة من منطقة القوقاز الى الهوامش الشمالية * الهجرات الزنجية الى الهوامش الجنوبية في جنوبي السودان وجنوب شبه الجزيرة العربية . (نصف درجة)

(ب) دلي على صحة العبارات التالية :

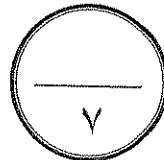
(١) يعتمد الانتاج في أي قطر من الأقطار العربية على مجموعة من المقومات البشرية . ص ٥٨ (درجتان)

- * السكان من حيث أعدادهم ومعدلات نموهم وقدراتهم العلمية والتقنية .
- * توفر شبكة جيدة ومتكاملة من طرق النقل والمواصلات .
- * توفر رأس المال الذي يساهم في تحريك الانتاج وتطويره .
- * السياسة الاقتصادية للحكومة .

(٢) للوطن العربي موقع استراتيجي متميز في العالم . ص ١٦ (درجتان) يكتفى بنقطتين

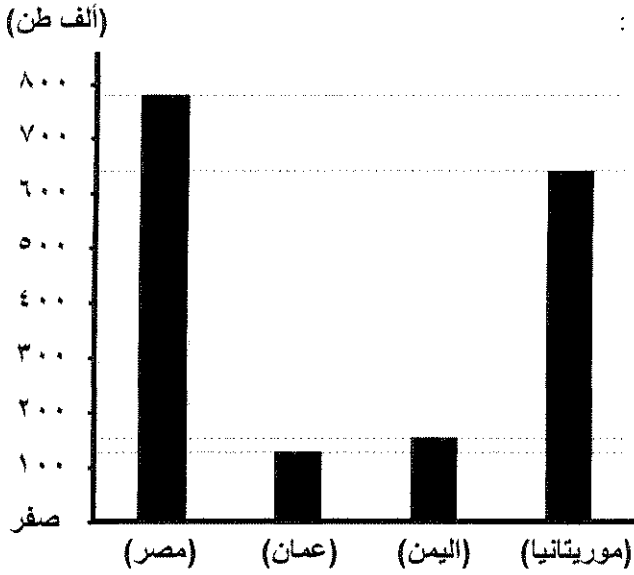
- * يطل على محيطين مهمين هما الأطلسي والهندي ، كما يشرف على ثلاثة بحار مهمة ويتحكم في مداخل هذه البحار عن طريق المضائق والممرات المائية .
- * اكتسب الوطن العربي أهمية تجارية منذ القدم بسبب موقعه المتميز بين قارات العالم .
- * يعتبر من أهم مناطق انتاج وتصدير البترول ويمتلك احتياطي ضخم منه .

الدرجة : فقط لاغير



السؤال الرابع : ويتكون من (أ - ب) :

(أ) لاحظ الجدول التالي جيدا ثم استعن به في الإجابة :



الدولة	انتاج الأسماك
مصر	٧٨٨
المغرب	١٠٠٧
عمان	١٢٤
اليمن	١٦٥
موريتانيا	٦٤٢

جدول انتاج الأسماك في بعض أقطار الوطن العربي لعام ٢٠٠٣م (بالآلاف طن)

(١) استخراج من الجدول ما يلي :

* أكثر الدول العربية إنتاجاً للأسماك اسمها **المغرب** . ص ٦٦ (نصف درجة)
* **يم تعطل** : تصدرها للإنتاج العربي من الأسماك . (نصف درجة)

* **طول السواحل حيث تطل على المحيط الأطلسي والبحر المتوسط** .
* **توافر الأيدي العاملة في قطاع صيد الأسماك** .

(٢) حول الانتاج السمكي في الدول التالية (مصر – عمان – اليمن – موريتانيا) إلى أعمدة بيانية مستعينا بالمخطط البياني أعلاه . (درجتان = لكل عمود نصف درجة)

(ب) حدد عاملين من العوامل المؤثرة في كل من :

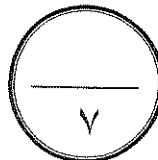
(١) **حجم قوة العمل في دول الوطن العربي** . ص ٥٤ (درجتان) يكتفى بنقطتين

* **التركيب العمري للسكان** .
* **مدى اقبال المرأة على العمل** .
* **الاعتماد على العمالة الوافدة** .

(٢) **مناخ الوطن العربي** . ص ٢٨ (درجتان) يكتفى بنقطتين

* **الموقع الفلكي** .
* **توزيع اليابس والماء** .
* **التضاريس** .

الدرجة : فقط لاغير



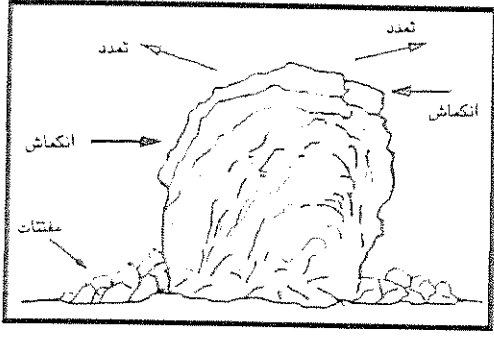
السؤال الأول : ويتكون من (أ - ب - ج) :

(أ) أكمل العبارات التالية بما يناسبها : (درجة لكل نقطة)

(١) المحاصيل الزراعية التي تزرع من أجل التصدير بالدرجة الأولى ومن أجل استخدامها كمواد خام زراعية تسمى المحاصيل النقدية .

(٢) تصنف جبال تبستي حسب التكوين لنوع من الجبال يسمى البركانية .

(٣) شهدت الهوامش الجنوبية للوطن العربي هجرات سكانية خارجية لسلالة تسمى الزنجية .



(٤) الشكل المقابل يمثل أحد العمليات الخارجية المؤثرة في تشكيل

سطح الأرض وتسمى التجوية .

(ب) اختر الاجابة الصحيحة من بين البدائل التي تلي كل عبارة وضع تحتها خطاً : (درجة لكل نقطة)

(١) يخترق وادي الرمة أحد الهضاب التالية :

(حضرموت - نجد - الشطوط - الصحراء الكبرى) .

(٢) المنطقة التي تضم ٣٧% من سكان الوطن العربي وتعتبر أكثر المناطق العربية سكاناً هي منطقة :

(المغرب العربي - الهلال الخصيب - شبه الجزيرة العربية - حوض النيل والقرن الأفريقي) .

(٣) يطلق على الاقليم المناخي الذي يمتد بين دائرتي عرض ٨° - ١٨° شمالاً وأمطاره صيفية اسم الإقليم :

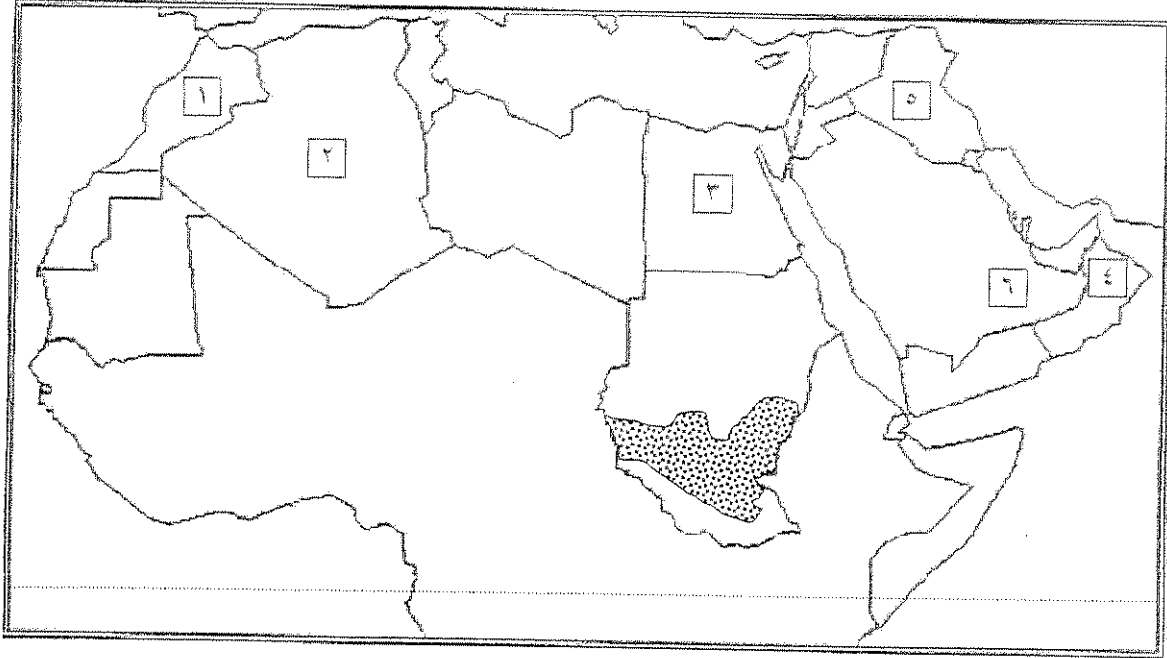
(الصحراوي - الاستوائي - المداري - البحر المتوسط) .

(٤) تقع السهول الفيضية لنهر مجردة في دولة عربية اسمها :

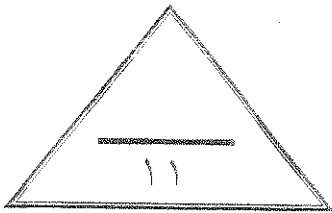
(الجزائر - المغرب - موريتانيا - تونس) .

تابع السؤال الأول :

(ج) أمامك خريطة للوطن العربي لاحظها بدقة ثم أجب عما يليها من أسئلة : (نصف درجة لكل نقطة)



- (١) رأس الحد يمثلته على الخريطة الرقم (٤) .
- (٢) الدولة العربية التي يمر بها خط جرينتش يمثلها على الخريطة الرقم (٣) .
- (٣) الدولة العربية الأولى في إنتاج الأسماك عام ٢٠٠٣م يمثلها على الخريطة الرقم (١) .
- (٤) أكبر الدول العربية في عدد السكان عام ٢٠٠٣م يمثلها على الخريطة الرقم (٣) .
- (٥) صحراء الربع الخالي يمثلها على الخريطة الرقم (٦) .
- (٦) نطاق الحشائش المظلل على الخريطة يطلق عليه اسم **الساافانا** .



الدرجة : فقط لاغير

السؤال الثاني : ويتكون من (أ - ب) .

(أ) اقرأ العبارة التالية ثم أجب عما يليها من أسئلة :

يشغل الوطن العربي مساحة واسعة في كل من قارتي آسيا وأفريقيا ، فهو يمتد لمسافة حوالي ٧٥٠٠ كم من أقصى الشرق عند خط طول ٦٠ شرقاً إلى أقصى نقطة غرباً عند خط طول ١٧ غرباً ، ويتمتع الوطن العربي بموقع استراتيجي متميز عالمياً .

(١) عرف ما تحته خط . ص ١٥ (نصف درجة)

اصطلاح يطلق على مجموعة من الدول العربية التي تجمعها عدد من السمات المشتركة من أهمها اللغة العربية والدين الإسلامي ويضم ٢٢ دولة .

(٢) حدد عدد خطوط الطول التي يمتد خلالها الوطن العربي . (نصف درجة)

عدد خطوط الطول هي : ٧٧ خط طول .

(٣) بم تعطل مايلي : يتمتع الوطن العربي بموقع استراتيجي متميز . ص ١٦ و ١٧ (٣ درجات)

• يطل على محيطين مهمين هما الأطلسي والهندي ، كما يشرف على ثلاثة بحار مهمة ويتحكم في مداخل هذه البحار عن طريق المضائق والممرات المائية .

• اكتسب الوطن العربي أهمية تجارية منذ القدم بسبب موقعه المتميز بين قارات العالم .

• يعتبر من أهم مناطق انتاج وتصدير البترول ويمتلك احتياطي ضخم منه .

(ب) فرق بين المصطلحات الجغرافية التالية :

معدل النمو السكاني غير الطبيعي	معدل النمو السكاني الطبيعي
هو الفرق بين أعداد الهجرات الوافدة (القادمة) وأعداد الهجرات النازحة (المغادرة) . ص ٤٧ (درجة)	هو معدل النمو الاساسي الذي يتحكم في حركة السكان ويقاس بحساب الفرق بين معدل المواليد ومعدل الوفيات . ص ٤٦ (درجة)
النباتات الحولية	النباتات الدائمة
هي النباتات التي تظهر وتنتشر في اثناء أو مباشرة بعد سقوط الأمطار ، لذلك فدورتها الحياتية قصيرة . ص ٣٥ (نصف درجة)	هي النباتات التي تتحمل الجفاف وارتفاع درجات الحرارة عن طريق وسائل متعددة . ص ٣٤ (نصف درجة)



(أ) قارن بين : اقليم المناخ الصحراوي و اقليم مناخ البحر المتوسط وفق الجدول التالي :

وجه المقارنة	المناخ الصحراوي	مناخ البحر المتوسط
الموقع بالنسبة لدوائر العرض	يمتد بين دائرتي عرض ١٨° - ٣٠° شمالاً . ص ٣١ (نصف درجة)	يقع شمال دائرة عرض ٣٠° شمالاً . ص ٣٠ (نصف درجة)
المميزات المناخية	- يتميز بالجفاف وندرة الأمطار وارتفاع المدى الحراري اليومي والسنوي . - ارتفاع درجة الحرارة صيفاً فتصل الى ٥٠ درجة وتصل الى الصفر في الشتاء . (درجة)	- فصل الشتاء معتدل الحرارة والمتوسط الشهري نادراً ما ينخفض عن ١٥ درجة مئوية . - فصل الصيف يتميز بارتفاع درجات الحرارة والجفاف . - الامطار تسقط في فصل الشتاء . (درجة)

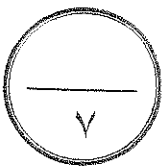
(ب) علل ما يلي :

(١) تدني حجم قوة العمل الوطنية في معظم الأقطار العربية . ص ٥٤ (درجتان = درجة لكل اجابة)

- نصف السكان تقريباً خارج فئات العمر لقوة العمل إما لصغر السن أو لكبر السن .
- تمثل النساء حوالي ٥٠% من حجم السكان في فئة سن العمل ونسبة كبيرة منهن لا تعمل لأسباب كثيرة .

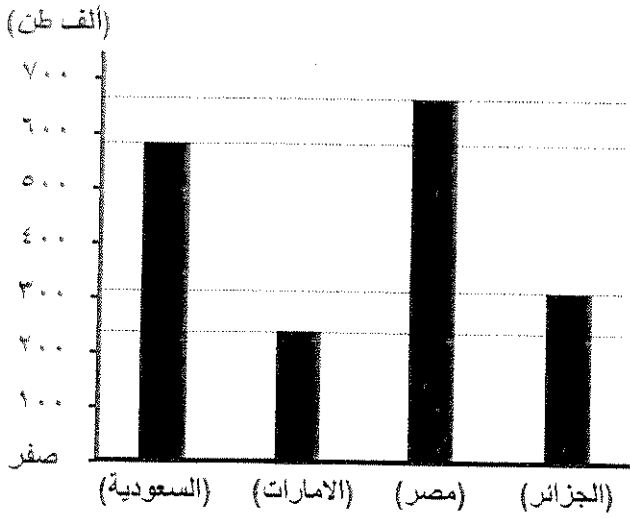
(٢) للتضاريس تأثير هام في مناخ الوطن العربي . ص ٢٩ (درجتان = درجة لكل اجابة)

- لعامل الارتفاع تأثير هام حيث تنخفض درجات الحرارة درجة مئوية واحدة كلما ارتفعنا ١٥٠ متراً فوق سطح الأرض .
- اتجاه وموقع المرتفعات فالجبال التي تواجه الرياح الممطرة تتلقى أمطار أكثر من تلك التي تمتد موازية للساحل كما في جبال لبنان التي أمطارها أكثر من جبال أطلس ، كما أن المناطق الداخلية ستقع في ظل المطر وتسودها الظروف الصحراوية .



السؤال الرابع : ويتكون من (أ - ب) :

(أ) لاحظ الجدول التالي جيدا ثم استعن به في الاجابة :



الدولة	التمور	الزيتون
السعودية	٥٩٧	-
الإمارات	٢٤٠	-
مصر	٦٨٠	٢١٠
الجزائر	٣١٦	٣١٣

جدول انتاج التمور والزيتون في بعض أقطار الوطن العربي لعام ١٩٩٦م (الوحدة = ألف طن متري)

(١) حول انتاج التمور في الجدول السابق إلى أعمدة بيانية مستعينا بالمخطط أعلاه . (درجتان)

(٢) رتب الدول العربية المنتجة للتمور ترتيبا تنازليا . ص ٦٤ (درجتان)

مصر	السعودية	الجزائر	الإمارات
-----	----------	---------	----------

(٣) بم تفسر : اختفاء زراعة الزيتون في دول مجلس التعاون الخليجي .
ص ٦٥ (درجة واحدة - يكتفى باجابتان)

- لقلّة مصادر المياه .
- المناخ الصحراوي الحار والجاف .
- فقر التربة الصحراوية .

(ب) عرف ما يلي :

(١) الموارد الطبيعية : ص ٥٧ (درجة)
كل عناصر أو مكونات البيئة الطبيعية من ماء وهواء وتربة وصخور ومعادن ومصادر طاقة وأحياء فطرية نباتية وحيوانية .

(٢) قوة العمل : ص ٥٤ (درجة)
عدد الأفراد القادرين على العمل ذكورا أو إناثا .

انتهت الأسئلة

العام الدراسي: ٢٠١٤-٢٠١٥م
الزمن: ساعتان وربع
عدد الأوراق: (٦)

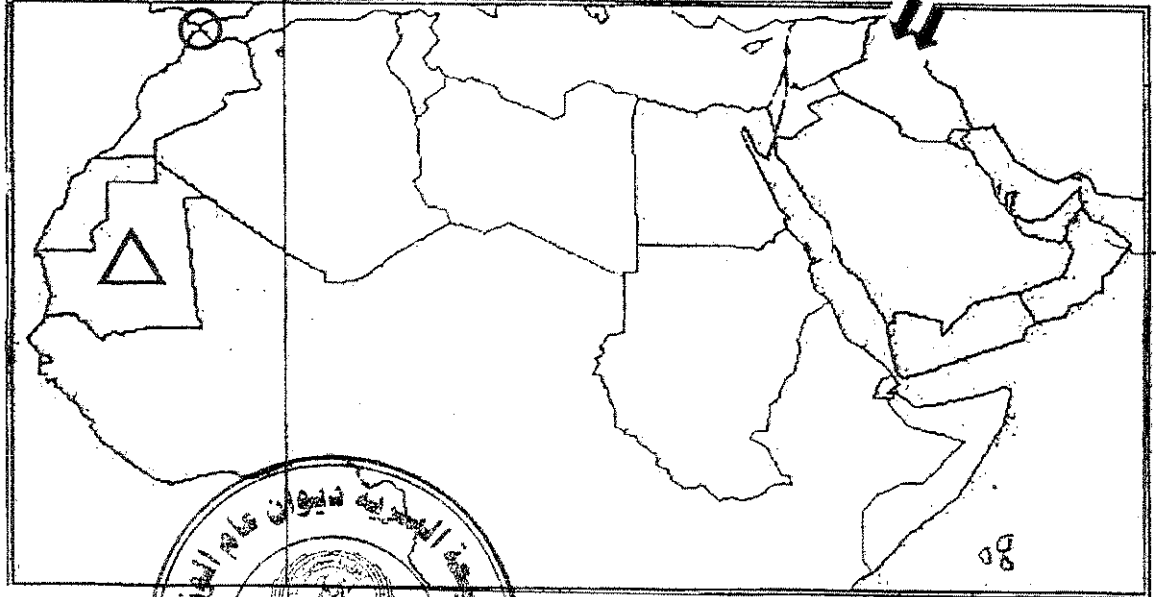
امتحان نهاية الفترة الدراسية الثانية
للمنصف العاشر
المادة الاجتماعية (الوطن العربي)

دولة الكويت
وزارة التربية
لتوجيه الفني العام للاجتماعيات

أجب عن أربعة أسئلة فقط مما يلي على أن يكون السؤال الأول من بينها إجباري

السؤال الأول (إجباري): يتكون من (أ، ب، ج، د، هـ)
أ- بعد دراسة خريطة الوطن العربي الصماء نفذ ما يلي

درجة: ١ × ٤ = ٤ درجات



١- عين ما يلي باستخدام الرموز:

* مضيق جبل طارق الرمز ○ ص ١٤

* الهجرة الكردية الرمز ↓ ص ٤٤

* أول الدول العربية في إنتاج الحديد الرمز △ ص ٧٣

٢- ارسم خط جرينتش ص ١٥

درجة: ١ × ٤ = ٤ درجات

ب- أكمل العبارات التالية بما يناسبها:

١- أكثر الحبوب الغذائية انتشاراً وإنتاجاً في الوطن العربي عام ١٩٩٦م يسمى -- (القمح) -- ص ٦٠

٢- أعلى قمة جبلية انكسارية في اليمن جنوب شبه الجزيرة العربية تسمى -- (النبي شعيب) -- ص ٢٨

٣- الحضارة القديمة التي اشتهرت بشريعة حمورابي تسمى -- (بلاد الرافدين) -- ص ٨٧

٤- عصر الدولة القديمة في مصر يعرف باسم -- (عصر الأهرامات) -- ص ٨٨

ج- اختر من الشخصيات في المجموعة (ب) ما يناسب الأعمال في المجموعة (أ) (أ بوضع الرقم في المكان المناسب: ١ × ٣ = ٣ درجات

المجموعة (أ)	الرقم	المجموعة (ب)
١- ألف أول المعاجم العربية (محيط المحيط)	٢	عبد العزيز الثعالبي ص ١٠٦
٢- أصدر جريدة سبيل الرشاد عام ١٣١٣-١٣١٥هـ	-	السيد عمر مكرم السيد
٣- أصدر بياناً بالثورة العربية عام ١٩١٦م.	١	بطرس البستاني ص ١٠٥
	٣	الشريف حسين ص ١٠٨

تابع السؤال الأول (إجباري)

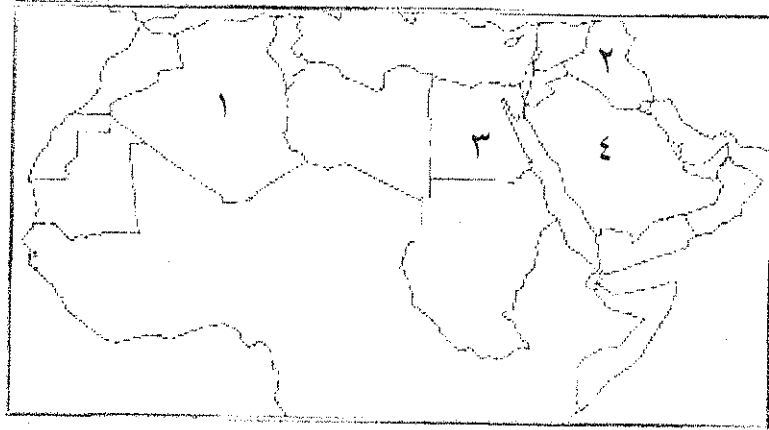
د- صنف الدول العربية التالية حسب الجدول التالي: درجة: ١ × ٣ = ٣ درجات

(العراق - الجزائر - ليبيا) ص ١٠٩ - ١١١

الاستعمار الإيطالي	الاستعمار الفرنسي	الاستعمار البريطاني
ليبيا	الجزائر	العراق

هـ- اختر الإكمال المناسب للعبارة التالية من بين الخيارات التي تلي كل منها وذلك بوضع خط تحتها: ١ × ٤ = ٤ درجات

ص ٦٩



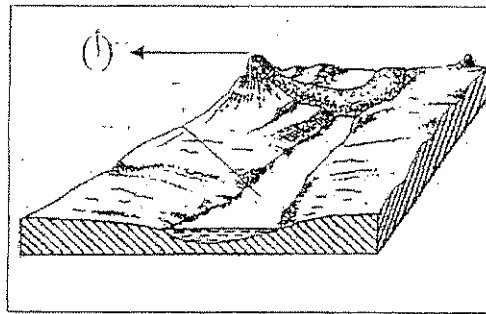
أ- الرقم (١)

ب- الرقم (٢)

ج- الرقم (٣)

د- الرقم (٤)

٢- الرمز (أ) على الرسم التالي يمثل أحد أجزاء البركان ص ٢٨



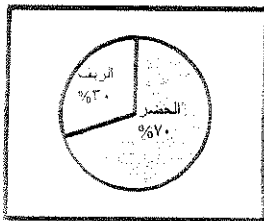
د- المخروط

ج- قنطرة


ب- الفوهة

أ- لافا

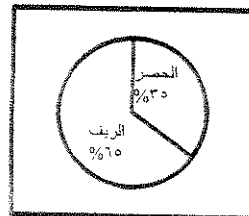
٣- الدائرة البيانية التي تمثل نسبة التوزيع النسبي لسكان في الوطن العربي من الحضر والريف: ص ٥١



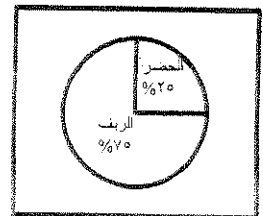
د



ج



ب



أ

ص ٩٤

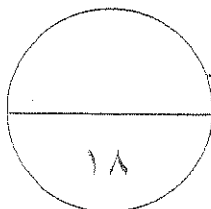
٤- القائد المسلم الذي فتح مصر:

د- أسامة بن زيد

ج- عمرو بن العاص

ب- خالد بن الوليد

أ- سعد بن أبي وقاص



درجة السؤال الأول

السؤال الثاني: (اختياري) يتكون من (أ، ب، ج، د):

أ- اكتب فيما يلي مما درست:

١- الأهمية الإستراتيجية لموقع الوطن العربي. ص ١٦ - ١٧ - يكتفى بثلاث نقاط $3 \times 1 = 3$ درجات

- يطل على محيطين مهمين هما المحيط الأطلسي والمحيط الهندي.
 - يشرف على ثلاث بحار مهمة تتصل بهذه المحيطات (البحر المتوسط - البحر الأحمر - الخليج العربي).
 - يتحكم الوطن العربي في مداخل تلك البحار عن طريق عدة مضائق (مضيق جبل طارق وقناة السويس ومضيق باب المندب ومضيق هرمز)
 - الموقع المتميز للوطن العربي بين قارات آسيا وأوروبا وأفريقيا كان همزة وصل بين الشرق والغرب.
 - تعتبر منطقة الوطن العربي من أهم المناطق التي تحتوي على كميات كبيرة من البترول من حيث الإنتاج والاحتياط والتصدير.
- ٢- مكونات الجهاز الإداري في الدولة العثمانية: ص ١٠١ يكتفى بنقطتين $2 \times 1 = 2$ درجة
- السلطان العثماني: وهو رأس الدولة والمشرف على أجهزتها، على تطبيق أحكام الشريعة الإسلامية وحمايتها.
 - الصدر الأعظم: (رئيس الوزراء) يلي السلطان في ترتيب الجهاز الإداري للدولة، ويشرف على معظم الاختصاصات الإدارية، وأصبح مقره منذ ١٦٥٤، الأستانة (إسطنبول) ويطلق عليه باب العالي.
 - الديوان: كان ينظر في الأمور التي تعرض عليه، وكان أعضاؤه هم: الصدر الأعظم قاضي العسكر، وولاة الأناضول والرومل، وقائد الإنكشارية وقائد الأسطول.
 - الهيئة الإسلامية: كان يرأسها شيخ الإسلام، وتتكون من القضاة والمفتين وعلماء الإسلام، وكان منوطاً بها إقامة العدالة بين الرعايا.
 - الجيش و الاسطول : الذي اعتمدت الدولة علنه في توسعها و حماية حدودها.

درجة ١ $2 \times 1 = 2$ درجات

ب- فرق بين كل من صادرات وواردات الوطن العربي:

الواردات ص ٧٦ - يكتفى بنقطة	الصادرات ص ٧٥ - يكتفى بنقطة
تتمثل أساساً في السلع الصناعية خاصة السيارات والأجهزة الكهربائية والإلكترونية، والآلات والمعدات وقطع الغيار، اإض الى إطارات السيارات والأدوية والملابس والمواد الغذائية وخام القمح والأرز واللحوم ومنتجات الألبان وغيرها. أهم الدول التي يستورد منها الوطن العربي: - دول الاتحاد الأوربي. - الولايات المتحدة الأمريكية. - اليابان.	- معظمها سلع أولية معدنية زراعية وتتمثل أساساً في مصادر الطاقة (النفط والغاز الطبيعي المسيل وغير المسيل، المشتقات النفطية بالإضافة إلى الأسمدة الكيماوية) - المواد الخام الزراعية مثل القطن. - المواد الغذائية مثل (الموالح ، البطاطس) / زيت الزيتون/ الصمغ العربي / جوز الهند - الخامات المعدنية (فوسفات ، حديد ، منجنيز) / المنسوجات والملابس. - أهم الدول المستوردة للصادرات العربية : الاتحاد الأوربي ، اليابان والولايات المتحدة الأمريكية/ شرق وجنوب شرق آسيا / دول أفريقيا وأستراليا وأمريكا اللاتينية.

درجة: ١ $2 \times 1 = 2$ درجات

ج- اقرأ ما يلي ثم نفذ المطلوب: ص ٤٨/١٦

* تونس دولة عربية مساحتها ١٥٦,٠٠٠ كم^٢، وعدد سكانها عام ٢٠٠٣ بلغ ٨٩١,٠٠٠

١- احسب الكثافة السكانية المطلقة (الحسابية) لتونس؟

الكثافة السكانية = عدد السكان في قطر ما في سنة ما

المساحة الكلية (ميل ٢ و كم ٢)

٢- كثافة تونس: $9,891,000 = 64$ نسمة في كم^٢ (يكتفى بتطبيق القانون حتى لو كان صحيح)

١٥٦,٠٠٠

د- اذكر ما يلي:-

١- الحضارات القديمة في الوطن العربي. ص ٨٥، ٨٧، ٨٨ -

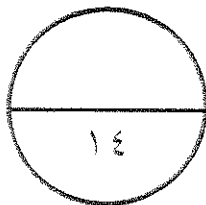
* دلمون. * منطقة جنوب غرب شبه الجزيرة العربية. * بلاد الرافدين. * بلاد الشام. * مصر

٢- المقومات البشرية للإنتاج في الوطن العربي. ص ٥٨ -

- السكان الذين يعتبرون الدعامة الأساسية للإنتاج والتنمية من حيث أعدادهم ومعدلات نموهم وقدراتهم العملية والتقنية إذ يمثل السكان قوة عاملة منتجة ومستهلكة. - السياسة الاقتصادية للحكومة.

- توفير شبكة جيدة ومتكاملة من طرق النقل والمواصلات بما يخدم الإنتاج وتسويقه.

- توفر رأس المال الذي يساهم في تحريك الإنتاج وتنميته وتطويره وهو مقوم متوفر في معظم الأقطار العربية.



كل نقطة = ٣ × ١ = ٣ درجات

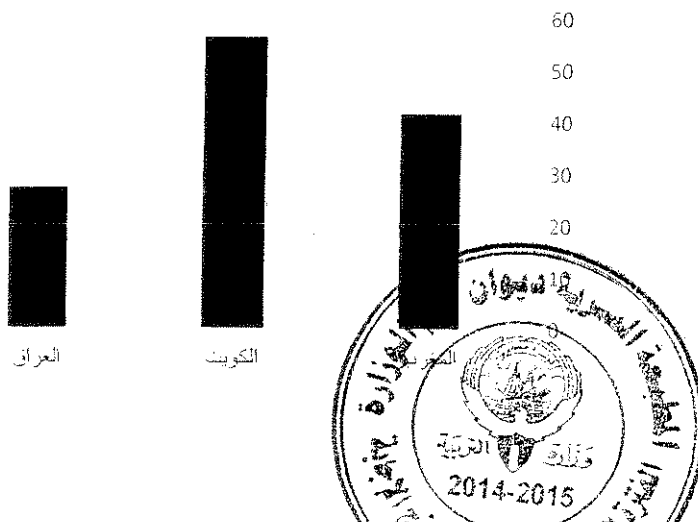
السؤال الثالث: (اختياري) ويتكون من (أ، ب، ج)

أ- قارن بين: كل من حيث أوجه الشبه وأوجه الاختلاف :-

أوجه المقارنة	النباتات الحولية ص ٤٤	نباتات دائمة ص ٣٥
الشبه	١ - نبات صحراوي ٢ - تتكيف مع الحرارة	
اختلاف	١ - تنتشر في أثناء أو مباشرة بعد فترة سقوط الأمطار . ٢ - ودورتها الحياتية قصيرة . ٣ - بعد جفافها تترك بذورها مدفونة بين الرمال أو الصخور .	١ - وهي التي تتحمل الجفاف وارتفاع درجة الحرارة ٢ - لها جذور طويلة أو سطحية . ٣ - أوراق وسيقان سميكة تخزن المياه . ٤ - تغطيها الأشواك ٥ - متوفرة طوال العام .

ب- أدرس الجدول التالي بالنسبة للقوى العاملة في بعض الدول العربية سنة ٢٠٠٢ م، ثم أجب عن ما يلي:

الدرجة: ٦ × ١ = ٦ درجات



الرقم	الدولة	نسبة القوى العاملة كنسبة مئوية من مجموع السكان
١	مصر	٣٩,٣ %
٢	المغرب	٤١,٧ %
٣	الكويت	٥٦,٤ %
٤	قطر	٥٦,٨ %
٥	العراق	٢٧,٣ %
٦	الإمارات	٤٢,٦ %

١- حول الرقم ٢، ٣، ٥ إلى أعمدة بيانية:

المحورين درجة وكل عمود درجة (٤ درجات)

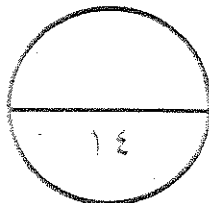
٢- اخرج حقيقة من الجدول:

إن حجم قوة العمل في بعض الأقطار العربية النفطية مرتفعة عن غيرها مثل (تونس، الكويت، الإمارات، قطر) وذلك لاعتمادها على نسبة كبيرة من العمالة الوافدة في تحريك اقتصادها وخدماتها. حسب ما يراه المصحح. ص ٥٥

٣- عرف قوة العمل: (عدد الأفراد القادرين على العمل ذكراً وإناً). ص ٥٤

ج- علل لما يلي:

- ١- تعتبر الصناعة من الأنشطة الاقتصادية المهمة في الوطن العربي. ص ٧٣ يكتفى بنقطتين ٢ × ٢ = ٤ درجات
 - زيادة القيمة الاقتصادية المضافة للموارد الاقتصادية الزراعية والمعدنية.
 - إيجاد فرص عمل جديدة للعمالة الوطنية. - تأمين وتوفير احتياجات السكان من المنتجات الصناعية المختلفة.
 - إتاحة الفرصة لاستثمار رؤوس الأموال العربية داخل وطننا العربي.
- ٢- وقوف قريش موقف عدائي من النبي (ص) ص ٩١ يكتفى بنقطتين ٢ × ٢ = ٤ درجات
 - هاجم الأوثان. - سب الأصنام وأحرقها - التنظيم السياسي في مكة كان سبباً لوقوف قريش موقف عدائي.
 - تعصبوا بشدة لتقاليدهم وعاداتهم الموروثة.
- ٣- ازدهار اليقظة العربي في دول الوطن العربي في نهاية القرن التاسع عشر. ص ١٠٥ / ١٠٦ × ١ = ١ درجة
 - أ- انتشار التعليم الغربي عن طريق الإرساليات التبشيرية في كثير من البلدان العربية
 - ب- ظهور جماعة من المفكرين العرب لعب دوراً بارزاً في إيقاظ الوعي القومي العربي
 - ج- ظهور الصحف في النصف الثاني من القرن التاسع عشر في بعض الدول العربية.



درجة السؤال الثالث

السؤال الرابع: (اجباري) ويتكون من (أ، ب، ج):

أ- اقرأ الفقرة التالية ثم اجب عما يليها من أسئلة:

عقب وفاة الرسول صلى الله عليه وسلم واجتماع المسلمون في سقيفة بني ساعدة لاختيار خليفة للمسلمين يخلف الرسول صلى الله عليه وسلم لإعادة القبائل العربية إلى الإسلام التي خرجت عنه ، ونشر الدين الإسلامي خارج شبه الجزيرة العربية . ص ٩٢ —

- ١- ما النتائج المترتبة على اختيار خليفة للمسلمين . $١ \times ٢ = ٢$ درجة
- القضاء على حركة الردة وإعادة القبائل العربية إلى الإسلام التي خرجت عنه.
- نشر الدين الإسلامي خارج شبه الجزيرة العربية.
- ٢- علل قيام حركة الفتوحات الإسلامية. ص ٩٢-٩٣ يكتفي بنقطتين $١ \times ٢ = ٢$ درجة
- الحماسة الدينية التي بثها الإسلام والرسول في نفوس المسلمين.
- السبب الاقتصادي وإن كان هذا السبب يعتبر عاملاً مساعداً وليس السبب الرئيسي لحركة الفتوحات.
- العامل السياسي المتمثل في رغبة الخلفاء الراشدين في شغل أذهان القبائل العربية بمشروعات قومية عظيمة وتصرف تفكيرهم عن النزاعات والفتن.

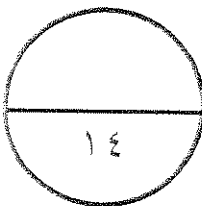
ب- عرف ما يلي:

- ١- التجارة البنينة: حركة التبادل التجاري بين الأقطار العربية. ص ٧٦ -
- ٢- صفر النمو السكاني: تساوي معدلات المواليد مع معدلات الوفيات. ص ٥٥
- ٣- الصابنة: عبادة الكواكب والنجوم. ص ٩٠ -

ج- علل لما يلي:

- ١- يعتبر الغاز الطبيعي من مصادر الطاقة المهمة. ص ٧٠ يكتفي بنقطة واحدة
- أقل مصادر الطاقة غير المتجددة تلوثاً للبيئة.
- بدأ التوجه إليه لاستثماره واستغلاله.
- ٢- تعرض دول الوطن العربي للاستعمار الأوروبي. يكتفي بثلاث نقاط ص ١١١، ص ١١٢ $١ \times ٣ = ٣$ درجات
- استغلال خيرات الشعوب.
- السيطرة على المواقع الاستراتيجية.
- نشر الثقافة الاستعمارية.
- حماية البعثات التبشيرية المسيحية.
- الأسباب الداخلية.
- انتشار الجهل.

- ٣- يتأثر مناخ الوطن العربي بتوزيع اليابس والماء. ص ٢٨-٣٠ يكتفي بثلاث نقاط. $١ \times ٣ = ٣$ درجات
- بسبب اتساع رقعة اليابسة. - بسبب قلة المسطحات المائية. - بسبب قلة ارتفاع السلاسل الجبلية.
- بسبب قرب السلاسل الجبلية من المناطق الساحلية مما يجعل المناطق الداخلية بعيدة عن تأثير المسطحات المائية.



درجة السؤال الرابع :

السؤال الخامس: (اختياري) ويتكون من (أ، ب، ج، د):

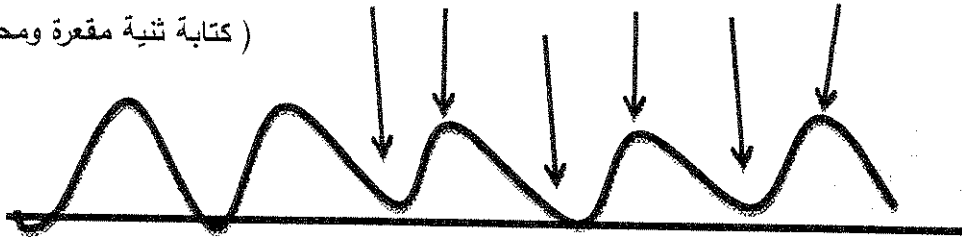
أ - عدد ما يلي :-

١- معابر انتقال الحضارة العربية الإسلامية إلى أوروبا. ص ٩٦ ، ٩٧ يكتفى بنقطتين $1 \times 2 = 2$ درجة
- بلاد الأندلس. - الحروب الصليبية. - صقلية وجنوب إيطاليا.

٢- أعمال الرسول (صلى الله عليه وسلم) في المدينة. ص ٩٢ يكتفى بنقطتين $1 \times 2 = 2$ درجة
- بناء المسجد - المؤاخاة بين المهاجرين والأنصار. - وضع الصحيفة (دستور الدولة الإسلامية).

ب- ارسم تأثير العمليات الداخلية (الالتواءات) على تشكيل الثنيات المحدبة والمقعرة: ص ٤٤

محدبة مقعرة محدبة مقعرة محدبة مقعرة محدبة مقعرة محدبة مقعرة (الرسم درجة والتحديد درجتين)
(كتابة ثنية مقعرة ومحدبة)



درجة $1 \times 4 = 4$ درجات

ج- اقرأ الفقرة التالية ثم نفذ المطلوب: ص ٧٣

يستخدم الفوسفات في صناعة الأسمدة الفوسفاتية وصناعة المبيدات الحشرية ويمتلك الوطن العربي أكثر من نصف الاحتياطي العالمي، ويقدر إنتاجه بنحو ٢٧% من مجموع الإنتاج العالمي، ويتركز في ستة أقطار عربية هي الأردن ٦,٨ مليون طن، ، سوريا ٢ مليون طن، ومصر ١,٣ مليون طن وتونس ٦,٢ مليون طن والجزائر ١,٢ مليون طن والمغرب التي تنتج حوالي ٢١,٣ مليون طن .


١- رتب أعلى ٣ دول الواردة في الفقرة ترتيباً تنازلياً ص ٧٣



٣ تونس	٢ - الأردن	١ - المملكة المغربية
--------	------------	----------------------

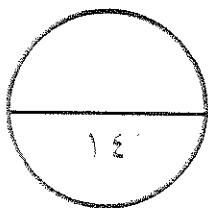
٢- حول نسبة إنتاج الوطن العربي من الفوسفات من مجموع الإنتاج العالمي

إلى دائرة بيانية. ص ٧٣



د- أكمل الجدول التالي بما هو مطلوب منك:

الجمعية العربية الفتاة	حزب اللامركزية الإدارية العثماني	المطلوب
باريس نصف درجة ص ١٠٧ -	القاهرة نصف درجة ص ١٠٧ -	مقر التأسيس
النهوض بالأمة العربية / حصولها على الحكم الذاتي بعد اشتعال الحرب العالمية الأولى.	جعل الإدارة الحكومية قائمة على أسس اللامركزية في جميع ولايات الدولة العثمانية.	الأهداف درجة لكل هدف



درجة السؤال الخامس

انتهت الأسئلة

المجال الدراسي : الوطن العربي
الزمن : ساعتان وربع
عدد الأوراق (٦)

وزارة التربية
التوجيه الفني العام للاجتماعيات

امتحان نهاية الفترة الدراسية الثانية للصف العاشر
العام الدراسي ٢٠١٣ / ٢٠١٤

أجب عن أربعة أسئلة فقط على أن يكون السؤال الأول منها " إجباريا "

السؤال الأول :- موضوعي ويتكون من (أ - ب - ج - د) :-

أ - صنف الجبال التالية حسب ما يناسبها في الجدول :
(- جبال البحر الأحمر - جبال تبستي - الجبل الأخضر)

جبال التوائية	جبال انكسارية	جبال بركانية
الجبل الأخضر	جبال البحر الأحمر	جبال تبستي

ب أكمل العبارات التالية بما يناسبها :





- ١- يمتد الوطن العربي بين خطي طول ١٧ غرباً الى خط طول شرقاً .
- ٢- درجة تركيز السكان في وحدة مساحية معينة في زمن معين يسمى سكانه
- ٣- قامت على ضفاف نهر دجلة والفرات عدة حضارات قديمة تنتمي إلى حضارة تسمى بال.....
- ٤- السلطان العثماني الذي انتصر في معركة مرج دابق في عام ١٥١٧م يسمى بال.....
- ٥- المعاهدة التي أصبحت ليبيا بمقتضاها خاضعة لسيطرة ايطاليا عام ١٩١٢م تسمى بال.....

(ج) اختر البديل المناسب من بين البدائل التي تلي كل عبارة مما يلي :

١. أولى دول الوطن العربي إنتاجا للفوسفات تسمى :

أ- الأردن	ب- تونس	ج- المغرب	د- سوريا
-----------	---------	-----------	----------

٢. التوزيع النسبي للسكان في الجناح الآسيوي بالنسبة لدول الوطن العربي يمثلها الجزء المظلل في الدائرة التي تحمل الحرف :

د	ج	ب	أ
			

٣- محصول زراعي ينتمي الى مجموعة المحاصيل النقدية يمثله :

د - الزيتون	ج - الذرة	ب- الشعير	أ) القطن
-------------	-----------	-----------	----------

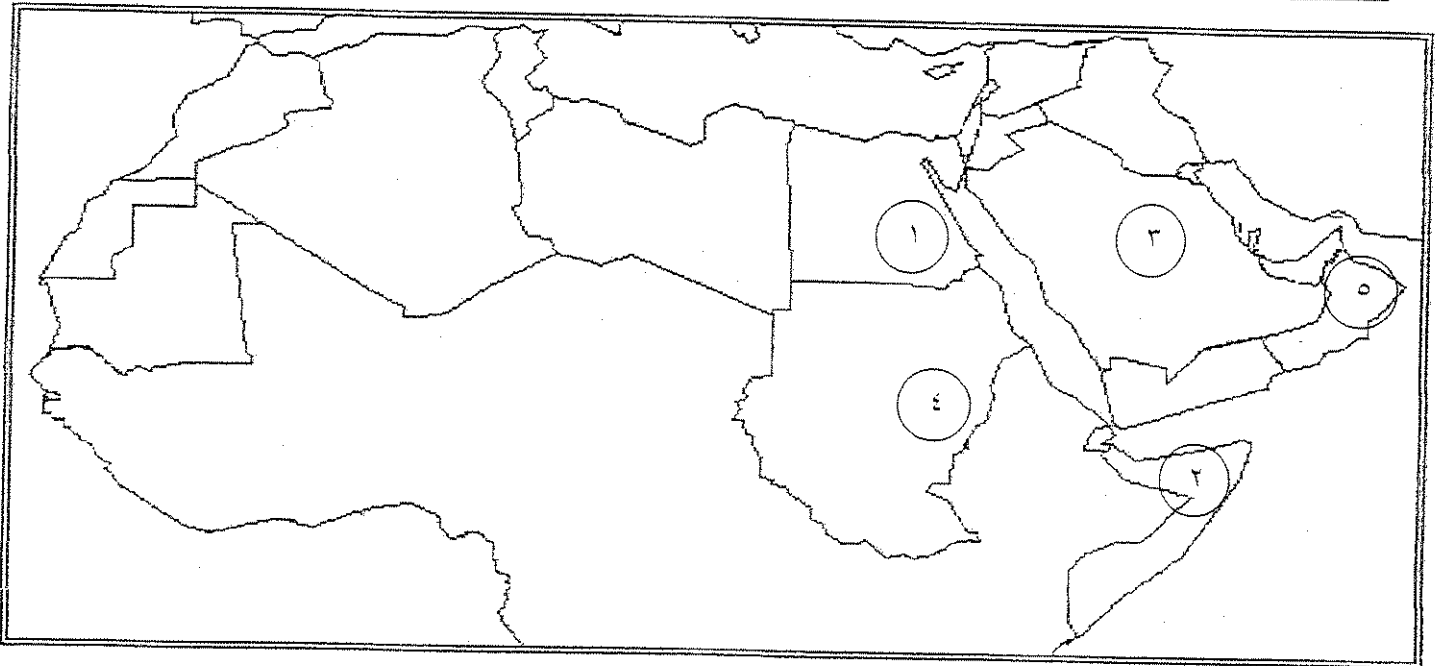
٤. استقرت إمارة الغساسنة قبل الاسلام في منطقة تسمى :

د - هضبة نجد	ج - بلاد اليمن	ب) بادية الشام	أ- أطراف العراق
--------------	----------------	----------------	-----------------

٥. مؤلف كتاب " الجبر والمقابلة " عالم مسلم يسمى : ص ٩٩

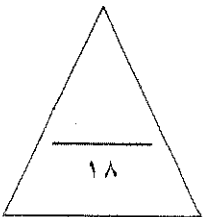
د) الخوارزمي	ج - ابن سينا	ب - ابن رشد	أ- الرازي
--------------	--------------	-------------	-----------

(د) لاحظ خريطة الوطن العربي التي أمامك ثم اكتب مدلولات الأرقام عليها :



- * أكبر دولة عربية مساحة في الجناح الافريقي يمثله الرقم ١
- * يقع سهل الباطنة في الدولة التي تحمل الرقم ٢
- * عقد مؤتمر القمة العربية عام ١٩٩٦ م في الدولة التي تحمل الرقم ٣
- * أولى دول الوطن العربي إنتاجا للنفط لعام ٢٠٠٣ م تحمل الرقم ٤
- * الدولة العربية التي وقعت تحت استعمار ثلاثي (بريطاني - فرنسي - ايطالي) يمثله الرقم ٥

مجموع درجات السؤال الأول



السؤال الثاني :- (اختياري) يتكون من (أ - ب - ج)

أ- علل لما يأتي :-

١- سعي بريطانيا في السيطرة على العراق .

الكتاب المدرسي ١٠٩

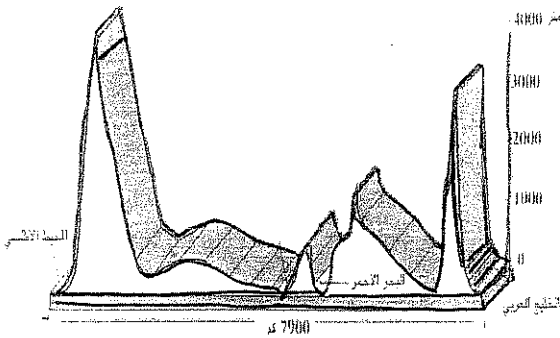
٢- تعتبر الصناعة من الأنشطة الاقتصادية المهمة في الوطن العربي .

نظر الكتاب ٧٣

ب- اقرأ العبارة التالية مع ملاحظه الرسم المقابل ثم أجب عن الأسئلة التي تليه :

" تشكلت تضاريس الوطن العربي في مظاهر تضاريسية عديدة ناتجة عن عمليات داخلية وعمليات خارجية . "

لاحظ الشكل المقابل ثم أجب :



١- اكتب اسم اثنين فقط من الأشكال التضاريسية للوطن العربي على الرسم المقابل. السهول والجبال

٢- فرق بين المفهومين التاليين :-

العمليات الخارجية	العمليات الداخلية
هناك عوامل طبيعية كالتضاريس الطبيعية التي تعمل على تفتت سطح الأرض ولها علاقة مباشرة بتوزيع المناخ السائد	هي العمليات الطبيعية التي يكون مصدرها داخل الأرض

ج- أكتب نقطتين في كل مما يلي :

١- أهم الإجراءات والآليات لإنشاء السوق العربية المشتركة

الكتاب المدرسي ٧٧

٢- الأساليب التي اتخذتها قريش لمقاومة انتشار الدعوة الإسلامية .

الكتاب المدرسي ٩١

٣- الجمعيات التي شكلها الزعماء العرب في الفترة ما بين ١٩٠٨ م - ١٩١٣ م ولعبت دوراً بارزاً في إذكاء الروح العربية .

الإجابة: الجمعية العربية السورية، الجمعية العراقية، الجمعية اللبنانية، الجمعية الجزائرية، الجمعية المغربية، الجمعية التونسية، الجمعية الليبية، الجمعية السودانية، الجمعية الصومالية، الجمعية النيجيرية، الجمعية الكينية، الجمعية الإثيوبية، الجمعية الغينية، الجمعية السنغالية، الجمعية الموريتانية، الجمعية المalianية، الجمعية النيجيرية، الجمعية الكينية، الجمعية الإثيوبية، الجمعية الغينية، الجمعية السنغالية، الجمعية الموريتانية، الجمعية المalianية

مجموع درجات السؤال الثاني

السؤال الثالث :- (اختياري) يتكون من (أ - ب - ج)

أ - (لعب المناخ في الوطن العربي دوراً كبيراً في تنوع النباتات الطبيعية)

على ضوء العبارة السابقة .. أجب عما يلي :-

١- علل : قدرة النباتات الدائمة على تحمل الجفاف وارتفاع درجة الحرارة

* لوجود جزر مطيرة تحميها عن الجفاف

* طول فترة تحملها للجفاف

٢- أكتب اثنين فقط من أنواع نباتات إقليم الغابات المدارية .

* البونس

* التين

ب- عرف المفاهيم والمصطلحات التالية :

١- تجوية . نظرياً ٢٥

٢- الموارد الطبيعية . نظرياً ٢٥

٣- التجارة البينية . نظرياً ٢٥

٤- الكثافة السكانية . نظرياً ٢٥

ج- ما النتائج المترتبة على كل من :-

١- حركة ترجمة التراث الإسلامي إلى اللغات الأوربية . نظرياً ١٠

٢- الموقع الإستراتيجي المتميز للوطن العربي . نظرياً ١٧

٣- تطوير وتنمية الطاقة البديلة المتوفرة في الوطن العربي . نظرياً ٧

مجموع درجات السؤال الثالث

امتحان الوطن العربي - الصف العاشر - نهاية الفترة الدراسية الثانية - العام الدراسي ٢٠١٣/٢٠١٤ م

السؤال الرابع :- (اختياري) يتكون من (أ - ب - ج)

أ- اقرأ الجدول التالي ثم أجب عن ما هو مطلوب .

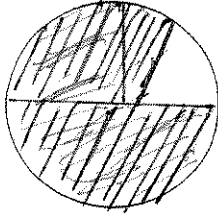
جدول يمثل الكثافة السكانية المطلقة في بعض الدول العربية لعام ٢٠٠٣ م (نسمة / كيلو متر مربع)

الدولة العربية	الإمارات	تونس	الكويت	المغرب	البحرين	موريتانيا
الكثافة السكانية المطلقة	٤٨	٦٤	١٤٣	٤٢	٩٧٥	٣

١- رتب دول الوطن العربي ترتيباً تصاعدياً من حيث الكثافة السكانية المطلقة عام ٢٠٠٣ م من الجدول السابق .

موريتانيا	المغرب	الإمارات	تونس	الكويت	العربية
-----------	--------	----------	------	--------	---------

٢- عزيزي المتعلم إذا عرفت أن نسبة السكان الحضر في المملكة العربية السعودية تمثل ٨٧ % ، ظلل النسبة الواردة في الدائرة التالية .



ب - أكتب نقطتين عن كل مما يأتي :

١- ما العوامل التي تؤثر على حجم قوة العمل في الوطن العربي .

* ٥٤٨

٢- الأهمية الروحية للوطن العربي .

* ١٨٨

٣- عوامل ازدهار اليقظة العربية .

* ١٠٥٧٤

ج - ما دور كل من في ازدهار الحضارات العربية القديمة التالية :-

الكنعانيون " الفينيقيون " في ازدهار حضارة بلاد الشام	حمورابي في ازدهار حضارة بلاد الرافدين
* <u>٨٧</u>	* <u>٨٧ - ٨</u>
* <u>٨٧</u>	* <u>٨٧ - ٨</u>

مجموع درجات السؤال الرابع.....

السؤال الخامس :- (اختياري) يتكون من (أ - ب - ج)

أ- دلل على صدق العبارات التالية .

١- لإشجار الأرز والبلوط أهمية اقتصادية كبيرة .

أحوال لبنان أعزى لعائف ٣٣

٢- جبال لبنان أكثر مطراً من جبال أطلس .
لأنها تطل على البحر الأبيض المتوسط

٣- اهتمام دول الوطن العربي بتطوير وسائل الري الحديثة .
لحصولها على مياه الري اقتصادياً

لأنه أكثر احتراماً للمياه وفراً عوالمها المائية

ب- علل لما يأتي :

١- تدني حجم قوة العمل الوطنية في معظم الأقطار العربية .
* لضعف التعليم والتدريب المهني

* لضعف الاستثمار في التعليم والتدريب المهني

٢- حرص أوروبا في السيطرة على معظم قارات العالم ونهب خيراتها .
* استغلال خيرات الشعوب - السيطرة على مواردها الطبيعية

* نشر الثقافة الاستعمارية - الاستغلال الاقتصادي لشعوبها

ج- اكتب نقطتين في كل مما يأتي :-

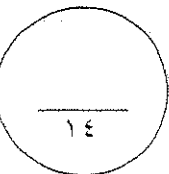
١- أهم المناطق الصناعية في الوطن العربي .
* منطقة الخليج العربي - منطقة حوض البحر المتوسط

* منطقة الشام - منطقة حوض البحر المتوسط

٢- دور اللغة العربية في ازدهار الحضارة العربية الإسلامية .
* لأنها اتخذت أداة للتعبير - لفضل مرونتها وعبقريتها

* بسبب الرخاوة والرياحات القوية الجارة

مجموع درجات السؤال الخامس.....



انتهت الأسئلة ،،

تمنياتنا لكم بالنجاح والتوفيق

الزمن : ساعتان وربع

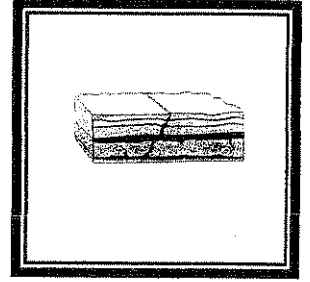

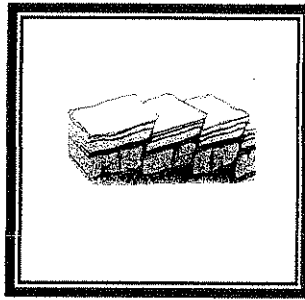

امتحان الوطن العربي للصف العاشر

وزارة التربية

التوجيه الفني العام للاجتماعيات الفترة الدراسية الثانية للعام الدراسي ٢٠١٢-٢٠١٣ م عدد الوراق: (٦)

اجب عن أربع أسئلة فقط على أن يكون السؤال الأول منها إجباريا :-

أولا : السؤال الأول : ((إجباري)) و يتكون من (أ ، ب ، ج ، د) :
 أ . اختر البديل المناسب من بين البدائل التي تلي كل عبارة مما يلي وضع تحته خط :-
 ١ . الانكسار المحدج يمثل الشكل الذي يحمل الحرف :

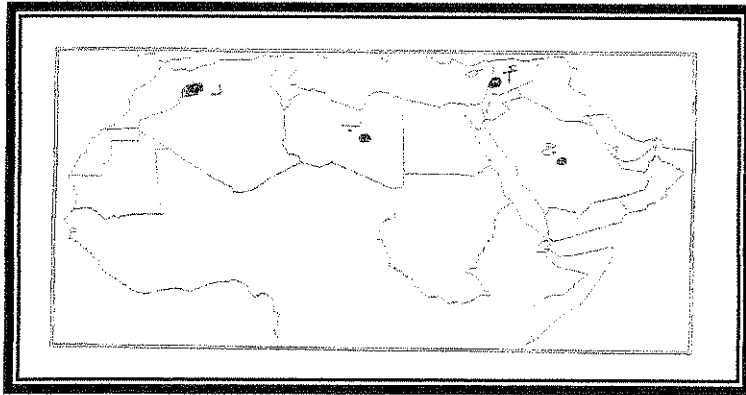


د

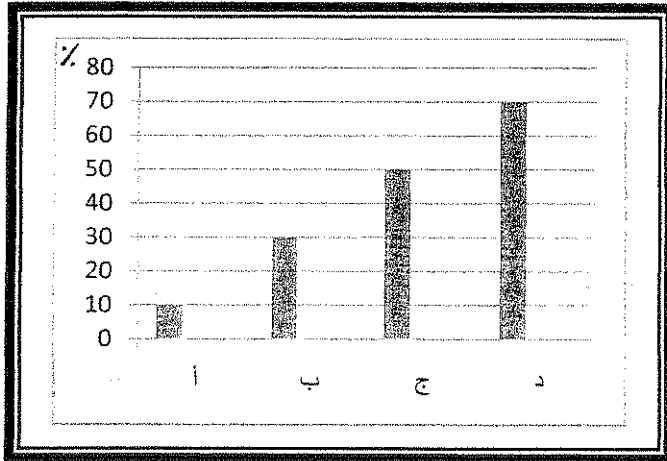
ج

ب

أ



٢ . أكثر المناطق أمطارا يمثلها على الخريطة
 المقابلة ، المنطقة التي تحمل الحرف :
 (أ ، ب ، ج ، د)



٣ . نسبة احتياطي الوطن العربي من العالم للغاز
 الطبيعي لعام ٢٠٠٢ م يمثلها في الشكل المقابل ،
 العمود الذي يحمل الحرف :

أ .
 ب .
 ج .
 د .

٤ . إمارة الغساسنة والتي تمثل إحدى الكيانات السياسية التي ظهرت في منطقة تسمى :
 أ . بادية الشام ب . أطراف العراق ج . هضبة نجد د . اليمن

ب. أكمل العبارات التالية بما يناسبها :

١. المسطح المائي الذي تقع فيه جزر القمر يسمى
٢. الحضارة القديمة التي اشتهرت بشريعة حمورابي تسمى ... فلا ... للإغريق ... دولة بني أمية
٣. استمر الوجود الإسلامي في بلاد الأندلس حتى سقوط مملكة تسمى ... غرناطة
٤. أول صحيفة عربية ظهرت في القاهرة عام ١٨٢٨م وساعدت على ازدهار اليقظة العربية تسمى ... للتبصير

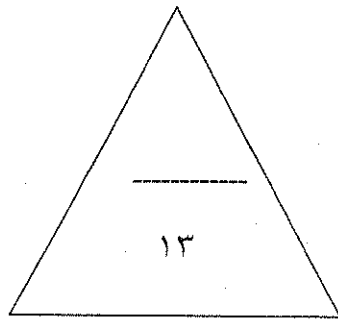
ج. أكتب المفهوم أو المصطلح الدال عليه العبارات التالية أمام كل عبارة مما يلي :

- ١- (نبات كحول) نبات طبيعي يظهر وينتشر أثناء أو مباشرة بعد سقوط المطر .
- ٢- (السلطنة العثمانية) رأس الدولة العثمانية والمشرف على أجهزتها وتطبيق أحكام الشريعة الإسلامية وحمايتها .
- ٣- (المحاصيل لتقوية) المحاصيل التي تزرع من أجل التصدير أو من أجل استخدامها كمواد خام زراعية .

د. صنف الدول العربية التالية حسب الجدول التالي :-

العراق ، الجزائر ، ليبيا ، مصر

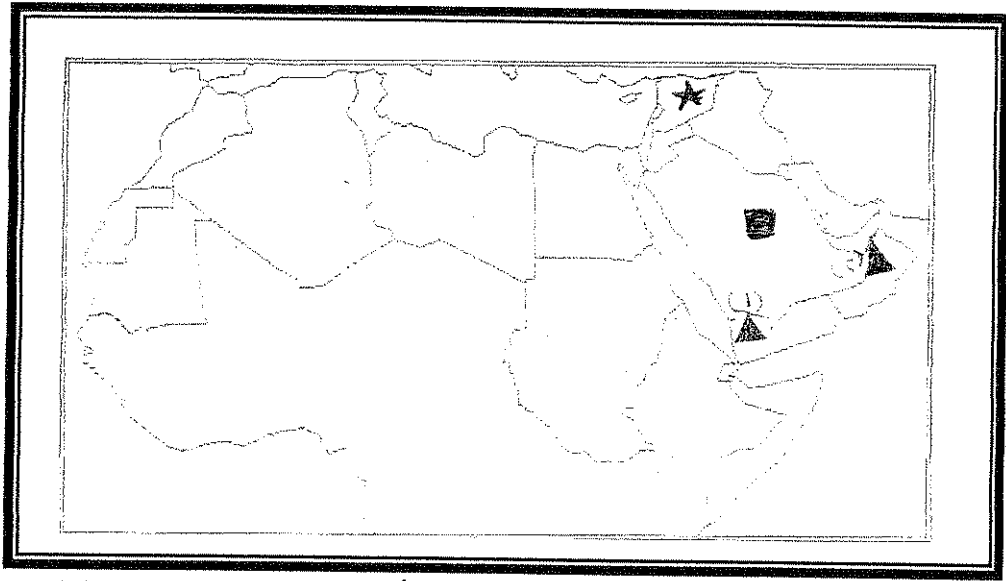
الاستعمار الأسباني	الاستعمار الإيطالي	الاستعمار الفرنسي	الاستعمار البريطاني
	ليبيا	الجزائر	مصر العراق



درجة السؤال الأول

ثانيا : اختر ثلاث أسئلة كاملة فقط

السؤال الثاني : (اختياري) ويتكون من (أ ، ب ، ج) :-
أ. لاحظ خريطة الوطن العربي التالية ثم أجب عن الأسئلة التي تليها :



- قارن بين كل من جبل رقم (١) وجبل رقم (٢) من حيث أسباب التكوين في الجدول التالي :

جبل رقم (٢)	جبل رقم (١)	مجال المقارنة
سبب التكوين : التشوهات الجبلية	تكونت نتيجة للانزياح الذي ارتبط بتكون البحر الأحمر	أسباب التكوين

- حدد هضبة نجد بالرمز ■ .

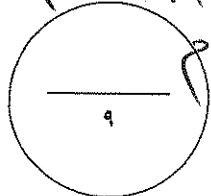
★ حدد الدولة العربية التي وقعت تحت الاستعمار الفرنسي بعد هزيمتها في معركة ميسلون عام ١٩٢٠ بالرمز ★

ب. فرق بين كل مما يأتي :

مورد اقتصادي	مورد طبيعي
الموارد الطبيعية المستغلة	كل عامراً ومكونات البيئة الطبيعية من مياه وحرارة ومخروطات معادن ومخروطات سودا تعيش على أساسها في الصحاري

ج. أكتب نقطتين عن كل مما يلي :-

- أهم الانجازات التي حققها الكنعانيون في تاريخ بلاد الشام
* أول عمل أعمى حربية في تاريخ بلاد الشام - رفضت لهم المعركة التي سببها انشغالهم
* عرفوا بحسبهم ببراعتهم في صناعة السفن البحرية التي كانت تنقل البضائع بين المدن
- دور السلطان سليم الأول في سقوط الدولة المملوكية
* أشهر عمل السلطان سليم الأول في مصر معركة حاليه في ١٥١٧ م
* أشهر معركة في مصر معركة مرج دابق في ١٥١٦ م

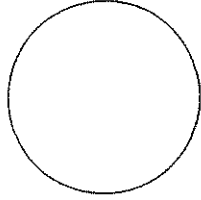


السؤال الثالث : (اختياري) ويتكون من (أ ، ب ، ج) :

أ. اقرأ الفقرة التالية ثم أجب عما يليها:-
" تعتبر التجارة سواء كانت تجارة داخلية أو خارجية من الأنشطة الاقتصادية المهمة في الوطن العربي واحتلت التجارة البيئية حيزا محدودا في حجم وقيمة التجارة الخارجية العربية . وتسعى الدول العربية لدعم السوق العربية المشتركة بينها حيث أنها تعتمد على ٤٢% من وارداتها على دول الاتحاد الأوروبي " .

١. عرف ما تحته خط في العبارة السابقة:
حركة التجارة البيئية بإقطار عربية

٢. عدد اثنين فقط من إجراءات تحقيق إنشاء السوق العربية المشتركة.
* إقامة منطقة التجارة الحرة العربية الكبرى - تخفيض الرسوم الجمركية بواقع ١٠٪
* تأسيس جامعة للدراسات العربية - إضفاء الطابع العربي
٣. استعن بالشكل الدائري التالي لتظليل النسبة الواردة بالفقرة السابقة :



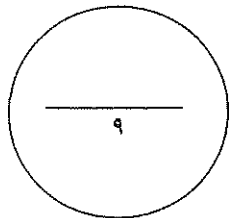
ب. علل لما يأتي :

١. تدني حجم قوة العمل الوطنية في الوطن العربي
* لأنه يشهد سلبا في الخصائص البشرية خاصة انخفاض نسبة القوى العاملة في سن العمل ١٥٪ منهم
* تحتل النساء ٥٠٪ من إجمالي القوى العاملة ٨٠٪ منهن الإسهال في العمل
٢. حرص بريطانيا على احتلال مدينة عدن عام ١٨٣٩ م.
* لأهمية عدن كمصنع للبحر الأحمر

٣. تمثل مجموعة الحبوب الغذائية أهمية إستراتيجية في الوطن العربي .
* لأنها توفر للسكان الأمن الغذائي الرئيسي
* لأنها تشكل أكبر منتج غذائي من الأراض الزراعية

ج. فسر المفاهيم والمصطلحات التالية :-

١. وطن عربي اصطلاح يطلق على مجموعة لدول العربية التي يحدها عدد من لسيات
المسيرة أو ما لديه الاملا من اللغة العربية ويضم ٢٥ دولة
٢. كثافة سكانية ... هي نسبة السكان من وحدة مساحة معينة
٣. تجوية هي عملية التفتك والتفتت لسطح الصخور نتيجة للتغيرات
في درجة الحرارة اليومية والسنوية



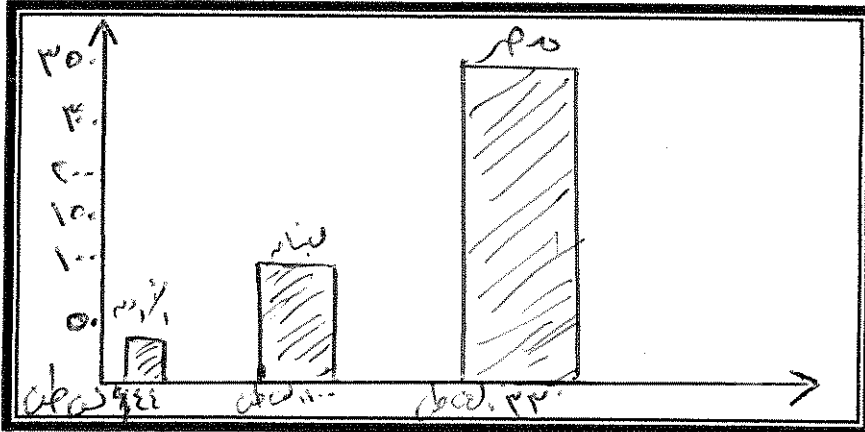
درجة السؤال الثالث

السؤال الرابع : (اختياري) ويتكون من (أ ، ب ، ج)
أ. أقرأ الجدول التالي ثم أجب عما يليه من أسئلة :-

الدولة	إنتاج الموالح لعام ١٩٩٦ (ألف طن متري)	الإنتاج اليومي للنفط عام ٢٠٠٣ (ألف برميل /يوميا)
الأردن	٤٤	غير معروف
لبنان	١٠٠	غير معروف
مصر	٣٣٠	غير معروف
الامارات	غير معروف	٢٢٢٥.٥
الكويت	غير معروف	٢١٠٦.٧
(س)	غير معروف	٨٤١٠.٠

١. اكتب اسم الدولة المشار إليها بالحرف (س) في إنتاج النفط عام ٢٠٠٣ م.

.....
.....



٢. حول معلومات الدول الثلاث
المنتجة للموالح إلى رسم بياني
على شكل أعمدة بيانية
في المساحة المقابلة .

ب. دلل على صحة العبارات التالية:

١. نجاح حركة الفتوحات الإسلامية في نشر الإسلام يعود لعدة عوامل
* الحماة الدينية التي تبشروا بالدين الإسلامي
* الحماة العلمانية التي تبشروا بالدين الإسلامي

٢. تتعدد معايير انتقال الحضارة العربية الإسلامية إلى أوروبا .

* بلاد الأندلس
* صقلية وجزيرة صقلية
* الأندلس وجزيرة صقلية

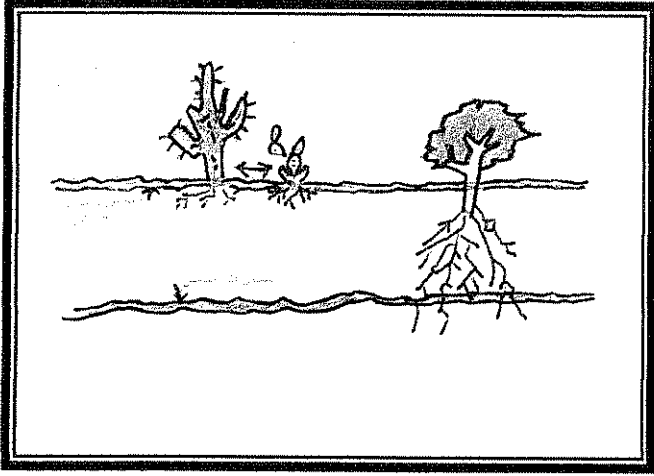
ج. قارن بين كل مما يلي حسب معايير الجدول التالي :

المعيار	إقليم مناخ البحر المتوسط	إقليم المناخ المداري الرطب
الموقع الفلكي	شمال درجة ٣٠ شمالاً	٨ - ١٨ شمالاً
الخصائص المناخية (درجة الحرارة والأمطار)	دافئ وممطر شتاءً حار وجاف صيفاً	أزرق دافئ وكثرة الأمطار صيفاً
الخصائص النباتية (مثال لكل منهما)	الأرز - البيلوط	التيك - البينوكس

درجة السؤال الرابع

السؤال الخامس (اختياري) ويتكون من : (أ ، ب ، ج ، د) :

أ. أجب عن الأسئلة التالية حسب ما هو مطلوب منك :



١. لاحظ الشكل المقابل ثم أثبت صحة العبارة التالية :
 ((للنباتات الصحراوية طرقا مختلفة للتجائل على قسوة المناخ الصحراوي))

حذر عمقها سطوحها كالصحرى
 لتستفيد من مياه السطوح كما لا يستفيد من عمقها كالمناطق المشبعة بالمياه
 كما لا تستفيد من عمقها كالمناطق المشبعة بالمياه

٢. عدد أعمال الرسول " صلى الله عليه وسلم " في المدينة .
 * بناء المسجد النبوي
 * الهجرة من مكة إلى المدينة

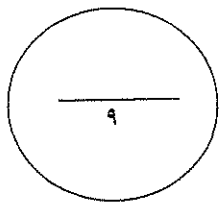
ب. بم تفسر كل مما يلي :-
 ١. اعتبار الصناعة من الأنشطة الاقتصادية المهمة في الوطن العربي .
 * لأنها توفر فرص عمل جديدة للأمة وتوفر احتياجاتها الأساسية
 * لأنها مصدر الدخل القومي الرئيسي للمساهمة في التنمية الاقتصادية والاجتماعية والسياسية

٢. فشل الحملة الفرنسية عام ١٧٩٨م على مصر والتي قادها نابليون بونابرت .
 * بسبب الوجود البريطاني في مصر
 * بسبب الوجود الفرنسي في مصر
 * بسبب الوجود البريطاني في مصر

ج. قارن بين كل مما يلي حسب ما هو مطلوب منك بالجدول التالي :

الجمعية العربية الفتاة	حزب اللامركزية الإدارية العثمانية	المعيار
١٩٠٩	١٩١٢	مقر التأسيس (المدينة)
الهدف من إنشائها هو إصلاح التعليم في مصر	جعل الإدارة الحكومية عامة على اللامركزية في جميع الولايات	الأهداف

درجة السؤال الخامس



انتهت الأسئلة